

**SSC
GD**

**Previous Year Paper
22 Nov 2021 Shift 1**

Exam Date	22/11/2021
Exam Time :	9:00 AM - 10:30 AM
Subject	Constable GD 2021

Section : Part A General Intelligence and Reasoning

Q.1 Select the option that is related to the third word in the same way as the second word is related to the first word.

Bee : Buzz :: Hen : ?

- Ans
- 1. Chirp
 - 2. Cluck
 - 3. Bellow
 - 4. Squeak

Question ID : 65497834698

Status : Answered

Chosen Option : 2

Q.2 In a certain code language, 'RAJU' is written as 'WFOZ' and 'SITA' is written as 'XNYF'. How will 'MONU' be written in that language?

- Ans
- 1. RTSZ
 - 2. UTRZ
 - 3. SRSY
 - 4. TRSX

Question ID : 65497834695

Status : Answered

Chosen Option : 1

Q.3 Select the combination of letters that when sequentially placed in the blanks of the given series will complete the series.

N _ K _ T N O K _ T _ _ _ D T

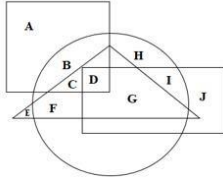
- Ans
- 1. ODDNOK
 - 2. KDDNOK
 - 3. ODKNOK
 - 4. ONDNOK

Question ID : 65497834711

Status : Answered

Chosen Option : 1

Q.4 In the following Venn diagram, the triangle represents 'tall', the circle represents 'black eyes', the rectangle represents 'brown hair', and the square represents 'boys'. Which of the following letters represents tall boys with black eyes but NOT brown hair?



- Ans 1. C
 2. F
 3. D
 4. G

Question ID : 65497834700
 Status : Answered
 Chosen Option : 1

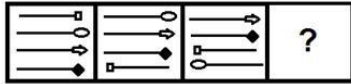
Q.5 Select the correct mirror image of the given combination when the mirror is placed at 'XX' as shown.



- Ans 1. P Q H K H A
 2. P Q H K H A
 3. P Q R K H A
 4. P Q H K H A

Question ID : 65497834704
 Status : Answered
 Chosen Option : 3

Q.6 Select the figure from among the given options that can replace the question mark (?) in the following series.

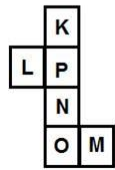


Ans

- 1.
- 2.
- 3.
- 4.

Question ID : 65497834713
 Status : Answered
 Chosen Option : 4

Q.7 A cube is made by folding the given sheet. In the cube so formed, which pair of letters will NOT be on the opposite faces?



- Ans
- 1. K and N
 - 2. O and M
 - 3. L and M
 - 4. P and O

Question ID : 65497834692
 Status : Answered
 Chosen Option : 2

Q.8 Select the option in which the given figure is embedded (rotation is NOT allowed).



Ans



Question ID : 65497834693

Status : Answered

Chosen Option : 3

Q.9 Study the given pattern carefully and select the number that can replace the question mark (?) in it.

34 38 7
46 38 5
84 ? 15

Ans ✗ 1. 83

✗ 2. 78

✓ 3. 87

✗ 4. 38

Question ID : 65497834707

Status : Not Answered

Chosen Option : --

Q.10 Four letter-clusters have been given, out of which three are alike in some manner and one is different. Select the letter-cluster that is different.

Ans ✗ 1. BEHK

✓ 2. HLOR

✗ 3. PSVY

✗ 4. KNQT

Question ID : 65497834701

Status : Answered

Chosen Option : 2

Q.11 In a certain code language, 'DICTIONARY' is coded as '20' and 'MOBILITY' is coded as '16'. How will 'TERMINATION' be coded in that language?

- Ans
- 1. 20
 - 2. 18
 - 3. 22
 - 4. 24

Question ID : 65497834702
Status : Not Answered
Chosen Option : --

Q.12 Select the number from among the given options that can replace the question mark (?) in the following series.

345, 334, 320, 303, 283, 260, ?

- Ans
- 1. 221
 - 2. 212
 - 3. 208
 - 4. 234

Question ID : 65497834712
Status : Answered
Chosen Option : 4

Q.13 Select the option that is related to the fourth number in the same way as the first number is related to the second number and the fifth number is related to the sixth number.

64 : 4 :: ? : 6 :: 100 : 5

- Ans
- 1. 108
 - 2. 188
 - 3. 228
 - 4. 144

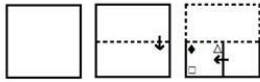
Question ID : 65497834690
Status : Answered
Chosen Option : 1

Q.14 Eight friends, P, Q, R, S, T, U, V and W, are watching a movie sitting in a line. T is sitting at one of the corners. Q is sitting between W and R. V is sitting between S and U. W is sitting to the immediate right of T. R is sitting to the immediate left of P. There are two persons between P and U. Who is sitting at the other corner?

- Ans
- 1. U
 - 2. P
 - 3. R
 - 4. S


Question ID : 65497834689
Status : Not Answered
Chosen Option : --

Q.15 The sequence of folding a piece of paper and the manner in which the folded paper has been cut is shown in the following figures. How would this paper look when unfolded?




Ans


✓ 1.



✗ 2.



✗ 3.



✗ 4.



Question ID : 65497834709

Status : Answered

Chosen Option : 1

Q.16 Select the correct option that indicates the arrangement of the given words in the order in which they appear in an English dictionary.

1. Durable
2. Duty
3. Dubious
4. Duster
5. Dustbin

Ans ✗ 1. 3, 5, 1, 4, 2

✗ 2. 1, 3, 5, 4, 2

✗ 3. 3, 1, 4, 5, 2

✓ 4. 3, 1, 5, 4, 2

Question ID : 65497834710

Status : Answered

Chosen Option : 1

Q.17 In a certain code language, 'LEMON' is written as 'ELMNO'. How will 'CLUSTER' be written in that language?

Ans ✓ 1. CELRSTU

✗ 2. CLESRUT

✗ 3. LUCETRS

✗ 4. LCUTESR

Question ID : 65497834705

Status : Answered

Chosen Option : 4

Q.18 Select the option that is related to the third letter-cluster in the same way as the second letter-cluster is related to the first letter-cluster.

DKLH : GPSQ :: FRLP : ?

- Ans 1. IWSY
 2. JWRY
 3. JWSY
 4. IWRZ

Question ID : 65497834694
Status : Answered
Chosen Option : 1

Q.19 Read the given statements and conclusions carefully. Assuming that the information given in the statements is true, even if it appears to be at variance with commonly known facts, decide which of the given conclusions logically follow(s) from the statements.

Statements:

All enzymes are vitamins.
All vitamins are carbohydrates.

Conclusions:

I. All enzymes are carbohydrates.
II. No enzyme is a carbohydrate.

- Ans 1. Both conclusions I and II follow
 2. Either conclusion I or II follows
 3. Only conclusion II follows
 4. Only conclusion I follows

Question ID : 65497834706
Status : Answered
Chosen Option : 4

Q.20 There are six persons, M, N, P, Q, R and S, in a family. S is the paternal grandmother of M. P is the sister of R. N is the father of P. M is the only son of Q and R. N does not have any married daughter. How is M related to N?

- Ans 1. Father
 2. Brother
 3. Grandson
 4. Son

Question ID : 65497834696
Status : Answered
Chosen Option : 3

Q.21 Which two signs should be interchanged to make the given equation correct?

$$5 - 24 + 17 \times 16 \div 4 = 133$$

- Ans 1. + and \div
 2. \times and $-$
 3. \times and \div
 4. + and \times

Question ID : 65497834691
Status : Answered
Chosen Option : 2

Q.22 Select the number from among the given options that can replace the question mark (?) in the following series.

4, 5, 18, 19, 68, 69, ?

- Ans
- 1. 256
 - 2. 250
 - 3. 262
 - 4. 266

Question ID : 65497834703
Status : Not Answered
Chosen Option : --

Q.23 A fruit shop consists of only two types of fruits namely oranges and mangoes. The number of oranges is three times the number of mangoes. Which of the following numbers CANNOT represent the total number of fruits in the shop?

- Ans
- 1. 44
 - 2. 42
 - 3. 48
 - 4. 40

Question ID : 65497834708
Status : Answered
Chosen Option : 2

Q.24 Select the letter-cluster from among the given options that can replace the question mark (?) in the following series.

PEA, SJH, VOO, YTV, ?

- Ans
- 1. YBC
 - 2. CYB
 - 3. BYC
 - 4. CBY

Question ID : 65497834697
Status : Answered
Chosen Option : 3

Q.25 Five friends, Bhumika, Rashi, Shweta, Vibha and Arunima, are sitting in a row facing east. Bhumika is sitting between Vibha and Shweta. Rashi is second to the left of Shweta. Who is sitting at the south end?

- Ans
- 1. Arunima
 - 2. Rashi
 - 3. Shweta
 - 4. Vibha

Question ID : 65497834699
Status : Answered
Chosen Option : 2

Section : Part B General Knowledge and General Awareness

Q.1 In which year did Motilal Nehru chair the committee to prepare the Constitution of India?

- Ans
- 1. 1944
 - 2. 1928
 - 3. 1934
 - 4. 1939

Question ID : 65497834721
Status : Answered
Chosen Option : 1

Q.2 Who among the following was the first Indian actor to be made a Chevalier of the Ordre des Arts et des Lettres?

- Ans
- 1. Sivaji Ganesan
 - 2. Rajnikanth
 - 3. Rajesh Khanna
 - 4. Dilip Kumar

Question ID : 65497834717
Status : Not Answered
Chosen Option : --

Q.3 Which among the following is NOT a human capital?

- Ans
- 1. Health care
 - 2. Education
 - 3. Training
 - 4. Land

Question ID : 65497834718
Status : Answered
Chosen Option : 4

Q.4 In which year was Communist Party of India formed?

- Ans
- 1. 1940
 - 2. 1943
 - 3. 1927
 - 4. 1925

Question ID : 65497834719
Status : Not Answered
Chosen Option : --

Q.5 The highest peak of Arunachal Pradesh state is_____.

- Ans
- 1. Kamet
 - 2. Trisuli
 - 3. Kangto
 - 4. Nun-Kun

Question ID : 65497834723
Status : Answered
Chosen Option : 1

Q.6 Where was the SAFF Women's Championship 2019 held?

- Ans 1. Nepal
 2. Bhutan
 3. India
 4. Bangladesh

Question ID : 65497834724
Status : Answered
Chosen Option : 3

Q.7 Who was the winner of the Jnanpith award in the year 2019?

- Ans 1. Shankha Ghosh
 2. Bhalchandra Nemade
 3. Akkitham Achuthan Namboothiri
 4. Chandrashekhara Kambara

Question ID : 65497834729
Status : Not Answered
Chosen Option : --

Q.8 Which of the following countries hosted the 16th G20 Summit in 2021?

- Ans 1. Japan
 2. Saudi Arabia
 3. Italy
 4. India

Question ID : 65497834722
Status : Answered
Chosen Option : 3

Q.9 What do you call the process of change in the base pair sequence of an organism?

- Ans 1. Pollination
 2. Decantation
 3. Mutation
 4. Ionisation

Question ID : 65497834716
Status : Answered
Chosen Option : 3

Q.10 Robert Hooke discovered the cell in 1665 by observing a _____ under a microscope.

- Ans 1. leaf
 2. grain of sand
 3. rock
 4. piece of cork

Question ID : 65497834736
Status : Answered
Chosen Option : 4

Q.11 Which newspaper edited by Bal Gangadhar Tilak, was one of the strongest critics of the British rule?

- Ans 1. Amrita Bazar Patrika
 2. Kesari
 3. The Tribune
 4. The Hindu

Question ID : 65497834735
Status : Answered
Chosen Option : 2

Q.12 Who among the following was an eminent scholar of Sanskrit, Hindi and Rajasthani beside Persian, Arabic and Turki?

- Ans 1. Abdul Rahim Khan-i-Khanan
 2. Birbal
 3. Akbar
 4. Ras Khan

Question ID : 65497834727
Status : Answered
Chosen Option : 1

Q.13 Who among the following Indian cricketers bowled 14 overs with a bandage around his fractured jaw against the West Indies at Antigua in 2002?

- Ans 1. Harbhajan Singh
 2. Ishant Sharma
 3. Zaheer Khan
 4. Anil Kumble

Question ID : 65497834733
Status : Answered
Chosen Option : 4

Q.14 In which of the following years was the Gajapati kingdom of Orissa established?

- Ans 1. 1567
 2. 1336
 3. 1467
 4. 1435

Question ID : 65497834720
Status : Answered
Chosen Option : 1

Q.15 When did Cyclone Amphan hit India?

- Ans 1. March 2020
 2. April 2020
 3. June 2020
 4. May 2020

Question ID : 65497834728
Status : Answered
Chosen Option : 3

Q.16 Which of the following Tiger Reserves was granted the 'Conservation Assured Tiger Standards' status in July 2021?

- Ans
- 1. Ranthambore Tiger Reserve
 - 2. Corbett Tiger Reserve
 - 3. Mudumalai Tiger Reserve
 - 4. Bandhavgarh Tiger Reserve

Question ID : 65497834738
Status : Answered
Chosen Option : 1

Q.17 Which of the following is NOT a cause of food and water contamination?

- Ans
- 1. Chemical runoff from factories
 - 2. Incorrect food storage
 - 3. Infectious organisms in the atmosphere
 - 4. Bites by stray animals

Question ID : 65497834715
Status : Answered
Chosen Option : 3

Q.18 हड़ ा ल पर _____ म हलरखाओं (Furrow) के नशान खोजे गए थे।

- Ans
- 1. लोधल
 - 2. कालीबंगा
 - 3. बनवाली
 - 4. धोलावीरा

Question ID : 65497834737
Status : Answered
Chosen Option : 4

Q.19 Under which Article of the Constitution of India shall the Governor of a State be appointed by the President by warrant under his hand and seal?

- Ans
- 1. Article 153
 - 2. Article 154
 - 3. Article 156
 - 4. Article 155

Question ID : 65497834725
Status : Not Answered
Chosen Option : --

Q.20 In which year was the Hindu Succession Act of 1956 amended to give equal right to father's property to daughters?

- Ans
- 1. 2005
 - 2. 2007
 - 3. 2001
 - 4. 2010

Question ID : 65497834734
Status : Not Answered
Chosen Option : --

Q.21 Which of the following is NOT an age-verification test method that makes an assessment based on hand and wrist radiographs?

- Ans
- 1. The Tanner-Whitehouse method
 - 2. The Greulich-Pyle method
 - 3. The FELS method
 - 4. The cervical vertebral maturation method

Question ID : 65497834726
Status : Answered
Chosen Option : 4

Q.22 The Hundru falls are formed by the river _____.

- Ans
- 1. Umngot
 - 2. Subarnarekha
 - 3. Tsangpo
 - 4. Teesta

Question ID : 65497834732
Status : Not Answered
Chosen Option : --

Q.23 Which of the following is NOT a service provided to its clients by banks in India?

- Ans
- 1. ECS
 - 2. RTGS
 - 3. NEFT
 - 4. URL

Question ID : 65497834731
Status : Answered
Chosen Option : 4

Q.24 Who among the following players did NOT win a gold medal at the Alexis Valentine International Boxing Tournament held in Nantes, France 2020?

- Ans
- 1. Ashish Kumar
 - 2. Sanjeet
 - 3. Amit Panghal
 - 4. Sumit Sangwan

Question ID : 65497834730
Status : Not Answered
Chosen Option : --

Q.25 Which of the following is a sword dance meant to depict the martial art tradition of the Kumaoni tribe?

- Ans
- 1. Kachchhi Ghodi
 - 2. Gair
 - 3. Chholiya
 - 4. Chari

Question ID : 65497834714
Status : Answered
Chosen Option : 2

Q.1 If the radius of the base of a cylinder is increased by 20% and its height is decreased by $33\frac{1}{3}\%$, then what will be the change in percentage in its volume?

- Ans**
1. Decrease by 0.4%
 2. Increase by 2%
 3. Decrease by 4%
 4. Decrease by 2%

Question ID : 65497834758
Status : Not Answered
Chosen Option : --

Q.2 A train travelling at a speed of 45 km/h crosses a house in 12 sec. What is the length of the train?

- Ans**
- ✓ 1. 150 m
 - ✗ 2. 10 m
 - ✗ 3. 230 m
 - ✗ 4. 180 m

Question ID : 65497834754
Status : Answered
Chosen Option : 1

Q.3 The compound interest (in ₹, nearest to a rupee) on a sum of ₹7,500 at 24% p.a. for 3 months, interest compounded monthly, is:

- Ans**
- ✓ 1. 459
 - ✗ 2. 439
 - ✗ 3. 303
 - ✗ 4. 465

Question ID : 65497834757
Status : Answered
Chosen Option : 1

Q.4 If $(a + b - c) : (b + c - a) : (a + c - b) = 4 : 5 : 9$, then $a - b : c - b : c - a =$

- Ans**
- ✗ 1. 4 : 1 : 5
 - ✗ 2. 5 : 1 : 4
 - ✗ 3. 1 : 4 : 5
 - ✓ 4. 4 : 5 : 1

Question ID : 65497834743
Status : Not Answered
Chosen Option : --

Q.5 A mixture contains alcohol and water in the ratio of 3 : 4. On adding 8 litres of water, the ratio of alcohol to water becomes 5 : 8. The original quantity of the mixture (in litres) is:

- Ans** 1. 70
 2. 63
 3. 35
 4. 84

Question ID : 65497834756
Status : Answered
Chosen Option : 2

Q.6 X takes twice as much time as Y and thrice as much time as Z to finish a job. Working all together, they can finish it in 2 days. Y alone can finish the job in:

- Ans** 1. 14 days
 2. 10 days
 3. 12 days
 4. 6 days

Question ID : 65497834753
Status : Answered
Chosen Option : 4

Q.7 An iron is bought for ₹210. Decide its MRP so that after a discount of 5%, you still gain 90%.

- Ans** 1. ₹385.50
 2. ₹524
 3. ₹630
 4. ₹420

Question ID : 65497834751
Status : Answered
Chosen Option : 4

Q.8 The average of the marks scored by Amit in 5 subjects is 72. If the average of the marks scored in 3 of these subjects is 70, then what is the average of the marks in the remaining subjects?

- Ans** 1. 25
 2. 75
 3. 50
 4. 71

Question ID : 65497834740
Status : Answered
Chosen Option : 2

Q.9 Four numbers are in the ratio 2 : 3 : 5 : 7 and their HCF is 6. What is the sum of the squares of the largest and the smallest numbers?

- Ans
- 1. 486
 - 2. 324
 - 3. 54
 - 4. 1908

Question ID : 65497834739
Status : Answered
Chosen Option : 4

Q.10 If P is 220% of Q, then what percentage of P + Q will Q be?

- Ans
- 1. 37%
 - 2. 48.15%
 - 3. 31.25%
 - 4. 25%

Question ID : 65497834760
Status : Answered
Chosen Option : 2

Q.11 The value of $\left(\frac{2}{5} \text{ of } 7\frac{1}{2} \div 2\frac{1}{4}\right) + \left(5\frac{1}{2} \div 3\frac{2}{3} \text{ of } 6\right) - 1\frac{1}{3} \times \frac{5}{8}$ is:

- Ans
- 1. $\frac{3}{2}$
 - 2. $\frac{1}{4}$
 - 3. $\frac{2}{3}$
 - 4. $\frac{3}{4}$

Question ID : 65497834761
Status : Answered
Chosen Option : 1

Q.12 An article was sold at $\frac{11}{8}$ times of its cost price. The profit per cent is:

- Ans
- 1. 36.5%
 - 2. 35%
 - 3. 37.5%
 - 4. 36%

Question ID : 65497834746
Status : Answered
Chosen Option : 3

Q.13 In a transaction, the profit percentage is 48% of the cost. If the cost further increases by 20% but the selling price remains the same, how much is the decrease in the profit percentage?

- Ans
- 1. 14.67%
 - 2. 24.67%
 - 3. 34.67%
 - 4. 24.0%

Question ID : 65497834748
Status : Answered
Chosen Option : 2

Q.14 A retailer gains 18% after allowing 12% discount on the cost price. If the cost price is ₹16,500, then what is the selling price?

- Ans
- 1. ₹17,354.60
 - 2. ₹16,155.50
 - 3. ₹17,550
 - 4. ₹17,133.60

Question ID : 65497834755
Status : Answered
Chosen Option : 4

Q.15 A 243 m long train running at 60 km/h takes 42 seconds to cross a tunnel. The length (in m) of the tunnel is:

- Ans
- 1. 457
 - 2. 467
 - 3. 477
 - 4. 447

Question ID : 65497834762
Status : Answered
Chosen Option : 1

Q.16 A sum of money is put on compound interest for 2 years at 20%. It would fetch ₹964 more if the interest was payable half-yearly than if it was payable yearly. Find the sum.

- Ans
- 1. ₹40,000
 - 2. ₹80,000
 - 3. ₹60,000
 - 4. ₹70,000

Question ID : 65497834749
Status : Answered
Chosen Option : 1

Q.17 Find the least number of five digits which is exactly divisible by 18, 21 and 24.

- Ans 1. 10080
 2. 10286
 3. 11310
 4. 10060

Question ID : 65497834759
Status : Answered
Chosen Option : 1

Q.18 The perimeter of a circular garden is 506 m. The cost (in ₹) of levelling it at ₹14/m² is:

(Take $\pi = \frac{22}{7}$)

- Ans 1. 251831
 2. 312581
 3. 285131
 4. 218531

Question ID : 65497834744
Status : Not Answered
Chosen Option : --

Q.19 If 10% of A = B, then B% of 20 is the same as:

- Ans 1. 2% of A
 2. 5% of A
 3. 3% of A
 4. 4% of A

Question ID : 65497834752
Status : Answered
Chosen Option : 1

Q.20

The value of $\frac{\frac{3}{7} \div \frac{3}{7} \times \frac{3}{7}}{\frac{3}{7} \div \frac{3}{7} \text{ of } \frac{3}{7}} - \frac{9}{49}$ is:

- Ans 1. $\frac{40}{49}$
 2. 0
 3. 1
 4. $\frac{9}{49}$

Question ID : 65497834745
Status : Answered
Chosen Option : 2

Q.21 What is the difference between the compound interest compounded annually and the simple interest on ₹5,000 at the rate of 8% per annum for 2 years?

- Ans
- 1. ₹64
 - 2. ₹84
 - 3. ₹48
 - 4. ₹32

Question ID : 65497834742
Status : Not Answered
Chosen Option : --

Q.22 If $x : 2y = 4 : 9$ and $2 : x = 3 : 4$, then what is the value of y ?

- Ans
- 1. 4
 - 2. 3
 - 3. 5
 - 4. 6

Question ID : 65497834741
Status : Answered
Chosen Option : 2

Q.23 A, B and C complete a work in 5 days, 6 days and 8 days, respectively. If they work together and get ₹2,950 for the work, how much amount does B get?

- Ans
- 1. ₹1,200
 - 2. ₹1,000
 - 3. ₹1,150
 - 4. ₹1,050

Question ID : 65497834747
Status : Not Answered
Chosen Option : --

Q.24 A trader buys two articles A and B for ₹600. He sells A at 20% profit and B at 10% loss. If he gains 8% in the whole transaction, then the cost price (in ₹) of article A is:

- Ans
- 1. 350
 - 2. 360
 - 3. 375
 - 4. 380

Question ID : 65497834763
Status : Answered
Chosen Option : 2

Q.25 The average weight of 8 people increases by 2.5 kg if a new person replaces one weighing 50 kg. What is the weight of the new person?

- Ans
- 1. 52 kg
 - 2. 58 kg
 - 3. 70 kg
 - 4. 72 kg

Question ID : 65497834750
Status : Answered
Chosen Option : 2

Section : Part D English

Q.1 Select the most appropriate ANTONYM of the given word.

Ample

- Ans
- 1. Enough
 - 2. Plenty
 - 3. Spare
 - 4. Scarce

Question ID : 65497834780
Status : Answered
Chosen Option : 2

Q.2 Select the option that can be used as a one-word substitute for the given group of words.

Handwritten book

- Ans
- 1. Draft
 - 2. Edition
 - 3. Manuscript
 - 4. Outline

Question ID : 65497834767
Status : Answered
Chosen Option : 3

Q.3 Select the most appropriate option to fill in the blank.

Hill stations like Darjeeling and Nainital offer _____ to weary tourists during summer.

- Ans
- 1. strain
 - 2. activity
 - 3. solace
 - 4. aid

Question ID : 65497834766
Status : Answered
Chosen Option : 3

Q.4 Select the option that can be used as a one-word substitute for the given group of words.

Something that can be carried easily

- Ans 1. Portable
 2. Convenient
 3. Handy
 4. Reachable

Question ID : 65497834781
Status : Answered
Chosen Option : 1

Q.5 Select the most appropriate option to fill in the blank.

The Sports Minister _____ the Badminton Association officials that all help will be given to them to conduct the tournament.

- Ans 1. committed
 2. ascertained
 3. assured
 4. demonstrated

Question ID : 65497834768
Status : Answered
Chosen Option : 3

Q.6 The following sentence has been split into four segments. Identify the segment that contains a grammatical error.

The photographer climb / the tree and took pictures / of the leopard / chasing its prey.

- Ans 1. The photographer climb
 2. the tree and took pictures
 3. of the leopard
 4. chasing its prey

Question ID : 65497834770
Status : Answered
Chosen Option : 1

Q.7 Select the most appropriate synonym of the given word.

Convert

- Ans 1. Dazzle
 2. Transform
 3. Radical
 4. Affect

Question ID : 65497834775
Status : Answered
Chosen Option : 2

Q.8 Select the option that can be used as a one-word substitute for the given group of words.

Fluent or persuasive in speaking or writing

- Ans
- 1. Presenter
 - 2. Magnificent
 - 3. Eloquent
 - 4. Persuader

Question ID : 65497834776
Status : Answered
Chosen Option : 3

Q.9 The following sentence has been split into four segments. Identify the segment that contains a grammatical error.

The Great Wall of China / is no long / a continuous structure /owing to erosion.

- Ans
- 1. a continuous structure
 - 2. is no long
 - 3. The Great Wall of China
 - 4. owing to erosion

Question ID : 65497834779
Status : Answered
Chosen Option : 2

Q.10 Select the INCORRECTLY spelt word.

- Ans
- 1. Solitary
 - 2. Individual
 - 3. Criteria
 - 4. Ledgible

Question ID : 65497834782
Status : Answered
Chosen Option : 1

Q.11 Select the most appropriate ANTONYM of the given word.

Opponent

- Ans
- 1. Supporter
 - 2. Professor
 - 3. Mentor
 - 4. Presenter

Question ID : 65497834772
Status : Answered
Chosen Option : 1

Q.12 Select the INCORRECTLY spelt word.

- Ans
- 1. Hostel
 - 2. Hold
 - 3. Hospitaliti
 - 4. Hoist

Question ID : 65497834765
Status : Answered
Chosen Option : 3

Q.13 Select the most appropriate synonym of the given word.

Similar

- Ans 1. Alien
 2. Alike
 3. Several
 4. Equal

Question ID : 65497834771
Status : Answered
Chosen Option : 2

Q.14 Select the most appropriate option that can substitute the underlined segment in the given sentence. If there is no need to substitute it, select 'No substitution required'.

If you are in trouble, Tommy is the friend who stands by you.

- Ans 1. No substitution required
 2. will stand by
 3. was standing by
 4. stood by

Question ID : 65497834777
Status : Answered
Chosen Option : 3

Q.15 Select the most appropriate meaning of the given idiom.

To pull a fast one on someone

- Ans 1. To drive very fast
 2. To cheat someone
 3. To win against someone
 4. To enchant someone

Question ID : 65497834778
Status : Answered
Chosen Option : 3

Q.16 Select the most appropriate option to fill in the blank.

If the neighbours had not _____ food, we might have starved.

- Ans 1. provided
 2. added
 3. stolen
 4. thrown

Question ID : 65497834783
Status : Answered
Chosen Option : 1

Q.17 Select the most appropriate option that can substitute the underlined segment in the given sentence. If there is no need to substitute it, select 'No substitution required'.

If I see a snake, I tried to catch it.

- Ans
- 1. was trying
 - 2. No substitution required
 - 3. will try to catch
 - 4. am trying

Question ID : 65497834764
Status : Answered
Chosen Option : 3

Q.18 Select the most appropriate option that can substitute the underlined segment in the given sentence. If there is no need to substitute it, select 'No substitution required'.

Indirect questions will be used while seeking information about an embarrassing subject.

- Ans
- 1. are used while seek information
 - 2. No substitution required
 - 3. are use while seeking information
 - 4. are used while seeking information

Question ID : 65497834769
Status : Answered
Chosen Option : 4

Q.19 Select the most appropriate meaning of the given idiom.

To kick the bucket

- Ans
- 1. To lose
 - 2. To play
 - 3. To die
 - 4. To fight

Question ID : 65497834773
Status : Answered
Chosen Option : 1

Q.20 Parts of the given sentence have been given as options. One of them contains a grammatical error. Select the option that has the error.

Rama's scores in the half-yearly examination are best than Raghu's scores.

- Ans
- 1. are best than
 - 2. Raghu's scores
 - 3. Rama's scores
 - 4. in the

Question ID : 65497834774
Status : Answered
Chosen Option : 1

Comprehension:

In the following passage, some words have been deleted. Read the passage carefully and select the most appropriate option to fill in each blank.

Pollution is the (1)_____of the environment and the biggest problem across the globe. The major causes of pollution include (2)_____use of motor vehicles, rapid industrialisation, increasing urbanisation, use of chemical fertilisers in agriculture and burning of fossil fuels. It has a (3)_____effect on human health. Air pollution causes respiratory diseases and other diseases related to lungs. Noise pollution impairs the (4)_____senses and causes stress. Water pollution pollutes water, which is mainly harmful for aquatic animals. The responsibility of (5)_____the pollution is in the hands of human beings.

SubQuestion No : 21

Q.21 Select the most appropriate option to fill in blank no. 1.

- Ans 1. mixture
 2. contamination
 3. impure
 4. adulteration

Question ID : 65497834785

Status : Answered

Chosen Option : 4

Comprehension:

In the following passage, some words have been deleted. Read the passage carefully and select the most appropriate option to fill in each blank.

Pollution is the (1)_____of the environment and the biggest problem across the globe. The major causes of pollution include (2)_____use of motor vehicles, rapid industrialisation, increasing urbanisation, use of chemical fertilisers in agriculture and burning of fossil fuels. It has a (3)_____effect on human health. Air pollution causes respiratory diseases and other diseases related to lungs. Noise pollution impairs the (4)_____senses and causes stress. Water pollution pollutes water, which is mainly harmful for aquatic animals. The responsibility of (5)_____the pollution is in the hands of human beings.

SubQuestion No : 22

Q.22 Select the most appropriate option to fill in blank no. 2.

- Ans 1. bulky
 2. slight
 3. compact
 4. massive

Question ID : 65497834786

Status : Answered

Chosen Option : 4

Comprehension:

In the following passage, some words have been deleted. Read the passage carefully and select the most appropriate option to fill in each blank.

Pollution is the (1)_____of the environment and the biggest problem across the globe. The major causes of pollution include (2)_____use of motor vehicles, rapid industrialisation, increasing urbanisation, use of chemical fertilisers in agriculture and burning of fossil fuels. It has a (3)_____effect on human health. Air pollution causes respiratory diseases and other diseases related to lungs. Noise pollution impairs the (4)_____senses and causes stress. Water pollution pollutes water, which is mainly harmful for aquatic animals. The responsibility of (5)_____the pollution is in the hands of human beings.

SubQuestion No : 23

Q.23 Select the most appropriate option to fill in blank no. 3.

- Ans
- 1. safe
 - 2. risky
 - 3. threatened
 - 4. hazardous

Question ID : 65497834787

Status : Answered

Chosen Option : 4

Comprehension:

In the following passage, some words have been deleted. Read the passage carefully and select the most appropriate option to fill in each blank.

Pollution is the (1)_____of the environment and the biggest problem across the globe. The major causes of pollution include (2)_____use of motor vehicles, rapid industrialisation, increasing urbanisation, use of chemical fertilisers in agriculture and burning of fossil fuels. It has a (3)_____effect on human health. Air pollution causes respiratory diseases and other diseases related to lungs. Noise pollution impairs the (4)_____senses and causes stress. Water pollution pollutes water, which is mainly harmful for aquatic animals. The responsibility of (5)_____the pollution is in the hands of human beings.

SubQuestion No : 24

Q.24 Select the most appropriate option to fill in blank no. 4.

- Ans
- 1. auditory
 - 2. audible
 - 3. audacious
 - 4. hearing

Question ID : 65497834788

Status : Answered

Chosen Option : 1

Comprehension:

In the following passage, some words have been deleted. Read the passage carefully and select the most appropriate option to fill in each blank.

Pollution is the (1)_____of the environment and the biggest problem across the globe. The major causes of pollution include (2)_____use of motor vehicles, rapid industrialisation, increasing urbanisation, use of chemical fertilisers in agriculture and burning of fossil fuels. It has a (3)_____effect on human health. Air pollution causes respiratory diseases and other diseases related to lungs. Noise pollution impairs the (4)_____senses and causes stress. Water pollution pollutes water, which is mainly harmful for aquatic animals. The responsibility of (5)_____the pollution is in the hands of human beings.

SubQuestion No : 25

Q.25 Select the most appropriate option to fill in blank no. 5.

- Ans 1. minimal
 2. minimise
 3. minimum
 4. minimising

Question ID : 65497834789

Status : Answered

Chosen Option : 4

Section : Part D Hindi

Q.1 _____समाज का दपण ह - र ान क पूत क जए-

- Ans 1. आलोचक
 2. ग णत
 3. नवेदक
 4. सा ह

Question ID : 65497834805

Status : Not Answered

Chosen Option : --

Q.2 सही वत नी वाले श का चयन क जए।

- Ans 1. पारी मीक
 2. पार मक
 3. परी मक
 4. पारी मक

Question ID : 65497834790

Status : Not Answered

Chosen Option : --

Q.3 दए गए श का वलोम चुन।

उवर

- Ans 1. उवरक
 2. ऊसर
 3. धूसर
 4. नीरस

Question ID : 65497834795

Status : Not Answered

Chosen Option : --

Q.4 दिये गये वाक्यांश के लिए एक शब्द दीजिये।

चिरकाल तक जीवित रहने वाला

- Ans 1. चिरंजीवी
 2. परजीवी
 3. चिरंतन
 4. परोपकारी

Question ID : 65497834797
Status : Not Answered
Chosen Option : --

Q.5 दिये गये वाक्य के किस भाग में त्रुटि है?

आज हम बजार चलेंगे।

- Ans 1. आज
 2. चलेंगे।
 3. बजार
 4. हम

Question ID : 65497834808
Status : Not Answered
Chosen Option : --

Q.6 दिए गए वाक्य में रेखांकित खंड को प्रतिस्थापित करने के लिए सबसे उपयुक्त विकल्प का चयन करें। यदि इसे प्रतिस्थापित करने की आवश्यकता नहीं है, तो विकल्प 'किसी बदलाव की आवश्यकता नहीं है' का चयन करें।

महापुरुषों के उपदेशों का अपने जीवन में सम्मान करो।

- Ans 1. पालन करो
 2. प्रयोग करो
 3. निषेध करो
 4. किसी बदलाव की आवश्यकता नहीं है।

Question ID : 65497834801
Status : Not Answered
Chosen Option : --

Q.7 उस विकल्प का चयन करें जो निम्न मुहावरे का अर्थ व्यक्त करता है।

आंखें चुराना

- Ans 1. नाराज होना
 2. विमुख होना
 3. अनदेखा करना
 4. प्यार होना

Question ID : 65497834802
Status : Not Answered
Chosen Option : --

Q.8 दिए गए वाक्य का वह भाग ज्ञात करें जिसमें कोई त्रुटि है। यदि कोई त्रुटि नहीं है, तो 'कोई त्रुटि नहीं है' चुनें।

बुद्धिमान व्यक्ति की प्रखर बुद्धि हर कार्य में परिलक्षित होती है।

- Ans 1. कोई त्रुटि नहीं है।
 2. हर कार्य में परिलक्षित होती है।
 3. बुद्धिमान व्यक्ति क
 4. प्रखर बुद्धि

Question ID : 65497834798
Status : Not Answered
Chosen Option : --

Q.9 'जिसमें चेतना न हो' वाक्यांश के लिए एक शब्द होगा-

- Ans 1. अचेतन
 2. चिरंतन
 3. पूर्व
 4. चेतन

Question ID : 65497834803
Status : Not Answered
Chosen Option : --

Q.10 दिए गये वाक्यांश के लिए एक शब्द है-

जिस स्त्री को कोई संतान न हो सके

- Ans 1. अस्त्रैण
 2. बंध्या
 3. संतानहीन
 4. अभागी

Question ID : 65497834796
Status : Not Answered
Chosen Option : --

Q.11 'उल्लास' किसका पर्यायवाची है?

- Ans 1. भय
 2. क्रोध
 3. साहस
 4. आनंद

Question ID : 65497834809
Status : Not Answered
Chosen Option : --

Q.12 रिक्त स्थान की पूर्ति के लिए सबसे उपयुक्त शब्द का चयन करें।

हमें भारतीय होने पर _____ है।

- Ans 1. उन्माद
 2. घमंड
 3. गर्व
 4. दप

Question ID : 65497834804
Status : Not Answered
Chosen Option : --

Q.13 दिए गए वाक्य में रेखांकित खंड को प्रतिस्थापित करने के लिए सबसे उपयुक्त विकल्प का चयन करें। यदि इसे प्रतिस्थापित करने की आवश्यकता नहीं है, तो विकल्प 'किसी बदलाव की आवश्यकता नहीं है' का चयन करें।

उन्हें तात्कालिक आदेश से निलंबित कर दिये गया।

- Ans
- 1. आदेश से निलंबित कर दिये गये।
 - 2. आदेश से निलंबित कर दिया गया।
 - 3. आदेश से निलंबित करा दिये गया।
 - 4. किसी बदलाव की आवश्यकता नहीं है।

Question ID : 65497834793
Status : Not Answered
Chosen Option : --

Q.14 दिए गए वाक्य में रेखांकित खंड को प्रतिस्थापित करने के लिए सबसे उपयुक्त विकल्प का चयन करें। यदि इसे प्रतिस्थापित करने की आवश्यकता नहीं है, तो विकल्प 'किसी बदलाव की आवश्यकता नहीं है' का चयन करें।

मुझे अपने पर आत्मविश्वास है।

- Ans
- 1. अपने ऊपर आत्मविश्वास
 - 2. अपने में आत्मविश्वास
 - 3. अपने पर विश्वास
 - 4. किसी बदलाव की आवश्यकता नहीं है।

Question ID : 65497834800
Status : Not Answered
Chosen Option : --

Q.15 'निरर्थक' का विलोम शब्द होगा-

- Ans
- 1. सफल
 - 2. रक्षक
 - 3. सार्थक
 - 4. समर्थक

Question ID : 65497834806
Status : Not Answered
Chosen Option : --

Q.16 दिए गए वाक्य का वह भाग ज्ञात करें जिसमें कोई त्रुटि है। यदि कोई त्रुटि नहीं है, तो 'कोई त्रुटि नहीं है' चुनें।

यद्यपि उसके पास (1)\ उतना धन है तथापि (2)\ वह स्वस्थ नहीं है। (3)\ कोई त्रुटि नहीं है (4)

- Ans
- 1. 3
 - 2. 2
 - 3. 1
 - 4. 4

Question ID : 65497834794
Status : Not Answered
Chosen Option : --

Q.17 रिक्त स्थान की पूर्ति के लिए सबसे उपयुक्त शब्द का चयन करें।

थिएटर में कौन सा _____ खेला जा रहा है।

- Ans
- 1. नाटक
 - 2. सिनेमा
 - 3. पिक्चर
 - 4. खेल

Question ID : 65497834792
Status : Not Answered
Chosen Option : --

Q.18 'बखिया उधेड़ना' मुहाबरे का सही अर्थ क्या है?

- Ans
- 1. अत्यधिक क्रोध होना
 - 2. भेद खोलना
 - 3. कठिन कार्य करना
 - 4. प्रशंसा करना

Question ID : 65497834807
Status : Not Answered
Chosen Option : --

Q.19 दिए गए शब्द के समानार्थी शब्द का चयन करें।

भ्रमर

- Ans
- 1. जुगनू
 - 2. मक्खी
 - 3. भौरा
 - 4. तितली

Question ID : 65497834799
Status : Not Answered
Chosen Option : --

Q.20 सही वर्तनी वाले शब्द का चयन कीजिए।

- Ans
- 1. रुद्धिवादी
 - 2. रुद्धिवादि
 - 3. रुद्धिवादि
 - 4. रुद्धिवादी

Question ID : 65497834791
Status : Not Answered
Chosen Option : --

Comprehension:

दिए गए गद्यांश में से कुछ शब्द हटा दिए गए हैं। संबंधित प्रश्नों में प्रत्येक संख्या के लिए सबसे उपयुक्त विकल्प का चयन करें।

प्रकृति मनुष्य को ईश्वर का अनुपम (1) _____ है। प्रकृति सदा से मनुष्य की सहचरी रही है और अपने गुणों एवं सौंदर्य से मानव को तृप्त करती रही है। मनुष्य भी उसके (2) _____ रूप के प्रति खिंचा चला गया है, परंतु जैसे-जैसे मनुष्य के हाथों में विज्ञान की शक्ति आने लगी, उसने प्रकृति का दोहन किया और अपनी सहचरी प्रकृति को (3) _____ पहुँचाना आरंभ कर दिया। विज्ञान के बल पर वह स्वयं को सर्व-शक्तिमान समझने लगा और अपने ही (4) _____ की खाई खोदने लगा। बढ़ता हुआ प्रदूषण और प्राकृतिक असंतुलन इसी के परिणाम हैं। प्रकृति को नुकसान पहुँचाकर उसने समस्त मानव जाति को नुकसान पहुँचाया है। प्रकृति के साथ (5) _____ स्थापित करके ही मनुष्यता को बचाया जा सकता है।

SubQuestion No : 21

Q.21 गद्यांश के रिक्त स्थान (1) के लिए सर्वाधिक उपयुक्त शब्द होगा-

- Ans
- 1. अभिशाप
 - 2. रूप
 - 3. एहसास
 - 4. वरदान

Question ID : 65497834811

Status : Not Answered

Chosen Option : --

Comprehension:

दिए गए गद्यांश में से कुछ शब्द हटा दिए गए हैं। संबंधित प्रश्नों में प्रत्येक संख्या के लिए सबसे उपयुक्त विकल्प का चयन करें।

प्रकृति मनुष्य को ईश्वर का अनुपम (1) _____ है। प्रकृति सदा से मनुष्य की सहचरी रही है और अपने गुणों एवं सौंदर्य से मानव को तृप्त करती रही है। मनुष्य भी उसके (2) _____ रूप के प्रति खिंचा चला गया है, परंतु जैसे-जैसे मनुष्य के हाथों में विज्ञान की शक्ति आने लगी, उसने प्रकृति का दोहन किया और अपनी सहचरी प्रकृति को (3) _____ पहुँचाना आरंभ कर दिया। विज्ञान के बल पर वह स्वयं को सर्व-शक्तिमान समझने लगा और अपने ही (4) _____ की खाई खोदने लगा। बढ़ता हुआ प्रदूषण और प्राकृतिक असंतुलन इसी के परिणाम हैं। प्रकृति को नुकसान पहुँचाकर उसने समस्त मानव जाति को नुकसान पहुँचाया है। प्रकृति के साथ (5) _____ स्थापित करके ही मनुष्यता को बचाया जा सकता है।

SubQuestion No : 22

Q.22 गद्यांश के रिक्त स्थान (2) के लिए सर्वाधिक उपयुक्त शब्द होगा-

- Ans
- 1. आकर्षक
 - 2. अनाकर्षक
 - 3. निकृष्ट
 - 4. अभिशप्त

Question ID : 65497834812

Status : Not Answered

Chosen Option : --

Comprehension:

दिए गए गद्यांश में से कुछ शब्द हटा दिए गए हैं। संबंधित प्रश्नों में प्रत्येक संख्या के लिए सबसे उपयुक्त विकल्प का चयन करें।

प्रकृति मनुष्य को ईश्वर का अनुपम (1) _____ है। प्रकृति सदा से मनुष्य की सहचरी रही है और अपने गुणों एवं सौंदर्य से मानव को तृप्त करती रही है। मनुष्य भी उसके (2) _____ रूप के प्रति खिंचा चला गया है, परंतु जैसे-जैसे मनुष्य के हाथों में विज्ञान की शक्ति आने लगी, उसने प्रकृति का दोहन किया और अपनी सहचरी प्रकृति को (3) _____ पहुँचाना आरंभ कर दिया। विज्ञान के बल पर वह स्वयं को सर्व-शक्तिमान समझने लगा और अपने ही (4) _____ की खाई खोदने लगा। बढ़ता हुआ प्रदूषण और प्राकृतिक असंतुलन इसी के परिणाम हैं। प्रकृति को नुकसान पहुँचाकर उसने समस्त मानव जाति को नुकसान पहुँचाया है। प्रकृति के साथ (5) _____ स्थापित करके ही मनुष्यता को बचाया जा सकता है।

SubQuestion No : 23

Q.23 गद्यांश के रिक्त स्थान (3) के लिए सर्वाधिक उपयुक्त शब्द होगा-

- Ans
- 1. लाभ
 - 2. सामर्थ्य
 - 3. सम्पन्नता
 - 4. हानि

Question ID : 65497834813

Status : Not Answered

Chosen Option : --

Comprehension:

दिए गए गद्यांश में से कुछ शब्द हटा दिए गए हैं। संबंधित प्रश्नों में प्रत्येक संख्या के लिए सबसे उपयुक्त विकल्प का चयन करें।

प्रकृति मनुष्य को ईश्वर का अनुपम (1) _____ है। प्रकृति सदा से मनुष्य की सहचरी रही है और अपने गुणों एवं सौंदर्य से मानव को तृप्त करती रही है। मनुष्य भी उसके (2) _____ रूप के प्रति खिंचा चला गया है, परंतु जैसे-जैसे मनुष्य के हाथों में विज्ञान की शक्ति आने लगी, उसने प्रकृति का दोहन किया और अपनी सहचरी प्रकृति को (3) _____ पहुँचाना आरंभ कर दिया। विज्ञान के बल पर वह स्वयं को सर्व-शक्तिमान समझने लगा और अपने ही (4) _____ की खाई खोदने लगा। बढ़ता हुआ प्रदूषण और प्राकृतिक असंतुलन इसी के परिणाम हैं। प्रकृति को नुकसान पहुँचाकर उसने समस्त मानव जाति को नुकसान पहुँचाया है। प्रकृति के साथ (5) _____ स्थापित करके ही मनुष्यता को बचाया जा सकता है।

SubQuestion No : 24

Q.24 गद्यांश के रिक्त स्थान (4) के लिए सर्वाधिक उपयुक्त शब्द होगा-

- Ans
- 1. मृत्यु
 - 2. विकास
 - 3. विनाश
 - 4. प्रगति

Question ID : 65497834814

Status : Not Answered

Chosen Option : --

Comprehension:

दिए गए गद्यांश में से कुछ शब्द हटा दिए गए हैं। संबंधित प्रश्नों में प्रत्येक संख्या के लिए सबसे उपयुक्त विकल्प का चयन करें।

प्रकृति मनुष्य को ईश्वर का अनुपम (1) _____ है। प्रकृति सदा से मनुष्य की सहचरी रही है और अपने गुणों एवं सौंदर्य से मानव को तृप्त करती रही है। मनुष्य भी उसके (2) _____ रूप के प्रति खिंचा चला गया है, परंतु जैसे-जैसे मनुष्य के हाथों में विज्ञान की शक्ति आने लगी, उसने प्रकृति का दोहन किया और अपनी सहचरी प्रकृति को (3) _____ पहुँचाना आरंभ कर दिया। विज्ञान के बल पर वह स्वयं को सर्व-शक्तिमान समझने लगा और अपने ही (4) _____ की खाई खोदने लगा। बढ़ता हुआ प्रदूषण और प्राकृतिक असंतुलन इसी के परिणाम हैं। प्रकृति को नुकसान पहुँचाकर उसने समस्त मानव जाति को नुकसान पहुँचाया है। प्रकृति के साथ (5) _____ स्थापित करके ही मनुष्यता को बचाया जा सकता है।

SubQuestion No : 25

Q.25 गद्यांश के रिक्त स्थान (5) के लिए सर्वाधिक उपयुक्त शब्द होगा-

- Ans
- 1. समरूपता
 - 2. सामंजस्य
 - 3. समानता
 - 4. सहजता

Question ID : 65497834815

Status : Not Answered

Chosen Option : --

**SSC
GD**

**Previous Year Paper
22 Nov 2021 Shift 2**

Exam Date	22/11/2021
Exam Time :	12:30 PM - 2:00 PM
Subject	Constable GD 2021

Section : Part A General Intelligence and Reasoning

Q.1 उस वक का चयन कर जो तीसर पद से ठीक उसी कार से संबंधत ह जैसे ूसरा पद पहले पद से संबंधत ह।

DEATH : IZZPL :: LITRE : ?

- Ans 1. QDGNL
 2. GNGNI
 3. GNGVA
 4. QDXVA

Question ID : 65497836104

Status : Answered

Chosen Option : 1

Q.2 दए गए पैटन का यानपूवक अ ययन क जए और उस सं या का चयन क जए जो इसम नवाचक च (?) के थान पर आ सकती ह।

16 295 19
9 144 17
26 ? 16

- Ans 1. 407
 2. 398
 3. 406
 4. 395

Question ID : 65497836093

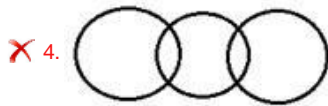
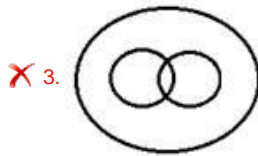
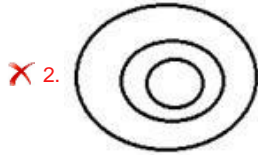
Status : Answered

Chosen Option : 1

Q.3 उस वेन आरेख का चयन कीजिए जो निम्न वर्गों के मध्य के संबंध का सर्वश्रेष्ठ निरूपण करता है।

इलाइची, मसाले, धनिया के बीज

Ans



Question ID : 65497836110

Status : Answered

Chosen Option : 1

Q.4 एक न त कू ट भाषा म, 'he came back' को 'ni ji pa' लखा जाता ह, 'go back now' को 'pa ja ka' लखा जाता ह और 'stop it now' को 'ka my uk' लखा जाता ह। उसी कू ट भाषा म 'go' को या लखा जाएगा?

Ans ✗ 1. ka

✗ 2. ni

✓ 3. ja

✗ 4. pa

Question ID : 65497836091

Status : Answered

Chosen Option : 3

Q.5 कसी कू ट भाषा म, WHALE को 25103147 के प म कू ट ब कया जाता ह। उसी भाषा म SHARK को कस कार से कू ट ब कया जाएगा?

Ans ✗ 1. 211031037

✓ 2. 211032013

✗ 3. 19811811

✗ 4. 19812811

Question ID : 65497836097

Status : Answered

Chosen Option : 2

Q.6 A, B, C और D नाम के चार पुरुष और M, N, O और P नाम के चार महिलाएं एक गोल मेज के परत पर एक मंजूर के बाद एक पुरुष के वैकल्पिक में बैठे हैं। P, B और A के बीच बैठी हैं। A, N के ठीक बगल में और D के सामने बैठी हैं। M, P के सामने बैठी हैं। B और D के बीच कौन बैठी है?

- Ans
- 1. N
 - 2. P
 - 3. O
 - 4. M

Question ID : 65497836086
Status : Answered
Chosen Option : 3

Q.7 दिए गए वक्रों में से उस संख्या का चयन करें जो दी गई खाली जगह में च (2) के मान पर आ सकती है।

15, 16, 20, 47, 303, ?

- Ans
- 1. 1909
 - 2. 1936
 - 3. 3428
 - 4. 3473

Question ID : 65497836098
Status : Answered
Chosen Option : 3

Q.8 नीचे लिखित वक्रों में से उस वक्र का चयन करें, जो दिए गए शब्दों के उस सही क्रम को दर्शाता है, जिसमें मधेश अंश की शोषण दर दर्शाई गई है।

1. Marmatites
2. Martinec
3. Marijuana
4. Marehan
5. Marienbad

- Ans
- 1. 4, 5, 3, 2, 1
 - 2. 4, 5, 2, 1, 3
 - 3. 4, 5, 3, 1, 2
 - 4. 4, 5, 1, 3, 2

Question ID : 65497836100
Status : Answered
Chosen Option : 3

Q.9 दए गए कथन और न ष को ानपूव क पढ । यह मानते ए क कथन म दी गई सूचना स ह, भले ही वह सामा प से ात त से भ तीत होती हो, बताइए क दए गए न ष म से कौन सा / कौन से न ष कथन का ता कक प से अनुसरण करता ह / करते ह।

कथन:

कु छ खलाड़ी फु टबॉल खेलते ह।
सभी खलाड़ी, लोग ह।

न ष:

1. कोई भी लोग, फु टबॉल नह खेलते ह।
2. कु छ लोग, फु टबॉल खेलते ह।
3. सभी लोग, फु टबॉल खेलते ह।

- Ans
- 1. न ष 1 और 3 दोन अनुसरण करते ह।
 - 2. के वल न ष 2 अनुसरण करता ह।
 - 3. के वल न ष 1 अनुसरण करता ह।
 - 4. के वल न ष 3 अनुसरण करता ह।

Question ID : 65497836092





Status : Answered

Chosen Option : 2

Q.10 उस विकल्प का चयन करें जिसमें दी गई आकृति सन्निहित है (घुमाने की अनुमति नहीं है)।

∞

Ans

- 1. 
- 2. 
- 3. 
- 4. 

Question ID : 65497836090

Status : Answered

Chosen Option : 3

Q.11 चार अर-समूह दए गए ह, जनम से तीन कसी कार से समान ह और एक उनसे असंगत ह। उस असंगत अर-समूह का चयन कर।

- Ans
- 1. EFHK
 - 2. ABCG
 - 3. QRTW
 - 4. MNPS

Question ID : 65497836096

Status : Answered

Chosen Option : 2

Q.12 'हरनी' का जो संबंध 'मृगशावक' से है, 'मुग' का वही संबंध '_____ ' से है।

- Ans
- 1. सेट
 - 2. सहशावक
 - 3. मेमना
 - 4. चूजे

Question ID : 65497836108
Status : Answered
Chosen Option : 4

Q.13 न ल खत समीकरण को संतुलित बनाने के लिए कन दोग गतीय च को पर र बदल दना चा हए?

$$56 - 39 \times 4 \div 12 + 33 = 36$$

- Ans
- 1. \times, \div
 - 2. $+, \times$
 - 3. $-, \div$
 - 4. $+, -$

Question ID : 65497836088
Status : Answered
Chosen Option : 4

Q.14 दए गए वक म से उस सं ा का चयन कर, जो न ल खत ृंखला म वाचक च (?) के ान पर आ सकती ह।

3, 6, 18, 90, 630, ?

- Ans
- 1. 6930
 - 2. 6300
 - 3. 5670
 - 4. 5040

Question ID : 65497836102
Status : Answered
Chosen Option : 1

Q.15 दर्पण को दी गई आकृति के दाईं ओर रखे जाने पर, आकृति का दर्पण में निर्मित सही प्रतिबिंब चयनित करें।

9	2
3	5
2	6

Ans

✗ 1.

9	2
3	5
2	6

✗ 2.

9	5
3	2
5	0

✗ 3.

5	9
2	3
6	5

✓ 4.

5	9
2	3
0	5

Question ID : 65497836099

Status : Answered

Chosen Option : 4

Q.16 अ र के उस संयोजन का चयन कर, जसे जब दी गई वृंखला के र ान म म से रखा जाए, तो वृंखलापूण होगी।

_ N M N _ M _ _ N _ M N _ N N

Ans ✗ 1. MMNNNM

✗ 2. NNMNMM

✗ 3. NNMMNM

✓ 4. MNNMNM

Question ID : 65497836101

Status : Answered

Chosen Option : 4

Q.17 अ मत ने कहा क वह अपने पता के इकलौते भाई के पु क माँ क सास से मला था। अ मत क मुलाकात कससे ई थी?

Ans ✓ 1. दादी

✗ 2. चाची

✗ 3. बहन

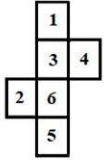
✗ 4. चचेरी बहन

Question ID : 65497836106

Status : Answered

Chosen Option : 1

Q.18 निम्नलिखित एक गैर-मानक खुला पासा है। पासे के किन दो पृष्ठों को एक मानक पासा बनाने के लिए परस्पर बदलने की आवश्यकता है?



- Ans
1. 5, 6
 2. 4, 3
 3. 2, 3
 4. 1, 5

Question ID : 65497836089

Status : Answered

Chosen Option : 2

Q.19 पांच य उ तर दशा क ओर अ भमुख होकर एक पं म बैठ ह। पं म दोन छोर पर ाइवर और इले ी शयन बैठ ह। लंबर ठीक बढ़ई के दा ओर पडोस म बैठा ह। मकै नक ठीक इले ी शयन के बा ओर पडोस म बैठा ह। बढ़ई ठीक ाइवर और लंबर के बीच म बैठा ह। नन म से कौन सा य पं के मय म बैठा ह?

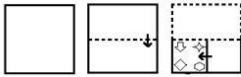
- Ans
- ✓ 1. लंबर
 - ✗ 2. बढ़ई
 - ✗ 3. मकै नक
 - ✗ 4. इले ी शयन

Question ID : 65497836109

Status : Answered


Chosen Option : 1

Q.20 निम्नांकित आकृतियों में एक कागज के टुकड़े को मोड़ने का क्रम और मुड़े हुए कागज को काटने की विधि दर्शाई गई है। यह कागज खोलने पर कैसा दिखेगा?

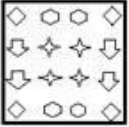


Ans

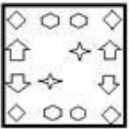
✓ 1.




✗ 2.



✗ 3.



✗ 4.



Question ID : 65497836095

Status : Answered

Chosen Option : 1

Q.21 उस वक का चयन कर जो तीसरी संा से उसी तरह से संबंधत ह जैसे ूसरी संा पहली संा से संबंधतह।

7 : 36 :: 5 : ?

Ans ✗ 1. 27

✗ 2. 35

✓ 3. 24

✗ 4. 30

Question ID : 65497836087

Status : Not Answered

Chosen Option : --

Q.22 When a number is subtracted from the square of 17, then the sum becomes 3 times the smallest whole number. Find the number subtracted.

Ans ✓ 1. 289

✗ 2. 268

✗ 3. 287

✗ 4. 276

Question ID : 65497836094

Status : Answered

Chosen Option : 1

Q.23 कसी कू ट भाषा म, 'VOLUME' को 'AUQARI' के प म लखा जाता ह। उसी भाषा म, 'DESIGN' को कस प म लखा जाएगा?

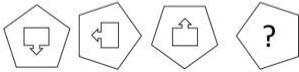
- Ans
- 1. ZXILPR
 - 2. ZIXPLR
 - 3. IIXOLS
 - 4. IJYLOS

Question ID : 65497836105

Status : Answered

Chosen Option : 4

Q.24 दिए गए विकल्पों में से उस आकृति का चयन करें, जो निम्नलिखित श्रृंखला में प्रश्नवाचक चिह्न (?) के स्थान पर आ सकती है।



Ans

- 1.
- 2.
- 3.
- 4.

Question ID : 65497836103

Status : Answered

Chosen Option : 4

Q.25 उस वक प का चयन क जए जसका तीसर पद से वही संबंध ह जो ूसर पद का पहले पद से ह।

BARK: FXWI :: STOP : ?

- Ans
- 1. WTQN
 - 2. WWTR
 - 3. WQTN
 - 4. WTWR

Question ID : 65497836107

Status : Answered

Chosen Option : 3

Q.1 वायसराय लॉर्ड कज न ने _____ म बंगाल का वभाजन कया था।

- Ans
- 1. 1904
 - 2. 1903
 - 3. 1905
 - 4. 1902

Question ID : 65497836129
Status : Answered
Chosen Option : 3

Q.2 In the symbol of the electric cell, the thicker, shorter line represents the:

- Ans
- 1. ring terminal
 - 2. positive terminal
 - 3. negative terminal
 - 4. neutral terminal

Question ID : 65497836112
Status : Answered
Chosen Option : 3

Q.3 मड एयर री लू लग (हवा म धन भराई) के बना एक बार म ोस से लेस सुखोई-30 क रज कतने कलोमीटर ह?

- Ans
- 1. 1000 km
 - 2. 3000 km
 - 3. 2000 km
 - 4. 1500 km

Question ID : 65497836126
Status : Not Answered
Chosen Option : --

Q.4 इरहं कप फु टबॉल टनामट का 2021 सं रण _____ म आयोजत कया गया था।

- Ans
- 1. नई द ी
 - 2. गोवा
 - 3. बगलु
 - 4. कोलकाता

Question ID : 65497836135
Status : Not Answered
Chosen Option : --

Q.5 2020 म भारतीय के ट कं ोल बोड (BCCI) ारा न ल खत म से कस कं पनी को टीम इंडया का आ धका रक कट ायोजक घो षत कया गया था?

- Ans
- 1. 11 Wickets (11 वके ट्स)
 - 2. Mobile Premier League (मोबाइल ी मयर लीग, MPL)
 - 3. Dream 11 (ीम इलेवन)
 - 4. BalleBaazi (ब ेबाजी)

Question ID : 65497836116
Status : Answered
Chosen Option : 3

Q.6 द ीस नत के दौरान न लखत मसे कस कार का कर एक कया जाता था?

- Ans
- 1. रयतवाड़ी कर
 - 2. आयकर
 - 3. महालवाड़ी कर
 - 4. खराज कर

Question ID : 65497836128

Status : Answered

Chosen Option : 4

Q.7 इसाई समुदाय ारा जीसस ाई के ज के उ व के प म मनाया जाने वाला वा षक ोहार समस, न म से कस तारीख को मनाया जाता है?

- Ans
- 1. 29 दसंबर
 - 2. 21 दसंबर
 - 3. 25 दसंबर
 - 4. 15 दसंबर

Question ID : 65497836120

Status : Answered

Chosen Option : 3

Q.8 रानी-क-वाक-या-ीन-स-ेपवेल (Queen's Stepwell), _____ नदी के तट पर त एक यूने ाो (UNESCO) व धरोहर ल है।

- Ans
- 1. सर ती
 - 2. कावेरी
 - 3. महानदी
 - 4. झेलम

Question ID : 65497836134

Status : Not Answered

Chosen Option : --

Q.9 कसक अ ता वाले रा ीय कसान आयोग ने यह सुझाव दया था क कृ ष फसल के लए ूनतम समथ नमू (MSP), उ ादन क भा रत औसत लागत से कम से कम 50% अ धक होना चा हए?

- Ans
- 1. ए.एम. खुसरो
 - 2. जी.वी. रामकृ
 - 3. एम.एस. ामीनाथन
 - 4. आर.वी. गु ा

Question ID : 65497836117

Status : Not Answered

Chosen Option : --

Q.10 जनवरी 2020 म बी.सी.सी.आई. (B.C.C.I.) के पॉली ऊमरीगर पुर ार ारा कसे स ा नत कया गया

- था? Ans
- 1. रो हत शमा
 - 2. वराट कोहली
 - 3. जस ीत बुमराह
 - 4. शखर धवन

Question ID : 65497836122

Status : Not Answered

Chosen Option : --

Q.11 द ेट बैरररीफ, जो क यूने ो (UNESCO) का व धरोहर ल भी ह, _____ से संबं धत ह।

- Ans
- 1. सोमा लया
 - 2. भारत
 - 3. ाज़ील
 - 4. ऑ लया

Question ID : 65497836115
Status : Answered
Chosen Option : 4

Q.12 चंदला राजवंश के कस राजा ने कंद रया महादव मंदर का नमाण करवाया था?

- Ans
- 1. वजयपाल
 - 2. व ाधर
 - 3. यशोवमन
 - 4. धंगदव

Question ID : 65497836125
Status : Not Answered
Chosen Option : --

Q.13 भारतीय व ोह क शु आत 10 मई, 1857 को मेरठ से ई, और यह कब ख

- आ? Ans
- 1. 13 मई, 1858 को कलक ाम
 - 2. 20 जून, 1858 को ालयर म
 - 3. 18 सतंबर, 1859 को द ीम
 - 4. 15 अग , 1860 को झांसी म

Question ID : 65497836118
Status : Not Answered
Chosen Option : --

Q.14 न ल खत म से कौन एवरी वोट काउंट्स - द ोरी ऑफ इंडयाज़ इले न पु क के लेखक ह?

- Ans
- 1. हरशंकर ा
 - 2. एन. गोपाल ामी
 - 3. एस.वाई. कुरशी
 - 4. नवीन चावला

Question ID : 65497836114
Status : Not Answered
Chosen Option : --

Q.15 भारत के संवधान के तहत, अनु ेद _____ कहता ह क रा पत के पास कसी दोषी क सजा को कम करने या उसे माफ देने क श होगी।

- Ans
- 1. 72
 - 2. 71
 - 3. 73
 - 4. 74

Question ID : 65497836130
Status : Not Answered
Chosen Option : --

Q.16 आसो नक तरंग क आवृ कतनी

होती है? Ans 1. 20 kHz से अधिक

2. 15 kHz से अधिक

3. 10 kHz से अधिक

4. 5 kHz से अधिक

Question ID : 65497836124

Status : Answered

Chosen Option : 1

Q.17 नवंबर 2020 म, भारत और _____ ने संयु प से पे (Rupay) काड के चरण 2 का शुभारंभ किया।

Ans 1. ांमार

2. भूटान

3. नेपाल

4. बां ादश

Question ID : 65497836127

Status : Answered

Chosen Option : 3

Q.18 न ल खत म से कौन सा रसायन भारत म पहली बार ानीय प से न मत किया गया था और अ ूबर 2020 म गुजरात ेट फ्र ट लाइज़स एंड के मक ई डया ल मटड ारा लॉ किया गया था?

Ans 1. अमो नयम स ेट

2. बोरोनेटड कै यम नाइ ट

3. कै यम अमो नयम नाइ ट

4. पल सुपरफॉ ेट

Question ID : 65497836133

Status : Not Answered

Chosen Option : --

Q.19 सुदीरमन कप न ल खत म से कस खेल (games/sports) से संबंधत है?

Ans 1. बैड मटन

2. बेसबॉल

3. वॉलीबॉल

4. बा ेटबॉल

Question ID : 65497836123

Status : Not Answered

Chosen Option : --

Q.20 नवंबर 2020 म, बाक लेज ने अनुमान लगाया था क व ीय वष 2020-21 म भारत का सकल घरलू उ ाद (GDP) _____ का संकु चन दज करगा।

Ans 1. -6%

2. -5.4%

3. -5%

4. -6.4%

Question ID : 65497836119

Status : Not Answered

Chosen Option : --

Q.21 सप नौका दौड़ (एक बोट रस) न ल खत म से कस ौहार क एक अनूठी वशेषता

- ह? Ans 1. क लग महो व
 2. दशहरा
 3. ओणम
 4. भोगली ब

Question ID : 65497836111
Status : Answered
Chosen Option : 3

Q.22 25 सतंबर 2020 को, _____ ने घोषणा क, क वे स्ेफ पे नामक फोन के मा म से एक संपक, र हत ड बट काड आधा रत भुगतान सु वधा शु करग,े जससे त दन ₹20,000 तक के लेन-दन क अनुम त होगी।

- Ans 1. आई.सी.आई.सी.आई. (ICICI) बक
 2. वजया बक
 3. आई.डी.एफ.सी. (IDFC) फ बक
 4. एच.डी.एफ.सी. (HDFC) बक

Question ID : 65497836131
Status : Not Answered
Chosen Option : --

Q.23 न ल खत म से कौन सा बंदरगाह या ट म नल शांत महासागर म त नह ह?

- Ans 1. सडनी (ऑ लया)
 2. योकोहामा (जापान)
 3. रयो ड जेनेरो (ाज़ील)
 4. शंघाई (चीन)

Question ID : 65497836121
Status : Answered
Chosen Option : 3

Q.24 आप तत करण, आपतन ब ु पर लंब करण और पराव तत करण सभी _____ अव त होती ह।

- Ans 1. समान समतल म
 2. वकण त: वपरीत समतल पर
 3. ऊ ाधर प से वपरीत समतल पर
 4. भ समतल पर

Question ID : 65497836113
Status : Answered
Chosen Option : 1

Q.25 भारत म सं वधान सभा के चुनाव _____ म ए थे।

- Ans 1. जुलाई 1946
 2. अग 1945
 3. नवंबर 1946
 4. जनवरी 1945

Question ID : 65497836132
Status : Answered
Chosen Option : 3

Q.1 एक छात्र 5 km/h की चाल से चलता है। जब वह अपनी चाल को बढ़ाकर 6 km/h कर देता है, तो वह स्कूल में 20 मिनट पहले पहुंच जाता है। छात्र द्वारा तय की गई दूरी ज्ञात करें।

- Ans
1. 15 km
 2. 8 km
 3. 10 km
 4. 12 km

Question ID : 65497836148
Status : Answered
Chosen Option : 3

Q.2 30 m चौड़े और 90 m लंबे किसी आयताकार तालाब के चारों ओर समान चौड़ाई वाला पैदल मार्ग बना है। यदि पैदल मार्ग का कुल क्षेत्रफल 2800 m² है, तो पैदल मार्ग की चौड़ाई (m में) कितनी होगी?

- Ans
1. 10
 2. 20
 3. 5
 4. 15

Question ID : 65497836145
Status : Answered
Chosen Option : 1

Q.3 56 गेंदों को ₹3,570 में बेचने पर, 14 गेंदों की लागत के बराबर हानि होती है। एक गेंद का लागत मूल्य कितना है?

- Ans
1. ₹75
 2. ₹80
 3. ₹65
 4. ₹85

Question ID : 65497836140
Status : Answered
Chosen Option : 4

Q.4 Find the ratio of the diagonal of a square of side 15 cm, to its side.

- Ans
1. $\sqrt{2} : 3$
 2. $2 : 3$
 3. $1 : \sqrt{2}$
 4. $\sqrt{2} : 1$

Question ID : 65497836144
Status : Answered
Chosen Option : 4

Q.5 A किसी कार्य के $\frac{3}{5}$ भाग को 12 दिन में पूरा कर सकता है। B उसी कार्य के $\frac{2}{3}$ भाग को 8 दिन में पूरा कर सकता है। A और B एक साथ इस कार्य को कितने दिन में पूरा करेंगे?

Ans

✓ 1. $7\frac{1}{2}$ दिन

2. $6\frac{1}{2}$ दिन

3. 7 दिन

4. 6 दिन

Question ID : 65497836160

Status : Answered

Chosen Option : 1

Q.6 एक समूह में 45 व्यक्ति (केवल पुरुष और महिलाएं) हैं। पुरुष और महिलाओं की संख्या का अनुपात 5 : 4 है। यदि पुरुषों का औसत वजन 79.4 kg है और महिलाओं का औसत वजन 64.5 kg है, तो समूह में सभी व्यक्तियों का औसत वजन (kg में) कितना होगा (दशमलव के एक स्थान तक सही)?

Ans

1. 69.5

2. 73.5

3. 72.8

4. 77.4

Question ID : 65497836137

Status : Answered

Chosen Option : 3

Q.7 एक निश्चित धनराशि (₹ में) A, B और C के मध्य इस प्रकार विभाजित की जाती है कि A और B के हिस्सों का अनुपात 3 : 5 है तथा B और C के हिस्सों का अनुपात 2 : 7 है। यदि A का हिस्सा ₹3600 है तो कुल धनराशि (₹ में) कितनी थी?

Ans

1. 30600

2. 25200

3. 36600

4. 21000

Question ID : 65497836138

Status : Answered

Chosen Option : 1

Q.8 सोनू किसी कार्य को उतने ही समय में पूरा कर सकता है, जितने समय में मनु और राज मिलकर उस कार्य को पूरा कर सकते हैं। यदि राज अकेले इस कार्य को 30 दिन में पूरा कर सकता है और सोनू और मनु मिलकर इस कार्य को 15 दिन में पूरा कर सकते हैं, तो मनु अकेले इस कार्य को कितने दिन में पूरा कर सकता है?

Ans

✗ 1. 45 दिन

2. 42 दिन

3. 58 दिन

4. 60 दिन

Question ID : 65497836159

Status : Answered

Chosen Option : 4

Q.9 एक लेखाकार ने एक संख्या को $\frac{9}{2}$ के बजाय $\frac{2}{9}$ से गुणा कर दिया। उसकी गणना में लगभग कितनी प्रतिशत त्रुटि हुई?

- Ans
1. 0.95%
 2. 95%
 3. 9.5%
 4. 0.095%

Question ID : 65497836143
Status : Answered
Chosen Option : 1

Q.10 छह घंटियां क्रमशः 12 मिनट, 9 मिनट, 8 मिनट, 6 मिनट, 3 मिनट और 10 मिनट के अंतराल में स्वतः बजती हैं। शुरु होने के क्षण से 12 घंटे में वे एक-साथ कितनी बार बजेंगी?

- Ans
1. 5
 2. 4
 3. 2
 4. 6

Question ID : 65497836136
Status : Answered
Chosen Option : 4

Q.11 एक विक्रेता ने ₹50 में 10 की दर से संतरे खरीदे और उन्हें ₹24 में 6 की दर से बेच दिया। उसके लाभ या हानि का प्रतिशत कितना है?

- Ans
1. 20% हानि
 2. 15% लाभ
 3. 25% हानि
 4. 10% लाभ

Question ID : 65497836154
Status : Answered
Chosen Option : 1

Q.12 एक लंब वृत्तीय बेलन का आयतन 6930 cm^3 और उसकी ऊँचाई 20 cm है। इसका बक्र पृष्ठीय क्षेत्रफल (cm^2 में) ज्ञात करें। ($\pi = \frac{22}{7}$ मानें)

- Ans
1. 1320
 2. 660
 3. 1760
 4. 880

Question ID : 65497836152
Status : Answered
Chosen Option : 1

Q.13 एक दुकानदार ₹2,000 अंकित मूल्य वाली एक वस्तु पर 20% और 15% की क्रमिक छूट देता है। वह वस्तु को किस मूल्य पर बेचता है?

- Ans
1. ₹1,436
 2. ₹1,600
 3. ₹1,400
 4. ₹1,360

Question ID : 65497836146
Status : Answered
Chosen Option : 4

Q.14 यदि किसी संख्या का 30% उस संख्या के 60% से 15 कम है, तो वह संख्या ज्ञात कीजिए।

- Ans
1. 40
 2. 50
 3. 65
 4. 72

Question ID : 65497836158
Status : Answered
Chosen Option : 2

Q.15 ₹9,480 की धनराशि को X, Y और Z के बीच इस प्रकार विभाजित किया गया है कि X और Y के भाग का अनुपात 5 : 6, X और Z के भाग का अनुपात 4 : 7 है। Y और Z के भाग के बीच अंतर ज्ञात करें।

- Ans
1. ₹1,200
 2. ₹1,800
 3. ₹1,440
 4. ₹1,320

Question ID : 65497836150
Status : Answered
Chosen Option : 4

Q.16 किसी दुकान में एक बैग का अंकित मूल्य ₹350 है। दुकानदार द्वारा दी जाने वाली छूट 10% है। बैग के विक्रय मूल्य की गणना कीजिए।

- Ans
1. ₹324
 2. ₹325
 3. ₹315
 4. ₹308

Question ID : 65497836157
Status : Answered
Chosen Option : 3

Q.17 एक धनराशि पर ब्याज की दर पहले 3 वर्षों के लिए 8% वार्षिक है, अगले 4 वर्षों के लिए 10% वार्षिक है और 7 वर्ष के बाद की अवधि के लिए 12% वार्षिक है। यदि किसी व्यक्ति को 12 वर्ष के बाद साधारण ब्याज के रूप में ₹13795 मिलते हैं तो उसने कितनी धनराशि (₹ में) का निवेश किया था?

- Ans
1. 12275
 2. 12000
 3. 10000
 4. 11125

Question ID : 65497836139
Status : Answered
Chosen Option : 4

Q.18 ₹5,000 की धनराशि साधारण ब्याज पर 6 वर्षों में ₹7,550 हो जाती है। यदि ब्याज दर में 3.5% की वृद्धि हो जाती है, तो धनराशि कितनी हो जाएगी?

- Ans
1. ₹8,600
 2. ₹8,200
 3. ₹8,500
 4. ₹8,000

Question ID : 65497836141
Status : Answered
Chosen Option : 1

Q.19 $6 \div [4 \times 3 \{5 \times 4 \div (5 \text{ of } 4 + 4 \div 2 \times 4)\}]$ का मान ज्ञात कीजिए।

- Ans
- ✓ 1. $\frac{7}{10}$
 - ✗ 2. $\frac{3}{10}$
 - ✗ 3. $\frac{17}{10}$
 - ✗ 4. $\frac{-7}{10}$

Question ID : 65497836153
Status : Answered
Chosen Option : 1

Q.20 राम किसी कार्य को 60 दिन में पूरा कर सकता है। वह 10 दिन कार्य करता है और फिर, राज अकेले शेष कार्य को 35 दिन में पूरा करता है। यदि राम और राज एक साथ कार्य करें तो कितने समय में कार्य समाप्त करेंगे?

- Ans
- ✗ 1. $25\frac{2}{5}$ दिन
 2. $20\frac{3}{17}$ दिन
 3. $21\frac{1}{2}$ दिन
 4. $24\frac{12}{17}$ दिन

Question ID : 65497836155
Status : Answered
Chosen Option : 4

Q.21 21 m और 42 m की लंबाई वाली दो रस्सियों को समान लंबाई वाले टुकड़ों में काटा जाना है। प्रत्येक टुकड़े की अधिकतम संभव लंबाई कितनी होगी?

- Ans
1. 42 m
 2. 7 m
 3. 1 m
 4. 21 m

Question ID : 65497836142
Status : Answered
Chosen Option : 4

Q.22 In a hostel, 40 students are there. If 5 new students join, then the expenses of the mess will increase by ₹48 per day while the average expenditure per student will diminish by ₹2. What was the original expenditure of the mess?

- Ans
1. ₹1,104
 2. ₹1,020
 3. ₹1,076
 4. ₹1,100

Question ID : 65497836156
Status : Answered
Chosen Option : 1

Q.23 मूलधन ₹12,500 पर $2\frac{3}{4}$ वर्ष के लिए वार्षिक 12% चक्रवृद्धि ब्याज दर पर, ब्याज ज्ञात करें, यदि ब्याज वार्षिक रूप से चक्रवृद्धि होता है। (निकटतम ₹ में)

- Ans
1. ₹5,062
 2. ₹4,591
 3. ₹4,951
 4. ₹5,026

Question ID : 65497836151
Status : Answered
Chosen Option : 2

Q.24 एक व्यक्ति ने ₹2,400 में एक मेज और एक कुर्सी खरीदी। उसने मेज को 12% के लाभ पर और कुर्सी को 10% की हानि पर बेचा, जिससे कुल मिलाकर 4% का लाभ हुआ। मेज का क्रय मूल्य ज्ञात कीजिए। (निकटतम पूर्णांक तक सही करें)

- Ans
1. ₹1,527
 2. ₹1,225
 3. ₹1,150
 4. ₹1,375

Question ID : 65497836149
Status : Answered
Chosen Option : 1

Q.25 व्यंजक $7 - 1\frac{2}{7}$ of $2\frac{1}{3} \div \frac{3}{7}$ of $\frac{7}{9} + 3$ $(2 - \frac{2}{7} \div \frac{3}{7}$ of $\frac{1}{3})$

को सरल करने पर _____ परिणाम प्राप्त होगा।

Ans 1. -2

2. $\frac{37}{7}$

3. $\frac{48}{7}$

4. 0

Question ID : 65497836147

Status : Answered

Chosen Option : 1

Section : Part D English

Q.1 Select the most appropriate meaning of the given idiom.

Wee hours of the day

Ans 1. Dusk

2. Dawn

3. Noon

4. Midnight

Question ID : 65497836169

Status : Answered

Chosen Option : 3

Q.2 Select the option that can be used as a one-word substitute for the given group of words.

One who has unlimited power

Ans 1. Omnivore

2. Omnipotent

3. Omnipresent

4. Omniscient

Question ID : 65497836172

Status : Answered

Chosen Option : 2

Q.3 Select the most appropriate option to fill in the blank.

Hitopadesha tales are written in a reader-friendly style, which perhaps _____ to their success.

Ans 1. provided

2. contributed

3. supplied

4. arranged

Question ID : 65497836166

Status : Answered

Chosen Option : 2

Q.4 The following sentence has been split into four segments. Identify the segment that contains a grammatical error.

I entered my room / and switch on the lights / but it was / still dark.

- Ans
- 1. still dark
 - 2. but it was
 - 3. and switch on the lights
 - 4. I entered my room

Question ID : 65497836177
Status : Answered
Chosen Option : 3

Q.5 Select the most appropriate meaning of the given idiom.

Chicken hearted

- Ans
- 1. Easily scared
 - 2. Visibly pleased
 - 3. Slightly risky
 - 4. Readily available

Question ID : 65497836167
Status : Answered
Chosen Option : 1

Q.6 Select the correctly spelt word.

- Ans
- 1. Specefyng
 - 2. Spacifyng
 - 3. Specifyng
 - 4. Specifying

Question ID : 65497836162
Status : Answered
Chosen Option : 3

Q.7 Select the option that can be used as a one-word substitute for the given group of words.

That through which light cannot pass

- Ans
- 1. Cloudy
 - 2. Opaque
 - 3. Gloomy
 - 4. Lucid

Question ID : 65497836179
Status : Answered
Chosen Option : 2

Q.8 Select the INCORRECTLY spelt word.

- Ans
- 1. Summary
 - 2. Sumpteus
 - 3. Suffering
 - 4. Sundry

Question ID : 65497836173
Status : Answered
Chosen Option : 2

Q.9 The following sentence has been split into four segments. Identify the segment that contains a grammatical error.

Please ensure / that you covering your face / with a mask / when you go out.

Ans 1. that you covering your face

2. with a mask

3. when you go out

4. Please ensure

Question ID : 65497836170

Status : Answered

Chosen Option : 1

Q.10 The following sentence has been split into four segments. Identify the segment that contains a grammatical error.

He moved on the undergrowth / quickly and silently, / hiding himself / from the enemy.

Ans 1. hiding himself

2. He moved on the undergrowth

3. from the enemy

4. quickly and silently

Question ID : 65497836164

Status : Answered

Chosen Option : 4

Q.11 Select the most appropriate ANTONYM of the given word.

Maintain

Ans 1. Protect

2. Preserve

3. Abandon

4. Sustain

Question ID : 65497836171

Status : Answered

Chosen Option : 3

Q.12 Select the option that will improve the underlined part of the given sentence. In case no improvement is needed, select 'No improvement required'.

One day as mine little sister said she wanted to become an actress, we were shocked.

Ans 1. since mine

2. when my

3. No improvement required

4. that my

Question ID : 65497836180

Status : Answered

Chosen Option : 2

Q.13 Select the most appropriate option that can substitute the underlined segment in the given sentence. If there is no need to substitute it, select 'No substitution required'.

The environment is on threat hedgerows and woodlands are vanishing.

- Ans
- 1. in threat
 - 2. No substitution required
 - 3. under threat
 - 4. into threat

Question ID : 65497836175
Status : Answered
Chosen Option : 3

Q.14 Select the most appropriate option to fill in the blank.

Many students are _____ by the life of great leaders.

- Ans
- 1. inspired
 - 2. involved
 - 3. infected
 - 4. interested

Question ID : 65497836174
Status : Answered
Chosen Option : 1

Q.15 Select the most appropriate ANTONYM of the given word.

REMEMBER

- Ans
- 1. Learn
 - 2. Forget
 - 3. Retain
 - 4. Memorise

Question ID : 65497836176
Status : Answered
Chosen Option : 2

Q.16 Select the option that can be used as a one-word substitute for the given group of words.

Belonging to the middle ages

- Ans
- 1. Modern
 - 2. Primitive
 - 3. Ancient
 - 4. Medieval

Question ID : 65497836168
Status : Answered
Chosen Option : 4

Q.17 Select the most appropriate SYNONYM of the given word.

Appeal

- Ans 1. Charm
 2. Challenge
 3. Bloom
 4. Growth

Question ID : 65497836178
Status : Answered
Chosen Option : 2

Q.18 Select the most appropriate option that can substitute the underlined segment in the given sentence. If there is no need to substitute it, select 'No substitution required'.

I recently visited the school when I studied in Class 10.

- Ans 1. No substitution required
 2. whenever
 3. where
 4. wherever

Question ID : 65497836161
Status : Answered
Chosen Option : 3

Q.19 Select the most appropriate synonym of the given word.

Destroy

- Ans 1. Construct
 2. Demolish
 3. Detach
 4. Rehabilitate

Question ID : 65497836165
Status : Answered
Chosen Option : 2

Q.20 Select the most appropriate option to fill in the blank.

A soft breeze blows as the sun _____ in the distant waters.

- Ans 1. ramifies
 2. glazes
 3. shimmers
 4. basks

Question ID : 65497836163
Status : Answered
Chosen Option : 3

Comprehension:

In the following passage, some words have been deleted. Read the passage carefully and select the most appropriate option to fill in each blank.

On International Women's Day, a large number of 'women of substance' spread (1)_____of their equal status. Women celebrate their achievements and (2)_____their potential. They have made themselves powerful and (3)_____their skills. Today, in every field, women have proved (4)_____by scaling great heights and turning the tide of (5)_____in their favour.

SubQuestion No : 21

Q.21 Select the most appropriate option to fill in blank no. 1.

- Ans
- 1. ignorance
 - 2. arrogance
 - 3. negligence
 - 4. awareness

Question ID : 65497836182

Status : Answered

Chosen Option : 4

Comprehension:

In the following passage, some words have been deleted. Read the passage carefully and select the most appropriate option to fill in each blank.

On International Women's Day, a large number of 'women of substance' spread (1)_____of their equal status. Women celebrate their achievements and (2)_____their potential. They have made themselves powerful and (3)_____their skills. Today, in every field, women have proved (4)_____by scaling great heights and turning the tide of (5)_____in their favour.

SubQuestion No : 22

Q.22 Select the most appropriate option to fill in blank no. 2.

- Ans
- 1. tolerate
 - 2. depreciate
 - 3. recognise
 - 4. deny

Question ID : 65497836183

Status : Answered

Chosen Option : 3

Comprehension:

In the following passage, some words have been deleted. Read the passage carefully and select the most appropriate option to fill in each blank.

On International Women's Day, a large number of 'women of substance' spread (1)_____of their equal status. Women celebrate their achievements and (2)_____their potential. They have made themselves powerful and (3)_____their skills. Today, in every field, women have proved (4)_____by scaling great heights and turning the tide of (5)_____in their favour.

SubQuestion No : 23

Q.23 Select the most appropriate option to fill in blank no. 3.

- Ans
- 1. upgraded
 - 2. demoted
 - 3. downgraded
 - 4. motivated

Question ID : 65497836184

Status : Answered

Chosen Option : 1

Comprehension:

In the following passage, some words have been deleted. Read the passage carefully and select the most appropriate option to fill in each blank.

On International Women's Day, a large number of 'women of substance' spread (1)_____of their equal status. Women celebrate their achievements and (2)_____their potential. They have made themselves powerful and (3)_____their skills. Today, in every field, women have proved (4)_____by scaling great heights and turning the tide of (5)_____in their favour.

SubQuestion No : 24

Q.24 Select the most appropriate option to fill in blank no. 4.

- Ans 1. her
 2. themselves
 3. herself
 4. them

Question ID : 65497836185

Status : Answered

Chosen Option : 2

Comprehension:

In the following passage, some words have been deleted. Read the passage carefully and select the most appropriate option to fill in each blank.

On International Women's Day, a large number of 'women of substance' spread (1)_____of their equal status. Women celebrate their achievements and (2)_____their potential. They have made themselves powerful and (3)_____their skills. Today, in every field, women have proved (4)_____by scaling great heights and turning the tide of (5)_____in their favour.

SubQuestion No : 25

Q.25 Select the most appropriate option to fill in blank no. 5.

- Ans 1. treasure
 2. wealth
 3. hardship
 4. fortune

Question ID : 65497836186

Status : Answered

Chosen Option : 4

Section : Part D Hindi

Q.1 दए गए वा ांश के लए एक श दी जए।

जीतने क इ ा

- Ans 1. जी ग वषा
 2. जुगु ा
 3. जगीषा
 4. अ भ ा

Question ID : 65497836189

Status : Not Answered

Chosen Option : --

Q.2 दिये गये वाक्य के किस भाग में त्रुटि है?

यह दवा रोग को समूल से नष्ट कर देगी।

- Ans 1. समूल से
 2. रोग को
 3. यह दवा
 4. नष्ट कर देगी।

Question ID : 65497836202
Status : Not Answered
Chosen Option : --

Q.3 सही वर्तनी वाले शब्द का चयन करें।

- Ans 1. संग्रहित
 2. संगृहीत
 3. संगृहित
 4. संग्रहीत

Question ID : 65497836188
Status : Not Answered
Chosen Option : --

Q.4 रिक्त स्थान को भरने के लिए सबसे उपयुक्त शब्द का चयन करें।

तलवार का _____ भर जाता है पर बात का नहीं।

- Ans 1. पीड़ा
 2. नाम
 3. घाव
 4. गड्ढा

Question ID : 65497836193
Status : Not Answered
Chosen Option : --

Q.5 निम्नलिखित में से कौन सा समानार्थी शब्दों का युग्म सही नहीं है?

- Ans 1. निशापति - दिवाकर
 2. चंद्र - सुधाकर
 3. राकेश - चांद
 4. शशि - रजनीश

Question ID : 65497836200
Status : Not Answered
Chosen Option : --

Q.6 रिक्त स्थान को भरने के लिए सबसे उपयुक्त विकल्प का चयन करें।

मुझे इस कंपनी में काम करने का पाँच वर्ष का _____ है।

- Ans 1. समय
 2. अभ्यास
 3. अनुभव
 4. प्रयास

Question ID : 65497836201
Status : Not Answered
Chosen Option : --

Q.7 दिए गए शब्द का विलोम चुनें।

अपमान

- Ans 1. अभिमान
 2. सत्कार
 3. सम्मान
 4. स्वाभिमान

Question ID : 65497836197
Status : Not Answered
Chosen Option : --

Q.8 निम्नलिखित प्रश्न में, दिए गए चार विकल्पों में से, उस विकल्प का चयन करें जो मुहाबरे का अर्थ व्यक्त करता है।

हथियार डालना

- Ans 1. शत्रु को मारना
 2. लड़ाई करना
 3. पराजय स्वीकार करना
 4. विजयी होना

Question ID : 65497836198
Status : Not Answered
Chosen Option : --

Q.9 जीवनभर में सत्य का पालन करेंगा।

रेखांकित शब्द के स्थान उचित शब्द लिखिए।

- Ans 1. कभी कभी
 2. एक साल तक
 3. कभी भी
 4. आजीवन

Question ID : 65497836205
Status : Not Answered
Chosen Option : --

Q.10 दिए गए शब्द का समानार्थी शब्द बताइए।

यमुना

- Ans 1. कृष्णा
 2. देवनदी
 3. अलकनंदा
 4. भागीरथी

Question ID : 65497836192
Status : Not Answered
Chosen Option : --

Q.11 दिए गए वाक्य का वो भाग ज्ञात करें जिसमें कोई त्रुटि है। यदि कोई त्रुटि नहीं है, तो 'कोई त्रुटि नहीं है' चुनें।

आज मुझे (1)\ बाज़ार से चादर (2)\ खरीदने है। (3)\ कोई त्रुटि नहीं है (4)

- Ans
- 1. 1
 - 2. 2
 - 3. 4
 - 4. 3

Question ID : 65497836191
Status : Not Answered
Chosen Option : --

Q.12 'किसी पर विजय पाने की इच्छा रखने वाला' वाक्यांश के लिए एक शब्द होगा-

- Ans
- 1. योद्धा
 - 2. शत्रु
 - 3. जिगीषु
 - 4. जिजीविषु

Question ID : 65497836204
Status : Not Answered
Chosen Option : --

Q.13 रिक्त स्थान को भरने के लिए सबसे उपयुक्त शब्द का चयन करें।

बैंक का कर्ज चुकाकर वह _____ हो गया।

- Ans
- 1. खाली
 - 2. उन्मूलन
 - 3. दयनीय
 - 4. संतुष्ट

Question ID : 65497836194
Status : Not Answered
Chosen Option : --

Q.14 सही वर्तनी वाले शब्द का चयन करें।

- Ans
- 1. उज्जल
 - 2. अतीवृष्टि
 - 3. उज्ज्वल
 - 4. वृष्टीपात

Question ID : 65497836187
Status : Not Answered
Chosen Option : --

Q.15 दिए गए वाक्य में रेखांकित खंड को प्रतिस्थापित करने के लिए सबसे उपयुक्त विकल्प का चयन करें। यदि इसे प्रतिस्थापित करने की आवश्यकता नहीं है, तो विकल्प 'किसी बदलाव की आवश्यकता नहीं है' का चयन करें।

हिंदी को भारत की राजभाषा स्वीकृत किये गये हैं।

- Ans
- 1. राजभाषा स्वीकृत की गयी है।
 - 2. राजभाषा स्वीकृत किया गया है।
 - 3. राजभाषा स्वीकृत किये गये हैं।
 - 4. किसी बदलाव की आवश्यकता नहीं है।

Question ID : 65497836190
Status : Not Answered
Chosen Option : --

Q.16 'दूसरों के लिए अपने सुखों का त्याग' वाक्यांश के लिए एक शब्द होगा-

- Ans
- 1. आत्मसमर्पण
 - 2. आदर्शवाद
 - 3. आत्मघाती
 - 4. आत्मोत्सर्ग

Question ID : 65497836206
Status : Not Answered
Chosen Option : --

Q.17 दिए गए वाक्य का वह भाग ज्ञात करें जिसमें कोई त्रुटि है। यदि कोई त्रुटि नहीं है, तो 'कोई त्रुटि नहीं है' चुनें।

कानपुर में रहने वाले उसके चाचा को लड़की हुई है।

- Ans
- 1. कानपुर में रहने वाले
 - 2. कोई त्रुटि नहीं है
 - 3. लड़की हुई है।
 - 4. उसके चाचा को

Question ID : 65497836199
Status : Not Answered
Chosen Option : --

Q.18 दिए गए वाक्य में रेखांकित खंड को प्रतिस्थापित करने के लिए सबसे उपयुक्त विकल्प का चयन करें। यदि इसे प्रतिस्थापित करने की आवश्यकता नहीं है, तो विकल्प 'किसी बदलाव की आवश्यकता नहीं है' का चयन करें।

आपका पत्र सधन्यवाद मिला।

- Ans
- 1. किसी बदलाव की आवश्यकता नहीं है।
 - 2. आपका पत्र मिला। धन्यवाद।
 - 3. धन्यवाद के प्रति आपका पत्र मिला।
 - 4. आपका सधन्यवाद पत्र मिला।

Question ID : 65497836196
Status : Not Answered
Chosen Option : --

Q.19 निम्नलिखित प्रश्न में, दिए गए चार विकल्पों में से, उस विकल्प का चयन करें जो मुहाबरे का अर्थ व्यक्त करता है।

अंश दिखाना

- Ans 1. होश आना
 2. निगरानी करना
 3. विमुख होना
 4. गुस्सा प्रकट करना

Question ID : 65497836195
Status : Not Answered
Chosen Option : --

Q.20 'संक्षिप्त' का विलोम शब्द होगा-

- Ans 1. समेकित
 2. संकुचित
 3. विस्तृत
 4. लिखित

Question ID : 65497836203
Status : Not Answered
Chosen Option : --

Comprehension:

ईर्ष्या (1) _____ लज्जावती वृत्ति है। वह अपने धारणकर्ता अर्थात् स्वामी के सामने भी (2) _____ खोलकर नहीं आती। उसके रूप आदि का पूरा (3) _____ न पाकर भी धारणकर्ता उसकी हरम की बेगमों से अधिक परदा करता है। यह कभी (4) _____ रूप से समाज के सामने नहीं आती। उसका कोई बाहरी (5) _____ धारणकर्ता पर नहीं दिखाई देता।

निम्न प्रश्नों के उत्तर उपरोक्त गद्यांश के आधार पर दीजिए।

SubQuestion No : 21

Q.21 गद्यांश के रिक्त स्थान (1) के लिए सर्वाधिक उपयुक्त शब्द होगा-

- Ans 1. न्यून
 2. अत्यंत
 3. प्रेरक
 4. अनुकरणीय

Question ID : 65497836208
Status : Not Answered
Chosen Option : --

Comprehension:

ईर्ष्या (1) _____ लज्जावती वृत्ति है। वह अपने धारणकर्ता अर्थात् स्वामी के सामने भी (2) _____ खोलकर नहीं आती। उसके रूप आदि का पूरा (3) _____ न पाकर भी धारणकर्ता उसकी हरम की बेगमों से अधिक परदा करता है। यह कभी (4) _____ रूप से समाज के सामने नहीं आती। उसका कोई बाहरी (5) _____ धारणकर्ता पर नहीं दिखाई देता।

निम्न प्रश्नों के उत्तर उपरोक्त गद्यांश के आधार पर दीजिए।

SubQuestion No : 22

Q.22 गद्यांश के रिक्त स्थान (2) के लिए सर्वाधिक उपयुक्त शब्द होगा-

- Ans**
- 1. मुँह
 - 2. गर्दन
 - 3. हाथ
 - 4. पैर

Question ID : 65497836209
Status : Not Answered
Chosen Option : --

Comprehension:

ईर्ष्या (1) _____ लज्जावती वृत्ति है। वह अपने धारणकर्ता अर्थात् स्वामी के सामने भी (2) _____ खोलकर नहीं आती। उसके रूप आदि का पूरा (3) _____ न पाकर भी धारणकर्ता उसकी हरम की बेगमों से अधिक परदा करता है। यह कभी (4) _____ रूप से समाज के सामने नहीं आती। उसका कोई बाहरी (5) _____ धारणकर्ता पर नहीं दिखाई देता।

निम्न प्रश्नों के उत्तर उपरोक्त गद्यांश के आधार पर दीजिए।

SubQuestion No : 23

Q.23 गद्यांश के रिक्त स्थान (3) के लिए सर्वाधिक उपयुक्त शब्द होगा-

- Ans**
- 1. सौन्दर्य
 - 2. आकर्षण
 - 3. मूल्य
 - 4. परिचय

Question ID : 65497836210
Status : Not Answered
Chosen Option : --

Comprehension:

ईर्ष्या (1) _____ लज्जावती वृत्ति है। वह अपने धारणकर्ता अर्थात् स्वामी के सामने भी (2) _____ खोलकर नहीं आती। उसके रूप आदि का पूरा (3) _____ न पाकर भी धारणकर्ता उसकी हरम की बेगमों से अधिक परदा करता है। यह कभी (4) _____ रूप से समाज के सामने नहीं आती। उसका कोई बाहरी (5) _____ धारणकर्ता पर नहीं दिखाई देता।

निम्न प्रश्नों के उत्तर उपरोक्त गद्यांश के आधार पर दीजिए।

SubQuestion No : 24

Q.24 गद्यांश के रिक्त स्थान (4) के लिए सर्वाधिक उपयुक्त शब्द होगा-

- Ans**
- 1. परोक्ष
 - 2. रहस्य
 - 3. प्रत्यक्ष
 - 4. अलौकिक

Question ID : 65497836211
Status : Not Answered
Chosen Option : --

Comprehension:

ई ा (1) _____ ल ावती वृ वह अपने धारणकता अथा त ामी के सामने भी (2) _____ खोलकर नह
ह।
आती। उसके प आ द का पूरा (3) _____ न पाकर भी धारणकता उसक हरम क बेगम से अ धक परदा करता ह।
यह कभी (4) _____ प से समाज के सामने नह आती। उसका कोई बाहरी (5) _____ धारणकता पर नह
दखाई दता।

न के उ र उपरो ग ांश के आधार पर दी जए।

SubQuestion No : 25

Q.25 ग ांश के र ान (5) के लए सवा धक उपयु श

होगा।-Ans 1. ल ण

2. अंग

3. साधन

4. उदाहरण

Question ID : 65497836212

Status : Not Answered

Chosen Option : --

Exam Date	22/11/2021
Exam Time :	4:00 PM - 5:30 PM
Subject	Constable GD 2021

Section : Part A General Intelligence and Reasoning

Q.1 In a certain code language, VOLLEY is written as WpMMfZ, and DON is written as EpO.
How will DENSITY be written in that language?

- Ans
- 1. EFotJUy
 - 2. EEoTjUz
 - 3. FfOtJuZ
 - 4. EfOTjUZ

Question ID : 65497831664

Status : Answered

Chosen Option : 4

Q.2 Select the letter-cluster from among the given options that can replace the question mark (?) in the following series.

NKI, PMK, ROM, ?

- Ans
- 1. TRP
 - 2. TOM
 - 3. SPN
 - 4. TQO

Question ID : 65497831641

Status : Answered

Chosen Option : 4

Q.3 Which two numbers (NOT digits) need to be interchanged to make the following equation correct?

$$3 \times 45 \div 5 + 7 - 12 = 70$$

- Ans
- 1. 3 and 5
 - 2. 5 and 12
 - 3. 5 and 7
 - 4. 3 and 7

Question ID : 65497831647

Status : Answered

Chosen Option : 1

Q.4 Select the option that is related to the third term in the same way as the second term is related to the first term.

TANGY : GZMTB :: PRIEST : ?

- Ans 1. LIRVJG
 2. KIRVHG
 3. KJSVHG
 4. KIRUHF

Question ID : 65497831663

Status : Answered

Chosen Option : 2

Q.5 Select the option in which the given figure is embedded (rotation is NOT allowed).



Ans

- 1.
- 2.
- 3.
- 4.

Question ID : 65497831649

Status : Answered

Chosen Option : 1

Q.6 In a certain code language, KING is coded as 1012810131568. How will ROSE be coded in that language?

- Ans 1. 17191614201864
 2. 19171614192035
 3. 17181416192056
 4. 17191416182046

Question ID : 65497831655

Status : Answered

Chosen Option : 4

Q.7 Select the correct option that indicates the arrangement of the given words in the order in which they appear in an English dictionary.

1. Power
2. Piece
3. Peace
4. Poem
5. Palm

- Ans
- 1. 5, 4, 3, 2, 1
 - 2. 2, 3, 1, 5, 4
 - 3. 1, 2, 3, 4, 5
 - 4. 5, 3, 2, 4, 1

Question ID : 65497831650

Status : Answered

Chosen Option : 4

Q.8 'Honey' is related to 'Bees' in the same way as 'Sugar' is related to '_____'.

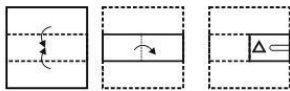
- Ans
- 1. Cake
 - 2. Sugarcane
 - 3. Juicer
 - 4. Sweet

Question ID : 65497831642

Status : Answered

Chosen Option : 2

Q.9 The sequence of folding a piece of paper and the manner in which the folded paper has been cut is shown in the following figures. How would this paper look when unfolded?



- Ans
- 1.
 - 2.
 - 3.
 - 4.

Question ID : 65497831662

Status : Answered

Chosen Option : 1

Q.10 Select the number from among the given options that can replace the question mark (?) in the following series.

6, 8, 20, 50, 106, ?

Ans 1. 212

2. 280

3. 196

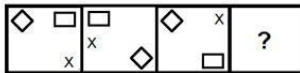
4. 218

Question ID : 65497831656

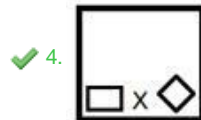
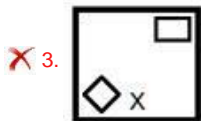
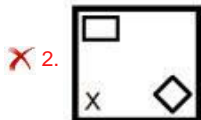
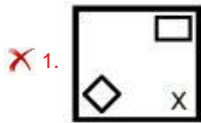
Status : Answered

Chosen Option : 3

Q.11 Select the figure from among the given options that can replace the question mark (?) in the following series.



Ans



Question ID : 65497831653

Status : Answered

Chosen Option : 4

Q.12 At the end of a conference, all the 30 people present shake hands with each other once. How many handshakes will there be altogether?

Ans 1. 60

2. 450

3. 435

4. 300

Question ID : 65497831661

Status : Answered

Chosen Option : 2

Q.13 A, B, C और D नाम के चार मित्र एक सरे राम एक वगैर मजे के चारो ओर बैठे एह। यदि B, A कठीक सामने और D के विकणतः सामने बैठा आ है, तो C के सामने कौन बैठा है?

- Ans
- 1. D
 - 2. A
 - 3. कोई नहीं
 - 4. B

Question ID : 65497831643

Status : Answered

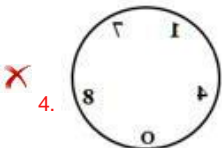
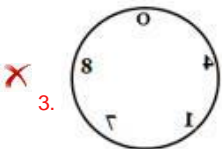
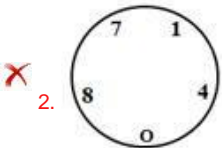
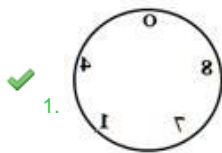
Chosen Option : 1

Select the correct mirror image of the given figure when the mirror is placed to the right side of the figure.

Q.14



Ans



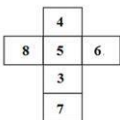
Question ID : 65497831657

Status : Answered

Chosen Option : 1

A cube is made by folding the given sheet. In the cube so formed, which number will be on the face opposite to the face

Q.15 having the number '7'?



Ans

- 1. 4
- 2. 5
- 3. 6
- 4. 8

Question ID : 65497831648

Status : Answered

Chosen Option : 1

Q.16 Study the given pattern carefully and select the number that can replace the question mark (?) in it.

10 13 17
12 11 ?
160 185 235

- Ans 1. 15
 2. 13
 3. 10
 4. 17

Question ID : 65497831660
Status : Answered
Chosen Option : 2

Q.17 Four letter-clusters have been given, out of which three are alike in some manner and one is different. Select the letter-cluster that is different.

- Ans 1. ZTG
 2. IDE
 3. RDN
 4. USB

Question ID : 65497831654
Status : Answered
Chosen Option : 1

Q.18 Identify the number that does NOT belong to the following series.

18, 27, 35, 45, 54

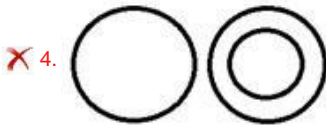
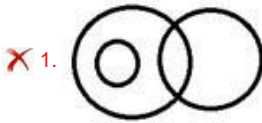
- Ans 1. 18
 2. 45
 3. 54
 4. 35

Question ID : 65497831652
Status : Answered
Chosen Option : 4

Q.19 Select the Venn diagram that best represents the relationship between the following classes.

Police, Males, Husbands

Ans



Question ID : 65497831644

Status : Answered

Chosen Option : 3

Q.20 If Samaira is the daughter of my father's mother's only son, how is Samaira related to me?

Ans 1. Mother

2. Sister

3. Niece

4. Daughter

Question ID : 65497831665

Status : Answered

Chosen Option : 2

Q.21 Read the given statements and conclusions carefully. Assuming that the information given in the statements is true, even if it appears to be at variance with commonly known facts, decide which of the given conclusions logically follow(s) from the statements.

Statements:

All fruits are flowers.

Some fruits are kiwis.

Conclusions:

I. Some flowers are kiwis.

II. All kiwis are fruits.

Ans 1. Only conclusion II follows.

2. Both conclusions I and II follow.

3. Neither conclusion I nor II follows.

4. Only conclusion I follows.

Question ID : 65497831659

Status : Answered

Chosen Option : 4

Q.22 Select the combination of letters that when sequentially placed in the blanks of the given series will complete the series.

BCB BC IB BI

- Ans 1. BCI
 2. BCC
 3. CBI
 4. IBC

Question ID : 65497831651

Status : Answered

Chosen Option : 4

Q.23 Six friends A, B, C, D, E and F, have different heights. A is taller than only C and E. B is shorter than D but D is not the tallest among them. Who is the tallest among them all?

- Ans 1. C
 2. E
 3. A
 4. F

Question ID : 65497831645

Status : Answered

Chosen Option : 4

Q.24 In a certain code language, 'ORACLE' is written as 'HSVUXG' and 'DAVID' is written as 'BVJFB'. How will 'VIDEO' be written in that language?

- Ans 1. JFBGH
 2. GFBJH
 3. JFGBH
 4. JBF GH

Question ID : 65497831658

Status : Answered

Chosen Option : 1

Q.25 Select the option that is related to the third number in the same way as the second number is related to the first number.

6 : 216 :: 8 : ?

- Ans 1. 64
 2. 154
 3. 1024
 4. 512

Question ID : 65497831646

Status : Answered

Chosen Option : 4

Q.1 जीव-जतुओ की सरचना, 4 प और पा रिऽथितक िवतरण के वैािनक अ4यन को ____ कहा जाता है।

- Ans
- 1. जतु िव्यांन (zoology)
 - 2. वन4ित िव्यांन (botany)
 - 3. िछपकली िव्यांन (sauology)
 - 4. नृजाित िव्यांन (ethnology)

Question ID : 65497831674
Status : Answered
Chosen Option : 1

Q.2 Which state has the second-highest number of Lok Sabha seats, after Uttar Pradesh?

- Ans
- 1. Tamil Nadu
 - 2. Andhra Pradesh
 - 3. Bihar
 - 4. Maharashtra

Question ID : 65497831667
Status : Answered
Chosen Option : 3

Q.3 Who is the author of the book 'Exam Warriors'?

- Ans
- 1. Vikram Seth
 - 2. Bibek Debroy
 - 3. Abhishek Manu Singhvi
 - 4. Narendra Modi

Question ID : 65497831680
Status : Answered
Chosen Option : 2

Q.4 मृदा बधन और फसल च , खरपतवार और कीट िनयाण और फसलो की वृिऽ और खाO उ ादन ममह पूण भूमिका िनभाने वाली जलवायु के अ4यन से सबधित िव्यांन ा कहलाता है?

- Ans
- 1. कोशिका िव्यांन (Cytology)
 - 2. कृ िष िव्यांन (Agronomy)
 - 3. शरीर-रचना िव्यांन (Anatomy)
 - 4. घास िव्यांन (Agrostology)

Question ID : 65497831677
Status : Answered
Chosen Option : 2

Q.5 Who among the following was appointed as Goodwill Ambassador of United Nations Development Programme (UNDP) in September 2020?

- Ans
- 1. Yemi Alade
 - 2. Michelle Obama
 - 3. Padma Lakshmi
 - 4. M. Nethra

Question ID : 65497831673
Status : Not Answered
Chosen Option : --

Q.6 As per Census 2011, which of the following states' sex ratio is less than 900?

- Ans 1. Haryana
 2. Assam
 3. Jharkhand
 4. Madhya Pradesh

Question ID : 65497831679
Status : Answered
Chosen Option : 1

Q.7 In which of the following years was the Hindu Widows' Remarriage Act enacted?

- Ans 1. 1856
 2. 1890
 3. 1906
 4. 1934

Question ID : 65497831675
Status : Not Answered
Chosen Option : --

Q.8 People in ancient India believed that when the '_____' ritual was performed with the help of Brahmanas, it led to the rebirth of the sacrificer as a Kshatriya, even if he was not one by birth.

- Ans 1. Samavaj-tana
 2. Upanayana
 3. Medhajanana
 4. Hiranya-garbha

Question ID : 65497831685
Status : Answered
Chosen Option : 4

Q.9 Forty years after disbanding, music group _____ announced its return in September 2021.

- Ans 1. Rolling Stones
 2. Eagles
 3. Led Zeppelin
 4. ABBA

Question ID : 65497831690
Status : Not Answered
Chosen Option : --

Q.10 पृथ्वी की सतह के नीचे सबसे नजदीकी खनिज के वल _____ िया ारा खोदकर िनकाले जासकते जाते ह।

- Ans 1. खुदाई (डिडिलिंग)
 2. उ खन (ॉरीइंग)
 3. कू पकी खनन (शा-4 माइनिंग)
 4. िववृत खनन (ओपन का™ माइनिंग)

Question ID : 65497831682
Status : Answered
Chosen Option : 2

Q.11 The Open Era in tennis began in _____ when the Grand Slam tournaments agreed to allow professional players to compete with amateurs.

- Ans
- 1. 1958
 - 2. 1948
 - 3. 1968
 - 4. 1938

Question ID : 65497831669
Status : Not Answered
Chosen Option : --

Q.12 The Lebang Boomani Dance is part of the folk dance repertoire of which of these Indian states?

- Ans
- 1. Tripura
 - 2. Odisha
 - 3. Maharashtra
 - 4. Kerala

Question ID : 65497831678
Status : Not Answered
Chosen Option : --

Q.13 अपघटित पारिस्थितिकी तंत्र और पारिस्थितिक विधरता के संगठन और पुनर्जनन के माध्यम से एक क्षेत्र के विकास को प्रोत्साहित करने वाली प्रक्रिया को _____ कहा जाता है।

- Ans
- 1. पारिस्थितिक-विकास
 - 2. सामाजिक विकास
 - 3. सामाजिक विधरता
 - 4. उद्योग विकास

Question ID : 65497831671
Status : Answered
Chosen Option : 1

Q.14 When is Women's Entrepreneurship Day observed every year?

- Ans
- 1. 10 October
 - 2. 19 November
 - 3. 25 November
 - 4. 14 September

Question ID : 65497831676
Status : Not Answered
Chosen Option : --

Q.15 Which of the following is awarded to the coaches for producing medal winners at prestigious international sports events?

- Ans
- 1. Dhyan Chand Award
 - 2. Dronacharya Award
 - 3. Rajiv Gandhi Khel Ratna
 - 4. Arjuna Award

Question ID : 65497831683
Status : Answered
Chosen Option : 2

Q.16 The 9th edition of the International Sand Art Festival was organised in December 2020 in:

- Ans 1. Odisha
 2. Tamil Nadu
 3. Maharashtra
 4. Andhra Pradesh

Question ID : 65497831668
Status : Not Answered
Chosen Option : --

Q.17 How many pairs of chromosomes are present in human beings?

- Ans 1. 23
 2. 26
 3. 19
 4. 22

Question ID : 65497831672
Status : Answered
Chosen Option : 1

Q.18 The National Sports University, Imphal is a central university established under an Act passed in the year_____.

- Ans 1. 2014
 2. 2018
 3. 2015
 4. 2019

Question ID : 65497831689
Status : Not Answered
Chosen Option : --

Q.19 What is the percentage hike in defence expenditure in the Budget 2020-2021 as against the allocation in the previous financial year?

- Ans 1. 6.1%
 2. 4.3%
 3. 7.4%
 4. 5.8%

Question ID : 65497831666
Status : Answered
Chosen Option : 4

Q.20 In which of the following years was Sanchi declared as a UNESCO World Heritage Site?

- Ans 1. 1989
 2. 1999
 3. 1967
 4. 2014

Question ID : 65497831670
Status : Not Answered
Chosen Option : --

Q.21 In relation to banking, CTS is an acronym for_____.

- Ans 1. Cheque Truncation System
 2. Corporate Trade Schedule
 3. Credit Transfer Statement
 4. Cash Transaction Scrutiny

Question ID : 65497831686
Status : Answered
Chosen Option : 3

Q.22 Who among the following persons led the 'No Tax Campaign' against the British after the floods in Khera (Khaira/Kaira) in 1918?

- Ans 1. Morarji Desai
 2. Tribhuvandas Patel
 3. Mahadev Desai
 4. Vallabhbhai Patel

Question ID : 65497831688
Status : Answered
Chosen Option : 1

Q.23 In February 2020, the Board of the Reserve Bank of India recommended that its accounting year be changed from_____to April - March.

- Ans 1. September - August
 2. January - December
 3. October - September
 4. July - June

Question ID : 65497831684
Status : Answered
Chosen Option : 4

Q.24 With which of the following games/sports is the William Jones Cup associated?

- Ans 1. Billiards
 2. Basketball
 3. Boxing
 4. Cricket

Question ID : 65497831681
Status : Answered
Chosen Option : 1

Q.25 The_____empire was the first pan-Indian empire that covered most of the Indian subcontinent.

- Ans 1. Chola
 2. Kushan
 3. Mauryan
 4. Gupta

Question ID : 65497831687
Status : Not Answered
Chosen Option : --

Q.1 The ratio of two numbers x and y is $4 : 7$. If 6 is added to x and 7 is subtracted from y , then their ratio becomes $3 : 4$.
What is the difference between x and y ?

- Ans
- 1. 36
 - 2. 30
 - 3. 24
 - 4. 27

Question ID : 65497831709
Status : Answered
Chosen Option : 4

Q.2 The curved surface area of a right circular cylinder of height 14 cm is 176 cm². What is the area (in cm²) of the base of the cylinder? (Take $\pi = \frac{22}{7}$)

- Ans
- 1. $\frac{44}{7}$
 - 2. $\frac{176}{7}$
 - 3. $\frac{66}{7}$
 - 4. $\frac{88}{7}$

Question ID : 65497831711
Status : Answered
Chosen Option : 4

Q.3 7 men can pack 14 boxes in 6 days by working for 7 hours a day. How many days will be required by 14 men to pack 18 boxes, if they work for 9 hours a day?

- Ans
- 1. 2
 - 2. 5
 - 3. 4
 - 4. 3

Question ID : 65497831694
Status : Answered
Chosen Option : 4

Q.4 If HCF of 328 , 451 and 697 is x , then the value of x lies between:

- Ans
- 1. 44 and 48
 - 2. 40 and 44
 - 3. 36 and 40
 - 4. 48 and 52

Question ID : 65497831707
Status : Answered
Chosen Option : 2

Q.5 A sum amounts to ₹9,261 in 3 years at 5% per annum, interest compounded annually. What is the simple interest (in ₹) on the same sum for $3\frac{3}{4}$ years at the same rate of interest?

- Ans**
1. ₹1,350
 2. ₹1,500
 3. ₹1,620
 4. ₹1,560

Question ID : 65497831710
Status : Answered
Chosen Option : 2

Q.6 A sum of ₹10500 amounts to ₹12705 in 2 years at $x\%$ p.a., when the interest is compounded annually. The same sum will amount (in ₹) to what at $2x\%$ p.a. in $1\frac{1}{2}$ years, when interest compounded half yearly?

- Ans**
- ✗ 1. 11297
 - ✗ 2. 17395.75
 - ✓ 3. 13975.50
 - ✗ 4. 19753.25

Question ID : 65497831697
Status : Answered
Chosen Option : 3

Q.7 A person travels equal distances at speeds of 3 km/h, 4 km/h, 5 km/h and 6 km/h, and takes a total time of 3 hours 48 minutes. The total distance (in km) is:

- Ans**
- ✓ 1. 16
 - ✗ 2. 4
 - ✗ 3. 12
 - ✗ 4. 20

Question ID : 65497831695
Status : Answered
Chosen Option : 2

Q.8 Pipes A, B and C can fill a tank in 10, 15 and 18 hours, respectively. A and C are opened for 5 hours, then only pipe A is closed and B is opened at the same time (with C). The total time taken to fill the tank completely is:

- Ans**
- ✗ 1. $3\frac{2}{3}$ hours
 - ✓ 2. $6\frac{9}{11}$ hours
 - ✗ 3. $5\frac{8}{11}$ hours
 - ✗ 4. $2\frac{1}{3}$ hours

Question ID : 65497831715
Status : Answered
Chosen Option : 2

Q.9 If a sum of ₹644 is divided into three parts proportional to $\frac{1}{2} : \frac{2}{3} : \frac{3}{4}$, then the first part will be:

- Ans
1. ₹322
 2. ₹168
 3. ₹280
 4. ₹186

Question ID : 65497831704

Status : Answered

Chosen Option : 2

Q.10 The surface areas of three coterminal faces of a cuboid are 5 cm^2 , 16 cm^2 and 20 cm^2 respectively. Find the volume of the cuboid.

- Ans
1. 45 cm^3
 2. 50 cm^3
 3. 30 cm^3
 4. 40 cm^3

Question ID : 65497831705

Status : Answered

Chosen Option : 4

Q.11 Radha saves 28% of her income. If her expenditure increases by 25% and savings increase by 30%, then by what percentage will her income increase?

- Ans
1. 27.6%
 2. 26.4%
 3. 27%
 4. 25%

Question ID : 65497831708

Status : Answered

Chosen Option : 2

Q.12 A shopkeeper decides to sell a certain item at a certain price. He tags the price on the item by increasing the decided price by 45%. While selling the item, he offers 40% discount. Find how much more or less he gets on the decided price.

- Ans
1. ₹87 less
 2. ₹13 less
 3. ₹87 more
 4. ₹13 more

Question ID : 65497831706

Status : Answered

Chosen Option : 2

Q.13 The average of 37 numbers is 49. The average of the first 21 numbers is 43.8 and that of the last 17 numbers is 55.6. If the 21st number is excluded, then what is the average of the remaining numbers (correct to one decimal place)?

- Ans
- 1. 53.5
 - 2. 48.9
 - 3. 49.7
 - 4. 47.6

Question ID : 65497831691
Status : Answered
Chosen Option : 2

Q.14 Vimala took a loan of ₹7,200 on simple interest for as many years as the rate of interest. If she paid ₹5,832 as interest at the end of the loan period, then the rate of interest is:

- Ans
- 1. 8.5%
 - 2. 9%
 - 3. 12%
 - 4. 8%

Question ID : 65497831701
Status : Answered
Chosen Option : 2

Q.15 Find the value of $9\frac{4}{15} \div \frac{7}{8}$ of $\left(6\frac{1}{5} + 3\frac{2}{5}\right) - \left(\frac{2}{21} + \frac{1}{126}\right)$.

- Ans
- 1. 1
 - 2. 3
 - 3. 10
 - 4. 5

Question ID : 65497831702
Status : Answered
Chosen Option : 1

Q.16 The LCM of two positive numbers is 13 times their HCF. The sum of HCF and LCM is 252. If one number is 54, then the other number is:

- Ans
- 1. 73
 - 2. 78
 - 3. 68
 - 4. 63

Question ID : 65497831698
Status : Answered
Chosen Option : 2

Q.17 Reema sold a suit at a profit of 10.5%. If she had sold it for ₹70 more, then the profit would have been 14%. The initial selling price (in ₹) of the suit is:

- Ans
- 1. 2,350
 - 2. 2,140
 - 3. 2,210
 - 4. 2,280

Question ID : 65497831696
Status : Answered
Chosen Option : 3

Q.18 Out of six numbers A, B, C, D, E and F, the average of first five numbers A, B, C, D and E is greater than the average of last five numbers B, C, D, E and F by 26. The difference between A and F is:

- Ans
- ✓ 1. 130
 - ✗ 2. 125
 - ✗ 3. 140
 - ✗ 4. 120

Question ID : 65497831699
Status : Answered
Chosen Option : 1

Q.19 The value of $72 \div 16 \text{ of } 3 - [28 \div 6 \text{ of } 4 - 20 \div 7 \times (23 - 37) - 41] \times 1\frac{1}{2}$ is:

- Ans
- ✗ 1. 1
 - ✗ 2. $\frac{5}{8}$
 - ✗ 3. $\frac{3}{2}$
 - ✓ 4. $\frac{5}{4}$

Question ID : 65497831713
Status : Answered
Chosen Option : 4

Q.20 In a college election, Seema and Geeta got the votes in the ratio of 4 : 5 of the total valid votes. If 19% are invalid votes out of 15000 votes, then the difference of the votes polled in favour of Seema and Geeta is:

- Ans
- ✗ 1. 1500
 - ✗ 2. 1150
 - ✗ 3. 1800
 - ✓ 4. 1350

Question ID : 65497831693
Status : Answered
Chosen Option : 4

Q.21 Ravi gains 12.5% by selling an article for ₹157.50. If he sells it for ₹147, then what is his loss/gain percentage?

- Ans
- 1. Loss 5%
 - 2. Gain 5%
 - 3. Gain 10.5%
 - 4. Loss 10.5%

Question ID : 65497831714

Status : Answered

Chosen Option : 2

Q.22 Madhu bought 35 kg of sugar for ₹1,470. She sold it at a loss equal to the selling price of 5 kg of it. What is the selling price (in ₹) of 8 kg of sugar?

- Ans
- 1. 296
 - 2. 288
 - 3. 300
 - 4. 294

Question ID : 65497831712

Status : Answered

Chosen Option : 2

Q.23 A train travels from place A to place B at a speed of 90 km/h and returns at a speed of 75 km/h. If it takes a total time of $14\frac{2}{3}$ hours, the distance between the places A and B is:

- Ans
- 1. 600 km
 - 2. 560 km
 - 3. 620 km
 - 4. 580 km

Question ID : 65497831703

Status : Answered

Chosen Option : 1

Q.24 A reduction of $12\frac{1}{2}\%$ in the price of wheat enables a person to buy $2\frac{1}{2}$ kg more for ₹280. Initially, how much wheat (in kg) was the person able to buy?

- Ans
- 1. 15
 - 2. 12.5
 - 3. 17.5
 - 4. 20

Question ID : 65497831692

Status : Answered

Chosen Option : 3

Q.25 A sum of ₹980 is divided among A, B and C such that A gets $\frac{3}{7}$ of B's share and C gets 75% of A's share. The share of C is:

- Ans
- 1. ₹160
 - 2. ₹250
 - 3. ₹180
 - 4. ₹280

Question ID : 65497831700
Status : Answered
Chosen Option : 3

Section : Part D English

Q.1 Select the most appropriate option to fill in the blank.

Radha was extremely _____ about the welfare of her parents.

- Ans
- 1. impatient
 - 2. eager
 - 3. intense
 - 4. anxious

Question ID : 65497831721
Status : Answered
Chosen Option : 4

Q.2 Select the most appropriate ANTONYM of the given word.

Defend

- Ans
- 1. Abandon
 - 2. Tarnish
 - 3. Adjourn
 - 4. Derange

Question ID : 65497831718
Status : Answered
Chosen Option : 2

Q.3 Select the most appropriate option that can substitute the underlined segment in the given sentence. If there is no need to substitute it, select 'No substitution required'.

All the mangoes is sweet; you should try one.

- Ans
- 1. All the mangoes are sweet
 - 2. No substitution required
 - 3. All mangoes sweet
 - 4. All the mangoes sweet

Question ID : 65497831729
Status : Answered
Chosen Option : 1

Q.4 Select the most appropriate option to fill in the blank.

If you do not return my money, I will _____ you to court.

- Ans
- 1. push
 - 2. lift
 - 3. carry
 - 4. drag

Question ID : 65497831731
Status : Answered
Chosen Option : 4

Q.5 The following sentence has been split into four segments. Identify the segment that contains a grammatical error.

These children / are attended / yoga classes / regularly.

- Ans
- 1. yoga classes
 - 2. regularly
 - 3. These children
 - 4. are attended

Question ID : 65497831726
Status : Answered
Chosen Option : 4

Q.6 Select the most appropriate ANTONYM of the given word.

Petty

- Ans
- 1. Quick
 - 2. Dull
 - 3. Big
 - 4. Light

Question ID : 65497831723
Status : Answered
Chosen Option : 3

Q.7 The following sentence has been divided into parts. One of them contains an error. Select the part that contains the error from the given options.

Neither the guests / nor the host / were dressed appropriately / for the party.

- Ans
- 1. Neither the guests
 - 2. were dressed appropriately
 - 3. nor the host
 - 4. for the party

Question ID : 65497831722
Status : Answered
Chosen Option : 2

Q.8 Select the most appropriate option that can substitute the underlined word in the given sentence.

The Maldives is one of the few places in the world where ancient pleasure can be derived from doing nothing.

- Ans
- 1. curt
 - 2. bustling
 - 3. tremendous
 - 4. prosperous

Question ID : 65497831717
Status : Answered
Chosen Option : 3

Q.9 Select the INCORRECTLY spelt word.

- Ans
- 1. Sumptuous
 - 2. Prosperous
 - 3. Pretious
 - 4. Pompous

Question ID : 65497831725
Status : Answered
Chosen Option : 1

Q.10 Select the most appropriate synonym of the given word.

Marvellous

- Ans
- 1. Dangerous
 - 2. Childish
 - 3. Wonderful
 - 4. Innocent

Question ID : 65497831727
Status : Answered
Chosen Option : 3

Q.11 The following sentence has been split into four segments. Identify the segment that contains a grammatical error.

Plants that grow / in deserts / do not requires / much water.

- Ans
- 1. do not requires
 - 2. much water
 - 3. in deserts
 - 4. Plants that grow

Question ID : 65497831733
Status : Answered
Chosen Option : 1

Q.12 Select the option that can be used as a one-word substitute for the given group of words.

One who travels on foot

- Ans 1. Visitor
 2. Traveller
 3. Tourist
 4. Pedestrian

Question ID : 65497831724
Status : Answered
Chosen Option : 4

Q.13 Select the option that can be used as a one-word substitute for the given group of words.

A cage for keeping rabbits

- Ans 1. Hutch
 2. Lair
 3. Apiary
 4. Kennel

Question ID : 65497831735
Status : Answered
Chosen Option : 3

Q.14 Select the option that can be used as a one-word substitute for the given group of words.

A spider's home

- Ans 1. Hole
 2. Den
 3. Cobweb
 4. Hive

Question ID : 65497831716
Status : Answered
Chosen Option : 4

Q.15 Select the INCORRECTLY spelt word.

- Ans 1. Drainage
 2. Opening
 3. Spoonful
 4. Vegetable

Question ID : 65497831720
Status : Answered
Chosen Option : 4

Q.16 Select the most appropriate meaning of the given idiom.

Not breathe a word

- Ans 1. To be quiet not knowing what to say
 2. To be quiet because you are angry
 3. To decide not to talk to someone
 4. To remain silent about some secret

Question ID : 65497831730

Status : Answered

Chosen Option : 1

Q.17 Select the most appropriate meaning of the given idiom.

To give up the ghost

- Ans 1. To pretend to be a ghost
 2. To scare away a ghost
 3. To stop working
 4. To speak lies

Question ID : 65497831728

Status : Answered

Chosen Option : 3

Q.18 Select the most appropriate SYNONYM of the given word.

Choke

- Ans 1. Hack
 2. Block
 3. Slash
 4. Chop

Question ID : 65497831734

Status : Answered

Chosen Option : 2

Q.19 Select the most appropriate option to fill in the blank.

Social distancing should be practiced in _____ with other everyday preventive actions.

- Ans 1. comprehension
 2. understanding
 3. arrangement
 4. combination

Question ID : 65497831719

Status : Answered

Chosen Option : 1

Q.20 Select the option that will improve the underlined part of the given sentence. In case no improvement is needed, select 'No improvement required'.

Please walk carefully unless you should hurt yourself.

- Ans 1. or you might
 2. No improvement required
 3. unless you will
 4. so you should

Question ID : 65497831732

Status : Answered

Chosen Option : 3

Comprehension:

In the following passage, some words have been deleted. Read the passage carefully and select the most appropriate option to fill in each blank.

Consumption of junk and fast food is the main (1)_____of obesity in teenagers. Large intake of high-calorie and low-nutrient food leads to (2)_____weight gain. A number of health issues arise out of it. Obesity can also result in (3)_____problems like low self-esteem and low confidence. It can also lead to laziness and inactiveness among teens. Junk food and soft drinks should be (4)_____with lots of fruits, vegetables and whole grains in the diet. The best way to control obesity is to do (5)_____physical exercise.

SubQuestion No : 21

Q.21 Select the most appropriate option to fill in blank no. 1.

- Ans 1. result
 2. effect
 3. cause
 4. event

Question ID : 65497831737

Status : Answered

Chosen Option : 3

Comprehension:

In the following passage, some words have been deleted. Read the passage carefully and select the most appropriate option to fill in each blank.

Consumption of junk and fast food is the main (1)_____of obesity in teenagers. Large intake of high-calorie and low-nutrient food leads to (2)_____weight gain. A number of health issues arise out of it. Obesity can also result in (3)_____problems like low self-esteem and low confidence. It can also lead to laziness and inactiveness among teens. Junk food and soft drinks should be (4)_____with lots of fruits, vegetables and whole grains in the diet. The best way to control obesity is to do (5)_____physical exercise.

SubQuestion No : 22

Q.22 Select the most appropriate option to fill in blank no. 2.

- Ans 1. insignificant
 2. unnecessary
 3. irrelevant
 4. necessary

Question ID : 65497831738

Status : Answered

Chosen Option : 2

Comprehension:

In the following passage, some words have been deleted. Read the passage carefully and select the most appropriate option to fill in each blank.

Consumption of junk and fast food is the main (1) _____ of obesity in teenagers. Large intake of high-calorie and low-nutrient food leads to (2) _____ weight gain. A number of health issues arise out of it. Obesity can also result in (3) _____ problems like low self-esteem and low confidence. It can also lead to laziness and inactiveness among teens. Junk food and soft drinks should be (4) _____ with lots of fruits, vegetables and whole grains in the diet. The best way to control obesity is to do (5) _____ physical exercise.

SubQuestion No : 23

Q.23 Select the most appropriate option to fill in blank no. 3.

- Ans
- 1. physiological
 - 2. psychological
 - 3. political
 - 4. mental

Question ID : 65497831739

Status : Answered

Chosen Option : 2

Comprehension:

In the following passage, some words have been deleted. Read the passage carefully and select the most appropriate option to fill in each blank.

Consumption of junk and fast food is the main (1) _____ of obesity in teenagers. Large intake of high-calorie and low-nutrient food leads to (2) _____ weight gain. A number of health issues arise out of it. Obesity can also result in (3) _____ problems like low self-esteem and low confidence. It can also lead to laziness and inactiveness among teens. Junk food and soft drinks should be (4) _____ with lots of fruits, vegetables and whole grains in the diet. The best way to control obesity is to do (5) _____ physical exercise.

SubQuestion No : 24

Q.24 Select the most appropriate option to fill in blank no. 4.

- Ans
- 1. altered
 - 2. exchanged
 - 3. placed
 - 4. substituted

Question ID : 65497831740

Status : Answered

Chosen Option : 4

Comprehension:

In the following passage, some words have been deleted. Read the passage carefully and select the most appropriate option to fill in each blank.

Consumption of junk and fast food is the main (1) _____ of obesity in teenagers. Large intake of high-calorie and low-nutrient food leads to (2) _____ weight gain. A number of health issues arise out of it. Obesity can also result in (3) _____ problems like low self-esteem and low confidence. It can also lead to laziness and inactiveness among teens. Junk food and soft drinks should be (4) _____ with lots of fruits, vegetables and whole grains in the diet. The best way to control obesity is to do (5) _____ physical exercise.

SubQuestion No : 25

Q.25 Select the most appropriate option to fill in blank no. 5.

- Ans
- 1. unsystematic
 - 2. formal
 - 3. regular
 - 4. irregular

Question ID : 65497831741

Status : Answered

Chosen Option : 3

Q.1 'जिस पर आ मण हो' वा ाश के िलए एक

श होगा- Ans 1. आ ात

2. आततायी

3. आ ामक

4. आ ाता

Question ID : 65497831761

Status : Not Answered

Chosen Option : --

Q.2 िदए गए वा म रे खािकत खड को ितऽथािपत करने के िलए सबसे उपयुऽ िवक का चयन कर। यदि इसे ितऽथािपत करने की आवऽकता नही है, तो िवक 'िकसी बदलाव की आवऽकता नही है' का चयन कर।

आप ठीक कहते हो।

Ans 1. है

2. ह

3. िकसी बदलाव की आवऽकता नही है।

4. हो

Question ID : 65497831754

Status : Not Answered

Chosen Option : --

Q.3 िदये गये वा के िकस भाग म ाडिट है?

झट्ट बोलना पाप है।

Ans 1. है।

2. बोलना

3. पाप

4. झट्ट

Question ID : 65497831757

Status : Not Answered

Chosen Option : --

Q.4 उस िवक का चयन कीिजए जो िन मुहावरे का अथ ऽ करता है।

घर की मुग दाल बराबर

Ans 1. लाभ के ऽथान पर हािनि

2. अऽधिक कजूस

3. घर की वऽु को मह देना

4. घर की वऽु को तु समझना

Question ID : 65497831752

Status : Not Answered

Chosen Option : --

Q.5 दिए गए वाक्य में रेखांकित खंड को प्रतिस्थापित करने के लिए सबसे उपयुक्त विकल्प का चयन करें।
यदि इसे प्रतिस्थापित करने की आवश्यकता नहीं है, तो विकल्प 'किसी बदलाव की आवश्यकता नहीं है'
का चयन करें।

सीता की मुखचंद्र देखकर राम भी खिल उठे।

- Ans
- 1. सीता का मुखचंद्र
 - 2. सीता के मुखचंद्र
 - 3. किसी बदलाव की आवश्यकता नहीं है
 - 4. सीता जीके मुखचंद्र

Question ID : 65497831743
Status : Not Answered
Chosen Option : --

Q.6 दिये गये वाक्यांश के लिए एक शब्द दीजिये।

जो प्राणी जमीन पर रहता हो

- Ans
- 1. नभचर
 - 2. थलचर
 - 3. जलचर
 - 4. जमीनी

Question ID : 65497831751
Status : Not Answered
Chosen Option : --

Q.7 सही वर्तनी वाले शब्द का चयन करें।

- Ans
- 1. मन्तव्य
 - 2. मतव्य
 - 3. मनत्वय
 - 4. मनतव्य

Question ID : 65497831747
Status : Not Answered
Chosen Option : --

Q.8 दिये गये वाक्य के किस भाग में त्रुटि है?

पत्र किसके नाम पर लिखा गया है?

- Ans
- 1. पत्र किसके
 - 2. गया है?
 - 3. नाम पर
 - 4. लिखा

Question ID : 65497831759
Status : Not Answered
Chosen Option : --

Q.9 दिए गए वाक्य में रेखांकित खंड को प्रतिस्थापित करने के लिए सबसे उपयुक्त विकल्प का चयन करें।
यदि इसे प्रतिस्थापित करने की आवश्यकता नहीं है, तो विकल्प 'किसी बदलाव की आवश्यकता नहीं है'
का चयन करें।

आवश्यक कार्य में व्यस्त रहने के कारण मुझे अवकाश नहीं मिले।

- Ans
- 1. व्यस्त रहने के कारण मुझे अवकाश नहीं मिली।
 - 2. व्यस्त रहने के कारण मुझे अवकाश नहीं मिला।
 - 3. व्यस्त रहते के कारण मुझे अवकाश नहीं मिला।
 - 4. किसी बदलाव की आवश्यकता नहीं है।

Question ID : 65497831746
Status : Not Answered
Chosen Option : --

Q.10 'विफल' का विलोम शब्द होगा-

- Ans
- 1. निष्फल
 - 2. सफल
 - 3. प्रफुल्ल
 - 4. असफल

Question ID : 65497831760
Status : Not Answered
Chosen Option : --

Q.11 रिक्त स्थान की पूर्ति के लिए सबसे उपयुक्त शब्द का चयन कीजिए।

घोड़ा बीच में ही _____ गया।

- Ans
- 1. अड़
 - 2. टोक
 - 3. डट
 - 4. चल

Question ID : 65497831742
Status : Not Answered
Chosen Option : --

Q.12 सही वर्तनी वाले शब्द का चयन करें।

- Ans
- 1. नीनिमेष
 - 2. निर्निमेष
 - 3. निनिमेष
 - 4. निनिर्मेष

Question ID : 65497831748
Status : Not Answered
Chosen Option : --

Q.13 रिक्त स्थान की पूर्ति के लिए सबसे उपयुक्त विकल्प का चयन करें।

पत्र का उत्तर शीघ्र देने की _____ करें।

- Ans
- 1. दया
 - 2. अनुकंपा
 - 3. करुणा
 - 4. कृपा

Question ID : 65497831756
Status : Not Answered
Chosen Option : --

Q.14 दिए गए शब्द का विलोम चुनें।

ऊपरलिखित

- Ans
- 1. स्वलिखित
 - 2. पूर्वलिखित
 - 3. परलिखित
 - 4. निम्नलिखित

Question ID : 65497831749
Status : Not Answered
Chosen Option : --

Q.15 रिक्त स्थान की पूर्ति के लिए सबसे उपयुक्त विकल्प का चयन करें।

जो _____ करता है उसका सर्वनाश हो जाता है।

- Ans
- 1. गर्व
 - 2. घमंड
 - 3. गौरव
 - 4. सम्मान

Question ID : 65497831755
Status : Not Answered
Chosen Option : --

Q.16 दिए गए शब्द के समानार्थी शब्द का चयन कीजिए।

पर्वत

- Ans
- 1. नग
 - 2. भूय
 - 3. इषु
 - 4. द्रुम

Question ID : 65497831745
Status : Not Answered
Chosen Option : --

Q.17 उस विकल्प का चयन कीजिए जो निम्न मुहावरे का अर्थ व्यक्त करता है।

लँगोटी में फाग खेलना

- Ans
- 1. काम खराब कर देना
 - 2. दुःख सहते जाना
 - 3. दरिद्रता में आनन्द लूटना
 - 4. लड़ने को तैयार होना

Question ID : 65497831750
Status : Not Answered
Chosen Option : --

Q.18 'सरोवर' का पर्यायवाची है-

- Ans
- 1. बादल
 - 2. समुद्र
 - 3. तालाब
 - 4. कमल

Question ID : 65497831758
Status : Not Answered
Chosen Option : --

Q.19 दिये गये वाक्यांश के लिए एक शब्द दीजिये।

जिसके - समान दूसरा न हो

- Ans
- 1. असीम
 - 2. अद्भुत
 - 3. अद्वितीय
 - 4. अनत

Question ID : 65497831753
Status : Not Answered
Chosen Option : --

Q.20 दिए गए वाक्य का वह भाग ज्ञात करें जिसमें कोई त्रुटि है। यदि कोई त्रुटि नहीं है, तो 'कोई त्रुटि नहीं' विकल्प को चुनें।

विद्यार्थियों ने प्रधानमंत्री को अभिनदन-पत्र अर्पित की।

- Ans
- 1. प्रधानमंत्री को
 - 2. विद्यार्थियों ने
 - 3. अभिनदन-पत्र अर्पित की।
 - 4. कोई त्रुटि नहीं

Question ID : 65497831744
Status : Not Answered
Chosen Option : --

Comprehension:

संस्कृति की रचना और अभिव्यक्ति कला के माध्यम से होती है और भारतीय कला का यह (1) _____ है कि वह यूरोप की कलात्मक भंगिमाओं से (2) _____ नहीं बिठा सकती। बहुत प्राचीन काल में, यूनानी कला का सम्मिश्रण भारतीय (3) _____ से हुआ था। परिणामस्वरूप गांधार - कला का (4) _____ हुआ। किंतु वह भारत में टिक नहीं सकी, क्योंकि वह अ भारतीय थी, क्योंकि भारत की (5) _____ अपने को इस मिश्रित कला के भीतर से व्यक्त नहीं कर सकती थी।

निम्न प्रश्नों के उत्तर उपरोक्त गद्यांश के आधार पर दीजिए।

SubQuestion No : 21

Q.21 गद्यांश के रिक्त स्थान (1) के लिए सर्वाधिक उपयुक्त शब्द होगा-

- Ans 1. दोष
 2. स्वभाव
 3. विचार
 4. प्रभाव

Question ID : 65497831763
Status : Not Answered
Chosen Option : --

Comprehension:

संस्कृति की रचना और अभिव्यक्ति कला के माध्यम से होती है और भारतीय कला का यह (1) _____ है कि वह यूरोप की कलात्मक भंगिमाओं से (2) _____ नहीं बिठा सकती। बहुत प्राचीन काल में, यूनानी कला का सम्मिश्रण भारतीय (3) _____ से हुआ था। परिणामस्वरूप गांधार - कला का (4) _____ हुआ। किंतु वह भारत में टिक नहीं सकी, क्योंकि वह अ भारतीय थी, क्योंकि भारत की (5) _____ अपने को इस मिश्रित कला के भीतर से व्यक्त नहीं कर सकती थी।

निम्न प्रश्नों के उत्तर उपरोक्त गद्यांश के आधार पर दीजिए।

SubQuestion No : 22

Q.22 गद्यांश के रिक्त स्थान (2) के लिए सर्वाधिक उपयुक्त शब्द होगा-

- Ans 1. सामजस्य
 2. मेलजोल
 3. गठबंधन
 4. वैमनस्य

Question ID : 65497831764
Status : Not Answered
Chosen Option : --

Comprehension:

संस्कृति की रचना और अभिव्यक्ति कला के माध्यम से होती है और भारतीय कला का यह (1) _____ है कि वह यूरोप की कलात्मक भंगिमाओं से (2) _____ नहीं बिठा सकती। बहुत प्राचीन काल में, यूनानी कला का सम्मिश्रण भारतीय (3) _____ से हुआ था। परिणामस्वरूप गांधार - कला का (4) _____ हुआ। किंतु वह भारत में टिक नहीं सकी, क्योंकि वह अ भारतीय थी, क्योंकि भारत की (5) _____ अपने को इस मिश्रित कला के भीतर से व्यक्त नहीं कर सकती थी।

निम्न प्रश्नों के उत्तर उपरोक्त गद्यांश के आधार पर दीजिए।

SubQuestion No : 23

Q.23 गद्यांश के रिक्त स्थान (3) के लिए सर्वाधिक उपयुक्त शब्द होगा-

- Ans 1. कला
 2. नृत्य
 3. संगीत
 4. कविता

Question ID : 65497831765
Status : Not Answered
Chosen Option : --

Comprehension:

संस्कृति की रचना और अभिव्यक्ति कला के माध्यम से होती है और भारतीय कला का यह (1) _____ है कि वह यूरोप की कलात्मक भूमिकाओं से (2) _____ नहीं बिठा सकती। बहुत प्राचीन काल में, यूनानी कला का सम्मिश्रण भारतीय (3) _____ से हुआ था। परिणामस्वरूप गांधार - कला का (4) _____ हुआ। किंतु वह भारत में टिक नहीं सकी, क्योंकि वह अश्वत्थी थी, क्योंकि भारत की (5) _____ अपने को इस मिश्रित कला के भीतर से व्यक्त नहीं कर सकती थी।

निम्न प्रश्नों के उत्तर उपरोक्त गद्यांश के आधार पर दीजिए।

SubQuestion No : 24

Q.24 गद्यांश के रिक्त स्थान (4) के लिए सर्वाधिक उपयुक्त शब्द होगा-

- Ans 1. जन्म
 2. अनुसंधान
 3. आविष्कार
 4. खोज

Question ID : 65497831766

Status : **Not Answered**

Chosen Option : --

Comprehension:

संस्कृति की रचना और अभिव्यक्ति कला के माध्यम से होती है और भारतीय कला का यह (1) _____ है कि वह यूरोप की कलात्मक भूमिकाओं से (2) _____ नहीं बिठा सकती। बहुत प्राचीन काल में, यूनानी कला का सम्मिश्रण भारतीय (3) _____ से हुआ था। परिणामस्वरूप गांधार - कला का (4) _____ हुआ। किंतु वह भारत में टिक नहीं सकी, क्योंकि वह अश्वत्थी थी, क्योंकि भारत की (5) _____ अपने को इस मिश्रित कला के भीतर से व्यक्त नहीं कर सकती थी।

निम्न प्रश्नों के उत्तर उपरोक्त गद्यांश के आधार पर दीजिए।

SubQuestion No : 25

Q.25 गद्यांश के रिक्त स्थान (5) के लिए सर्वाधिक उपयुक्त शब्द होगा-

- Ans 1. चिता
 2. इच्छा
 3. परमात्मा
 4. आत्मा

Question ID : 65497831767

Status : **Not Answered**

Chosen Option : --