

**SSC
GD**

**Previous Year Paper
25 Nov 2021 Shift 1**

Exam Date	25/11/2021
Exam Time :	9:00 AM - 10:30 AM
Subject	Constable GD 2021

Section : Part A General Intelligence and Reasoning

Q.1 Four letter-clusters have been given, out of which three are alike in some manner and one is different. Select the letter-cluster that is different.

- Ans 1. NPLR
 2. YAWD
 3. SUQW
 4. PRNT

Question ID : 65497832546
Status : Answered
Chosen Option : 2

Q.2 Presently Suman is four times as old as her son. Five years ago, she was seven times as old as her son. What is the age of her son?

- Ans 1. 11 years
 2. 10 years
 3. 16 years
 4. 12 years

Question ID : 65497832540
Status : Answered
Chosen Option : 2

Q.3

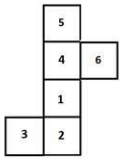
Select the set of classes the relationship among which is best illustrated by the given Venn diagram.



- Ans 1. Mercury, Planets, Venus
 2. Businessmen, Scientists, Singers
 3. Spinach, Vegetables, Peach
 4. Women, Swimmers, Men

Question ID : 65497832545
Status : Answered
Chosen Option : 4

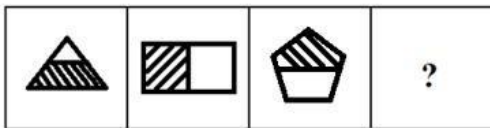
Q.4 A cube is made by folding the given sheet. In the cube so formed, select the number that will be on the face opposite the face showing the number '4'.



- Ans
- 1. 2
 - 2. 3
 - 3. 6
 - 4. 5

Question ID : 65497832552
 Status : Answered
 Chosen Option : 1

Q.5 Select the figure that will replace the question mark (?) in the following figure series:



- Ans
- 1.
 - 2.
 - 3.
 - 4.

Question ID : 65497832536
 Status : Answered
 Chosen Option : 1

Q.6 Select the correct option that indicates the arrangement of the given words in the order in which they appear in an English dictionary.

1. Nervous
2. Nobility
3. Nebulizer
4. Nominate
5. Nitrogen

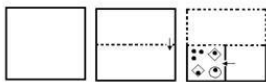
- Ans
- 1. 3, 4, 2, 5, 1
 - 2. 3, 1, 5, 2, 4
 - 3. 3, 5, 1, 2, 4
 - 4. 3, 1, 2, 5, 4

Question ID : 65497832533

Status : Answered

Chosen Option : 2

Q.7 The sequence of folding a piece of paper and the manner in which the folded paper has been cut is shown in the following figures. How would this paper look when unfolded?



Ans

- 1.
- 2.
- 3.
- 4.

Question ID : 65497832541

Status : Answered

Chosen Option : 3

Q.8 In a certain code language, 'FALSE' is coded as '2141588'. How will 'CHOICE' be coded in that language?

- Ans
- 1. 24191812248
 - 2. 6181921288
 - 3. 24181924128
 - 4. 6191812822

Question ID : 65497832547

Status : Not Answered

Chosen Option : --

Q.9 Select the number from among the given options that can replace the question mark (?) in the following series.

1, 8, 81, ?, 15625

Ans 1. 1015

2. 1225

3. 1227

4. 1024

Question ID : 65497832535

Status : Answered

Chosen Option : 4

Q.10 Select the option that is related to the third letter-cluster in the same way as the second letter-cluster is related to the first letter-cluster.

CNK : JUR :: FJL : ?

Ans 1. NPR

2. MQS

3. OSU

4. KOQ

Question ID : 65497832530

Status : Answered

Chosen Option : 2

Q.11 Select the number from among the given options that can replace the question mark (?) in the following series.

2, 10, 30, ?, 130

Ans 1. 68

2. 65

3. 70

4. 75

Question ID : 65497832549

Status : Answered

Chosen Option : 1

Q.12 If 'A' denotes 'addition', 'B' denotes 'multiplication', 'C' denotes 'subtraction', and 'D' denotes 'division', then what will be the value of the following expression?

483 D 23 A 93 C 16 B 4C (15 B 2)

Ans 1. 30

2. 78

3. 20

4. 55

Question ID : 65497832551

Status : Answered

Chosen Option : 3

Q.13 Select the correct mirror image of the given combination when the mirror is placed at PQ as shown.



- Ans
- 1.
 - 2.
 - 3.
 - 4.

Question ID : 65497832554
 Status : Answered
 Chosen Option : 2

Q.14 Read the given statements and conclusions carefully. Assuming that the information given in the statements is true, even if it appears to be at variance with commonly known facts, decide which of the given conclusions logically follow(s) from the statements.

Statements:
 All pens are pencils.
 Some markers are pencils.

Conclusions:
 I. All pens are markers.
 II. Some pens are markers.

- Ans
- 1. Only conclusion II follows
 - 2. None of the conclusions follow
 - 3. Only conclusion I follows
 - 4. Both the conclusions follow

Question ID : 65497832538
 Status : Answered
 Chosen Option : 2

Q.15 Select the option in which the given figure is embedded (rotation is NOT allowed).



- Ans
- 1.
 - 2.
 - 3.
 - 4.

Question ID : 65497832553
 Status : Answered
 Chosen Option : 1

Q.16 In a certain code language, 'LUCKNOW' is written as 'CULKWON' and 'UDAIPUR' is written as 'ADUIRUP'. How will 'GWALIOR' be written in that language?

- Ans
- 1. WGLAROI
 - 2. AGWLRIO
 - 3. AWGROIL
 - 4. AWGLROI

Question ID : 65497832531
Status : Answered
Chosen Option : 4

Q.17 Select the letter-cluster from among the given options that can replace the question mark (?) in the following series.

EIM, QUY, CGK, ?

- Ans
- 1. DHL
 - 2. LPT
 - 3. SWA
 - 4. OSW

Question ID : 65497832542
Status : Answered
Chosen Option : 4

Q.18 Study the given pattern carefully and select the number that can replace the question mark (?) in it.

34 18 43

47 ? 28

71 33 61

- Ans
- 1. 42
 - 2. 25
 - 3. 35
 - 4. 19

Question ID : 65497832539
Status : Answered
Chosen Option : 2

Q.19 Select the option that is related to the third number in the same way as the second number is related to the first number and the sixth number is related to the fifth number.

11 : 77 :: 12 : ? :: 14 : 119

- Ans
- 1. 90
 - 2. 97
 - 3. 83
 - 4. 79

Question ID : 65497832550
Status : Answered
Chosen Option : 1

Q.20 Nisha, who is Dileep's daughter, says to Deveshi, "Your mother Ritu is the younger sister of my father, who is the second child of Krishna". How is Krishna related to Deveshi?

- Ans
- 1. Paternal grandfather
 - 2. Father-in-law
 - 3. Father
 - 4. Maternal grandfather

Question ID : 65497832532

Status : Answered

Chosen Option : 4

Q.21 Seven doctors, S, T, U, V, X, Y and Z, are sitting around a round table, facing towards the centre, for a case study. Y is sitting third to the right of Z and between S and X. Z is sitting second to the right of U. V is sitting third to the left of X. Two doctors are sitting between Y and V. Based on the given information, which of the following statements is correct?


- Ans
- 1. Z is sitting between T and X.
 - 2. S is sitting fourth to the left of T.
 - 3. U is sitting to the immediate right of V.
 - 4. Four doctors are sitting between Y and Z.

Question ID : 65497832548

Status : Answered

Chosen Option : 2

Q.22 Study the given pattern carefully and select the letter that can replace the question mark (?) in it.



- Ans
- 1. T
 - 2. V
 - 3. U
 - 4. S

Question ID : 65497832534

Status : Answered

Chosen Option : 1

Q.23 M, N, L, O, Q and H are sitting in a row. Q and H are in the centre. M and N are at the ends. L is sitting to the left of N. Who is to the right of M?

- Ans
- 1. N
 - 2. O
 - 3. L
 - 4. Q

Question ID : 65497832544

Status : Answered

Chosen Option : 2

Q.24 In a certain code language, 'nuk me xil' means 'lit this light', 'ki me to' means 'the bright light', and 'nuk ki yun' means 'this is bright'. What will be the code for 'lit' in that language?

- Ans
- 1. nuk
 - 2. yun
 - 3. xil
 - 4. me

Question ID : 65497832537
Status : Answered
Chosen Option : 3

Q.25 Cataract is related to 'Eye' in the same way as Meniere's disease is related to _____.

- Ans
- 1. Nose
 - 2. Mouth
 - 3. Teeth
 - 4. Ear

Question ID : 65497832543
Status : Answered
Chosen Option : 1

Section : Part B General Knowledge and General Awareness

Q.1 The difference between the total revenue and total expenditure of the government is called _____.

- Ans
- 1. fiscal deficit
 - 2. budgetary deficit
 - 3. deflation
 - 4. primary deficit

Question ID : 65497832561
Status : Answered
Chosen Option : 4

Q.2 Who among the following is NOT a hockey player?

- Ans
- 1. Ajit Singh
 - 2. Manu Bhaker
 - 3. Deepika Thakur
 - 4. Akashdeep Singh

Question ID : 65497832578
Status : Answered
Chosen Option : 2

Q.3 In which macaronic language was a fourteenth-century text, the Lilatilakam, written?

- Ans
- 1. Rekhta
 - 2. Brāhmī
 - 3. Manipravalam
 - 4. Mozakhraf

Question ID : 65497832566
Status : Answered
Chosen Option : 3

Q.4 According to the Public Affairs Index 2020, which among the following has been adjudged the best governed state in the country in the large states category?

- Ans 1. Kerala
 2. Uttar Pradesh
 3. Odisha
 4. Rajasthan

Question ID : 65497832568
Status : Answered
Chosen Option : 1

Q.5 Which of the following books is NOT authored by Shashi Tharoor?

- Ans 1. The Hindu Way: An Introduction to Hinduism (2019)
 2. An Era of Darkness: The British Empire in India (2016)
 3. Making India Awesome (2015)
 4. The Paradoxical Prime Minister (2018)

Question ID : 65497832575
Status : Answered
Chosen Option : 3

Q.6 The human eye is like a camera. Its lens system forms an image on a light sensitive screen called the _____.

- Ans 1. cornea
 2. iris
 3. retina
 4. pupil

Question ID : 65497832572
Status : Answered
Chosen Option : 3

Q.7 Which of the following is an example of primary activity of the economic sector of India?

- Ans 1. Forestry
 2. Transport
 3. Communication
 4. Cloth weaving

Question ID : 65497832577
Status : Answered
Chosen Option : 1

Q.8 Federalism is one of the key features of the Constitution of India, under which:

- Ans 1. The head of the government is also head of the state
 2. states draw their authority from the Parliament
 3. all persons in India are governed by laws and policies made by the Judiciary only
 4. states are agents of the Federal government

Question ID : 65497832567
Status : Answered
Chosen Option : 4

Q.9 In India, National Epilepsy Day 2020 was celebrated on:

- Ans 1. 17 November
 2. 28 November
 3. 25 November
 4. 1 November

Question ID : 65497832564
Status : Answered
Chosen Option : 4

Q.10 _____ is the science that studies the structure of the body.

- Ans 1. Anatomy
 2. Cytology
 3. Palynology
 4. Palaeobotany

Question ID : 65497832562
Status : Answered
Chosen Option : 1

Q.11 Who among the following was PETA India's Person of the year 2019?

- Ans 1. Virat Kohli
 2. Sonam Kapoor
 3. Anushka Sharma
 4. PV Sindhu

Question ID : 65497832574
Status : Answered
Chosen Option : 3

Q.12 Which of the following countries will host the 2022 Asian Games?

- Ans 1. Indonesia
 2. China
 3. Japan
 4. South Korea

Question ID : 65497832576
Status : Answered
Chosen Option : 4

Q.13 Anopheles is a _____ which carries the parasite of malaria.

- Ans 1. female mosquito
 2. housefly
 3. male mosquito
 4. spider

Question ID : 65497832571
Status : Answered
Chosen Option : 1

Q.14 Which of the following countries hosted the 13th BRICS Summit in 2021?

- Ans 1. India
 2. China
 3. Russia
 4. Brazil

Question ID : 65497832560
Status : Answered
Chosen Option : 3

Q.15 The _____ is the final authority of making laws in any democratic country.

- Ans 1. Prime Minister
 2. Parliament
 3. Law Minister
 4. President

Question ID : 65497832559
Status : Answered
Chosen Option : 2

Q.16 Kulik Bird Sanctuary is located in which of the following states?

- Ans 1. Andhra Pradesh
 2. Maharashtra
 3. Madhya Pradesh
 4. West Bengal

Question ID : 65497832556
Status : Answered
Chosen Option : 1

Q.17 Holt Mackenzie and Robert Mertins Bird introduced:

- Ans 1. The Mahalwari System
 2. The Ryotwari System
 3. The Doctrine of Lapse
 4. The Permanent Settlement

Question ID : 65497832563
Status : Answered
Chosen Option : 4

Q.18 During which of the following national movements in Bengal was a tricolour flag designed?

- Ans 1. Khilafat Movement
 2. Civil Disobedience Movement
 3. Swadeshi Movement
 4. Quit India Movement

Question ID : 65497832558
Status : Answered
Chosen Option : 3

Q.19 As of July 2021, the Ayushman Bharat Pradhan Mantri Jan Arogya Yojana (AB-PM-JAY) was NOT implemented in the state of _____.

- Ans 1. West Bengal
 2. Karnataka
 3. Punjab
 4. Gujarat

Question ID : 65497832579
Status : Answered
Chosen Option : 1

Q.20 Which of the following festivals is celebrated during the Amavasya of the Kartik month?

- Ans 1. Govardhan puja
 2. Dhanteras
 3. Raksha Bandhan
 4. Diwali

Question ID : 65497832570
Status : Answered
Chosen Option : 4

Q.21 When a good is produced by exploiting natural resources, it falls in the category of:

- Ans 1. mining industry
 2. service sector
 3. agriculture sector
 4. industrial sector

Question ID : 65497832565
Status : Answered
Chosen Option : 4

Q.22 What is NOT a specific feature of commercial farming as against subsistence farming?

- Ans 1. It is mainly practiced in lesser developed countries
 2. Most of the work is done by machines
 3. The amount of capital used is large
 4. Crops are grown for sale in the market

Question ID : 65497832573
Status : Answered
Chosen Option : 1

Q.23 How many times have Mumbai Indians won the IPL title till its 2020 edition?

- Ans 1. 4
 2. 2
 3. 3
 4. 5

Question ID : 65497832555
Status : Answered
Chosen Option : 1

Q.24 The Bengal tiger was adopted as 'The national animal of India' in the year _____.

- Ans
- 1. 1978
 - 2. 1974
 - 3. 1976
 - 4. 1972

Question ID : 65497832569
Status : Answered
Chosen Option : 4

Q.25 Who among the following was the last Mughal Emperor?

- Ans
- 1. Shah Jahan
 - 2. Aurangzeb
 - 3. Akbar
 - 4. Bahadur Shah II

Question ID : 65497832557
Status : Answered
Chosen Option : 4

Section : Part C Elementary Mathematics

Q.1 P and Q can together finish a work in 21 days. They worked together for 12 days and Q left. After that, P finished the remaining work in 15 days. In how many days P alone can finish the work?

- Ans
- 1. 28 days
 - 2. 35 days
 - 3. 19 days
 - 4. 24 days

Question ID : 65497832594
Status : Answered
Chosen Option : 2

Q.2 The average height of 23 boys is 1.2 m. When 3 boys leave the group, then the average height increases by 0.15 m. What is the average height of the 3 boys who leave?

- Ans
- 1. 0.5 m
 - 2. 0.2 m
 - 3. 0.45 m
 - 4. 0.6 m

Question ID : 65497832597
Status : Answered
Chosen Option : 2

Q.3 A shopkeeper gives 10% discount on the cost of rice. A buyer could purchase 5 kg more rice for ₹720. Find the selling price of rice per kg.

- Ans**
1. ₹19
 2. ₹12
 3. ₹16
 4. ₹18

Question ID : 65497832598
Status : Answered
Chosen Option : 4

Q.4 An express train travelled at an average speed of 120 km/h, stopping for 4 min after every 80 km. How long did it take to reach its destination at the distance of 720 km from the starting point?

- Ans**
- ✗ 1. 5 h 45 min
 - ✗ 2. 7 h 15 min
 - ✓ 3. 6 h 32 min
 - ✗ 4. 5 h 24 min

Question ID : 65497832595
Status : Answered
Chosen Option : 3

Q.5 The cost of levelling a circular park at ₹6.50 per m^2 is ₹36,036. What is the cost (in ₹) of putting a fence around it at ₹18 per m? (Take $\pi = \frac{22}{7}$)

- Ans**
1. 3,960
 2. 4,752
 3. 4,644
 4. 4,716

Question ID : 65497832604
Status : Answered
Chosen Option : 2

Q.6 The value of $20 - [7 - \{4 - (8 - \overline{6 + 3})\}]$ is:

- Ans**
- ✗ 1. 20
 - ✗ 2. 2
 - ✗ 3. 16
 - ✓ 4. 18

Question ID : 65497832587
Status : Answered
Chosen Option : 4

Q.7 An article was sold at $\frac{5}{8}$ of its cost price. The loss per cent is:

- Ans
- 1. 35
 - 2. 27.5
 - 3. 37.5
 - 4. 32

Question ID : 65497832585
Status : Answered
Chosen Option : 3

Q.8 By what percentage is one-third of 90 lesser than three-eighths of 160?

- Ans
- 1. 45%
 - 2. 50%
 - 3. 60%
 - 4. 25%

Question ID : 65497832593
Status : Answered
Chosen Option : 2

Q.9 The sum of three numbers is 172. If the ratio of the first number to the second number is 3 : 5 and that of the second number to the third number is 7 : 6, then find the first number.

- Ans
- 1. 42
 - 2. 30
 - 3. 40
 - 4. 58

Question ID : 65497832600
Status : Answered
Chosen Option : 1

Q.10 What is the least five-digit number that is exactly divisible by 21, 35, and 56?

- Ans
- 1. 10000
 - 2. 10040
 - 3. 10920
 - 4. 10080

Question ID : 65497832589
Status : Answered
Chosen Option : 4

Q.11 A, B and C can complete a piece of work individually in $7\frac{1}{2}$ days, 15 days and 30 days, respectively. A and B start working but A quits the job after 3 days. Then C joined B and both did the work till the completion of the work. In how many days will the whole work be completed?

- Ans**
1. 12 days
 2. 7 days
 3. 8 days
 4. 6 days

Question ID : 65497832586

Status : Answered

Chosen Option : 2

Q.12 Two numbers are in the ratio 8 : 5. If 17 is subtracted from the first number and 25 is added to the second number, then the ratio becomes 1 : 3. What is the sum of the two numbers?

- Ans**
1. 13
 2. 39
 3. 52
 4. 65

Question ID : 65497832580

Status : Answered

Chosen Option : 3

Q.13 If the two numbers are, respectively, 20% and 30% less than a third number, then what percentage of the first number is the second number?

- Ans**
1. 87.5%
 2. 90.5%
 3. 85.5%
 4. 101.5%

Question ID : 65497832590

Status : Answered

Chosen Option : 1

Q.14 The amount obtained by investing a certain sum in $4\frac{3}{4}$ years at 12% p.a. at simple interest is ₹2,175 more than the simple interest on the same sum in 11 years at the same rate. The sum (in ₹) is:

- Ans**
1. 8,400
 2. 8,700
 3. 8,000
 4. 8,500

Question ID : 65497832603

Status : Answered

Chosen Option : 2

Q.15 The value of $\frac{5}{14} \div 5\frac{3}{7}$ of $\frac{7}{19} - \left(\frac{3}{4} - \frac{4}{7}\right)$ is:

- Ans 1. 0
 2. 5
 3. 10
 4. 1

Question ID : 65497832584
Status : Answered
Chosen Option : 1

Q.16 23 oranges were bought for ₹193.20 and sold at the rate of ₹108 per dozen. Find the profit percentage correct to one decimal place.

- Ans 1. 5.9%
 2. 8.4%
 3. 7.1%
 4. 4.5%

Question ID : 65497832582
Status : Answered
Chosen Option : 3

Q.17 A cyclist covers a distance of 17 km in 2 h. His speed (in km/h) is:

- Ans 1. 8
 2. 8.5
 3. 7.5
 4. 6.5

Question ID : 65497832588
Status : Answered
Chosen Option : 2

Q.18 A sum of ₹1,800 gives a simple interest of ₹360 in 3 years 4 months. The rate of interest per annum is:

- Ans 1. 8%
 2. 10%
 3. 6%
 4. 12%

Question ID : 65497832601
Status : Answered
Chosen Option : 1

Q.19 A wall clock is listed at ₹1,200 and the discount offered is 10%. What additional discount must be given to bring the net selling price to ₹945?

- Ans 1. 10%
 2. 12.5%
 3. 9.25%
 4. 15%

Question ID : 65497832592
Status : Answered
Chosen Option : 2

Q.20 The average salary of all the workers in an organisation is ₹9,000. The average salary of 8 technicians is ₹14,000 and the average salary of the rest is ₹5,000. Find the total number of workers in the organisation.

- Ans
- 1. 18
 - 2. 15
 - 3. 20
 - 4. 23

Question ID : 65497832591
Status : Answered
Chosen Option : 1

Q.21 A person bought a table and a chair for ₹2,200. He sold the table at a gain of 15% and the chair at a loss of 5%, thereby gaining 4% on the whole. Find the cost of the table.

- Ans
- 1. ₹1,125
 - 2. ₹1,050
 - 3. ₹1,200
 - 4. ₹990

Question ID : 65497832599
Status : Answered
Chosen Option : 4

Q.22 A certain sum amounts to ₹9,900 in 4 years and to ₹11,700 in 7 years at the same rate per cent per annum at simple interest. What will be the amount (in ₹) of the same sum at $9\frac{2}{3}\%$ for $2\frac{1}{4}$ years at simple interest?

- Ans
- 1. 9,541.50
 - 2. 9,165.75
 - 3. 10,000.00
 - 4. 9,131.25

Question ID : 65497832583
Status : Answered
Chosen Option : 4

Q.23 The ratio of two numbers a and b is 5 : 8. If 5 is subtracted from a and 3 is added to b, then the ratio becomes 8 : 15. What is the difference between the two original numbers?

- Ans
- 1. 24
 - 2. 36
 - 3. 30
 - 4. 27

Question ID : 65497832602
Status : Answered
Chosen Option : 4

Q.24 The sum of two numbers is 35 and the HCF and LCM of these numbers are 5 and 60, respectively. Find the sum of the reciprocals of the numbers.

Ans

1. $\frac{3}{25}$

2. $\frac{4}{15}$

3. $\frac{7}{60}$

4. $\frac{5}{60}$

Question ID : 65497832596

Status : Answered

Chosen Option : 3

Q.25 A cylindrical tank is 80 cm in diameter and 5.6 m in height. The cost (in ₹) of painting the curved surface of the tank at the rate of ₹20/m² is:

(Take $\pi = \frac{22}{7}$)

Ans

1. 281.60

2. 301.80

3. 321.20

4. 261.40

Question ID : 65497832581

Status : Answered

Chosen Option : 1

Section : Part D English

Q.1 Select the option that can be used as a one-word substitute for the given group of words.

The branch of biology that deals with the relations of organisms to one another and to their physical surroundings.

Ans

1. Anthropology

2. Ecology

3. Gerontology

4. Morphology

Question ID : 65497832618

Status : Answered

Chosen Option : 2

Q.2 Select the most appropriate option to fill in the blank.

It is a disorder that manifests usually in middle _____.

Ans

1. ages

2. age

3. life

4. year

Question ID : 65497832622

Status : Answered

Chosen Option : 2

Q.3 Parts of the given sentence have been given as options. One of them contains a grammatical error. Select the option that has the error.

Lack of calcium in human body usually leads against several health complications.

- Ans 1. leads against
 2. several health complications
 3. Lack of calcium
 4. in human body

Question ID : 65497832616
Status : Answered
Chosen Option : 1

Q.4 The following sentence has been split into four segments. Identify the segment that contains a grammatical error.

Sharada was cooking lunch / when I am going / to give her / the mobile phone.

- Ans 1. Sharada was cooking lunch
 2. to give her
 3. the mobile phone
 4. when I am going

Question ID : 65497832605
Status : Answered
Chosen Option : 4

Q.5 Select the most appropriate meaning of the given idiom.

Having a soft spot for

- Ans 1. Being too ridiculous
 2. Having soft skin
 3. Being fond of
 4. Being angry

Question ID : 65497832615
Status : Answered
Chosen Option : 3

Q.6 Select the most appropriate ANTONYM of the given word.

Ignorance

- Ans 1. Knowledge
 2. Truth
 3. Innocence
 4. Virtue

Question ID : 65497832619
Status : Answered
Chosen Option : 1

Q.7 Select the option that can be used as a one-word substitute for the given group of words.

Someone who buys and sells goods in large amounts to shops and businesses

Ans 1. Wholesaler

2. Merchant

3. Supplier

4. Dealer

Question ID : 65497832608

Status : Answered

Chosen Option : 1

Q.8 Select the most appropriate synonym of the given word.

Coincidence

Ans 1. Extent

2. Accent

3. Chance

4. Incident

Question ID : 65497832617

Status : Answered

Chosen Option : 3

Q.9 Select the most appropriate option that can substitute the underlined segment in the given sentence. If there is no need to substitute it, select 'No substitution required'.

Leopards and cats are belong to the same family of animals.

Ans 1. No substitution required

2. belong

3. belongs

4. belonging

Question ID : 65497832624

Status : Answered

Chosen Option : 2

Q.10 Select the option that will improve the underlined part of the sentence. In case no improvement is needed, select 'No improvement required'.

Neglected for a long time, the ancient monument needs immediate restoration.

Ans 1. Neglecting from a long time

2. No improvement required

3. Having neglect for a long time

4. Neglected in the long time

Question ID : 65497832609

Status : Answered

Chosen Option : 2

Q.11 Select the most appropriate option to fill in the blank.

An important _____ of education is to develop character.

- Ans
- 1. scheme
 - 2. purpose
 - 3. means
 - 4. image

Question ID : 65497832610
Status : Answered
Chosen Option : 2

Q.12 Select the most appropriate meaning of the given idiom.

To be on pins and needles

- Ans
- 1. To be in an agitated state of suspense
 - 2. To sit on a box of pins
 - 3. To be attacked from both sides
 - 4. To avoid making a decision

Question ID : 65497832620
Status : Answered
Chosen Option : 1

Q.13 Select the most appropriate option that can substitute the underlined segment in the given sentence. If there is no need to substitute it, select 'No substitution required'.

Mala's voice is much more melodious to Gita.

- Ans
- 1. much more melodious than Gita's
 - 2. much melodious to Gita's
 - 3. much more melodious to Gita's
 - 4. No substitution required

Question ID : 65497832606
Status : Answered
Chosen Option : 1

Q.14 The following sentence has been split into four segments. Identify the segment that contains a grammatical error.

The eldest / prince is / the heir / of the throne.

- Ans
- 1. of the throne
 - 2. The eldest
 - 3. the heir
 - 4. prince is

Question ID : 65497832611
Status : Answered
Chosen Option : 1

Q.15 Select the most appropriate option to fill in the blank.

He was in _____ of the costumes for the play.

- Ans 1. charge
 2. care
 3. duty
 4. responsibility

Question ID : 65497832623
Status : Answered
Chosen Option : 1

Q.16 Select the most appropriate ANTONYM of the given word.

Damage

- Ans 1. Hurt
 2. Ruin
 3. Harm
 4. Mend

Question ID : 65497832612
Status : Answered
Chosen Option : 4

Q.17 Select the option that can be used as a one-word substitute for the given group of words.

One who cannot be changed or reformed

- Ans 1. Invincible
 2. Inevitable
 3. Incapable
 4. Incurable

Question ID : 65497832613
Status : Answered
Chosen Option : 4

Q.18 Select the INCORRECTLY spelt word.

- Ans 1. Magnificent
 2. Gregarious
 3. Commitment
 4. Persuasion

Question ID : 65497832614
Status : Answered
Chosen Option : 1

Q.19 Select the INCORRECTLY spelt word.

- Ans 1. Unassuming
 2. Unflappable
 3. Unruffled
 4. Unanimous

Question ID : 65497832621
Status : Answered
Chosen Option : 4

Q.20 Select the most appropriate synonym of the given word.

Mirth

- Ans 1. Delight
 2. Joint
 3. Scene
 4. View

Question ID : 65497832607

Status : Answered

Chosen Option : 1

Comprehension:

In the following passage, some words have been deleted. Read the passage carefully and select the most appropriate option to fill in each blank.

A tic is a repeated, impulsive action, which an actor feels powerless (1)_____or avoid. Only when the individual performs the tic, is tension and anxiety (2)_____, within the individual with a tic disorder. Tics can be (3)_____by an emotional state or sensation, and can happen for no obvious reason. General types of tics (4)_____verbal tics, facial tics and (5)_____muscular tics.

SubQuestion No : 21

Q.21 Select the most appropriate option to fill in blank number 1.

- Ans 1. controls
 2. controlling
 3. to control
 4. controlled

Question ID : 65497832626

Status : Answered

Chosen Option : 3

Comprehension:

In the following passage, some words have been deleted. Read the passage carefully and select the most appropriate option to fill in each blank.

A tic is a repeated, impulsive action, which an actor feels powerless (1)_____or avoid. Only when the individual performs the tic, is tension and anxiety (2)_____, within the individual with a tic disorder. Tics can be (3)_____by an emotional state or sensation, and can happen for no obvious reason. General types of tics (4)_____verbal tics, facial tics and (5)_____muscular tics.

SubQuestion No : 22

Q.22 Select the most appropriate option to fill in blank number 2.

- Ans 1. modified
 2. stored
 3. added
 4. released

Question ID : 65497832627

Status : Answered

Chosen Option : 2

Comprehension:

In the following passage, some words have been deleted. Read the passage carefully and select the most appropriate option to fill in each blank.

A tic is a repeated, impulsive action, which an actor feels powerless (1)_____or avoid. Only when the individual performs the tic, is tension and anxiety (2)_____, within the individual with a tic disorder. Tics can be (3)_____by an emotional state or sensation, and can happen for no obvious reason. General types of tics (4)_____verbal tics, facial tics and (5)_____muscular tics.

SubQuestion No : 23

Q.23 Select the most appropriate option to fill in blank number 3.

- Ans 1. done
 2. began
 3. triggered
 4. elicited

Question ID : 65497832628
Status : Answered
Chosen Option : 4

Comprehension:

In the following passage, some words have been deleted. Read the passage carefully and select the most appropriate option to fill in each blank.

A tic is a repeated, impulsive action, which an actor feels powerless (1)_____or avoid. Only when the individual performs the tic, is tension and anxiety (2)_____, within the individual with a tic disorder. Tics can be (3)_____by an emotional state or sensation, and can happen for no obvious reason. General types of tics (4)_____verbal tics, facial tics and (5)_____muscular tics.

SubQuestion No : 24

Q.24 Select the most appropriate option to fill in blank number 4.

- Ans 1. include
 2. included
 3. including
 4. includes

Question ID : 65497832629
Status : Answered
Chosen Option : 1

Comprehension:

In the following passage, some words have been deleted. Read the passage carefully and select the most appropriate option to fill in each blank.

A tic is a repeated, impulsive action, which an actor feels powerless (1)_____or avoid. Only when the individual performs the tic, is tension and anxiety (2)_____, within the individual with a tic disorder. Tics can be (3)_____by an emotional state or sensation, and can happen for no obvious reason. General types of tics (4)_____verbal tics, facial tics and (5)_____muscular tics.

SubQuestion No : 25

Q.25 Select the most appropriate option to fill in blank number 5.

- Ans 1. the other
 2. others
 3. another
 4. other

Question ID : 65497832630
Status : Answered
Chosen Option : 4

Q.1 र 4 5थान की पूरित के लिए सबसे उपयु 4 विक का चयन कर।

मले रया एक _____ है।

- Ans 1. दुख
 2. 4ेश
 3. आध
 4. Dािध

Question ID : 65497832650

Status : Not Answered

Chosen Option : --

Q.2 दिदये गये वा म रे खािकत अश को ित5थािपत करने के लिए सबसे उपयु 4 विक का चयन कर।

सरकार ने कलाकार को पुर ार अिपत िकया।

- Ans 1. दान
 2. स ािनत
 3. िनगत
 4. दान

Question ID : 65497832649

Status : Not Answered

Chosen Option : --

Q.3 ेक काय को फू क फू क कर करना चािहए।

रे खािकत मुहावरे का अथ 4

कीिजए- Ans 1. ज ी से काय
करना

2. िकसी को काय करने को दे ना
 3. अ ी तरह से सोचकर काय करना
 4. काय करने म आलस करना

Question ID : 65497832645

Status : Not Answered

Chosen Option : --

Q.4 दिदए गए वा का वह भाग ात कर िजसम कोई Tुिटि है। यदि कोई Tुिटि नही है, तो 'कोई Tुिटि नही है'चुन।

सूखा पड़ने (1)\ का कारण इस बार (2)\ फसल कम है (3)\ कोई Tुिटि नही है

- (4)Ans 1. 1
 2. 4
 3. 2
 4. 3

Question ID : 65497832631

Status : Not Answered

Chosen Option : --

Q.5 अशु 5 वतनी को

पहचांिनए- Ans 1.

पड़ीिसन

- 2. चरमोषक
- 3. झडा
- 4. आजीविका

Question ID : 65497832646

Status : Not Answered

Chosen Option : --

Q.6 िदए गए श के िवलोलम श का चयन कर-

क ण

Ans 1. मधुर

2. ne

3. िन4ठुर

4. दयालु

Question ID : 65497832634

Status : Not Answered

Chosen Option : --

Q.7 शु5 श को पहचांिनए-

Ans 1. ोढ़

2. ाती

3. कु मुदिनी

4. कापवकरम

Question ID : 65497832647

Status : Not Answered

Chosen Option : --

Q.8 िदए गए श का िवलोलम चुन।

गमन

Ans 1. 3थान

2. आगमन

3. आना

4. जाना

Question ID : 65497832639

Status : Not Answered

Chosen Option : --

Q.9 िदए गए श का समानाथ श बताइए-

वानर

Ans 1. मधुकर

2. क्प

3. गज

4. मनुज

Question ID : 65497832632

Status : Not Answered

Chosen Option : --

Q.10 दिए गए वाक्य में रेखांकित खंड को प्रतिस्थापित करने के लिए सबसे उपयुक्त विकल्प का चयन करें।
यदि इसे प्रतिस्थापित करने की आवश्यकता नहीं है, तो विकल्प 'किसी बदलाव की आवश्यकता नहीं है'
का चयन करें।

यह कहानी महादेवी वर्मा द्वारा लिखी है।

Ans 1. द्वारा लिखी गयी है।

2. से लिखी है।

3. किसी बदलाव की आवश्यकता नहीं है।

4. द्वारा लिखा गया है।

Question ID : 65497832638

Status : Not Answered

Chosen Option : --

Q.11 रिक्त स्थान की पूर्ति के लिए सबसे उपयुक्त शब्द का चयन करें।

पुस्तकें, _____ का सशक्त माध्यम हैं।

Ans 1. जानने

2. ज्ञानप्राप्ति

3. सुज्ञानप्राप्त

4. समझ

Question ID : 65497832637

Status : Not Answered

Chosen Option : --

Q.12 आँख में कौन गिर गया - त्रुटि का परिचय दीजिए-

Ans 1. क्रिया की

2. विशेषण की

3. सर्वनाम की

4. सज्ञा की

Question ID : 65497832643

Status : Not Answered

Chosen Option : --

Q.13 उस विकल्प का चयन करें जो निम्न मुहावरे का सही अर्थ व्यक्त करता है।

ढाक के तीन पात

Ans 1. अव्यवस्थित होना

2. निस्सार बातें करना

3. व्यर्थ प्रशंसा करना

4. सदा एक ही दशा में रहना

Question ID : 65497832640

Status : Not Answered

Chosen Option : --

Q.14 दिए गए वाक्य का वह भाग ज्ञात करें जिसमें कोई त्रुटि है। यदि कोई त्रुटि नहीं है, तो 'कोई त्रुटि नहीं है' चुनें।

स्त्री जाति के (1) कल्याण के लिए (2) एक योजना बना था। (3) कोई त्रुटि नहीं है (4)

- Ans
- 1. 4
 - 2. 2
 - 3. 1
 - 4. 3

Question ID : 65497832633
Status : Not Answered
Chosen Option : --

Q.15 'गोद लिया हुआ पुत्र' वाक्यांश के लिए एक शब्द होगा-

- Ans
- 1. पाल्य
 - 2. तनय
 - 3. दत्तक
 - 4. अनुज

Question ID : 65497832648
Status : Not Answered
Chosen Option : --

Q.16 दिए गये वाक्यांश के लिए एक शब्द है-

जिसका कोई अंग बेकार हो गया हो-

- Ans
- 1. वध्य
 - 2. कुपोषित
 - 3. विकलांग
 - 4. अनाथ

Question ID : 65497832636
Status : Not Answered
Chosen Option : --

Q.17 दिए गए वाक्य में रेखांकित खंड को प्रतिस्थापित करने के लिए सबसे उपयुक्त विकल्प का चयन करें। यदि इसे प्रतिस्थापित करने की आवश्यकता नहीं है, तो विकल्प 'किसी बदलाव की आवश्यकता नहीं है' का चयन करें।

आज से उसका लक्ष्य केवल विद्या प्राप्ति होगी।

- Ans
- 1. शेष विद्या प्राप्ति होगी।
 - 2. मात्र विद्या प्राप्ति होगी।
 - 3. किसी बदलाव की आवश्यकता नहीं है।
 - 4. केवल विद्या प्राप्ति होगा।

Question ID : 65497832642
Status : Not Answered
Chosen Option : --

Q.18 रिक्त स्थान की पूर्ति के लिए सबसे उपयुक्त शब्द का चयन करें।

यह _____ का विषय है कि हमारे देश में अनेक महापुरुष हुए।

- Ans
- 1. दुर्भाग्य
 - 2. उपेक्षित
 - 3. गर्व
 - 4. सामान्य

Question ID : 65497832641
Status : Not Answered
Chosen Option : --

Q.19 विहग - रेखांकित शब्द का पर्यायवाची कौन-सा शब्द नहीं है-

- Ans
- 1. पछी
 - 2. पक्षी
 - 3. केहरी
 - 4. खग

Question ID : 65497832644
Status : Not Answered
Chosen Option : --

Q.20 दिए गये वाक्यांश के लिए एक शब्द है-

जो एक ही माता के उदर से उत्पन्न हुए हो-

- Ans
- 1. लम्बोदर
 - 2. समआयु
 - 3. समवयस्क
 - 4. सहोदर

Question ID : 65497832635
Status : Not Answered
Chosen Option : --

Comprehension:

दिए गए गद्यांश में से कुछ शब्द हटा दिए गए हैं। संबंधित प्रश्नों में प्रत्येक सख्या के लिए सबसे उपयुक्त विकल्प का चयन करें।

नारियल खाना जितना अच्छा लगता है, उतना ही (1) _____ होता है इसे पेड़ से तोड़ना। नारियल के ऊँचे सीधे खड़े पेड़ तक पहुँचना (2) _____ खीर है। जान जोखिम में डालकर नारियल तोड़ने का काम करने वाले को बदले में (3) _____ भी बहुत कम मिलती है। इतनी (4) _____ से गिरकर कई लोग जान भी गँवा चुके हैं। केरल में अब लोग बदर पाल रहे हैं। उन्हें नारियल तोड़ने के लिए (5) _____ दिया जा रहा है। हमारे देश में बदरो की कमी नहीं है। उन्हें नारियल तोड़कर लाने की ट्रेनिंग देने के लिए स्कूल भी खोले गए हैं।

SubQuestion No : 21

Q.21 गद्यांश के रिक्त स्थान (1) के लिए सर्वाधिक उपयुक्त शब्द होगा-

- Ans
- 1. कठिन
 - 2. सरल
 - 3. सहज
 - 4. आवश्यक

Question ID : 65497832652
Status : Not Answered
Chosen Option : --

Comprehension:

दिए गए गद्यांश में से कुछ शब्द हटा दिए गए हैं। संबंधित प्रश्नों में प्रत्येक सख्या के लिए सबसे उपयुक्त विकल्प का चयन करें।

नारियल खाना जितना अच्छा लगता है, उतना ही (1) _____ होता है इसे पेड़ से तोड़ना। नारियल के ऊँचे सीधे खड़े पेड़ तक पहुँचना (2) _____ खीर है। जान जोखिम में डालकर नारियल तोड़ने का काम करने वालों को बदले में (3) _____ भी बहुत कम मिलती है। इतनी (4) _____ से गिरकर कई लोग जान भी गँवा चुके हैं। केरल में अब लोग बदर पाल रहे हैं। उन्हें नारियल तोड़ने के लिए (5) _____ दिया जा रहा है। हमारे देश में बदरो की कमी नहीं है। इन्हें नारियल तोड़कर लाने की ट्रेनिंग देने के लिए स्कूल भी खोले गए हैं।

SubQuestion No : 22

Q.22 गद्यांश के रिक्त स्थान (2) के लिए सर्वाधिक उपयुक्त शब्द होगा-

- Ans
- 1. सीधी
 - 2. टेढ़ी
 - 3. उल्टी
 - 4. लम्बी

Question ID : 65497832653

Status : Not Answered

Chosen Option : --

Comprehension:

दिए गए गद्यांश में से कुछ शब्द हटा दिए गए हैं। संबंधित प्रश्नों में प्रत्येक सख्या के लिए सबसे उपयुक्त विकल्प का चयन करें।

नारियल खाना जितना अच्छा लगता है, उतना ही (1) _____ होता है इसे पेड़ से तोड़ना। नारियल के ऊँचे सीधे खड़े पेड़ तक पहुँचना (2) _____ खीर है। जान जोखिम में डालकर नारियल तोड़ने का काम करने वालों को बदले में (3) _____ भी बहुत कम मिलती है। इतनी (4) _____ से गिरकर कई लोग जान भी गँवा चुके हैं। केरल में अब लोग बदर पाल रहे हैं। उन्हें नारियल तोड़ने के लिए (5) _____ दिया जा रहा है। हमारे देश में बदरो की कमी नहीं है। इन्हें नारियल तोड़कर लाने की ट्रेनिंग देने के लिए स्कूल भी खोले गए हैं।

SubQuestion No : 23

Q.23 गद्यांश के रिक्त स्थान (3) के लिए सर्वाधिक उपयुक्त शब्द होगा-

- Ans
- 1. नारियल
 - 2. मज़दूरी
 - 3. उन्नति
 - 4. प्रशंसा

Question ID : 65497832654

Status : Not Answered

Chosen Option : --

Comprehension:

दिए गए गद्यांश में से कुछ शब्द हटा दिए गए हैं। संबंधित प्रश्नों में प्रत्येक सख्या के लिए सबसे उपयुक्त विकल्प का चयन करें।

नारियल खाना जितना अच्छा लगता है, उतना ही (1) _____ होता है इसे पेड़ से तोड़ना। नारियल के ऊँचे सीधे खड़े पेड़ तक पहुँचना (2) _____ खीर है। जान जोखिम में डालकर नारियल तोड़ने का काम करने वालों को बदले में (3) _____ भी बहुत कम मिलती है। इतनी (4) _____ से गिरकर कई लोग जान भी गँवा चुके हैं। केरल में अब लोग बदर पाल रहे हैं। उन्हें नारियल तोड़ने के लिए (5) _____ दिया जा रहा है। हमारे देश में बदरो की कमी नहीं है। इन्हें नारियल तोड़कर लाने की ट्रेनिंग देने के लिए स्कूल भी खोले गए हैं।

SubQuestion No : 24

Q.24 गद्यांश के रिक्त स्थान (4) के लिए सर्वाधिक उपयुक्त शब्द होगा-

- Ans
- 1. लम्बाई
 - 2. ऊँचाई
 - 3. नीचे
 - 4. गहराई

Question ID : 65497832655

Status : Not Answered

Chosen Option : --

Comprehension:

दिए गए गद्यांश में से कुछ शब्द हटा दिए गए हैं। संबंधित प्रश्नों में प्रत्येक सख्या के लिए सबसे उपयुक्त विकल्प का चयन करें।

नारियल खाना जितना अच्छा लगता है, उतना ही (1) _____ होता है इसे पेड़ से तोड़ना। नारियल के ऊँचे सीधे खड़े पेड़ तक पहुँचना (2) _____ खीर है। जान जोखिम में डालकर नारियल तोड़ने का काम करने वालों को बदले में (3) _____ भी बहुत कम मिलती है। इतनी (4) _____ से गिरकर कई लोग जान भी गँवा चुके हैं। केरल में अब लोग बदर पाल रहे हैं। उन्हें नारियल तोड़ने के लिए (5) _____ दिया जा रहा है। हमारे देश में बदरो की कमी नहीं है। इन्हें नारियल तोड़कर लाने की ट्रेनिंग देने के लिए स्कूल भी खोले गए हैं।

SubQuestion No : 25

Q.25 गद्यांश के रिक्त स्थान (5) के लिए सर्वाधिक उपयुक्त शब्द होगा-

- Ans
- 1. विकास
 - 2. प्रशिक्षण
 - 3. कौशल
 - 4. अनुरक्षण

Question ID : 65497832656

Status : Not Answered

Chosen Option : --

**SSC
GD**

**Previous Year Paper
25 Nov 2021 Shift 2**

Exam Date	25/11/2021
Exam Time :	12:30 PM - 2:00 PM
Subject	Constable GD 2021

Section : Part A General Intelligence and Reasoning

Q.1 Select the number from among the given options that can replace the question mark (?) in the following series.

34, 37, 42, 49, 60, 73, 90, ?

- Ans
- 1. 109
 - 2. 119
 - 3. 117
 - 4. 99

Question ID : 65497828214

Status : Answered

Chosen Option : 1

Q.2 'Suva' is related to 'Fiji' in the same way as 'Helsinki' is related to '_____'.
 Ans

- 1. Greece
- 2. France
- 3. Finland
- 4. Hungary

Question ID : 65497828234

Status : Not Answered

Chosen Option : --

Q.3

Select the correct mirror image of the given combination when the mirror is placed at the right side.

Ans B Y u m g d

- 1. B Y u m g d
- 2. B Y u m g d
- 3. B Y u m g d
- 4. B Y u m g d

Question ID : 65497828215

Status : Answered

Chosen Option : 4

Six friends A, B, C, D, E and F are sitting in a straight horizontal line facing the north. Four persons are sitting between E and C. D is sitting between A and F. A is to the immediate right of E. Who is sitting to the immediate right of F?

- Ans
- 1. C
 - 2. D
 - 3. B
 - 4. A

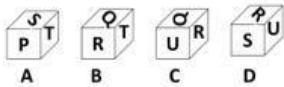
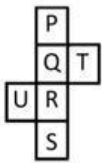
Question ID : 65497828235
 Status : Answered
 Chosen Option : 3

N has two children S and P. N's wife J is the only sister of M's mother. R is M's maternal grandfather. How is R related to N?

- Ans
- 1. Son-in-law
 - 2. Father
 - 3. Father-in-law
 - 4. Uncle

Question ID : 65497828232
 Status : Answered
 Chosen Option : 3

Select the dice that can be formed by folding the given sheet along the lines.



- Ans
- 1. Only A, B and C
 - 2. Only B and D
 - 3. Only A and B
 - 4. A, B, C and D

Question ID : 65497828228
 Status : Answered
 Chosen Option : 4

The sum of the present ages of a father and his son is 58 years. Four years ago, their ratio of their ages was 4 : 1. What is the present age of the father?

- Ans
- 1. 35 years
 - 2. 44 years
 - 3. 38 years
 - 4. 40 years

Question ID : 65497828219
 Status : Answered
 Chosen Option : 2

Q.8 Select the combination of letters that when sequentially placed in the blanks of the given series will complete the series.

r _ x l _ q _ _ x _ p q _ e _ l p _

Ans 1. e, p, r, e, l, r, x, q

2. p, e, r, p, l, r, x, q

3. e, x, q, r, p, l, x, p

4. p, e, q, l, x, p, r, q

Question ID : 65497828222

Status : Answered

Chosen Option : 1

Q.9 उस िवक का चयन कर, िजसका तीसरे पद से वही सबध है, जो दू सरे पद का पहले पद से है।

LARGE : MASHE :: WATER : _____

Ans 1. VAUES

2. VBSFQ

3. XAUES

4. XBUFS

Question ID : 65497828230

Status : Answered

Chosen Option : 3

Q.10 Select the number from among the given options that can replace the question mark (?) in the following series.

14, 29, 57, 115, 229, ?

Ans 1. 457

2. 463

3. 461

4. 459

Question ID : 65497828223

Status : Answered

Chosen Option : 4

Q.11 Four letter-clusters have been given, out of which three are alike in some manner and one is different. Select the letter-cluster that is different.

Ans 1. TXBFK

2. YDINS

3. BGLQV

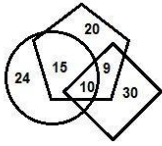
4. PUZEJ

Question ID : 65497828212

Status : Answered

Chosen Option : 1

Q.12 In the following diagram, the 'rhombus' stands for 'teachers', the 'circle' stands for 'social servants', and the 'pentagon' stands for 'females'. The numbers given in the different segments represent the number of persons of that category.



How many female teachers are also social servants?

- Ans**
- 1. 24
 - ✓ 2. 10
 - ✗ 3. 9
 - ✗ 4. 15

Question ID : 65497828236
 Status : Answered
 Chosen Option : 2

Q.13 Select the figure from among the given options that can replace the question mark (?) in the following series.



- Ans**
- ✗ 1.
 - ✗ 2.
 - ✓ 3.
 - ✗ 4.

Question ID : 65497828224
 Status : Answered
 Chosen Option : 3

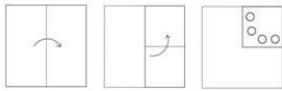
Q.14 Select the letter-cluster from among the given options that can replace the question mark (?) in the following series.

GQT, ETP, CWL, AZH, ?

- Ans**
- ✗ 1. YBD
 - ✓ 2. YCD
 - ✗ 3. ZCD
 - ✗ 4. YCE


Question ID : 65497828233
 Status : Answered
 Chosen Option : 2

Q.15 The sequence of folding a piece of paper and the manner in which the folded paper has been cut is shown in the following figures. How would this paper look when unfolded?

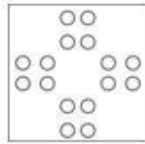


Ans

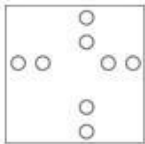
1.



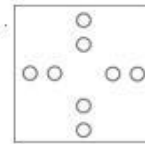
2.



3.



4.



Question ID : 65497828220

Status : Answered

Chosen Option : 2

Q.16 Select the number-triad in which the three numbers share a different relationship from that shared by the three numbers in the rest of the number-triads.

Ans 1. (13, 39, 65)

2. (19, 57, 95)

3. (23, 69, 105)

4. (17, 51, 85)

Question ID : 65497828218

Status : Answered

Chosen Option : 3

Q.17 Select the option that is related to the third number in the same way as the second number is related to the first number.

7 : 342 :: 9 : ?

Ans 1. 329

2. 728

3. 327

4. 729

Question ID : 65497828226

Status : Answered

Chosen Option : 2

Q.18 In a certain code language, 'FRY' is coded as '147' and 'CROP' is coded as '208'. How will 'MUSIC' be coded in that language?

- Ans
- 1. 295
 - 2. 385
 - 3. 199
 - 4. 325

Question ID : 65497828213
Status : Answered
Chosen Option : 4

Q.19 In a certain code language, 'SHIMLA' is written as 'TJLQQG' and 'RANCHI' is written as 'SCQGMO'. How will 'MUMBAI' be written in that language?

- Ans
- 1. OWQEEP
 - 2. NWPFFO
 - 3. NXQEFP
 - 4. MXPEFP

Question ID : 65497828216
Status : Answered
Chosen Option : 2

Q.20 In a certain code language, CHEAP is written as QBFIG. How will QUOTE be written in that language?

- Ans
- 1. RVNUF
 - 2. ETOUQ
 - 3. UOQET
 - 4. FUPVR

Question ID : 65497828231
Status : Answered
Chosen Option : 4

Q.21 उस सही विक का चयन कर, जो िदए गए श ो के तािकक और साथक म को दशाता है ।

- i. फूल
- ii. अकुर
- iii. फल
- iv. पौधा
- v. बीज

- Ans
- 1. ii, v, iv, i, iii
 - 2. v, ii, iv, i, iii
 - 3. ii, i, iii, iv, v
 - 4. v, iv, i, iii, ii

Question ID : 65497828221
Status : Answered
Chosen Option : 2

Q.22 Select the option that is embedded in the given figure (rotation is NOT allowed).



Ans

- 1.
- 2.
- 3.
- 4.

Question ID : 65497828229

Status : Answered

Chosen Option : 2

Q.23 Eight friends, Arvind, Priya, Kunal, Kajal, Ashish, Mahak, Shubham and Riddhi are sitting around an octagonal table, facing the centre. Kunal is between Mahak and Ashish. Kajal is between Priya and Arvind. Shubham is to the immediate left of Riddhi. Arvind is third to the right of Ashish. Who is sitting between Riddhi and Priya?

- Ans
- 1. Ashish
 - 2. Arvind
 - 3. Kajal
 - 4. Shubham

Question ID : 65497828225

Status : Answered

Chosen Option : 4

Q.24 Read the given statements and conclusions carefully. Assuming that the information given in the statements is true, even if it appears to be at variance with commonly known facts, decide which of the given conclusions logically follow(s) from the statements.

Statements:
All leaders are males.
Some students are leaders.

Conclusions:
I. Some students are males.
II. All leaders are students.

- Ans
- 1. Only conclusion I follows
 - 2. Both conclusions I and II follow
 - 3. Only conclusion II follows
 - 4. Either conclusion I or II follows

Question ID : 65497828217

Status : Answered

Chosen Option : 1

Q.25 If '+' means '-', '-' means 'x', 'x' means '+', and '+' means '+', then what will be the value of the following expression?

$$9 - 9 \div 72 \times 4 + 6$$

- Ans
- 1. 27
 - 2. 29
 - 3. 98
 - 4. 93

Question ID : 65497828227
Status : Answered
Chosen Option : 4

Section : Part B General Knowledge and General Awareness

Q.1 Inertia can be measured by its_____.

- Ans
- 1. force
 - 2. state of motion
 - 3. mass
 - 4. acceleration

Question ID : 65497828252
Status : Answered
Chosen Option : 4

Q.2 Which ministry/institution has released the Provisional Estimates of National Income for the financial year 2019-20, both – at Constant Prices (2011-12) and Current Prices?

- Ans
- 1. National Statistical Office
 - 2. NITI Aayog
 - 3. Ministry of Home Affairs
 - 4. Finance Commission

Question ID : 65497828245
Status : Answered
Chosen Option : 1

Q.3 The_____dam is built across the Subarnarekha river.

- Ans
- 1. Bhairwa
 - 2. Malay
 - 3. Barhi
 - 4. Chandil

Question ID : 65497828260
Status : Answered
Chosen Option : 4

Q.4 Which among the following is NOT a participant at the 2020-21 Hero Indian Super League?

- Ans
- 1. Odisha FC
 - 2. Kochi FC
 - 3. Jamshedpur FC
 - 4. Bengaluru FC

Question ID : 65497828244
Status : Answered
Chosen Option : 3

Q.5 भारतीय दंड सिद्धान्त की धारा 354 _____ से संबंधित है।

- Ans
- 1. 4 से गंभीर चोट पड़ाने के लिए दंड
 - 2. अपहरण करने के लिए दंड
 - 3. किसी D के गंभीर आघात या मृत्यु का भय दिखाकर रगदारी वसूलने
 - 4. किसी स्त्री की लंघना भंग करने के उद्देश्य से उस महिला पर हमला करने या उस पर आपराधिक बलका योग करने

Question ID : 65497828258

Status : Answered

Chosen Option : 1

Q.6 What was the maiden name of Begum Nur Jahan?

- Ans
- 1. Padmavati
 - 2. Indira Kanwar
 - 3. Mehr-un-Nissa
 - 4. Harkha Bai

Question ID : 65497828254

Status : Answered

Chosen Option : 3

Q.7 जुलाई 2021 में, _____ को 2019 के लिए इंडियन 4-वोट्स ऑनर में डिफरेंटली एबल 4-वोट्समैन ऑफ द इयर (Differently Abled Sportsman of the Year) के पद में नामित किया गया था।

- Ans
- 1. मोद भगत
 - 2. धमबीर नैन
 - 3. विवेक चिकारा
 - 4. अमित कु मार सरोहा

Question ID : 65497828261

Status : Answered

Chosen Option : 4

Q.8 Who was the winner of 'The Hindu Prize 2019' in the category of Fiction?

- Ans
- 1. Neelum Saran Gour
 - 2. Anuradha Roy
 - 3. Mirza Waheed
 - 4. Amitabha Bagchi

Question ID : 65497828253

Status : Answered

Chosen Option : 1

Q.9 भारतीय रजव बक अधिनियम, 1934 की धारा _____ के अनुसार, बक को सभी मू वगैरे के बक नोट जारी करने का पूर्ण अधिकार _____ है।

- Ans
- 1. 25
 - 2. 22
 - 3. 20
 - 4. 32

Question ID : 65497828242

Status : Not Answered

Chosen Option : --

Q.10 Who among the following is the author of the book 'Maun Muskaan Ki Maar'?

- Ans 1. Ashutosh Rana
 2. Jugal Hansraj
 3. Uday Chopra
 4. Ronit Roy

Question ID : 65497828239
Status : Answered
Chosen Option : 2

Q.11 Who among the following is a shot put player from India?

- Ans 1. Vikash Thakur
 2. Tajinderpal Singh Toor
 3. Deepak Lather
 4. Jeremy Lalrinnunga

Question ID : 65497828240
Status : Answered
Chosen Option : 2

Q.12 World Philosophy Day is celebrated each year on the third _____ of November.

- Ans 1. Thursday
 2. Saturday
 3. Friday
 4. Monday

Question ID : 65497828248
Status : Not Answered
Chosen Option : --

Q.13 भारत के कितने राज्यों में राष्ट्रीय

- विधानमंडल है? Ans 1. दो
 2. सात
 3. चार
 4. छह

Question ID : 65497828256
Status : Not Answered
Chosen Option : --

Q.14 The Government of India revised the National List of Essential Medicines (NLEM) in September 2021 by adding _____ drugs and deleting some.

- Ans 1. 27
 2. 42
 3. 16
 4. 39

Question ID : 65497828259
Status : Answered
Chosen Option : 2

Q.15 Who was the viceroy of India when Arya Samaj was founded by Swami Dayananda Saraswati?

- Ans 1. Lord Northbrook
 2. Lord Curzon
 3. Lord Lansdowne
 4. Lord Dalhousie

Question ID : 65497828247

Status : Answered

Chosen Option : 2

Q.16 कृषि की उस शाखा को क्या कहा जाता है, जो बागानी फसलो (garden crops) – सामा तः फल,सर्पिणियों और सजावटी पौधो से संबंधित है?

- Ans 1. बागबानी (Horticulture)
 2. रेशम कीट-पालन (Sericulture)
 3. पमाकल्चर (Permaculture)
 4. पुष्पकृषि (Floriculture)

Question ID : 65497828238

Status : Answered

Chosen Option : 1

Q.17 _____, आधिकारिक विधितयों को प्रभावित करने के लिए सरकारी ढर्रे और कर नीतियों का उपयोग है।

- Ans 1. सिवदा क मोडिक नीति
 2. विवल्कारकारी नीति
 3. मोडिक नीति
 4. राजकोषीय नीति

Question ID : 65497828249

Status : Answered

Chosen Option : 4

Q.18 निम्न में से कौन-सी कला शैली पुरुषों द्वारा प्रदर्शित की जाती है, जिसमें उनका शरीर 'रामरस' से सजा रहता है और वे साधारणतया पीले रंग के परिधान पहनकर गाते-ए 'करताल' के साथ नृत्य करते हैं?

- Ans 1. झला (Jhoola)
 2. खेलिड़ा (Kheliran)
 3. झमर (Jhumar)
 4. चैती (Chaiti)

Question ID : 65497828250

Status : Answered

Chosen Option : 4

Q.19 ओडिशा का 'धेनका (Dhenka)' एक लोकिय _____ वाद्य है।

- Ans 1. इडियोफोन (idiophone)
 2. कोड फोन (chordophone)
 3. एरोफोन (aerophone)
 4. मेम्ब्रानोफोन (membranophone)

Question ID : 65497828237

Status : Not Answered

Chosen Option : --

Q.20 Which of the following statements is NOT true regarding brain fingerprinting?

- Ans 1. Brain fingerprinting is also known as Brain Electrical Oscillation Signature Profiling (BEOSP).
2. The test involves a question answer session with the accused.
3. The test is carried out by electroencephalogram, to study the electrical behaviour of the human brain.
4. Information or material discovered during the tests can be made part of the evidence.

Question ID : 65497828257

Status : Answered

Chosen Option : 3

Q.21 Narayana Guru, one of the great social reformers of the 19th century, was born in the state of _____.

- Ans 1. Karnataka
2. West Bengal
3. Assam
4. Kerala

Question ID : 65497828243

Status : Answered

Chosen Option : 2

Q.22 पौधो और पशुओ म जैविक घटनाओ, जैसे - फूल आना, पिपया िनकलना, सुषु ाव5था, जनन और वासन आद के समय का अ4यन ा कहलाता है?

- Ans 1. पोमोलॉजी (pomology)
2. लाइके नोलॉजी (lichenology)
3. िसने ेरोलॉजी (synantherology)
4. फीनोलॉजी (phenology)

Question ID : 65497828246

Status : Answered

Chosen Option : 1

Q.23 As of March 2021, which Indian state stands first in Jute production?

- Ans 1. West Bengal
2. Assam
3. Jharkhand
4. Tripura

Question ID : 65497828241

Status : Answered

Chosen Option : 1

Q.24 Which of the following is India's first indigenously developed vaccine developed by Serum Institute of India in collaboration with the Bill and Melinda Gates Foundation and PATH?

- Ans 1. Varicella
2. Cholera
3. Pneumosil
4. Anthrax

Question ID : 65497828251

Status : Answered

Chosen Option : 4

Q.25 Which of the following Indian slums is one of the world's largest slums?

- Ans
- 1. Bhalswa
 - 2. Basanti
 - 3. Dharavi
 - 4. Nochikuppam

Question ID : 65497828255
Status : Answered
Chosen Option : 3

Section : Part C Elementary Mathematics

Q.1 The LCM of $\frac{3}{7}$ and $\frac{18}{5}$ is:

- Ans
- 1. 7
 - 2. 18
 - 3. 10
 - 4. 6

Question ID : 65497828274
Status : Answered
Chosen Option : 2

Q.2 A's monthly salary is 20% more than B's monthly salary. C's monthly salary is ₹25,000 more than B's monthly salary. Their total monthly salary is ₹2,65,000. The salary of C is what percentage more than that of A's salary?

- Ans
- 1. $13\frac{1}{9}\%$
 - 2. $19\frac{1}{5}\%$
 - 3. $11\frac{1}{9}\%$
 - 4. $5\frac{1}{5}\%$

Question ID : 65497828264
Status : Answered
Chosen Option : 3

Q.3 If 782 is divided in the ratio of $\frac{1}{2} : \frac{2}{3} : \frac{3}{4}$, then the first part will be:

- Ans
- 1. 204
 - 2. 144
 - 3. 156
 - 4. 324

Question ID : 65497828276
Status : Answered
Chosen Option : 1

Q.4 A shopkeeper purchased some material for ₹800, of which 40% was sold at a loss of 10%. To obtain a gain of 12%, the percentage profit on the remaining goods must be:

Ans

- 1. $26\frac{1}{3}\%$
- 2. 12%
- 3. $26\frac{2}{3}\%$
- 4. $26\frac{3}{5}\%$

Question ID : 65497828279

Status : Answered

Chosen Option : 3

Q.5 For doing a certain work, the efficiencies of A, B and C are in the ratio 2 : 3 : 5. Working together, they can complete the same work in 15 days. B and C can complete 80% of the original work in:

Ans

- 1. 15 days
- 2. 18 days
- 3. 20 days
- 4. 12 days

Question ID : 65497828285

Status : Answered

Chosen Option : 1

Q.6 The sum of the radius of the base and height of a solid cylinder is 17 cm. If the total surface area of the solid cylinder is 748 cm^2 , then the height of the cylinder is:

Ans

- 1. 12 cm
- 2. 15 cm
- 3. 14 cm
- 4. 10 cm

Question ID : 65497828268

Status : Answered

Chosen Option : 4

Q.7 A train X of length 345 m running at 50 km/h crosses another train Y running at 76 km/h in the opposite direction in 22 seconds. Train Y will cross a bridge of length 905 m in:

Ans

- 1. 54 seconds
- 2. 56 seconds
- 3. 52 seconds
- 4. 63 seconds

Question ID : 65497828286

Status : Answered

Chosen Option : 4

Q.8 On what sum will the simple interest at a rate of $x\%$ p.a. in x years will be ₹ x ?

- Ans
- 1. ₹ $x/100$
 - 2. ₹ $100x$
 - 3. ₹ $100/x$
 - 4. ₹ x

Question ID : 65497828277
Status : Answered
Chosen Option : 3

Q.9 The profit earned after selling an article for ₹5,800 is the same as the loss incurred after selling the article for ₹2,200.
The profit (in ₹) is:

- Ans
- 1. 2,100
 - 2. 1,500
 - 3. 1,200
 - 4. 1,800

Question ID : 65497828265
Status : Answered
Chosen Option : 4

Q.10 The income of A is 80% more than that of B, and the income of C is 25% more than 20% of the combined incomes of A and B. By what percentage is the income of C less than the income of A? (Correct to one decimal place)

- Ans
- 1. 61.1%
 - 2. 82.8%
 - 3. 62.6%
 - 4. 157.1%

Question ID : 65497828284
Status : Answered
Chosen Option : 4

Q.11 $6 \times (4 \times 5^2) \div 3 + 7 - 8 = ?$

- Ans
- 1. 199
 - 2. 299
 - 3. 189
 - 4. 200

Question ID : 65497828269
Status : Answered
Chosen Option : 1

Q.12 A shopkeeper sells a fan for ₹912 at a gain of 14% and another fan for ₹1,012 at a loss of 8%. What is his overall gain or loss percentage?

Ans

✓ 1. $1\frac{5}{19}\%$ gain

✗ 2. $1\frac{4}{9}\%$ loss

✗ 3. $1\frac{2}{5}\%$ loss

✗ 4. $1\frac{3}{11}\%$ gain

Question ID : 65497828281

Status : Answered

Chosen Option : 1

Q.13 The unit's digit in $(263)^{149} + (263)^{150} + (263)^{151}$ is:

Ans

✗ 1. 1

✓ 2. 9

✗ 3. 3

✗ 4. 7

Question ID : 65497828263

Status : Answered

Chosen Option : 2

Q.14 Three horses are tied at three vertices of a triangular field, each with a 7 m long rope. What is the total area grazed by the horses?

Ans

✗ 1. 58 m^2

2. 46 m^2

3. 70 m^2

4. 77 m^2

Question ID : 65497828273

Status : Answered

Chosen Option : 4

Q.15 Three persons namely Govind, Rahim and Sudhir can complete a work in 8, 12 and 15 days, respectively. The time taken to complete the work when they work together is:

Ans

1. $40/11$ days

2. 4 days

3. $53/11$ days

4. 6 days

Question ID : 65497828280

Status : Answered

Chosen Option : 1

Q.16 A sum lent at compound interest amounts to 72.8% more than itself in 3 years, interest compounded annually at a certain rate per cent per annum. What will be the compound interest (in ₹) on a sum of ₹18,000 for $1\frac{1}{2}$ years at the same rate, if the interest is compounded six-monthly?

- Ans
- 1. 6,897
 - 2. 5,598
 - 3. 7,654
 - 4. 5,958

Question ID : 65497828266
Status : Answered
Chosen Option : 4

Q.17 What price should a shopkeeper mark on an article, costing him ₹210, to gain 16% after allowing a discount of 16%?

- Ans
- 1. ₹290
 - 2. ₹210
 - 3. ₹270
 - 4. ₹250

Question ID : 65497828262
Status : Answered
Chosen Option : 1

Q.18 A car takes 4 hours to cover a distance if it travels at a speed of 60 km/h. What should be its speed (in km/h) to cover the same distance in 1.5 hours?

- Ans
- 1. 150
 - 2. 165
 - 3. 180
 - 4. 160

Question ID : 65497828270
Status : Answered
Chosen Option : 4

Q.19 Two positive numbers A and B ($A > B$) are in the ratio 11 : 8. If the difference between 7 times of A and 4 times of B is 225, then the value of $2A + 3B$ is:

- Ans
- 1. 330
 - 2. 220
 - 3. 230
 - 4. 320

Question ID : 65497828267
Status : Answered
Chosen Option : 3

Q.20 The average weight of some persons in a group is 70 kg. When 15 persons with average weight 60 kg leave the group or 15 persons with average weight 87.5 kg join the group, then the average weight of persons in the group in both the cases is equal. How many persons were there in the group, initially?

- Ans
- 1. 35
 - 2. 45
 - 3. 55
 - 4. 65

Question ID : 65497828282
Status : Answered
Chosen Option : 3

Q.21 In how much time will a sum of money double itself at 12% p.a. simple interest?

- Ans
- 1. 6 years 2 months
 - 2. 8 years 1 month
 - 3. 6 years 4 months
 - 4. 8 years 4 months

Question ID : 65497828272
Status : Answered
Chosen Option : 4

Q.22

$$\frac{0.2 \div \frac{1}{2} \text{ of } \frac{2}{3} - 1 \times 2 \div 2}{0.2 \times 2 \div \frac{1}{2} \text{ of } \frac{2}{3} - 2 \text{ of } \frac{1}{2} \div \frac{1}{4}}$$

On simplification, the given expression gives the result as:

- Ans
- 1. $\frac{1}{7}$
 - 2. -1.3
 - 3. $\frac{-2}{19}$
 - 4. 1.3

Question ID : 65497828278
Status : Answered
Chosen Option : 1

Q.23 The average of the ages of a husband and his wife was 25 years at the time of their wedding. After 7 years, they have a 2-year old child. What is the average age of the family at present?

- Ans
- 1. 21 years
 - 2. 22 years
 - 3. 29 years
 - 4. 25 years

Question ID : 65497828275
Status : Answered
Chosen Option : 2

Q.24 An article is sold for ₹452.20, after allowing three successive discounts of 20%, 30% and 5%. If a single discount of 55% is given on the marked price, then its selling price (in ₹) will be:

- Ans
- 1. 425.25
 - 2. 382.50
 - 3. 384.75
 - 4. 467.50

Question ID : 65497828283
Status : Answered
Chosen Option : 2

Q.25 Divide 2310 people in three parties such that half in the first party, one-third in the second party and one-sixth in the third party are all equal.

- Ans
- 1. 420, 650, 1240
 - 2. 420, 600, 1290
 - 3. 420, 630, 1260
 - 4. 420, 620, 1270

Question ID : 65497828271
Status : Answered
Chosen Option : 3

Section : Part D English

Q.1 The following sentence has been split into four segments. Identify the segment that contains a grammatical error.

Each of the students were / present for / the valedictory session / that night.

- Ans
- 1. present for
 - 2. that night
 - 3. Each of the students were
 - 4. the valedictory session

Question ID : 65497828302
Status : Not Answered
Chosen Option : --

Q.2 Select the option that can be used as a one-word substitute for the given group of words.

A person who helps willingly without being paid for it

- Ans
- 1. Volunteer
 - 2. Beggar
 - 3. Worker
 - 4. Leader

Question ID : 65497828296
Status : Not Answered
Chosen Option : --

Q.3 Select the most appropriate meaning of the given idiom.

To take pains

- Ans
- 1. To be involved in
 - 2. To wait anxiously
 - 3. To get injured
 - 4. To make efforts

Question ID : 65497828288

Status : Not Answered

Chosen Option : --

Q.4 Select the most appropriate option that can substitute the underlined segment in the given sentence. If there is no need to substitute it, select 'No substitution required'.

Neither the chairman nor the directors has present.

- Ans
- 1. had present
 - 2. are present
 - 3. No substitution required
 - 4. is present

Question ID : 65497828300

Status : Not Answered

Chosen Option : --

Q.5 Select the most appropriate meaning of the given idiom.

Child's play

- Ans
- 1. Something that is very easy
 - 2. Fair behaviour
 - 3. Mischievous behaviour
 - 4. Playful attitude

Question ID : 65497828291

Status : Not Answered

Chosen Option : --

Q.6 Select the option that can be used as a one-word substitute for the given group of words.

Go back over the same route that one has just taken

- Ans
- 1. Retrace
 - 2. Detour
 - 3. Return
 - 4. Reroute

Question ID : 65497828304

Status : Not Answered

Chosen Option : --

Q.7 Select the most appropriate synonym of the given word.

Estimate

- Ans 1. Believe
 2. Solve
 3. Assess
 4. Discover

Question ID : 65497828290

Status : Not Answered

Chosen Option : --

Q.8 The following sentence has been split into four segments. Identify the segment that contains a grammatical error.

They would have / won the race / if they would have / run faster.

- Ans 1. won the race
 2. if they would have
 3. run faster
 4. They would have

Question ID : 65497828294

Status : Not Answered

Chosen Option : --

Q.9 Select the most appropriate synonym of the given word.

Perceive

- Ans 1. Recognise
 2. Declare
 3. Present
 4. Discuss

Question ID : 65497828303

Status : Not Answered

Chosen Option : --

Q.10 Select the INCORRECTLY spelt word.

- Ans 1. Aqurarium
 2. Honorarium
 3. Boutique
 4. Bungalow

Question ID : 65497828298

Status : Not Answered

Chosen Option : --

Q.11 The following sentence has been divided into parts. One of them may contain an error. Select the part that contains the error from the given options. If you don't find any error, select 'No error' as your answer.

The book must be / old for its cover / is torn bad.

- Ans 1. No error
 2. old for its cover
 3. The book must be
 4. is torn bad

Question ID : 65497828289
Status : Not Answered
Chosen Option : --

Q.12 Select the most appropriate ANTONYM of the given word.

Deceive

- Ans 1. Delude
 2. Pretend
 3. Betray
 4. Support

Question ID : 65497828305
Status : Not Answered
Chosen Option : --

Q.13 Select the most appropriate ANTONYM of the given word.

Opaque

- Ans 1. Dense
 2. Clear
 3. Misty
 4. Hazy

Question ID : 65497828295
Status : Not Answered
Chosen Option : --

Q.14 Select the most appropriate option to fill in the blank.

He is greatly loved by all for his _____ nature.

- Ans 1. confused
 2. bewildered
 3. decorative
 4. compassionate

Question ID : 65497828299
Status : Not Answered
Chosen Option : --

Q.15 Select the most appropriate option that can substitute the underlined segment in the given sentence. If there is no need to substitute it, select 'No substitution required'.

Srinu had to take a break from his training for the marathon during the lockdown so he decided to go to his hometown.

- Ans
- 1. take a break on
 - 2. took a break in
 - 3. take break for
 - 4. No substitution required

Question ID : 65497828292
Status : Not Answered
Chosen Option : --

Q.16 Select the INCORRECTLY spelt word.

- Ans
- 1. Negotiate
 - 2. Miraculous
 - 3. Refere
 - 4. Satellite

Question ID : 65497828297
Status : Not Answered
Chosen Option : --

Q.17 Select the most appropriate option to fill in the blank.

People of the same _____ are not allowed to get married in her country.

- Ans
- 1. clan
 - 2. clam
 - 3. clot
 - 4. clum

Question ID : 65497828301
Status : Not Answered
Chosen Option : --

Q.18 Select the most appropriate option to fill in the blank.

After a hectic day, all he wanted was to rest in_____.

- Ans
- 1. calm
 - 2. quiet
 - 3. silence
 - 4. turmoil

Question ID : 65497828287
Status : Not Answered
Chosen Option : --

Q.19 Select the option that can be used as a one-word substitute for the given group of words.

A short interesting or amusing story

- Ans 1. Legend
 2. Myth
 3. Epic
 4. Anecdote

Question ID : 65497828293

Status : Not Answered

Chosen Option : --

Q.20 Select the option that will improve the underlined part of the given sentence. In case no improvement is needed, select 'No improvement required'.

The joint family system have undergone drastic changes.

- Ans 1. has undergone
 2. No improvement required
 3. have underwent
 4. are undergoing

Question ID : 65497828306

Status : Not Answered

Chosen Option : --

Comprehension:

In the following passage, some words have been deleted. Read the passage carefully and select the most appropriate option to fill in each blank.

Dr. Jill Biden is an English professor in a college and she has four degrees, (1)_____a doctorate. She is the wife of (2)_____newly elected U.S. President, Joe Biden. As (3)_____next first lady, the 69-year-old Jill Biden (4)_____to keep her job and continue teaching (5)_____is something that she did as the second lady when her husband was the Vice President.

SubQuestion No : 21

Q.21 Select the most appropriate option to fill in blank no. 1.

- Ans 1. include
 2. including
 3. included
 4. includes

Question ID : 65497828308

Status : Not Answered

Chosen Option : --

Comprehension:

In the following passage, some words have been deleted. Read the passage carefully and select the most appropriate option to fill in each blank.

Dr. Jill Biden is an English professor in a college and she has four degrees, (1)_____a doctorate. She is the wife of (2)_____newly elected U.S. President, Joe Biden. As (3)_____next first lady, the 69-year-old Jill Biden (4)_____to keep her job and continue teaching (5)_____is something that she did as the second lady when her husband was the Vice President.

SubQuestion No : 22

Q.22 Select the most appropriate option to fill in blank no. 2.

- Ans 1. a
 2. the
 3. an
 4. one

Question ID : 65497828309
Status : Not Answered
Chosen Option : --

Comprehension:

In the following passage, some words have been deleted. Read the passage carefully and select the most appropriate option to fill in each blank.

Dr. Jill Biden is an English professor in a college and she has four degrees, (1)_____a doctorate. She is the wife of (2)_____newly elected U.S. President, Joe Biden. As (3)_____next first lady, the 69-year-old Jill Biden (4)_____to keep her job and continue teaching (5)_____is something that she did as the second lady when her husband was the Vice President.

SubQuestion No : 23

Q.23 Select the most appropriate option to fill in blank no. 3.

- Ans 1. America's
 2. Americas
 3. Americas's
 4. Americas'

Question ID : 65497828310
Status : Not Answered
Chosen Option : --

Comprehension:

In the following passage, some words have been deleted. Read the passage carefully and select the most appropriate option to fill in each blank.

Dr. Jill Biden is an English professor in a college and she has four degrees, (1)_____a doctorate. She is the wife of (2)_____newly elected U.S. President, Joe Biden. As (3)_____next first lady, the 69-year-old Jill Biden (4)_____to keep her job and continue teaching (5)_____is something that she did as the second lady when her husband was the Vice President.

SubQuestion No : 24

Q.24 Select the most appropriate option to fill in blank no. 4.

- Ans 1. aims
 2. thinks
 3. plans
 4. plots

Question ID : 65497828311
Status : Not Answered
Chosen Option : --

Comprehension:

In the following passage, some words have been deleted. Read the passage carefully and select the most appropriate option to fill in each blank.

Dr. Jill Biden is an English professor in a college and she has four degrees, (1)_____a doctorate. She is the wife of (2)_____newly elected U.S. President, Joe Biden. As (3)_____next first lady, the 69-year-old Jill Biden (4)_____to keep her job and continue teaching (5)_____is something that she did as the second lady when her husband was the Vice President.

SubQuestion No : 25

Q.25 Select the most appropriate option to fill in blank no. 5.

- Ans 1. which
 2. who
 3. what
 4. whom

Question ID : 65497828312
Status : Not Answered
Chosen Option : --

Section : Part D Hindi

Q.1 िदये गये वा म रहे खािकत अश को ित5थािपत करने के िलए सबसे उपयु-4 िवक का चयन कर।

तीक को हर तीसरे िदन दौरा आता है।

- Ans 1. िगरता है।
 2. होता है।
 3. पड़ता है।
 4. चलता है।

Question ID : 65497828331
Status : Answered
Chosen Option : 3

Q.2 िदए गए श के समानाथ श का चयन कर।

च

- Ans 1. तोय
 2. वरी
 3. िनशा
 4. रके श

Question ID : 65497828329
Status : Answered
Chosen Option : 4

Q.3 'लगोटी म फाग खे लना' इस मुहावरे का

अथ है? Ans 1. धनी का िनधन हो जाना

2. पुराने रीित- रवाजो का अनुसरण करना
 3. द र5ता म आनद लूटना
 4. भा से बदा होना

Question ID : 65497828314
Status : Answered
Chosen Option : 3

Q.4 दिदए गए श का विवलोम श चुन।

कीति

- Ans 1. अकीति
 2. सुकीति
 3. कु कीति
 4. अपकीति

Question ID : 65497828320

Status : Answered

Chosen Option : 1

Q.5 दिदए गए श के समानाथ श का चयन कर।

ानी

- Ans 1. मनो
 2. मनीषी
 3. मकट
 4. विव

Question ID : 65497828318

Status : Answered

Chosen Option : 4

Q.6 दिदये गये व म रे खािकत अथ को तिथथपित करने के िलए सबसे उपयु 4 विक का चयन कर।

इस घटना की परी ा थानेदार कर रहा है।

- Ans 1. िनरी ण
 2. िनगरानी
 3. देखरेख
 4. जाँच

Question ID : 65497828330

Status : Answered

Chosen Option : 4

Q.7 दिदए गए वा का वह भाग ात कर िजसम कोई टुटि है। यदि कोई टुटि नही है, तो 'कोई टुटि नही है' चुन।

पु क ये (1)/ िकसकी/(2) ह? (3)/ कोई टुटि नही

- (4)Ans 1. 3
 2. 4
 3. 2
 4. 1

Question ID : 65497828328

Status : Answered

Chosen Option : 4

Q.8 दिए गए वाक्य में रेखांकित खंड को प्रतिस्थापित करने के लिए सबसे उपयुक्त विकल्प का चयन करें। यदि इसे प्रतिस्थापित करने की आवश्यकता नहीं है, तो विकल्प 'किसी बदलाव की आवश्यकता नहीं है' का चयन करें।

सचिव ने अध्यक्ष के गले में एक गुलाब के फूलों की माला पहनाई।

- Ans
- 1. किसी बदलाव की आवश्यकता नहीं है।
 - 2. गुलाब के फूलों की माला पहनाई।
 - 3. एक गुलाबों के फूलों की माला पहनाई।
 - 4. गुलाब के फूलों की एक माला पहनाई।

Question ID : 65497828313
Status : Answered
Chosen Option : 4

Q.9 रिक्त स्थान को भरने के लिए सबसे उपयुक्त शब्द का चयन करें।

_____ लोगो की यही धारणा है।

- Ans
- 1. कम
 - 2. अधिकतर
 - 3. ज्यादा
 - 4. अधिक

Question ID : 65497828322
Status : Answered
Chosen Option : 2

Q.10 दिए गए वाक्य का वह भाग ज्ञात करें जिसमें कोई त्रुटि है। यदि कोई त्रुटि नहीं है, तो 'कोई त्रुटि नहीं है' चुनें।

कश्मीर में (1)/ अनेक दर्शनीय स्थल (2)/ देखने योग्य हैं। (3)/ कोई त्रुटि नहीं है (4)

- Ans
- 1. 3
 - 2. 1
 - 3. 2
 - 4. 4

Question ID : 65497828325
Status : Answered
Chosen Option : 1

Q.11 निम्नलिखित प्रश्न में दिए गए चार विकल्पों में से, उस विकल्प का चयन करें, जो दिए गए मुहावरे के अर्थ को व्यक्त करता है।

खोदा पहाड़ निकली चुहिया

- Ans
- 1. दिखावा ही दिखावा करना
 - 2. अटपटा काम करना
 - 3. अधिक परिश्रम के बाद साधारण लाभ
 - 4. बिना बल कोई काम करना

Question ID : 65497828321
Status : Answered
Chosen Option : 3

Q.12 रिक्त स्थान भरने के लिए सबसे उपयुक्त शब्द का चयन करें।

बहुत से देशों ने एशियाई खेल _____ में भाग लिया।

- Ans
- 1. परीक्षा
 - 2. निरीक्षण
 - 3. प्रतियोगिता
 - 4. परीक्षण

Question ID : 65497828316
Status : Answered
Chosen Option : 3

Q.13 सही वर्तनी वाले शब्द का चयन करें।

- Ans
- 1. ऐश्वर्यशाली
 - 2. ऐश्वर्यशाली
 - 3. ऐशवर्यशाली
 - 4. ऐश्वर्यशालि

Question ID : 65497828323
Status : Answered
Chosen Option : 2

Q.14 रिक्त स्थान को भरने के लिए सबसे उपयुक्त शब्द का चयन करें।

तुम्हारे मित्रों को मैं _____ जानता हूँ।

- Ans
- 1. अच्छी तरह में
 - 2. अच्छे तरह से
 - 3. खूब
 - 4. अच्छी तरह से

Question ID : 65497828319
Status : Answered
Chosen Option : 4

Q.15 'मिट्टी का बना हुआ' वाक्यांश के लिए एक शब्द होगा-

- Ans
- 1. निर्जीव
 - 2. प्रस्तर
 - 3. खिलौना
 - 4. पार्थिव

Question ID : 65497828332
Status : Answered
Chosen Option : 2

Q.16 दिए गए शब्द का विलोम चुनें।

लिप्त

- Ans
- 1. निर्लिप्त
 - 2. विलुप्त
 - 3. अलिप्त
 - 4. विलिप्त

Question ID : 65497828326
Status : Answered
Chosen Option : 3

Q.17 दिए गए वाक्य का वो भाग ज्ञात करें जिसमें कोई त्रुटि है। यदि कोई त्रुटि नहीं है, तो 'कोई त्रुटि नहीं है' चुनें।

अपने गुणों के कारण (1)। उसका सब जगह (2)। आदर-सत्कार होता था (3)। कोई त्रुटि नहीं है (4)

Ans 1. 1

2. 4

3. 3

4. 2

Question ID : 65497828317

Status : Answered

Chosen Option : 2

Q.18 दिए गए वाक्यांश के लिए एक सार्थक शब्द दीजिए।

जो जानने की इच्छा रखता हो

Ans 1. जिगीषा

2. जिज्ञासा

3. जिगीषु

4. जिज्ञासु

Question ID : 65497828315

Status : Answered

Chosen Option : 4

Q.19 दिये गये वाक्यांश के लिए एक शब्द दीजिये।

जो उपकारों को नहीं मानता है

Ans 1. कृतज्ञ

2. प्रतिपक्षी

3. कृतमन्न

4. विरोधी

Question ID : 65497828327

Status : Answered

Chosen Option : 3

Q.20 सही वर्तनी वाले शब्द का चयन करें।

Ans 1. अनुकरणीय

2. अनुकरणिय

3. अनुकरणिय

4. अनुकरणीय

Question ID : 65497828324

Status : Answered

Chosen Option : 1

Comprehension:

दिए गए अनुच्छेद में कुछ शब्द हटा दिए गए हैं। दिए गए विकल्पों की सहायता से रिक्त स्थान भरें। प्रत्येक सख्या के लिए सबसे उपयुक्त विकल्प का चयन करें।

हम यह कह सकते हैं कि हमारे चारों ओर (1)_____, वहीं (2)_____ है। प्रकृति ने हमारे लिए एक (3)_____ एव सुखद आवरण का निर्माण किया था, परन्तु मनुष्य ने (4)_____ सुखों के कारण – उसे (5)_____ कर दिया।

SubQuestion No : 21

Q.21 गद्यांश के रिक्त स्थान (1) के लिए सर्वाधिक उपयुक्त शब्द होगा-

- Ans 1. विद्यमान
 2. प्रतिदान
 3. ओझल
 4. अप्राप्य

Question ID : 65497828334

Status : Answered

Chosen Option : 1

Comprehension:

दिए गए अनुच्छेद में कुछ शब्द हटा दिए गए हैं। दिए गए विकल्पों की सहायता से रिक्त स्थान भरें। प्रत्येक सख्या के लिए सबसे उपयुक्त विकल्प का चयन करें।

हम यह कह सकते हैं कि हमारे चारों ओर (1)_____, वहीं (2)_____ है। प्रकृति ने हमारे लिए एक (3)_____ एव सुखद आवरण का निर्माण किया था, परन्तु मनुष्य ने (4)_____ सुखों के कारण – उसे (5)_____ कर दिया।

SubQuestion No : 22

Q.22 गद्यांश के रिक्त स्थान (2) के लिए सर्वाधिक उपयुक्त शब्द होगा-

- Ans 1. पर्यावरण
 2. व्यक्ति
 3. समाज
 4. समिति

Question ID : 65497828335

Status : Answered

Chosen Option : 1

Comprehension:

दिए गए अनुच्छेद में कुछ शब्द हटा दिए गए हैं। दिए गए विकल्पों की सहायता से रिक्त स्थान भरें। प्रत्येक सख्या के लिए सबसे उपयुक्त विकल्प का चयन करें।

हम यह कह सकते हैं कि हमारे चारों ओर (1)_____, वहीं (2)_____ है। प्रकृति ने हमारे लिए एक (3)_____ एव सुखद आवरण का निर्माण किया था, परन्तु मनुष्य ने (4)_____ सुखों के कारण – उसे (5)_____ कर दिया।

SubQuestion No : 23

Q.23 गद्यांश के रिक्त स्थान (3) के लिए सर्वाधिक उपयुक्त शब्द होगा-

- Ans 1. आश्चर्यजनक
 2. अपरम्पार
 3. स्वस्थ
 4. निकृष्ट

Question ID : 65497828336

Status : Answered

Chosen Option : 3

Comprehension:

दिए गए अनुच्छेद में कुछ शब्द हटा दिए गए हैं। दिए गए विकल्पों की सहायता से रिक्त स्थान भरें। प्रत्येक सख्या के लिए सबसे उपयुक्त विकल्प का चयन करें।

हम यह कह सकते हैं कि हमारे चारों ओर (1)_____, वहीं (2)_____ है। प्रकृति ने हमारे लिए एक (3)_____ एव सुखद आवरण का निर्माण किया था, परन्तु मनुष्य ने (4)_____ सुखों के कारण – उसे (5)_____ कर दिया।

SubQuestion No : 24

Q.24 गद्यांश के रिक्त स्थान (4) के लिए सर्वाधिक उपयुक्त शब्द होगा-

- Ans
- 1. राजनीतिक
 - 2. आध्यात्मिक
 - 3. सांस्कृतिक
 - 4. भौतिक

Question ID : 65497828337

Status : Answered

Chosen Option : 4

Comprehension:

दिए गए अनुच्छेद में कुछ शब्द हटा दिए गए हैं। दिए गए विकल्पों की सहायता से रिक्त स्थान भरें। प्रत्येक सख्या के लिए सबसे उपयुक्त विकल्प का चयन करें।

हम यह कह सकते हैं कि हमारे चारों ओर (1)_____, वहीं (2)_____ है। प्रकृति ने हमारे लिए एक (3)_____ एव सुखद आवरण का निर्माण किया था, परन्तु मनुष्य ने (4)_____ सुखों के कारण – उसे (5)_____ कर दिया।

SubQuestion No : 25

Q.25 गद्यांश के रिक्त स्थान (5) के लिए सर्वाधिक उपयुक्त शब्द होगा-

- Ans
- 1. उज्वल
 - 2. आकस्मिक
 - 3. दूषित
 - 4. अद्भुत

Question ID : 65497828338

Status : Answered

Chosen Option : 3

Exam Date	25/11/2021
Exam Time :	4:00 PM - 5:30 PM
Subject	Constable GD 2021

Section : Part A General Intelligence and Reasoning

Q.1 एक न त कू ट भाषा म , GRAPES को 66 के प म लखा जाता ह । उसी भाषा म PRAISE को कस प म लखा जाएगा?

- Ans
- 1. 69
 - 2. 66
 - 3. 67
 - 4. 68

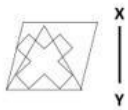
Question ID : 65497836475

Status : Answered

Chosen Option : 4

Q.2

Select the correct mirror image of the given figure when the mirror is placed at XY.



Ans

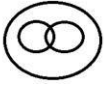
- 1.
- 2.
- 3.
- 4.

Question ID : 65497836477

Status : Answered

Chosen Option : 3

Q.3 वर्गों के उस समूह का चयन करें जिनके बीच के संबंध को निम्नांकित वेन आरेख द्वारा सबसे अधिक उचित तरीके से दर्शाया गया है।



- Ans
- ✗ 1. भारत, एशिया, बांग्लादेश
 - ✗ 2. मक्का, चावल, गाजर
 - ✗ 3. प्राकृतिक संख्याएँ, पूर्णांक, परिमेय संख्याएँ
 - ✗ 4. मानव, पुरुष, राजनेता

Question ID : 65497836486
Status : Answered
Chosen Option : 3

Q.4 Select the letter-cluster from among the given options that can replace the question mark (?) in the following series.

BZE, CWG, ESI, ?, LHM

- Ans
- ✓ 1. HNK
 - ✗ 2. HMK
 - ✗ 3. GNJ
 - ✗ 4. IML

Question ID : 65497836483
Status : Answered
Chosen Option : 1

Q.5 अ र के उस संयोजन का चयन कर जसे दी गई खं लाम र त थान पर मक प से रखने पर ंखला पूण हो जाएगी।

S_P_M_S_MP_

- Ans
- ✗ 1. MSPSSS
 - ✗ 2. PSMSSS
 - ✓ 3. MSSPSS
 - ✗ 4. PSMPPS

Question ID : 65497836471
Status : Answered
Chosen Option : 3

Q.6 चार अ र-समूह दूए गए ह , जनम से तीन कसी तरह से एक समान ह और एक भ ह । उस अ र-समूह कचयन कर जो भ ह ।

- Ans
- ✗ 1. TVX
 - ✓ 2. GJL
 - ✗ 3. BDF
 - ✗ 4. PRT

Question ID : 65497836474
Status : Answered
Chosen Option : 2

Q.7 उस वृत्त का चयन कर जो चौथी संख्या से उसी प्रकार संबंधित है, जिस प्रकार पहली संख्या दूसरी संख्या से संबंधित है।

625 : 25 :: ? : 35

- Ans
- 1. 1025
 - 2. 875
 - 3. 756
 - 4. 927

Question ID : 65497836479

Status : Marked For Review

Chosen Option : 3

Q.8 Select the number from among the given options that can replace the question mark (?) in the following series.

3, 4, 8, 17, 33, ?

- Ans
- 1. 58
 - 2. 56
 - 3. 49
 - 4. 69

Question ID : 65497836476

Status : Answered

Chosen Option : 1

Q.9 उस वृत्त का चयन कर, जिसमें दी गई संख्याओं के बीच वही संबंध है, जो दिए गए समूह में पहली संख्या और दूसरी संख्या के बीच है।

145, 5, 29

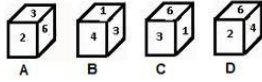
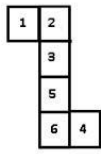
- Ans
- 1. 180, 16, 30
 - 2. 160, 20, 6
 - 3. 224, 14, 16
 - 4. 125, 10, 15

Question ID : 65497836489

Status : Answered

Chosen Option : 3

Q.10 उस बक्से का चयन करें, जिसे निम्नांकित पत्रक (शीट) को रेखाओं पर मोड़ने पर प्राप्त किया जा सकता है।



- Ans
1. केवल B
 2. A और D
 3. A और C
 4. केवल D

Question ID : 65497836481
Status : Answered
Chosen Option : 4

Q.11 सात में एक वृत्त का मंच पर केंद्र के ओर मुँह किए बैठे हैं। A, B के बाएँ दूसरे स्थान पर बैठे हैं। C, B और G के बीच बैठे हैं। D, C के बाएँ दूसरे स्थान पर बैठे हैं। E जो G के दाएँ दूसरे स्थान पर बैठे हैं, A और F के बीच बैठे हैं। G के बाएँ दूसरे स्थान पर कौन बैठे हैं ?

- Ans
1. D
 2. A
 3. E
 4. B

Question ID : 65497836478
Status : Answered
Chosen Option : 4

Q.12 एक नए त्रिकोण भाषण में, 'NOSE' को 'QPVF' के पदों में लिखा जाता है और 'HAND' को 'KBQE' के पदों में लिखा जाता है। उसी भाषण में 'FACE' को कस पदों में लिखा जाएगा?

- Ans
1. JCEE
 2. KCFF
 3. LBF E
 4. IBFF

Question ID : 65497836468
Status : Answered
Chosen Option : 4

Q.13 यदि 4^x और 4^{-x} तथा संख्या 5^y और 7^z (अंक नह) को आपस में बदल दिया जाए, तो नए लघुतम जक का मान कतना होगा?

$$18 - 20 \div 7 \times (15 + 5) + 3$$

- Ans
1. 12
 2. 28
 3. 35
 4. 47

Question ID : 65497836480
Status : Answered
Chosen Option : 4

Q.14 एक टली वजन को ₹8,820 के मूल्य पर बेचने से 12% लाभ अर्जित आ। यदि टली वजन को 24% कटौत करने पर बेचा जाता है, तो उसका नया मूल्य होगा?

- Ans
- 1. ₹6,205
 - 2. ₹5,940
 - 3. ₹5,985
 - 4. ₹6,930

Question ID : 65497836490
Status : Answered
Chosen Option : 3

Q.15 चार मनुष्य K, L, M और N एक पंक्ति में बैठे हैं, और उनके मुँह दक्षिण दिशा की ओर हैं। L और M दो अंतिम स्थानों पर बैठे हैं। K, L और N के बीच बैठा है और M के दाएँ दूसरा है। K के ठीक बाएँ कौन बैठा है?

- Ans
- 1. L
 - 2. M
 - 3. K
 - 4. N

Question ID : 65497836485
Status : Answered
Chosen Option : 4

Q.16 दिए गए कथन और निकाश को ध्यानपूर्वक पढ़ें। कथन में दी गई जानकारी को सही मानते हुए, निम्नलिखित कथनों में से कौन-सा/से कथन का ताकत से पालन करता है/करते हैं।

कथन:

सभी गीतकार माँ न गवाकर हैं।
कोई लेखाकार ताकत नहीं है।
सभी माँ न गवाकर लेखाकार हैं।

निकाश:

- i. कोई गीतकार ताकत नहीं है।
- ii. कुछ गीतकार ताकत हैं।

- Ans
- 1. केवल निकाश ii पालन करता है।
 - 2. केवल निकाश i पालन करता है।
 - 3. न तो निकाश i और न ही ii पालन करता है।
 - 4. या तो निकाश i या ii पालन करता है।

Question ID : 65497836488
Status : Answered
Chosen Option : 2

Q.17 Select the option that is related to the third letter-cluster in the same way as the second letter-cluster is related to the first letter-cluster.

GPHD : KTLH :: SDFG : ?

- Ans
- 1. VHKM
 - 2. UHJL
 - 3. XGJL
 - 4. WHJK

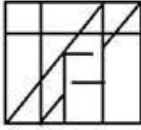
Question ID : 65497836467
Status : Answered
Chosen Option : 4

Q.18 Select the option in which the given figure is embedded (rotation is NOT allowed).

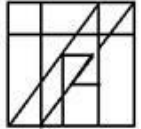


Ans

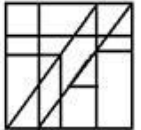
✗ 1.



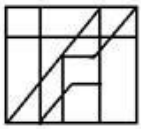
✓ 2.



✗ 3.



✗ 4.



Question ID : 65497836482

Status : Answered


Chosen Option : 2

Q.19 Select the figure from among the given options that can replace the question mark (?) in the following series.




Ans


✗ 1.




✗ 2.



✗ 3.



✓ 4.



Question ID : 65497836473

Status : Answered

Chosen Option : 4

Q.20 एक संयुक्त परिवार में 8 सदस्य P, Q, R, S, T, U, V और W हैं। Q, S का भाई है। V, Q और R का बेटा है।
S, U का भाई है। W, S और T की बेटी है। P, V की पत्नी है।
R का संबंध P के साथ क्या है ?

- Ans
- 1. चाची
 - 2. सास
 - 3. बहन
 - 4. माँ

Question ID : 65497836469
Status : Answered
Chosen Option : 2

Q.21 जिस कार का लयांक नंबर से संबंधित है, उसी कार का टैंक से संबंधित है।

- Ans
- 1. रोम
 - 2. जकार्ता
 - 3. माओ
 - 4. पेरिस

Question ID : 65497836484
Status : Answered
Chosen Option : 4

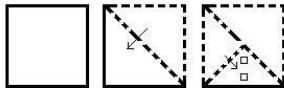
Q.22 वह सही शब्द चुन, जो दिए गए शब्दों के उस सही शब्द को दर्शाता है, जिसमें मधुमक्खन अंजीश कोश में दिखाई देते हैं।

1. Nebulous
2. Necessary
3. Necrosis
4. Nectarine
5. Negative

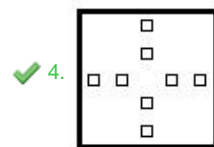
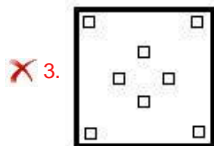
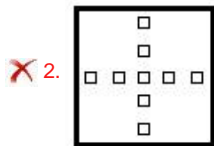
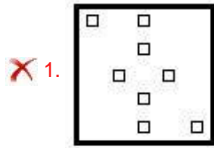
- Ans
- 1. 1, 2, 3, 4, 5
 - 2. 1, 3, 2, 4, 5
 - 3. 3, 2, 5, 4, 1
 - 4. 5, 4, 2, 3, 1

Question ID : 65497836470
Status : Answered
Chosen Option : 1

Q.23 The sequence of folding a piece of paper and the manner in which the folded paper has been cut is shown in the following figures. How would this paper look when unfolded?



Ans



Question ID : 65497836491
Status : Answered
Chosen Option : 2

Q.24 Select the number from among the given options that can replace the question mark (?) in the following series.

100, 96, 88, 76, 60, ?

- Ans
- ✗ 1. 38
 - ✓ 2. 40
 - ✗ 3. 35
 - ✗ 4. 20

Question ID : 65497836472
Status : Answered
Chosen Option : 2

Q.25 एक न त कू ट भाषा म , 'DECK' को 'WVXP' लखा जाता ह , और 'CLAIM' को 'XOZRN' लखा जाता ह ।उसी कू ट भाषा म 'MASCOT' को कस कार लखा जाएगा?

- Ans
- ✓ 1. NZHXLG
 - ✗ 2. OZHXMG
 - ✗ 3. NZGXKG
 - ✗ 4. NZHYKH

Question ID : 65497836487
Status : Answered
Chosen Option : 1

Q.1 कोलकाता में सा लेक े डयम का नामकरण कसके नाम पर किया

- गया है? Ans 1. नेताजी सुभाष चं बोस
 2. ामी ववेकानंद
 3. गो ो पॉल
 4. ोत बसु

Question ID : 65497836492
Status : Answered
Chosen Option : 2

Q.2 यु े म अपने ु न पर जीत काज मनाने के लिए, नागालड क चांग जनजात कौन-सा नृ

- करती है? Ans 1. चेराव
 2. चांग लो
 3. न ग े म
 4. भीरताल

Question ID : 65497836506
Status : Not Attempted and Marked For Review
Chosen Option : --

Q.3 न लखत में से कनरा में 5व आयुवद दस पर दो आयुवद सं ान आरंभ

- किए गए? Ans 1. राज ान और गुजरात
 2. महारा और कनाटक
 3. पंजाब और हरियाणा
 4. उ र द श और आं द श

Question ID : 65497836500
Status : Not Answered
Chosen Option : --

Q.4 नवंबर 2020 में क ा (ऑक्ट) में लॉ कए गए सए ू गन अंतर यान को इसके चालक दल ने _____ नाम दिया था।

- Ans 1. प स स
 2. र सलएं स
 3. ए ोरस
 4. पेस वेर

Question ID : 65497836511
Status : Answered
Chosen Option : 4

Q.5 कसरा सरकार ने नवंबर 2020 में छोटा ापा रय और कारीगर को ाज मु ऋण दान करने के लिए 'जगन ा थोड ' योजना शु क थी?

- Ans 1. आं द श
 2. के रल
 3. तेलंगाना
 4. प म बंगाल

Question ID : 65497836497
Status : Answered
Chosen Option : 1

Q.6 चो झील जो क भारत क सबसे बड़ी खार पानी क झील ह , कस रा म

- तह Ans 1. आं द श
 2. प म बंगाल
 3. ओ डशा
 4. छीसगढ

Question ID : 65497836503
Status : Answered
Chosen Option : 3

Q.7 1968 म भारत सरकार ारा द साह अकादमी अेतावृ पाने वाले थम कौन थे? Ans 1. सी. नारायण री

2. एस. राधाकृ न
 3. वी.एस. नायपॉल
 4. एस.एल. भयर ा

Question ID : 65497836509
Status : Not Attempted and Marked For Review
Chosen Option : --

Q.8 अग 2020 म, क सरकार ने ंसजडर य (अ धकार का संरण) अध नयम, 2019 क धारा _____ ारा द अधकार का योग करके ंसजडर लोग के लए राीय प रषद का गठन कया ह ।

- Ans 1. 16
 2. 22
 3. 25
 4. 18

Question ID : 65497836496
Status : Not Answered
Chosen Option : --

Q.9 हसद व और ज क न दयाँ भारत के कस रा म पाई जाती ह

- ? Ans 1. अ णाचल द श
 2. गोवा
 3. छीसगढ
 4. हरयाणा

Question ID : 65497836513
Status : Answered
Chosen Option : 1

Q.10 ानपीठ पुर ार पहली बार कस वष म दान कया

- गया थ? Ans 1. 1957
 2. 1965
 3. 1961
 4. 1963

Question ID : 65497836504
Status : Not Attempted and Marked For Review
Chosen Option : --

Q.11 अं तम शुंग शासक क ह ा उसके मं ि वासुद व ने क थी, जसने आगे चलकर ___ वंश क ापना क ।

- Ans
- 1. कोरवी
 - 2. क
 - 3. काकतीय
 - 4. कलचुरी

Question ID : 65497836516
Status : Answered
Chosen Option : 2

Q.12 महानवमी ड ा का ऐ तहा सक मह न ल खत म से कस राजवंश से जुड़ा ह?

- Ans
- 1. चौहान
 - 2. चोल
 - 3. वजयनगर
 - 4. पां

Question ID : 65497836493
Status : Answered
Chosen Option : 4

Q.13 ूट रयम और टयम न ह :

- Ans
- 1. हाइ ोजन के सम ानक
 - 2. काबन के सम ानक
 - 3. यूर नयम के सम ानक
 - 4. टाइट नयम के सम ानक

Question ID : 65497836498
Status : Not Attempted and Marked For Review
Chosen Option : --

Q.14 न ल खत म से कसने स कोह-ए-नूर हीरा और शाहजहाँ के र जड़त मयूर स हासन को छीन लया?

- Ans
- 1. मुह द शाह
 - 2. रजीत स ह
 - 3. शाह आलम तीय
 - 4. ना दर शाह

Question ID : 65497836494
Status : Answered
Chosen Option : 4

Q.15 न ल खत से कस सू जीव के कारण साइ सक कर होता ह?

- Ans
- 1. वषाणु (वायरस)
 - 2. जीवाणु (बै ि रया)
 - 3. कवक
 - 4. ोटोजोआ

Question ID : 65497836508
Status : Not Attempted and Marked For Review
Chosen Option : --

Q.16 धान में की नर मोदी ने भारत में नोटबंदी की घोषणा किस वर्ष की थी?

- Ans
- 1. 2018
 - 2. 2016
 - 3. 2014
 - 4. 2012

Question ID : 65497836512
Status : Answered
Chosen Option : 2

Q.17 2011 की जनगणना के अनुसार, न लखत में से कसरा में लगानुपात (त 1000 पुष क तुलनामम हलाएँ) 1000 से अधक ह ?

- Ans
- 1. महारा
 - 2. बहार
 - 3. राज ान
 - 4. के रल

Question ID : 65497836501
Status : Answered
Chosen Option : 4

Q.18 भारत के संवधान के ावना में न लखत में से कौन सा श स लत नह

- ह? Ans
- 1. सं भु (Sovereign)
 - 2. ाय (Justice)
 - 3. बंधुता (Fraternity)
 - 4. पूँजीवादी (Capitalist)

Question ID : 65497836495
Status : Answered
Chosen Option : 4

Q.19 न लखत में से कौन सा जहरीला पौधा नह ह?

- Ans
- 1. ने रयम ओ लयंडर
 - 2. कै लो ो पस
 - 3. पाथ नयम
 - 4. सीना

Question ID : 65497836507
Status : Answered
Chosen Option : 2

Q.20 आ थ क मामल क कै बनेट स मत (CCEA) ने रबी माक ट ग अव ध 2022-23 के लए गे ं का ूनतम सभ्मू (MSP) त टल नधा रत क्या ह ।

- Ans
- 1. ₹2,015
 - 2. ₹1,995
 - 3. ₹2,005
 - 4. ₹1,975

Question ID : 65497836515
Status : Answered
Chosen Option : 1

Q.21 1845-46 ई की अवधि के दौरान नलखतम से कौन सी लड़ाई लड़ी गई थी?

- Ans
- 1. थम आं -सख यु
 - 2. थम आं -मराठा यु
 - 3. तीय आं -मराठा यु
 - 4. तीय आं -सख यु

Question ID : 65497836499
Status : Answered
Chosen Option : 2

Q.22 भारतीय दंड संहिता क धारा 304B _____ से संबंधित है।

- Ans
- 1. आहूत करने का यास
 - 2. आहूत का उरण
 - 3. लापरवाही से ईमू
 - 4. दहजहूत

Question ID : 65497836510
Status : Not Attempted and Marked For Review
Chosen Option : --

Q.23 नलखतम से कौन सा ारक खलजी राजवंश ारा बनवाया गया था?

- Ans
- 1. अलाई दरवाजा
 - 2. बड़ा गुंबद
 - 3. शीश गुंबद
 - 4. सफदरजंग का मकबरा

Question ID : 65497836502
Status : Answered
Chosen Option : 1

Q.24 कौन से भारतीय कान, सबसे तेज 12000 वनड रन बनाने वाले के टर बने? उन ने 2020 म यह उपल हा सलक।

- Ans
- 1. भुवनेश्वर कुमार
 - 2. सुरेश रना
 - 3. रवचन अश्विन
 - 4. वराट कोहली

Question ID : 65497836505
Status : Answered
Chosen Option : 4

Q.25 मई 2021 म, अंतराीय ओलंपिक समित ने तयो गता म ह रफेर को रोकने के उ से संचालत अपने बीइनोट (Believe in Sport) अभियान के लए _____ को एथलीट एंबेसडर के प म ना मत कया।

- Ans
- 1. PV संधु
 - 2. मनका बं
 - 3. मैरी कॉम
 - 4. साइखोम मीराबाई चानू

Question ID : 65497836514
Status : Answered
Chosen Option : 4

Q.1 एक डेयरी मालिक प्रतिदिन 3 किस्मों - फुल क्रीम, टॉड और डबल टॉड - के एक लीटर के पैकेटों में 528 लीटर दूध बेचता है। टॉड दूध के पैकेटों की बिक्री, फुल क्रीम दूध के पैकेटों की तुलना में 80% अधिक है, और डबल टॉड दूध के पैकेटों की बिक्री, टॉड दूध के पैकेटों की तुलना में 60% कम है। वह प्रतिदिन डबल टॉड दूध के कितने पैकेट बेचता है?

- Ans
1. 100
 2. 112
 3. 108
 4. 110

Question ID : 65497836540
Status : Answered
Chosen Option : 3

Q.2 यदि केलों को ₹7 प्रति केले के बजाय ₹10 प्रति केले के मूल्य पर बेचा जाता है, तो कुछ केलों के विक्रय मूल्यों के बीच का अंतर ₹990 है। यदि सभी केलों का क्रय मूल्य ₹1,980 है, और यदि अर्जित लाभ 18% है, तो दस केलों का विक्रय मूल्य (₹ में) कितना होगा?

- Ans
1. 90.20
 2. 70.80
 3. 99.00
 4. 60.00

Question ID : 65497836519
Status : Not Attempted and Marked For Review
Chosen Option : --

Q.3 B किसी कार्य को पूरा करने के लिए, A द्वारा लिए गए दिनों की संख्या का पाँच गुना लेता है। एक साथ काम करके, वे काम को 15 दिनों में पूरा कर देते हैं। उसी काम को पूरा करने में अकेले A को कितने दिन लगेंगे?

- Ans
1. 20
 2. 12
 3. 18
 4. 16

Question ID : 65497836523
Status : Answered
Chosen Option : 3

Q.4 A, B और C तीन संख्याएँ हैं। A, B से 45% अधिक है और C, A से 60% कम है। B, C से कितने प्रतिशत (निकटतम पूर्णांक तक) अधिक है?

- Ans
1. 42%
 2. 72%
 3. 70%
 4. 68%

Question ID : 65497836533
Status : Answered
Chosen Option : 1

Q.5 वह छोटी से छोटी संख्या कौन सी है, जो 4 से 9 तक की सभी संख्याओं से विभाज्य है?

- Ans
1. 2540
 2. 2520
 3. 1520
 4. 840

Question ID : 65497836539
Status : Answered
Chosen Option : 2

Q.6 18 m लंबी, 10 m ऊंची और 40 cm चौड़ी एक दीवार को 30 cm, 15 cm और 10 cm की विमाओं वाली ईंटों का उपयोग करके निर्मित करना है। कितनी ईंटों (हजारों में) की आवश्यकता होगी?

- Ans
1. 16000
 2. 16
 3. 14
 4. 14000

Question ID : 65497836518
Status : Not Attempted and Marked For Review
Chosen Option : --

Q.7 10 और 20 के बीच 3 के पहले तीन गुणजों के औसत और 4 के पहले 2 गुणजों के औसत के बीच का अंतर ज्ञात करें।

- Ans
1. 2
 2. 3
 3. 1
 4. 4

Question ID : 65497836528
Status : Answered
Chosen Option : 3

Q.8 $10 - [378 \div 6 \text{ of } 9 - (25 - 72 \div 3)]$ का मान कितना होगा?

- Ans
1. 4
 2. 1
 3. 3
 4. 9

Question ID : 65497836521
Status : Answered
Chosen Option : 1

Q.9 ₹75,000 की धनराशि का, वार्षिक आधार पर चक्रवृद्धि होने वाली एक निश्चित वार्षिक ब्याज दर पर 2 वर्षों में प्राप्त चक्रवृद्धि ब्याज ₹6,120 है। यदि ब्याज त्रैमासिक आधार पर चक्रवृद्धि होता है, तो ₹1,00,000 की धनराशि की उसी ब्याज दर पर एक वर्ष के बाद प्राप्त धनराशि (₹ में, दशमलव के दो स्थानों तक सही) कितनी होगी?

- Ans
1. 1,04,060.40
 2. 1,00,400.60
 3. 1,06,040.20
 4. 1,40,060.50

Question ID : 65497836520

Status : **Not Attempted and Marked For Review**

Chosen Option : --

Q.10 $72 - [20 - \{10 - (6 - \overline{6-4})\}]$ का मान कितना है?

- Ans
1. 48
 2. 58
 3. 44
 4. 56

Question ID : 65497836524

Status : **Answered**

Chosen Option : 2

Q.11 कोई व्यक्ति 1000 m लंबा पुल 6 min में पार करता है। उसकी चाल (km/h में) कितनी है?

- Ans
1. 8
 2. 16
 3. 10
 4. 12

Question ID : 65497836525

Status : **Answered**

Chosen Option : 3

Q.12 एक निश्चित धनराशि, एकसमान वार्षिक साधारण ब्याज दर से 4 वर्ष में ₹12,420 और 7 वर्ष में ₹14,985 हो जाती है। वह धनराशि कितनी है?

- Ans
1. ₹9,000
 2. ₹8,400
 3. ₹9,500
 4. ₹8,800

Question ID : 65497836537

Status : **Answered**

Chosen Option : 1

Q.13 पहली चार अभाज्य संख्याओं के लघुत्तम समापवर्त्य (LCM) का, पहली तीन भाज्य संख्याओं के महत्तम समापवर्तक (HCF) से अनुपात ज्ञात करें।

- Ans
1. 168 : 1
 2. 105 : 1
 3. 6 : 1
 4. 26 : 1

Question ID : 65497836527
Status : Answered
Chosen Option : 2

Q.14 यदि $A : B = 8 : 9$ और $B : C = 12 : 55$ है, तो $A : B : C$ का मान क्या है?

- Ans
1. 32 : 36 : 165
 2. 32 : 165 : 36
 3. 32 : 36 : 156
 4. 36 : 32 : 165

Question ID : 65497836517
Status : Answered
Chosen Option : 1

Q.15 दुकानदार ने एक वस्तु की कीमत इस प्रकार अंकित की जिससे वह उसके क्रय मूल्य पर 30% का लाभ अर्जित करे। फिर उसने अंकित मूल्य पर 12% की छूट पर इसे बेच दिया। उसके द्वारा अर्जित वास्तविक प्रतिशत लाभ ज्ञात करें।

- Ans
1. 15.2%
 2. 14.2%
 3. 14.4%
 4. 13.8%

Question ID : 65497836532
Status : Not Attempted and Marked For Review
Chosen Option : --

Q.16 एक वस्तु को ₹2,900 में बेचकर एक दुकानदार 16% का लाभ अर्जित करता है। यदि उसने इसे ₹3,050 में बेचा होता, तो उसका प्रतिशत लाभ क्या होता?

- Ans
1. 20.5%
 2. 22%
 3. 21%
 4. 20%

Question ID : 65497836541
Status : Answered
Chosen Option : 2

Q.17 यदि 51, x , 72 और 96 समानुपाती हैं, तो $(2x+8)$ और $(x+13)$ के बीच मध्यानुपात कितना होगा?

- Ans
1. 112
 2. 117
 3. 96
 4. 108

Question ID : 65497836536
Status : Answered
Chosen Option : 4

Q.18 दुकानदार A, ₹500 के अंकित मूल्य पर 8% और 12% की दो क्रमिक छूट देता है। एक अन्य दुकानदार B, उसी अंकित मूल्य वाली उसी वस्तु पर 20% की एकल छूट देता है। उनके विक्रय मूल्यों में अंतर ज्ञात करें।

- Ans
1. ₹4.40
 2. ₹4.80
 3. ₹3.20
 4. ₹5.20

Question ID : 65497836526
Status : Answered
Chosen Option : 2

Q.19 समान लंबाई की दो ट्रेनें A और B समानांतर पटरियों पर एक ही दिशा में क्रमशः 64.8 km/h और 50.4 km/h की चाल से चल रही हैं। ट्रेन A, ट्रेन B को एक मिनट में पार करती है। प्रत्येक ट्रेन की लंबाई (m में) ज्ञात करें।

- Ans
1. 150
 2. 125
 3. 100
 4. 120

Question ID : 65497836535
Status : Not Answered
Chosen Option : --

Q.20 A और B मिलकर किसी कार्य को 24 दिनों में पूरा कर सकते हैं। B और C मिलकर इसे 30 दिनों में पूरा कर सकते हैं। यदि A की दक्षता C की तुलना में दोगुनी है, तो B अकेले उसी कार्य को पूरा करने के लिए कितने दिनों का समय लेगा?

- Ans
1. 36
 2. 40
 3. 30
 4. 48

Question ID : 65497836534
Status : Answered
Chosen Option : 2

Q.21 एक वृत्ताकार भूखंड का परिमाण 440 m है। इसके परितः 5 m चौड़ा वृत्ताकार पथ है। पथ का क्षेत्रफल (m^2 में, $\pi = \frac{22}{7}$ मानते हुए) लगभग कितना होगा?

- Ans
1. 2278.6
 2. 1822.9
 3. 2121.4
 4. 1964.3

Question ID : 65497836538
Status : Not Answered
Chosen Option : --

Q.22 ₹7,800 की राशि को A, B और C में इस प्रकार विभाजित किया जाता है कि B का हिस्सा A के हिस्से का $\frac{1}{3}$ है और C का हिस्सा B के हिस्से से 20% अधिक है। A का हिस्सा ज्ञात करें।

- Ans
1. ₹4,500
 2. ₹2,500
 3. ₹1,500
 4. ₹3,000

Question ID : 65497836529
Status : Answered
Chosen Option : 1

Q.23 23 छात्रों का औसत भार 53 kg दर्ज किया गया था। एक शिक्षक का भार भी शामिल करने पर, औसत भार में 100 g की वृद्धि हुई। शिक्षक का भार (kg में) ज्ञात करें।

- Ans
1. 55.8
 2. 56.4
 3. 55.4
 4. 56.2

Question ID : 65497836531
Status : Answered
Chosen Option : 3

Q.24 एक निश्चित धनराशि के लिए, 5% वार्षिक ब्याज दर पर, 2 वर्ष के साधारण ब्याज (SI) और वार्षिक रूप से चक्रवृद्धि होने वाले चक्रवृद्धि ब्याज (CI) के बीच का अंतर ₹25.00 है। वह धनराशि ज्ञात करें।

- Ans
1. ₹12,000
 2. ₹8,000
 3. ₹7,500
 4. ₹10,000

Question ID : 65497836530
Status : Answered
Chosen Option : 4

Q.25 एक व्यक्ति ने एक पुरानी वस्तु ₹5,400 में खरीदी और उसकी मरम्मत पर ₹200 खर्च किए। उसने इसे ₹6,300 में बेच दिया। उसका लाभ प्रतिशत क्या है?

- Ans 1. 12.5
 2. 10
 3. 12
 4. 14

Question ID : 65497836522
Status : Answered
Chosen Option : 1

Section : Part D English

Q.1 Select the INCORRECTLY spelt word.

- Ans 1. Pronunciation
 2. Prolong
 3. Procrastination
 4. Proactivity

Question ID : 65497836553
Status : Answered
Chosen Option : 2

Q.2 Select the most appropriate meaning of the given idiom.

Gift of the gab

- Ans 1. Ability to draw sketches
 2. Ability to please others
 3. Ability to speak confidently and clearly
 4. Ability to speak in a sarcastic tone

Question ID : 65497836552
Status : Answered
Chosen Option : 3

Q.3 Select the most appropriate option to fill in the blank.

If you do not pay your _____ you will be imprisoned.

- Ans 1. debit
 2. debt
 3. damage
 4. deed

Question ID : 65497836561
Status : Answered
Chosen Option : 2

Q.4 Select the INCORRECTLY spelt word.

- Ans
- 1. Progress
 - 2. Vicious
 - 3. Accuse
 - 4. Acclame

Question ID : 65497836549
Status : Answered
Chosen Option : 4

Q.5 Select the most appropriate option that can substitute the underlined segment in the given sentence. If there is no need to substitute it, select 'No substitution required'.

Skydiving was a rare opportunity that I had got, so, even though I was exhausted, I decided to go for it.

- Ans
- 1. No substitution required
 - 2. as yet though
 - 3. still even if
 - 4. so despite however

Question ID : 65497836542
Status : Answered
Chosen Option : 3

Q.6 Select the option that can be used as a one-word substitute for the given group of words.

The action of killing oneself intentionally

- Ans
- 1. Parricide
 - 2. Homicide
 - 3. Suicide
 - 4. Genocide

Question ID : 65497836557
Status : Answered
Chosen Option : 3

Q.7 Select the option that will improve the underlined part of the given sentence. In case no improvement is needed, select 'No improvement required'.

Since he is strong, he is quite timid.

- Ans
- 1. Although
 - 2. No improvement required
 - 3. Because
 - 4. Besides

Question ID : 65497836559
Status : Answered
Chosen Option : 1

Q.8 Select the most appropriate ANTONYM of the given word.

Aggressive

- Ans 1. Sharp
 2. Calm
 3. Excited
 4. Simple

Question ID : 65497836558
Status : Answered
Chosen Option : 2

Q.9 Select the most appropriate synonym of the given word.

Amiable

- Ans 1. Honest
 2. Dishonest
 3. Friendly
 4. Disagreeable

Question ID : 65497836551
Status : Answered
Chosen Option : 3

Q.10 Select the most appropriate option to fill in the blank.

He has been _____ in his performance throughout.

- Ans 1. conducive
 2. connotative
 3. consistent
 4. constructive

Question ID : 65497836554
Status : Answered
Chosen Option : 4

Q.11 The following sentence has been split into four segments. Identify the segment that contains a grammatical error.

The teacher punished him / and told him / that he does not / need to give a clarification.

- Ans 1. need to give a clarification
 2. The teacher punished him
 3. and told him
 4. that he does not

Question ID : 65497836550
Status : Answered
Chosen Option : 3

Q.12 Select the option that can be used as a one-word substitute for the given group of words.

A person who takes care of cattle

- Ans 1. Gardener
 2. Cowherd
 3. Guard
 4. Landlord

Question ID : 65497836545
Status : Answered
Chosen Option : 2

Q.13 Select the most appropriate option that can substitute the underlined segment in the given sentence. If there is no need to substitute it, select 'No substitution required'.

The interviews will be held between 11 a.m. to 5 p.m.

- Ans 1. will be held from
 2. will be held at
 3. No substitution required
 4. will hold during

Question ID : 65497836544
Status : Answered
Chosen Option : 1

Q.14 Select the most appropriate synonym of the given word.

Immerse

- Ans 1. Immediate
 2. Immoral
 3. Submission
 4. Submerge

Question ID : 65497836556
Status : Answered
Chosen Option : 4

Q.15 Select the most appropriate meaning of the given idiom.

Blue blood

- Ans 1. Rare sight
 2. Noble birth
 3. Bad mood
 4. Weak person

Question ID : 65497836560
Status : Answered
Chosen Option : 3

Q.16 Select the option that can be used as a one-word substitute for the given group of words.

Lack of feeling

- Ans 1. Sympathy
 2. Apathy
 3. Telepathy
 4. Empathy

Question ID : 65497836548

Status : Answered

Chosen Option : 4

Q.17 Select the most appropriate ANTONYM of the given word.

Frivolous

- Ans 1. Quiet
 2. Wise
 3. Idle
 4. Petty

Question ID : 65497836547

Status : Answered

Chosen Option : 1

Q.18 The following sentence has been split into four segments. Identify the segment that contains a grammatical error.

Philip was / too proud / for extending / a hand of friendship.

- Ans 1. a hand of friendship
 2. Philip was
 3. for extending
 4. too proud

Question ID : 65497836546

Status : Answered

Chosen Option : 4

Q.19 Parts of the given sentence have been given as options. One of them contains a grammatical error. Select the option that has the error.

Go to the ninth block on the left-hand side and take a sharpest turn to reach Bunny's house on the right.

- Ans 1. on the right
 2. Go to the ninth block
 3. Bunny's house
 4. take a sharpest turn

Question ID : 65497836555

Status : Answered

Chosen Option : 1

Q.20 Select the most appropriate option to fill in the blank.

The _____ cannot be a panacea for all respiratory infections.

- Ans
- 1. healing
 - 2. care
 - 3. diagnosis
 - 4. treatment

Question ID : 65497836543

Status : Answered

Chosen Option : 1

Comprehension:

In the following passage, some words have been deleted. Read the passage carefully and select the most appropriate option to fill in each blank.

The human skeleton is the (1) _____ framework of our body. It gives shape and support to the body. (2) _____, it provides protection, makes blood cells, stores minerals and regulates hormones. The spinal cord is an (3) _____ part of our body. The ribcage protects our lungs and heart. To increase the (4) _____ of our bones, we should include calcium in our diet. All our (5) _____ organs are protected by this skeletal system.

SubQuestion No : 21

Q.21 Select the most appropriate option to fill in blank no. 1.

- Ans
- 1. external
 - 2. superficial
 - 3. internal
 - 4. middle

Question ID : 65497836563

Status : Answered

Chosen Option : 3

Comprehension:

In the following passage, some words have been deleted. Read the passage carefully and select the most appropriate option to fill in each blank.

The human skeleton is the (1) _____ framework of our body. It gives shape and support to the body. (2) _____, it provides protection, makes blood cells, stores minerals and regulates hormones. The spinal cord is an (3) _____ part of our body. The ribcage protects our lungs and heart. To increase the (4) _____ of our bones, we should include calcium in our diet. All our (5) _____ organs are protected by this skeletal system.

SubQuestion No : 22

Q.22 Select the most appropriate option to fill in blank no. 2.

- Ans
- 1. Besides
 - 2. Unless
 - 3. Beside
 - 4. Although

Question ID : 65497836564

Status : Answered

Chosen Option : 4

Comprehension:

In the following passage, some words have been deleted. Read the passage carefully and select the most appropriate option to fill in each blank.

The human skeleton is the (1)_____framework of our body. It gives shape and support to the body. (2)_____, it provides protection, makes blood cells, stores minerals and regulates hormones. The spinal cord is an (3)_____part of our body. The ribcage protects our lungs and heart. To increase the (4)_____of our bones, we should include calcium in our diet. All our (5)_____organs are protected by this skeletal system.

SubQuestion No : 23

Q.23 Select the most appropriate option to fill in blank no. 3.

- Ans 1. important
 2. eternal
 3. alert
 4. insignificant

Question ID : 65497836565

Status : Answered

Chosen Option : 1

Comprehension:

In the following passage, some words have been deleted. Read the passage carefully and select the most appropriate option to fill in each blank.

The human skeleton is the (1)_____framework of our body. It gives shape and support to the body. (2)_____, it provides protection, makes blood cells, stores minerals and regulates hormones. The spinal cord is an (3)_____part of our body. The ribcage protects our lungs and heart. To increase the (4)_____of our bones, we should include calcium in our diet. All our (5)_____organs are protected by this skeletal system.

SubQuestion No : 24

Q.24 Select the most appropriate option to fill in blank no. 4.

- Ans 1. value
 2. length
 3. strength
 4. ability

Question ID : 65497836566

Status : Answered

Chosen Option : 3

Comprehension:

In the following passage, some words have been deleted. Read the passage carefully and select the most appropriate option to fill in each blank.

The human skeleton is the (1)_____framework of our body. It gives shape and support to the body. (2)_____, it provides protection, makes blood cells, stores minerals and regulates hormones. The spinal cord is an (3)_____part of our body. The ribcage protects our lungs and heart. To increase the (4)_____of our bones, we should include calcium in our diet. All our (5)_____organs are protected by this skeletal system.

SubQuestion No : 25

Q.25 Select the most appropriate option to fill in blank no. 5.

- Ans 1. fundamental
 2. secret
 3. secondary
 4. vital

Question ID : 65497836567

Status : Answered

Chosen Option : 2

Q.1 दए गए श का समानाथ श बताइए।

कथा

- Ans 1. उप ास
 2. आ ान
 3. गीत
 4. नाटक

Question ID : 65497836569
Status : Not Answered
Chosen Option : --

Q.2 दये गये वा के कस भाग म

ट हऱ्मारी श ा नाली म कई
दोष ह ।

- Ans 1. हमारी
 2. श ा नाली
 3. म कई
 4. दोष ह।

Question ID : 65497836585
Status : Not Answered
Chosen Option : --

Q.3 सही वत नी वाले श का चयन कर।

- Ans 1. आश वाद
 2. आ शरवाद
 3. आ शवाद
 4. आशीवा द

Question ID : 65497836579
Status : Not Answered
Chosen Option : --

Q.4 न ल खत म , दए गए चार वक म से, उस वक का चयन कर जो मुहावर का अथ करता

ह। गद न उठाना

- Ans 1. चुप कराना
 2. ल त करना
 3. वरोध करना
 4. होश संभालना

Question ID : 65497836578
Status : Not Answered
Chosen Option : --

Q.5 रिक्त स्थान को भरने के लिए सबसे उपयुक्त शब्द का चयन करें।

निकम्मे व्यक्ति सदैव ख्याली _____ ही पकाते रहते हैं।

- Ans
- 1. पुलाव
 - 2. चने
 - 3. खिचड़ी
 - 4. चावल

Question ID : 65497836574
Status : Not Answered
Chosen Option : --

Q.6 दिए गए शब्द का विलोम चुनें।

ग्राह्य

- Ans
- 1. सुग्राह्य
 - 2. अग्राह्य
 - 3. विग्राह्य
 - 4. अपग्राह्य

Question ID : 65497836575
Status : Not Answered
Chosen Option : --

Q.7 'एकाएक घटित होने वाला' वाक्यांश के लिए एक शब्द होगा-

- Ans
- 1. यांत्रिक
 - 2. तात्कालिक
 - 3. आश्चर्य
 - 4. आकस्मिक

Question ID : 65497836584
Status : Not Answered
Chosen Option : --

Q.8 दिए गए वाक्य का वो भाग ज्ञात करें जिसमें कोई त्रुटि है। यदि कोई त्रुटि नहीं है, तो 'कोई त्रुटि नहीं है' चुनें।

युवराज ने (1)\ एक ओवर में (2)\ छह छक्के लगाया (3)\ कोई त्रुटि नहीं है (4)

- Ans
- 1. 4
 - 2. 2
 - 3. 3
 - 4. 1

Question ID : 65497836568
Status : Not Answered
Chosen Option : --

Q.9 रिक्त स्थान को भरने के लिए सबसे उपयुक्त विकल्प का चयन करें।

निखिल हरमोनियम बजाने में _____ है।

- Ans
- 1. दक्ष
 - 2. कारीगर
 - 3. प्रवीण
 - 4. निपुण

Question ID : 65497836587
Status : Not Answered
Chosen Option : --

Q.10 दिए गए शब्द के विलोम शब्द का चयन करें।

ऐक्य

- Ans
- 1. मतैक्य
 - 2. अनेक
 - 3. अनैक्य
 - 4. विभाज्य

Question ID : 65497836572
Status : Not Answered
Chosen Option : --

Q.11 जितनी जल्दी हो सके उतनी जल्दी काम कीजिए।

रेखांकित शब्द समूह के स्थान पर उचित शब्द प्रस्थापित कीजिए।

- Ans
- 1. आराम से
 - 2. शांति
 - 3. यथाशीघ्र
 - 4. धीरे-धीरे

Question ID : 65497836583
Status : Not Answered
Chosen Option : --

Q.12 दिए गए वाक्य का वो भाग ज्ञात करें जिसमें कोई त्रुटि है। यदि कोई त्रुटि नहीं है, तो 'कोई त्रुटि नहीं है' चुनें।

लोग आपकी (1)\ बुद्धिमत्ता की (2)\ सराहना करते हैं (3)\ कोई त्रुटि नहीं है (4)

- Ans
- 1. 2
 - 2. 3
 - 3. 1
 - 4. 4

Question ID : 65497836570
Status : Not Answered
Chosen Option : --

Q.13 निम्नलिखित प्रश्न में, दिए गए चार विकल्पों में से, उस विकल्प का चयन करें जो मुहावरे का अर्थ व्यक्त करता है।

गुरु घंटाल होना

- Ans
- 1. अयोग्य होना
 - 2. मूर्ख होना
 - 3. आलसी होना
 - 4. बहुत धूर्त होना

Question ID : 65497836576
Status : Not Answered
Chosen Option : --

Q.14 रिक्त स्थान को भरने के लिए सबसे उपयुक्त विकल्प का चयन करें।

तेल का व्यापार उसका खानदानी _____ है।

- Ans
- 1. मन
 - 2. पेशा
 - 3. शौक
 - 4. जागीर

Question ID : 65497836582
Status : Not Answered
Chosen Option : --

Q.15 दिये गये वाक्यांश के लिए एक शब्द दीजिये।

जो सब जानता हो

- Ans
- 1. सर्वज्ञ
 - 2. विज्ञ
 - 3. सुज्ञ
 - 4. अज्ञ

Question ID : 65497836577
Status : Not Answered
Chosen Option : --

Q.16 दिये गये वाक्य में रेखांकित अंश को प्रतिस्थापित करने के लिए सबसे उपयुक्त विकल्प का चयन करें।

सब लोग अपनी राय दें।

- Ans
- 1. अपना-अपना
 - 2. अपना
 - 3. अपनी-अपनी
 - 4. अपने

Question ID : 65497836581
Status : Not Answered
Chosen Option : --

Q.17 दिए गए वाक्य में रेखांकित खंड को प्रतिस्थापित करने के लिए सबसे उपयुक्त विकल्प का चयन करें। यदि इसे प्रतिस्थापित करने की आवश्यकता नहीं है, तो विकल्प 'किसी बदलाव की आवश्यकता नहीं है' का चयन करें।

गुरु जी की औदार्य की लोग प्रशंसा करते हैं।

- Ans
- 1. के औदार्य की लोग प्रशंसा करते हैं।
 - 2. किसी बदलाव की आवश्यकता नहीं है।
 - 3. की औदार्य का लोग प्रशंसा करते हैं।
 - 4. के औदार्य की लोग प्रशंसा करते हैं।

Question ID : 65497836571
Status : Not Answered
Chosen Option : --

Q.18 'रजनी' का पर्यायवाची है-

- Ans
- 1. वसुधा
 - 2. रमणी
 - 3. निशा
 - 4. शारदा

Question ID : 65497836586
Status : Not Answered
Chosen Option : --

Q.19 सही वर्तनी वाले शब्द का चयन करें।

- Ans
- 1. आन्धुनिक
 - 2. आधुनीक
 - 3. अधुनिक
 - 4. आधुनिक

Question ID : 65497836580
Status : Not Answered
Chosen Option : --

Q.20 दिए गये वाक्यांश के लिए एक शब्द दीजिये।

जिसके समान कोई दूसरा न हो

- Ans
- 1. अनुपम
 - 2. अद्भुत
 - 3. अनूठा
 - 4. अद्वितीय

Question ID : 65497836573
Status : Not Answered
Chosen Option : --

Comprehension:

दिए गए गद्यांश में कुछ शब्द हटा दिए गए हैं। दिए गए विकल्पों की सहायता से रिक्त स्थान भरें। प्रत्येक संख्या के लिए सबसे उपयुक्त विकल्प का चयन करें।

अपने इतिहास के अधिकांश कालों में भारत एक सांस्कृतिक इकाई होते हुए भी पारस्परिक युद्धों से (1) _____ होता रहा। यहाँ के शासक अपने शासन-कौशल में धूर्त एवं (2) _____ थे। समय-समय पर यहाँ दुर्भिक्ष, (3) _____ तथा प्लेग के प्रकोप होते रहे, जिससे सहस्रों व्यक्तियों की मृत्यु हुई। (4) _____ असमानता धर्मसंगत मानी गई, जिसके फलस्वरूप नीच कुल के व्यक्तियों का जीवन (5) _____ बन गया। इन सबके होते हुए भी हमारा विचार है कि पुरातन संसार के किसी भी भाग में मनुष्य के मनुष्य तथा मनुष्य के राज से ऐसे सुंदर एवं मानवीय संबंध नहीं रहे हैं। गद्यांश के आधार पर उत्तर दीजिए।

SubQuestion No : 21

Q.21 गद्यांश के रिक्त स्थान (1) के लिए सर्वाधिक उपयुक्त शब्द होगा-

- Ans 1. विकसित
 2. जर्जर
 3. आप्लावित
 4. पोषित

Question ID : 65497836589

Status : Not Answered

Chosen Option : --

Comprehension:

दिए गए गद्यांश में कुछ शब्द हटा दिए गए हैं। दिए गए विकल्पों की सहायता से रिक्त स्थान भरें। प्रत्येक संख्या के लिए सबसे उपयुक्त विकल्प का चयन करें।

अपने इतिहास के अधिकांश कालों में भारत एक सांस्कृतिक इकाई होते हुए भी पारस्परिक युद्धों से (1) _____ होता रहा। यहाँ के शासक अपने शासन-कौशल में धूर्त एवं (2) _____ थे। समय-समय पर यहाँ दुर्भिक्ष, (3) _____ तथा प्लेग के प्रकोप होते रहे, जिससे सहस्रों व्यक्तियों की मृत्यु हुई। (4) _____ असमानता धर्मसंगत मानी गई, जिसके फलस्वरूप नीच कुल के व्यक्तियों का जीवन (5) _____ बन गया। इन सबके होते हुए भी हमारा विचार है कि पुरातन संसार के किसी भी भाग में मनुष्य के मनुष्य तथा मनुष्य के राज से ऐसे सुंदर एवं मानवीय संबंध नहीं रहे हैं। गद्यांश के आधार पर उत्तर दीजिए।

SubQuestion No : 22

Q.22 गद्यांश के रिक्त स्थान (2) के लिए सर्वाधिक उपयुक्त शब्द होगा-

- Ans 1. सुरक्षित
 2. सहनशील
 3. सतर्क
 4. असावधान

Question ID : 65497836590

Status : Not Answered

Chosen Option : --

Comprehension:

दिए गए गद्यांश में कुछ शब्द हटा दिए गए हैं। दिए गए विकल्पों की सहायता से रिक्त स्थान भरें। प्रत्येक संख्या के लिए सबसे उपयुक्त विकल्प का चयन करें।

अपने इतिहास के अधिकांश कालों में भारत एक सांस्कृतिक इकाई होते हुए भी पारस्परिक युद्धों से (1) _____ होता रहा। यहाँ के शासक अपने शासन-कौशल में धूर्त एवं (2) _____ थे। समय-समय पर यहाँ दुर्भिक्ष, (3) _____ तथा प्लेग के प्रकोप होते रहे, जिससे सहस्रों व्यक्तियों की मृत्यु हुई। (4) _____ असमानता धर्मसंगत मानी गई, जिसके फलस्वरूप नीच कुल के व्यक्तियों का जीवन (5) _____ बन गया। इन सबके होते हुए भी हमारा विचार है कि पुरातन संसार के किसी भी भाग में मनुष्य के मनुष्य तथा मनुष्य के राज से ऐसे सुंदर एवं मानवीय संबंध नहीं रहे हैं। गद्यांश के आधार पर उत्तर दीजिए।

SubQuestion No : 23

Q.23 गद्यांश के रिक्त स्थान (3) के लिए सर्वाधिक उपयुक्त शब्द होगा-

- Ans
- 1. सुख
 - 2. वस्त्र
 - 3. बाढ़
 - 4. अन्न

Question ID : 65497836591

Status : Not Answered

Chosen Option : --

Comprehension:

दिए गए गद्यांश में कुछ शब्द हटा दिए गए हैं। दिए गए विकल्पों की सहायता से रिक्त स्थान भरें। प्रत्येक संख्या के लिए सबसे उपयुक्त विकल्प का चयन करें।

अपने इतिहास के अधिकांश कालों में भारत एक सांस्कृतिक इकाई होते हुए भी पारस्परिक युद्धों से (1) _____ होता रहा। यहाँ के शासक अपने शासन-कौशल में धूर्त एवं (2) _____ थे। समय-समय पर यहाँ दुर्भिक्ष, (3) _____ तथा प्लेग के प्रकोप होते रहे, जिससे सहस्रों व्यक्तियों की मृत्यु हुई। (4) _____ असमानता धर्मसंगत मानी गई, जिसके फलस्वरूप नीच कुल के व्यक्तियों का जीवन (5) _____ बन गया। इन सबके होते हुए भी हमारा विचार है कि पुरातन संसार के किसी भी भाग में मनुष्य के मनुष्य तथा मनुष्य के राज से ऐसे सुंदर एवं मानवीय संबंध नहीं रहे हैं। गद्यांश के आधार पर उत्तर दीजिए।

SubQuestion No : 24

Q.24 गद्यांश के रिक्त स्थान (4) के लिए सर्वाधिक उपयुक्त शब्द होगा-

- Ans
- 1. अर्थाधारित
 - 2. जन्मजात
 - 3. स्थानगत
 - 4. कर्मगत

Question ID : 65497836592

Status : Not Answered

Chosen Option : --

Comprehension:

दए गए ग ांश म कु छ श हटा दए दए गए वक क सहायता से र ान ेक सं ा के लए गएल्लबसे उपयु वक का चयन कर। भर।

अपने इ तुहास के अ धकांश काल म भारत एक सां ृ तक इकाई होते ए भी पार रुक यु से (1) _____ होता रहा। यहाँ के शासक अपने शासन-कौशल म धूर्त एवं (2) _____ थे। समय-समय पर यहाँ ु भ , (3) _____ तथा के कोप होते रह, जससे सह य क मृ ु ई। (4) _____ असमानता धम संगत मानी गई, जसके फल प नीच कु ल के य का जीवन (5) _____ बन गया। इन सबके होते ए भी हमारा वचार ह क पुरातन संसार के कसी भी भाग म मनु के मनु तथा मनु के राज से ऐसे सुंदर एवं मानवीय संबंध नह रह ह। ग ांश के आधार पर उ र दी जए।

SubQuestion No : 25

Q.25 ग ांश के र ान (5) के लए सवा धक उपयु श होगा

- Ans 1. अ वक सत
 2. स
 3. अ भशाप
 4. खुशनुमा

Question ID : 65497836593

Status : Not Answered

Chosen Option : --