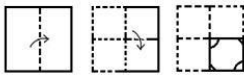


Exam Date	30/11/2021
Exam Time :	9:00 AM - 10:30 AM
Subject	Constable GD 2021

Section : Part A General Intelligence and Reasoning

Q.1 The sequence of folding a piece of paper and the manner in which the folded paper has been cut is shown in the following figures. How would this paper look when unfolded?



Ans

- 1.
- 2.
- 3.
- 4.

Question ID : 65497831776

Status : Answered

Chosen Option : 4

Q.2 In a certain code language, DANGER is written as EDSHHW. How will SPEEDY be written in that language?

- 1. TSIFGD
- 2. TSJEJE
- 3. TSIEGE
- 4. TSJFGD

Question ID : 65497831772

Status : Answered

Chosen Option : 2

Q.3 Select the option that is related to the third number in the same way as the second number is related to the first number.

129 : 216 :: 165 : ?

Ans 1. 252

2. 306

3. 269

4. 348

Question ID : 65497831785

Status : Answered

Chosen Option : 1

Q.4 Select the option that is related to the third term in the same way as the second term is related to the first term.

BUMP : NOSD :: PICK : ?

Ans 1. GIAR

2. QJBX

3. LGDL

4. IEGR

Question ID : 65497831777

Status : Answered

Chosen Option : 4

Q.5 Select the correct combination of mathematical signs that can sequentially replace the (?) signs and make the given equation correct.

72 ? 18 ? 11 ? 44

Ans 1. x, +, =

2. ÷, x, =

3. x, ÷, =

4. +, -, =

Question ID : 65497831786

Status : Answered

Chosen Option : 2

Q.6 'Sword' is related to 'Weapon' in the same way as 'Necklace' is related to '_____'.

Ans 1. Jewellery

2. Goldsmith

3. Women

4. Neck

Question ID : 65497831790

Status : Answered

Chosen Option : 1

Q.7 Select the option in which the given figure is embedded (rotation is NOT allowed).



Ans


1.



2.



3.



4.



Question ID : 65497831788
Status : Answered
Chosen Option : 1

Q.8 Select the letter-cluster from among the given options that can replace the question mark (?) in the following series.

DQH, HUL, MZQ, SFW, ?

Ans 1. ZMD

2. ZNE

3. ZLC

4. YMC

Question ID : 65497831789
Status : Answered
Chosen Option : 1

Q.9 Select the number from among the given options that can replace the question mark (?) in the following series.

13, 15, 12, 17, 10, 21, 8, ?

Ans 1. 24

2. 22

3. 23

4. 25

Question ID : 65497831782
Status : Answered
Chosen Option : 1

Q.10 P, Q, R, S, T and U are six members in a family. P is the husband of Q. U is the brother of Q. R is the son of the only brother of Q. S is the sister of T. P is the father of S. How is U related to T?

- Ans
- 1. Cousin
 - 2. Brother
 - 3. Paternal uncle
 - 4. Maternal uncle

Question ID : 65497831779
Status : Answered
Chosen Option : 4

Q.11 The cost of an apple is four less than twice the cost of a banana, and that of a papaya is half the cost of an apple. If the total cost of the fruits is ₹150, then what is the cost of a banana?

- Ans
- 1. ₹33
 - 2. ₹36
 - 3. ₹39
 - 4. ₹42

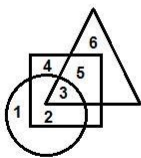
Question ID : 65497831775
Status : Not Attempted and Marked For Review
Chosen Option : --

Q.12 Four persons A, B, C and D are playing carrom. A is to the immediate left of C. D is to the immediate right of B. Which statement shows the correct position of A?

- Ans
- 1. Opposite B
 - 2. Opposite D
 - 3. Immediate left of B
 - 4. Opposite C

Question ID : 65497831791
Status : Answered
Chosen Option : 1

Q.13 In the following diagram, the 'circle' stands for 'soldiers', the 'square' stands for 'Indians', and the 'triangle' stands for 'singers'. The numbers given in the different segments represent persons belonging to that category.



Which category is represented by the number '5'?

- Ans
- 1. Indian singers who are not soldiers
 - 2. Indian soldiers who are not singers
 - 3. Indians who are neither singers nor soldiers
 - 4. Indian singers who are soldiers

Question ID : 65497831792
Status : Answered
Chosen Option : 1

Q.14 Select the correct option that indicates the arrangement of the given words in the order in which they appear in an English dictionary.

1. Terminus
2. Therefore
3. Terrace
4. Thesis
5. Thiamine

Ans 1. 1, 2, 3, 4, 5
 2. 1, 3, 2, 4, 5
 3. 1, 2, 4, 3, 5
 4. 1, 5, 2, 4, 3

Question ID : 65497831780
Status : Answered
Chosen Option : 2

Q.15 Four letter-clusters have been given, out of which three are alike in some manner and one is different. Select the letter-cluster that is different.

Ans 1. HFDZX
 2. CAYWU
 3. TRPNL
 4. OMKIG

Question ID : 65497831768
Status : Answered
Chosen Option : 4

Q.16 Six people, K, L, M, N, O and P, are sitting on the ground in a hexagonal shape but not necessarily in the same order. K is not sitting next to L or M. N is not sitting next to M or O. L is the neighbour of M. P is in the middle of M and N. What is the correct order of seating positions of the people in clockwise direction?

Ans 1. L-M-P-N-K-O
 2. L-N-O-K-M-P
 3. L-O-K-P-M-N
 4. L-M-N-P-K-O

Question ID : 65497831784
Status : Not Attempted and Marked For Review
Chosen Option : --

Q.17 In a certain code language, 'VENDOR' is written as 'TMFLGT'. How will 'CUSTOM' be written in that language?

Ans 1. BSTSPA
 2. DTVQPN
 3. OMVQWA
 4. OTVQMW

Question ID : 65497831778
Status : Not Answered
Chosen Option : --

Q.18 Read the given statements and conclusions carefully. Assuming that the information given in the statements is true, even if it appears to be at variance with commonly known facts, decide which of the given conclusions logically follow(s) from the statements.

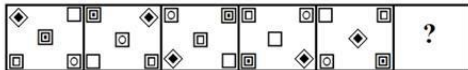
Statements:
 All guavas are pears.
 Some kiwis are pears.

Conclusions:
 I. Some kiwis are guavas.
 II. Some pears are kiwis.

- Ans**
- 1. Both conclusions I and II follow
 - 2. Only conclusion II follows
 - 3. Neither conclusion I nor II follows
 - 4. Only conclusion I follows

Question ID : 65497831773
 Status : Answered
 Chosen Option : 2

Q.19 Select the figure from among the given options that can replace the question mark (?) in the following series.



Ans

- 1.
- 2.
- 3.
- 4.

Question ID : 65497831783
 Status : Answered
 Chosen Option : 3

Q.20 Select the correct mirror image of the given combination when the mirror is placed at the right side.

f h d B 3 1

Ans

1. 1. f h d B 3 1
2. 2. f h d B 3 1
3. 3. f h d B 3 1
4. 4. 1 3 B d h f

Question ID : 65497831771

Status : Answered

Chosen Option : 4

Q.21 Study the given pattern carefully and select the number that can replace the question mark (?) in it.

13 30 34
27 ? 14
19 30 22

Ans

1. 1. 30
2. 2. 34
3. 3. 32
4. 4. 36

Question ID : 65497831774

Status : Not Answered

Chosen Option : --

Q.22 Select the number from among the given options that can replace the question mark (?) in the following series.

14, 16, 22, 34, 54, 84, ?

Ans

1. 1. 126
2. 2. 148
3. 3. 121
4. 4. 112

Question ID : 65497831770

Status : Answered

Chosen Option : 1

Q.23 Select the combination of letters that when sequentially placed in the blanks of the given series will complete the series.

L_PO_LO_OK_OP_KL_POK

Ans

1. 1. O, K, P, L, O, O
2. 2. O, P, O, K, O, L
3. 3. O, P, K, O, L, O
4. 4. O, O, P, K, L, O

Question ID : 65497831781

Status : Answered

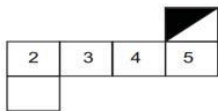
Chosen Option : 1

Q.24 In a certain code language, 'SOBER' is coded as '64' and 'NOSTALGIA' is coded as '107'. How will 'REPAIR' be coded in that language?

- Ans
- 1. 83
 - 2. 67
 - 3. 73
 - 4. 80

Question ID : 65497831769
Status : Not Answered
Chosen Option : --

Q.25 Choose the box that is not similar to the box formed from the given sheet of paper when it is folded.



Ans

- 1.
- 2.
- 3.
- 4.

Question ID : 65497831787
Status : Answered
Chosen Option : 1

Section : Part B General Knowledge and General Awareness

Q.1 The Mughals were proud of their Timurid ancestry. How did they celebrate this?

- Ans
- 1. By holding events like horse racing and shooting
 - 2. By declaring a particular day as a holiday in the country
 - 3. By each ruler getting a picture made of Timur and himself
 - 4. By dedicating the day to soldiers

Question ID : 65497831808
Status : Not Answered
Chosen Option : --

Q.2 Which of the following chemicals is known as vinegar?

- Ans
- 1. Oxalic acid
 - 2. Formic acid
 - 3. Acetic acid
 - 4. Tartaric acid

Question ID : 65497831812
Status : Answered
Chosen Option : 3

Q.3 With which of the following dance forms is Laxmi Narayana Sastri associated?

- Ans
- 1. Odissi
 - 2. Kathak
 - 3. Kuchipudi
 - 4. Mohiniyattam

Question ID : 65497831810
Status : Not Answered
Chosen Option : --

Q.4 When did the rules under the Fiscal Responsibility and Budget Management Act come into force?

- Ans
- 1. July 2004
 - 2. August 2004
 - 3. August 2003
 - 4. July 2003

Question ID : 65497831802
Status : Not Answered
Chosen Option : --

Q.5 Emma Raducanu is a professional tennis player from_____.

- Ans
- 1. The US
 - 2. Canada
 - 3. Croatia
 - 4. The UK

Question ID : 65497831817
Status : Not Answered
Chosen Option : --

Q.6 Who among the following was a Portuguese viceroy in India?

- Ans
- 1. Robert Clive
 - 2. Comte de Lally
 - 3. Francisco de Almeida
 - 4. Francois Dupleix

Question ID : 65497831801
Status : Not Answered
Chosen Option : --

Q.7 The Constitution (One Hundred and Twenty-Sixth Amendment) Bill, 2019 aims to retain the inclusive character as envisioned by the founding fathers of the Constitution of India by continuing the reservation of seats for the scheduled castes and the scheduled tribes up to_____.

- Ans
- 1. 25 January 2035
 - 2. 25 January 2025
 - 3. 25 January 2040
 - 4. 25 January 2030

Question ID : 65497831814
Status : Not Answered
Chosen Option : --

Q.8 Laterite soil is poor in oxides of which among the following?

- Ans
- 1. Aluminium
 - 2. Titanium
 - 3. Iron
 - 4. Silicon

Question ID : 65497831797
Status : Not Answered
Chosen Option : --

Q.9 Who wrote 'Gita Rahasya', which is a commentary on the Bhagavad-Gita, in the Mandalay jail of Myanmar?

- Ans
- 1. Bal Gangadhar Tilak
 - 2. Subhas Chandra Bose
 - 3. Aurobindo Ghosh
 - 4. Lala Lajpat Rai

Question ID : 65497831813
Status : Not Answered
Chosen Option : --

Q.10 Who chaired 'Aarogya Manthan' 2.0 to celebrate the 2nd anniversary of Ayushman Bharat-Pradhan Mantri Jan Aarogya Yojana?

- Ans
- 1. Dr Ashwini Kumar Choubey
 - 2. Amit Shah
 - 3. Dr Harsh Vardhan
 - 4. Dr Indu Bhushan

Question ID : 65497831809
Status : Answered
Chosen Option : 2

Q.11 Which of the following is a multicellular organism?

- Ans
- 1. Paramecium
 - 2. Amoeba
 - 3. Sponge
 - 4. Chlamydomonas

Question ID : 65497831811
Status : Not Answered
Chosen Option : --

Q.12 Neil Nongkynrih is a concert pianist and founder of _____ from India.

- Ans
- 1. East Parade Malayalam Choir
 - 2. Indian Fusion Chamber Choir
 - 3. Shillong Chamber Choir
 - 4. The Mozart Choir of India

Question ID : 65497831793
Status : Not Answered
Chosen Option : --

Q.13 What do you call a region with a large number of deep gullies or ravines?

- Ans
- 1. Badland topography
 - 2. Arid topography
 - 3. Humus region
 - 4. Peninsular region

Question ID : 65497831794
Status : Not Answered
Chosen Option : --

Q.14 _____ has launched its new brand campaign titled 'Contactless Connections', in October 2020.

- Ans
- 1. Contactless PNB Card
 - 2. Contactless ICICI Card
 - 3. Contactless SBI Card
 - 4. Contactless Canara Card

Question ID : 65497831806
Status : Not Answered
Chosen Option : --

Q.15 In which year was the Badminton Association of India formed?

- Ans
- 1. 1967
 - 2. 1956
 - 3. 1934
 - 4. 1978

Question ID : 65497831798
Status : Not Answered
Chosen Option : --

Q.16 According to the Union Budget 2020, when will India host G20 presidency?

- Ans
- 1. 2022
 - 2. 2023
 - 3. 2020
 - 4. 2021

Question ID : 65497831800
Status : Not Answered
Chosen Option : --

Q.17 How many drugs were removed from the National List of Essential Medicines (NLEM) in September 2021?

- Ans 1. 16
 2. 19
 3. 39
 4. 36

Question ID : 65497831815
Status : Not Answered
Chosen Option : --

Q.18 Which of the following countries has the world's largest ice rink called 'Rideau Canal'?

- Ans 1. Canada
 2. Switzerland
 3. Russia
 4. The US

Question ID : 65497831796
Status : Not Answered
Chosen Option : --

Q.19 According to which amended Act, can sons, daughters and their mothers get an equal share of family property?

- Ans 1. Hindu Amendment Act 1950
 2. Hindu Act 1956
 3. Hindu Succession Amendment Act 2005
 4. Hindu Succession Act 1950

Question ID : 65497831805
Status : Not Answered
Chosen Option : --

Q.20 Who among the following is the author of the book 'Letters to Mother'?

- Ans 1. Narendra Modi
 2. Jawaharlal Nehru
 3. Manmohan Singh
 4. PV Narsimha Rao

Question ID : 65497831795
Status : Not Answered
Chosen Option : --

Q.21 Which of the following banks signed a \$1 billion loan agreement with Japan Bank for International Cooperation in October 2020?

- Ans 1. Bank of Baroda
 2. Industrial Development Bank of India
 3. Punjab National Bank
 4. State Bank of India

Question ID : 65497831799
Status : Not Answered
Chosen Option : --

Q.22 Change of a liquid into gas at any temperature below its boiling point is called:

- Ans
- 1. crystallisation
 - 2. evaporation
 - 3. deposition
 - 4. condensation

Question ID : 65497831807
Status : Answered
Chosen Option : 2

Q.23 Which of the following conditions could harm tea plantations?

- Ans
- 1. Temperature above 35°C
 - 2. Rainfall ranging between 150-300 cm
 - 3. Hot and wet climate
 - 4. Plantations along shady trees

Question ID : 65497831816
Status : Not Answered
Chosen Option : --

Q.24 The Persian chronicles described the Muslim Sultans as:

- Ans
- 1. The Incarnation of God
 - 2. The Shadow of God
 - 3. The Disciple of God
 - 4. The Follower of God

Question ID : 65497831803
Status : Not Answered
Chosen Option : --

Q.25 The Mughal Empire had started facing a crisis towards the end of the 17th century. Which of the following was NOT a factor for it?

- Ans
- 1. Aurangzeb had depleted the military and financial resources of his empire by fighting a long war in the Deccan.
 - 2. Under the successors of Aurangzeb, the efficiency of the imperial administration broke down.
 - 3. The later Mughals kept a good check on their powerful 'mansabdars'.
 - 4. The peasant and zamindari rebellions in many parts of North and West India added to the problems.

Question ID : 65497831804
Status : Not Answered
Chosen Option : --

Section : Part C Elementary Mathematics

Q.1 The curved surface area of a cylinder is 96 cm^2 and its volume is 672 cm^3 . Its diameter is:

- Ans
- 1. 32 cm
 - 2. 26 cm
 - 3. 24 cm
 - 4. 28 cm

Question ID : 65497831820
Status : Not Answered
Chosen Option : --

Q.2 If 3 of 5 $\div 2 + \frac{3x}{1 + \frac{2x}{2 + \frac{1-x}{1-x}}} = 12\frac{1}{2}$, what is the value of x ?

- Ans
- ✓ 1. $\frac{35}{33}$
 - ✗ 2. $\frac{25}{13}$
 - ✗ 3. $\frac{34}{33}$
 - ✗ 4. $\frac{15}{11}$

Question ID : 65497831831
Status : Not Answered
Chosen Option : --

Q.3 Find CI on ₹8,000 at 15% for 2 years 4 months compounded annually.

- Ans
- 1. ₹12,008
 - 2. ₹1,264
 - 3. ₹11,109
 - 4. ₹3,109

Question ID : 65497831826
Status : Answered
Chosen Option : 4

Q.4 The list price of a fan is ₹4,500 and it is sold at 15% discount. If its final selling price, after allowing a second discount percentage on the list price, is ₹3,213, then the second discount percentage is:

- Ans
- 1. 15%
 - ✓ 2. 16%
 - 3. 12%
 - 4. 18%

Question ID : 65497831839
Status : Answered
Chosen Option : 2

Q.5 A certain number of men complete a piece of work in 60 days. If there were 9 more men, then the work would be completed in 50 days. How many men are originally there?

- Ans
- ✓ 1. 45
 - 2. 55
 - 3. 48
 - 4. 42

Question ID : 65497831830
Status : Answered
Chosen Option : 1

Q.6 When 154 l of oil is removed from an upright cylindrical tank, the level falls down by 10 cm. What is the diameter (in cm) of the tank?

(Take $\pi = \frac{22}{7}$)

- Ans**
1. 220
 - ✓ 2. 140
 3. 100
 4. 70

Question ID : 65497831827
Status : Not Answered
Chosen Option : --

Q.7 Bike A moving at a speed of 30 km/h covers some distance for 2 hours, while another bike B moving at a speed of 35 km/h covers the same distance as bike A. What is the ratio of the time taken by bike A to that taken by bike B?

- Ans**
1. 5 : 6
 2. 8 : 5
 3. 6 : 7
 - ✓ 4. 7 : 6

Question ID : 65497831832
Status : Answered
Chosen Option : 4

Q.8 In an election, a candidate got 75% of the total valid votes. If 20% of the total votes were declared invalid, and the total numbers of votes is 560000, find the number of valid votes polled in favour of the candidate.

- Ans**
1. 363000
 2. 330000
 - ✓ 3. 336000
 4. 346000

Question ID : 65497831824
Status : Answered
Chosen Option : 3

Q.9 Vessels A and B contain solutions of acid and water. The ratio of acid and water in vessel A is 7 : 5 and that in vessel B is 11 : 13. Four litres of solution from vessel A is mixed with 5 litres of solution from vessel B. What is the ratio of acid and water in the mixture?

- Ans**
1. 35 : 37
 2. 22 : 21
 - ✓ 3. 37 : 35
 4. 21 : 22

Question ID : 65497831836
Status : Answered
Chosen Option : 3

Q.10 The average weight of 20 students in a group is 54 kg. If 12 students of average weight 52 kg join the group and 7 students of average weight 56 kg leave the group, then what will be the average weight (in kg) of the remaining students in the group?

- Ans**
1. 53.84
 2. 51.96
 - ✓ 3. 52.48
 4. 54.24

Question ID : 65497831835
Status : Not Answered
Chosen Option : --

Q.11 The time taken by a boat to go 34 km upstream is 25% more than the time it takes to go 40 km downstream. If the speed of the stream is 4 km/h, then what is the speed (in km/h) of the boat in still water?

- Ans**
- ✓ 1. 21
 2. 24
 3. 20
 4. 22

Question ID : 65497831842
Status : Not Attempted and Marked For Review
Chosen Option : --

Q.12 A sum of money becomes ₹12,600 after 6 years and ₹21,000 after 9 years on compound interest. The sum invested is:

- Ans**
1. ₹4,500
 2. ₹4,600
 - ✓ 3. ₹4,536
 4. ₹4,436

Question ID : 65497831822
Status : Not Attempted and Marked For Review
Chosen Option : --

Q.13 8 pens and 14 pencils cost as much as 12 pens and 5 pencils. The ratio of the cost of one pen to the cost of one pencil is:

- Ans**
1. 9 : 5
 - ✓ 2. 9 : 4
 3. 7 : 5
 4. 8 : 5

Question ID : 65497831819
Status : Not Answered
Chosen Option : --

Q.14 The income of X is 20% less than the income of Y, and the income of Z is 35% less than the combined incomes of X and Y. By what percentage is the income of Z more than that of X?

- Ans** 1. 46.25%
 2. 38.8%
 3. 31.6%
 4. 45.5%

Question ID : 65497831840
Status : Not Answered
Chosen Option : --

Q.15 A sum amounts to ₹4,260 in 5 years at the rate of 4% p.a. simple interest. What will be the simple interest (in ₹, nearest to a ₹) on the same sum for $4\frac{1}{5}$ years at the rate of $8\frac{1}{2}$ % p.a.?

- Ans** 1. 1,250
 2. 1,267
 3. 1,285
 4. 1,271

Question ID : 65497831837
Status : Not Attempted and Marked For Review
Chosen Option : --

Q.16 The total cost price of a watch and a fan is ₹1,170. Rama sells the watch at a profit of 20% and the fan at a profit of 25%. If he earns a total profit of ₹265, then the cost price of the watch is:

- Ans** 1. ₹550
 2. ₹480
 3. ₹450
 4. ₹620

Question ID : 65497831833
Status : Answered
Chosen Option : 1

Q.17 A shopkeeper offers successive discounts of 10% and k%. Customers get items marked at ₹1,200 for ₹864. What is the value of k?

- Ans** 1. 15
 2. 20
 3. 80
 4. 25

Question ID : 65497831818
Status : Answered
Chosen Option : 2

Q.18 Simplify $2 - \left[\frac{1}{2} + \frac{1}{4} + \frac{1}{6} \div \left(\frac{3}{4} - \frac{1}{2} \right) \right]$.

- Ans
- ✓ 1. $\frac{7}{12}$
 - ✗ 2. $\frac{1}{12}$
 - ✗ 3. $\frac{17}{12}$
 - ✗ 4. $\frac{11}{12}$

Question ID : 65497831828
Status : Answered
Chosen Option : 1

Q.19 The average weight of students in a class was 58.5 kg. When 8 more students with average weight of 64.5 kg joined the class, then the average weight of all the students increased by 0.96 kg. What was the number of students, initially, in the class?

- Ans
- 1. 40
 - 2. 32
 - 3. 37
 - ✓ 4. 42

Question ID : 65497831838
Status : Not Answered
Chosen Option : --

Q.20 An article was sold at $x\%$ profit for ₹875. When the same article was sold for ₹896, the profit made was 3% more than the previous profit. The value of x is:

- Ans
- 1. 30
 - 2. 24
 - ✓ 3. 25
 - 4. 20

Question ID : 65497831821
Status : Answered
Chosen Option : 3

Q.21 Three persons start a morning walk together. Their steps measure 70 cm, 75 cm and 80 cm, respectively. What is the minimum distance each should walk, so that all of them can cover the same distance in complete steps?

- Ans
- 1. 8800 cm
 - ✓ 2. 8400 cm
 - 3. 6400 cm
 - 4. 8000 cm

Question ID : 65497831823
Status : Answered
Chosen Option : 2

Q.22 Kohli deals with second-hand goods. He bought a second-hand AC for ₹10,000. He spent ₹500 on transport and ₹2,000 on its repair and sold it for ₹15,000. What is his gain or loss percentage?

- Ans**
1. 20% gain
 2. 18% gain
 3. 18% loss
 4. 20% loss

Question ID : 65497831829
Status : Answered
Chosen Option : 1

Q.23 A group of persons can complete a piece of work in a certain time. If there were 4 more persons, they would take 2 days less to complete it. If there were 6 persons less, they would take 4 days more to complete it. What is the number of persons, initially, in the group?

- Ans**
1. 40
 2. 45
 - ✓ 3. 36
 4. 32

Question ID : 65497831841
Status : Not Answered
Chosen Option : --

Q.24 x is the smallest number of 5-digits which when divided by 10, 15, 24, 35 and 42, leaves a remainder 7 in each case. The sum of the digits of x is:

- Ans**
1. 18
 2. 19
 3. 13
 - ✓ 4. 16

Question ID : 65497831834
Status : Not Answered
Chosen Option : --

Q.25 Two numbers are, respectively, 20% and 50% more than a third number. The ratio of the first 2 numbers is:

- Ans**
1. 2 : 3
 2. 1 : 1
 - ✓ 3. 4 : 5
 4. 5 : 6

Question ID : 65497831825
Status : Answered
Chosen Option : 3

Q.1 Select the most appropriate meaning of the given idiom.

Bite someone's head off

- Ans
- 1. Ask someone the same question again and again
 - 2. Go on repeating the same point
 - 3. Scold someone for misbehaving
 - 4. Speak angrily without any reason

Question ID : 65497831844
Status : Not Answered
Chosen Option : --

Q.2 Select the option that can be used as a one-word substitute for the given group of words.

Declare someone not guilty

- Ans
- 1. Acquit
 - 2. Sentence
 - 3. Pardon
 - 4. Arrest

Question ID : 65497831860
Status : Answered
Chosen Option : 3

Q.3 Select the most appropriate synonym of the given word.

Grim

- Ans
- 1. Stern
 - 2. Forceful
 - 3. Joyful
 - 4. Arrogant

Question ID : 65497831859
Status : Not Answered
Chosen Option : --

Q.4 Select the INCORRECTLY spelt word.

- Ans
- 1. Melodrama
 - 2. Melody
 - 3. Melodous
 - 4. Malignant

Question ID : 65497831854
Status : Answered
Chosen Option : 3

Q.5 Select the most appropriate option to fill in the blank.

The landscape _____ Hardy to write this fine poem.

- Ans
- 1. inspired
 - 2. induced
 - 3. pestered
 - 4. incited

Question ID : 65497831855
Status : Not Answered
Chosen Option : --

Q.6 Select the most appropriate meaning of the given idiom.

Once in a blue moon

- Ans
- 1. Happening usually
 - 2. Taking place very rarely
 - 3. Doing something very often
 - 4. When the moon rises

Question ID : 65497831848
Status : Not Answered
Chosen Option : --

Q.7 The following sentence has been divided into parts. One of them may contain an error. Select the part that contains the error from the given options. If you don't find any error, select 'No error' as your answer.

In summers, we must take care / to drink enough water / to keep ourselves hydrated.

- Ans
- 1. to drink enough water
 - 2. In summers we must take care
 - 3. No error
 - 4. to keep ourselves hydrated

Question ID : 65497831845
Status : Not Answered
Chosen Option : --

Q.8 Select the most appropriate option that can substitute the underlined segment in the given sentence. If there is no need to substitute it, select 'No substitution required'.

The pack of wolves moving towards the children are a frightening sight.

- Ans
- 1. was a frightening sight
 - 2. No substitution required
 - 3. are an frightening sight
 - 4. had a frightening sight

Question ID : 65497831850
Status : Answered
Chosen Option : 1

Q.9 Select the option that can be used as a one-word substitute for the given group of words.

One who has keen interest in good food

- Ans 1. Gourmet
 2. Hungry
 3. Greedy
 4. Gallant

Question ID : 65497831853
Status : Not Answered
Chosen Option : --

Q.10 Select the option that can be used as a one-word substitute for the given group of words.

A place where birds are kept

- Ans 1. Apiary
 2. Aquarium
 3. Attic
 4. Aviary

Question ID : 65497831849
Status : Not Answered
Chosen Option : --

Q.11 Select the most appropriate option to fill in the blank.

He was _____ by the judge for his courageous actions.

- Ans 1. criticised
 2. discouraged
 3. commended
 4. reprimanded

Question ID : 65497831857
Status : Answered
Chosen Option : 1

Q.12 Select the most appropriate ANTONYM of the given word.

Desperate

- Ans 1. Content
 2. Determined
 3. Frantic
 4. Daring

Question ID : 65497831852
Status : Answered
Chosen Option : 1

Q.13 The following sentence has been split into four segments. Identify the segment that contains a grammatical error.

Everyone needs / to have a home / and to feel secured / and be wanted.

- Ans
- 1. and be wanted
 - 2. Everyone needs
 - 3. and to feel secured
 - 4. to have a home

Question ID : 65497831858
Status : Answered
Chosen Option : 2

Q.14 Select the most appropriate option to fill in the blank.

Sometime back, onion used to be the poor man's food as it was _____.

- Ans
- 1. cheap
 - 2. inferior
 - 3. available
 - 4. low

Question ID : 65497831843
Status : Answered
Chosen Option : 1

Q.15 Select the most appropriate ANTONYM of the given word.

Naive

- Ans
- 1. Experienced
 - 2. Simple
 - 3. Impulsive
 - 4. Sincere

Question ID : 65497831861
Status : Not Answered
Chosen Option : --

Q.16 Select the INCORRECTLY spelt word.

- Ans
- 1. Separate
 - 2. Desparate
 - 3. Considerate
 - 4. Disparate

Question ID : 65497831856
Status : Answered
Chosen Option : 4

Q.17 Parts of the given sentence have been given as options. One of them contains a grammatical error. Select the option that has the error.

After a month-long vacation due to the sudden floods, Mani's school has been resuming today.

- Ans
- 1. After
 - 2. has been resuming
 - 3. due to the sudden floods
 - 4. a month-long vacation

Question ID : 65497831851
Status : Answered
Chosen Option : 2

Q.18 Select the option that will improve the underlined part of the sentence. In case no improvement is needed, select 'No improvement required'.

She frequent go to her old school to visit her teachers.

- Ans
- 1. frequent goes
 - 2. frequently goes
 - 3. No improvement required
 - 4. frequently going

Question ID : 65497831847
Status : Answered
Chosen Option : 2

Q.19 Select the option that will improve the underlined part of the given sentence. In case no improvement is needed, select 'No improvement required'.

Need you please hold my bag for a moment?

- Ans
- 1. No improvement required
 - 2. May you
 - 3. Would you
 - 4. Should you

Question ID : 65497831862
Status : Answered
Chosen Option : 3

Q.20 Select the most appropriate synonym of the given word.

Rift

- Ans
- 1. Boat
 - 2. Heal
 - 3. Break
 - 4. Bind

Question ID : 65497831846
Status : Not Answered
Chosen Option : --

Comprehension:

In the following passage, some words have been deleted. Read the passage carefully and select the most appropriate option to fill in each blank.

When Roald Amundsen first (1) _____ the South Pole in 1911, he could plant (2) _____ flag there whilst, back in (3) _____ Arctic, no explorer ever had the luxury (4) _____ his claim with a flag. If he did, it would (5) _____ end up floating away to Greenland, making it a totally useless exercise.

SubQuestion No : 21

Q.21 Select the most appropriate option to fill in blank no. 1.

Ans 1. had reached

2. reached

3. reach

4. reaching

Question ID : 65497831864

Status : Answered

Chosen Option : 2

Comprehension:

In the following passage, some words have been deleted. Read the passage carefully and select the most appropriate option to fill in each blank.

When Roald Amundsen first (1) _____ the South Pole in 1911, he could plant (2) _____ flag there whilst, back in (3) _____ Arctic, no explorer ever had the luxury (4) _____ his claim with a flag. If he did, it would (5) _____ end up floating away to Greenland, making it a totally useless exercise.

SubQuestion No : 22

Q.22 Select the most appropriate option to fill in blank no. 2.

Ans 1. his

2. its

3. your

4. her

Question ID : 65497831865

Status : Answered

Chosen Option : 1

Comprehension:

In the following passage, some words have been deleted. Read the passage carefully and select the most appropriate option to fill in each blank.

When Roald Amundsen first (1) _____ the South Pole in 1911, he could plant (2) _____ flag there whilst, back in (3) _____ Arctic, no explorer ever had the luxury (4) _____ his claim with a flag. If he did, it would (5) _____ end up floating away to Greenland, making it a totally useless exercise.

SubQuestion No : 23

Q.23 Select the most appropriate option to fill in blank no. 3.

Ans 1. an

2. a

3. any

4. the

Question ID : 65497831866

Status : Answered

Chosen Option : 4

Comprehension:

In the following passage, some words have been deleted. Read the passage carefully and select the most appropriate option to fill in each blank.

When Roald Amundsen first (1)_____the South Pole in 1911, he could plant (2) _____ flag there whilst, back in (3)_____Arctic, no explorer ever had the luxury (4)_____his claim with a flag. If he did, it would (5)_____end up floating away to Greenland, making it a totally useless exercise.

SubQuestion No : 24

Q.24 Select the most appropriate option to fill in blank no. 4.

Ans 1. to secure

2. secure

3. secured

4. securing

Question ID : 65497831867

Status : Answered

Chosen Option : 1

Comprehension:

In the following passage, some words have been deleted. Read the passage carefully and select the most appropriate option to fill in each blank.

When Roald Amundsen first (1)_____the South Pole in 1911, he could plant (2) _____ flag there whilst, back in (3)_____Arctic, no explorer ever had the luxury (4)_____his claim with a flag. If he did, it would (5)_____end up floating away to Greenland, making it a totally useless exercise.

SubQuestion No : 25

Q.25 Select the most appropriate option to fill in blank no. 5.

Ans 1. eventually

2. entirely

3. totally

4. happily

Question ID : 65497831868

Status : Answered

Chosen Option : 1

Section : Part D Hindi

Q.1 दए गये वा ांश के लए एक श दी

जये। जो दखा नह जा सकता

Ans 1. हीन

2.

3. अ

4. ट

Question ID : 65497831871

Status : Not Answered

Chosen Option : --

Q.2 दये गये वा मरखांकत अंशको त ापत करने के लए सबसे उपयु वक का चयन कर।

मकान गर जाने का संदह ह।

- Ans
- 1. शोक
 - 2. लोभ
 - 3. डर
 - 4. म

Question ID : 65497831886
Status : Not Answered
Chosen Option : --

Q.3 अंशु कसका पया यवाची ह ?

- Ans
- 1. अमृत
 - 2. ी
 - 3. आँख
 - 4. करण

Question ID : 65497831883
Status : Not Answered
Chosen Option : --

Q.4 न ल खत म से शु वत नी वाला श कौन सा ह?

- Ans
- 1. आव ार
 - 2. आव ार
 - 3. आव ार
 - 4. अ व ार

Question ID : 65497831884
Status : Not Answered
Chosen Option : --

Q.5 दए गए श के समानाथ श का चयन कर।

उ लन

- Ans
- 1. उखाड़ फ कना
 - 2. अपमान
 - 3. समानता
 - 4. उवरक

Question ID : 65497831873
Status : Not Answered
Chosen Option : --

Q.6 दये गये वा के कस भाग म ट ह?

उनके नधन से दश क अपूरणीय छ त ई ह।

- Ans
- 1. छ त ई ह।
 - 2. उनके नधन से
 - 3. दश क
 - 4. अपूरणीय

Question ID : 65497831882
Status : Not Answered
Chosen Option :

Q.7 दिए गए शब्द का विलोम चुनें।

शोक

- Ans
- 1. शोभित
 - 2. अशोभित
 - 3. हर्ष
 - 4. विषाद

Question ID : 65497831878
Status : Not Answered
Chosen Option : --

Q.8 रिक्त स्थान को भरने के लिए सबसे उपयुक्त शब्द का चयन करें।

विफलता का कारण अध्ययन पद्धति का _____ ही था।

- Ans
- 1. आदर्श
 - 2. दोष
 - 3. समुचित
 - 4. विस्तार

Question ID : 65497831875
Status : Not Answered
Chosen Option : --

Q.9 दिये गये वाक्य में रेखांकित अंश को प्रतिस्थापित करने के लिए सबसे उपयुक्त विकल्प का चयन करें।

गुरुजनों पर श्रद्धा करो।

- Ans
- 1. श्रद्धा पूजो।
 - 2. श्रद्धा भरो।
 - 3. श्रद्धा रखो।
 - 4. श्रद्धा दो।

Question ID : 65497831887
Status : Not Answered
Chosen Option : --

Q.10 निम्नलिखित में से शुद्ध वर्तनी वाला शब्द कौन सा है?

- Ans
- 1. सन्यास
 - 2. संन्याष
 - 3. संन्याश
 - 4. संन्यास

Question ID : 65497831885
Status : Not Answered
Chosen Option : --

Q.11 नीचे दिए वाक्यांश के लिए एक शब्द दिए गए विकल्पों में से चुनिए।

जिसके पास कुछ भी न हो

- Ans 1. कंचन
 2. अकिंचन
 3. अक्षम
 4. अकथित

Question ID : 65497831879
Status : Not Answered
Chosen Option : --

Q.12 रिक्त स्थान को भरने के लिए सबसे उपयुक्त शब्द का चयन करें।

हिन्दी द्वारा सारे भारत को एक सूत्र में _____ जा सकता है।

- Ans 1. पिरोया
 2. डाला
 3. बांधा
 4. फंसाया

Question ID : 65497831874
Status : Not Answered
Chosen Option : --

Q.13 'आँखों में सरसों फूलना' इस मुहावरे का अर्थ कौनसा है?

- Ans 1. गुस्से से आँखें लाल हो जाना
 2. आदर भाव घाट जाना
 3. विवेक न होना
 4. धोखा देना

Question ID : 65497831870
Status : Not Answered
Chosen Option : --

Q.14 'चुनाव में अपना मत देने की क्रिया' वाक्यांश के लिए एक शब्द होगा-

- Ans 1. मत विभाजन
 2. मताधिकार
 3. मतपेटी
 4. मतदान

Question ID : 65497831888
Status : Not Answered
Chosen Option : --

Q.15 दिए गए वाक्य का वह भाग ज्ञात करें जिसमें कोई त्रुटि है। यदि कोई त्रुटि नहीं है, तो 'कोई त्रुटि नहीं है' चुनें।

इस बात के कहने में(1)/ किसी को(2)/ संकोच न होगा।(3)/ कोई त्रुटि नहीं है। (4)

- Ans 1. 4
 2. 3
 3. 1
 4. 2

Question ID : 65497831877
Status : Not Answered
Chosen Option : --

Q.16 दिए गए वाक्य का वह भाग ज्ञात करें जिसमें कोई त्रुटि है। यदि कोई त्रुटि नहीं है, तो 'कोई त्रुटि नहीं है' चुनें।

प्रदर्शनी, प्रायः शहर के उस स्थान पर (1)/ लगाया जाता है, जहाँ (2)/ लोग आसानी से पहुँच सकें। (3)/ कोई त्रुटि नहीं है (4)

Ans 1. 2

2. 1

3. 3

4. 4

Question ID : 65497831872

Status : Not Answered

Chosen Option : --

Q.17 दिए गए शब्द का विलोम चुनें।

प्रवेश

Ans 1. प्रवृत्ति

2. विकास

3. प्रवर

4. द्वार

Question ID : 65497831880

Status : Not Answered

Chosen Option : --

Q.18 रिक्त स्थान को भरने के लिए सबसे उपयुक्त शब्द का चयन करें।

राम ने मुझे पुस्तक _____ की।

Ans 1. वितरित

2. प्राप्त

3. समर्पण

4. समर्पित

Question ID : 65497831876

Status : Not Answered

Chosen Option : --

Q.19 दिए गए चार विकल्पों में से, उस विकल्प का चयन करें जो नीचे दिए मुहावरे का अर्थ व्यक्त करता है।

साँप छछूंदर की गति होना

Ans 1. गुप चुप हो जाना

2. विस्तृत अनुभव होना

3. तुरंत भाग जाना

4. असमंजस की स्थिति होना

Question ID : 65497831881

Status : Not Answered

Chosen Option : --

Q.20 दिए गए वाक्य में रेखांकित खंड को प्रतिस्थापित करने के लिए सबसे उपयुक्त विकल्प का चयन करें। यदि इसे प्रतिस्थापित करने की आवश्यकता नहीं है, तो विकल्प 'किसी बदलाव की आवश्यकता नहीं है' का चयन करें।

ठंडा घड़े का पानी पिलाइए।

- Ans
- 1. किसी बदलाव की आवश्यकता नहीं है।
 - 2. पानी ठंडा घड़े का पिलाइए।
 - 3. ठंडा पानी घड़े का पिलाइए।
 - 4. घड़े का ठंडा पानी पिलाइए।

Question ID : 65497831869

Status : Not Answered

Chosen Option : --

Comprehension:

दिए गए अनुच्छेद में से कुछ शब्द हटा दिए गए हैं। नीचे दिए विकल्पों की सहायता से रिक्त स्थान भरें। प्रत्येक संख्या के लिए सबसे उपयुक्त विकल्प का चयन करें।

धरती वह है जो (1) _____ करती है, सब (2) _____ इस पर रहते हैं, उनका पालन-पोषण करके उनकी रक्षा करती है। धर्म भी हमें (3) _____ करता है। धर्म न हो तो हम काम न कर सकें। अथवा, हम जो धारण करते हैं, मन में निश्चय कर लेते हैं वह (4) _____ है। चंद्र में जो शीतलता है, स्नेह है, वह हममें शांति उत्पन्न करता है। आकाश विस्तार है जिससे हम (5) _____ के विस्तार की प्रेरणा पाते हैं।

SubQuestion No : 21

Q.21 गद्यांश के रिक्त स्थान (1) के लिए सर्वाधिक उपयुक्त शब्द होगा-

- Ans
- 1. धारण
 - 2. ग्रहण
 - 3. गमन
 - 4. चक्कर

Question ID : 65497831890

Status : Not Answered

Chosen Option : --

Comprehension:

दिए गए अनुच्छेद में से कुछ शब्द हटा दिए गए हैं। नीचे दिए विकल्पों की सहायता से रिक्त स्थान भरें। प्रत्येक संख्या के लिए सबसे उपयुक्त विकल्प का चयन करें।

धरती वह है जो (1) _____ करती है, सब (2) _____ इस पर रहते हैं, उनका पालन-पोषण करके उनकी रक्षा करती है। धर्म भी हमें (3) _____ करता है। धर्म न हो तो हम काम न कर सकें। अथवा, हम जो धारण करते हैं, मन में निश्चय कर लेते हैं वह (4) _____ है। चंद्र में जो शीतलता है, स्नेह है, वह हममें शांति उत्पन्न करता है। आकाश विस्तार है जिससे हम (5) _____ के विस्तार की प्रेरणा पाते हैं।

SubQuestion No : 22

Q.22 गद्यांश के रिक्त स्थान (2) के लिए सर्वाधिक उपयुक्त शब्द होगा-

- Ans
- 1. लोग
 - 2. जीव
 - 3. पशु
 - 4. पक्षी

Question ID : 65497831891

Status : Not Answered

Chosen Option : --

Comprehension:

दिए गए अनुच्छेद में से कुछ शब्द हटा दिए गए हैं। नीचे दिए विकल्पों की सहायता से रिक्त स्थान भरें। प्रत्येक संख्या के लिए सबसे उपयुक्त विकल्प का चयन करें।

धरती वह है जो (1) _____ करती है, सब (2) _____ इस पर रहते हैं, उनका पालन-पोषण करके उनकी रक्षा करती है। धर्म भी हमें (3) _____ करता है। धर्म न हो तो हम काम न कर सकें। अथवा, हम जो धारण करते हैं, मन में निश्चय कर लेते हैं वह (4) _____ है। चंद्र में जो शीतलता है, स्नेह है, वह हममें शांति उत्पन्न करता है। आकाश विस्तार है जिससे हम (5) _____ के विस्तार की प्रेरणा पाते हैं।

SubQuestion No : 23

Q.23 गद्यांश के रिक्त स्थान (3) के लिए सर्वाधिक उपयुक्त शब्द होगा-

- Ans
- 1. पालन
 - 2. ग्रहण
 - 3. पोषण
 - 4. धारण

Question ID : 65497831892

Status : Not Answered

Chosen Option : --

Comprehension:

दिए गए अनुच्छेद में से कुछ शब्द हटा दिए गए हैं। नीचे दिए विकल्पों की सहायता से रिक्त स्थान भरें। प्रत्येक संख्या के लिए सबसे उपयुक्त विकल्प का चयन करें।

धरती वह है जो (1) _____ करती है, सब (2) _____ इस पर रहते हैं, उनका पालन-पोषण करके उनकी रक्षा करती है। धर्म भी हमें (3) _____ करता है। धर्म न हो तो हम काम न कर सकें। अथवा, हम जो धारण करते हैं, मन में निश्चय कर लेते हैं वह (4) _____ है। चंद्र में जो शीतलता है, स्नेह है, वह हममें शांति उत्पन्न करता है। आकाश विस्तार है जिससे हम (5) _____ के विस्तार की प्रेरणा पाते हैं।

SubQuestion No : 24

Q.24 गद्यांश के रिक्त स्थान (4) के लिए सर्वाधिक उपयुक्त शब्द होगा-

- Ans
- 1. संकल्प
 - 2. धम
 - 3. कम
 - 4. प्रेम

Question ID : 65497831893

Status : Not Answered

Chosen Option : --

Comprehension:

दिए गए अनुच्छेद में से कुछ शब्द हटा दिए गए हैं। नीचे दिए विकल्पों की सहायता से रिक्त स्थान भरें। प्रत्येक संख्या के लिए सबसे उपयुक्त विकल्प का चयन करें।

धरती वह है जो (1) _____ करती है, सब (2) _____ इस पर रहते हैं, उनका पालन-पोषण करके उनकी रक्षा करती है। धर्म भी हमें (3) _____ करता है। धर्म न हो तो हम काम न कर सकें। अथवा, हम जो धारण करते हैं, मन में निश्चय कर लेते हैं वह (4) _____ है। चंद्र में जो शीतलता है, स्नेह है, वह हममें शांति उत्पन्न करता है। आकाश विस्तार है जिससे हम (5) _____ के विस्तार की प्रेरणा पाते हैं।

SubQuestion No : 25

Q.25 गद्यांश के रिक्त स्थान (5) के लिए सर्वाधिक उपयुक्त शब्द होगा-

- Ans
- 1. चित्त
 - 2. संस्कृति
 - 3. मस्तिष्क
 - 4. संस्कार

Question ID : 65497831894

Status : Not Answered

Chosen Option : --

Exam Date	30/11/2021
Exam Time :	12:30 PM - 2:00 PM
Subject	Constable GD 2021

Section : Part A General Intelligence and Reasoning

Q.1 Select the number from among the given options that can replace the question mark (?) in the following series.

144, 289, 484, ?, 1024

- Ans
- 1. 625
 - 2. 725
 - 3. 676
 - 4. 729

Question ID : 65497833819

Status : Answered

Chosen Option : 4

Q.2 Select the combination of letters that when sequentially placed in the blanks of the given series will complete the series.

_ b _ p p p _ q p _ p b _ p _

- Ans
- 1. b q b p b p
 - 2. p b q p b q
 - 3. p q b p q p
 - 4. p q p p q b

Question ID : 65497833822

Status : Answered

Chosen Option : 3

Read the given statements and conclusions carefully. Assuming that the information given in the statements is true, even if it appears to be at variance with commonly known facts, decide which of the given conclusions logically follow(s) from the statements.

Statements:

All laptops are monitors.
All monitors are TVs.

Conclusions:

1. All monitors are laptops.
2. Some TVs are monitors.
3. No monitor is a laptop.

- Ans
- 1. Only conclusion 2 follows
 - 2. Only conclusion 1 follows
 - 3. Only conclusion 3 follows
 - 4. Both conclusions 2 and 3 follow

Question ID : 65497833810

Status : Answered

Chosen Option : 1

Q.4 Two different positions of the same dice marked with the letters F, G, P, Q, R and S are shown .
Select the letter that will be on the face opposite to the face having the letter 'G'.



- Ans 1. R
 2. F
 3. Q
 4. S

Question ID : 65497833803
Status : Answered
Chosen Option : 2

Q.5 Select the option that is related to the third term in the same way as the second term is related to the first term.

PRINT : RNTPI :: LEMON : ?

- Ans 1. ELOMN
 2. LNEMO
 3. EONLM
 4. MLNOE

Question ID : 65497833814
Status : Answered
Chosen Option : 3

Q.6 In an imaginary mathematical system, P denotes subtraction, Q denotes division, R denotes addition and S denotes multiplication. All other rules of mathematics are the same as in the existing system. What is the value of the given expression?

106 R 115 Q 23 S 7 P 19

- Ans 1. 154
 2. 87
 3. 45
 4. 122

Question ID : 65497833802
Status : Answered
Chosen Option : 4

Q.7 Select the option that is related to the fourth number in the same way as the first number is related to the second number.

54 : 9 :: ? : 7

- Ans 1. 56
 2. 62
 3. 42
 4. 60

Question ID : 65497833801
Status : Answered
Chosen Option : 3

Q.8 Four letter-clusters have been given, out of which three are alike in some manner and one is different. Select the one that is different.

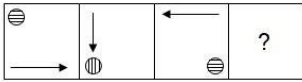
- Ans 1. HAA
 2. UHH
 3. OFF
 4. IXX

Question ID : 65497833817

Status : Answered

Chosen Option : 1

Q.9 Select the figure from among the given options that can replace the question mark (?) in the following series.



Ans

- 1.
- 2.
- 3.
- 4.

Question ID : 65497833824

Status : Answered

Chosen Option : 4

Q.10 Study the given pattern carefully and select the number that can replace the question mark (?) in it.

5 12 ?
11 19 25
26 55 79

- Ans 1. 22
 2. 17
 3. 20
 4. 18

Question ID : 65497833811

Status : Answered

Chosen Option : 4

Q.11 In a certain code language, 'go went gone' is written as 'da ma dof', 'he had gone' is written as 'ga dol ma', and 'he was good' is written as 'na ga ca'. How will 'had' be written in that language?

- Ans
- 1. ca
 - 2. ga
 - 3. dol
 - 4. ma

Question ID : 65497833809
Status : Answered
Chosen Option : 3

Q.12 Seven friends, M, N, O, P, Q, R and S, are sitting in a straight line, all facing towards the north. N is sitting at the middle position. M is sitting between Q and P. Q is sitting to the immediate left of N. S is sitting to the immediate left of O. M and O are not sitting at any of the ends. Who is sitting at the right end?

- Ans
- 1. R
 - 2. Q
 - 3. N
 - 4. P

Question ID : 65497833800
Status : Answered
Chosen Option : 1

Q.13 In a certain code language, 'REACH' is coded as 85139 and 'SUN' is coded as 264. How will 'SEARCH' be coded in that language?

- Ans
- 1. 251839
 - 2. 253819
 - 3. 258139
 - 4. 253189

Question ID : 65497833818
Status : Answered
Chosen Option : 1

Q.14 'A×B' means 'A is the brother of B'. 'A-B' means 'A is the mother of B'. 'A÷B' means 'A is the father of B'. Which of the following means 'M is the son of Q'?

- Ans
- 1. $M \times R \div Q$
 - 2. $Q \div M \times R$
 - 3. $M \div R \times Q$
 - 4. $M - R + T$

Question ID : 65497833816
Status : Answered
Chosen Option : 2

Q.15 Select the number from among the given options that can replace the question mark (?) in the following series.

3, 35, 99, 195, ?

Ans 1. 323

2. 225

3. 325

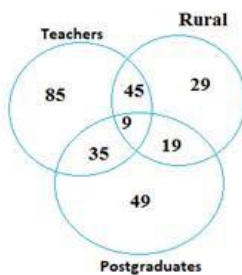
4. 299

Question ID : 65497833823

Status : Answered

Chosen Option : 1

Q.16 Study the given diagram carefully and answer the question that follows.



What is the number of teachers who are NEITHER rural NOR postgraduates?

Ans 1. 45

2. 85

3. 35

4. 9

Question ID : 65497833808

Status : Answered

Chosen Option : 2

Q.17 Select the letter-cluster from among the given options that can replace the question mark (?) in the following series.

GBL, JEO, MHR, ?

Ans 1. QJV

2. OJB

3. PKU

4. QKW

Question ID : 65497833805

Status : Answered

Chosen Option : 3

Q.18 When 12 is added to a number, it is equal to 2 times the sum of 4 and the number. Find the number.

- Ans
- 1. 10
 - 2. 5
 - 3. 8
 - 4. 4

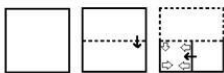
Question ID : 65497833812
 Status : Answered
 Chosen Option : 4

Q.19 Seven friends, L, M, N, O, P, Q and R, are sitting around a circular table, with their backs towards the centre. L is sitting to the immediate right of P. M is not the neighbour of P. O is sitting third to the left of L. Q is sitting between R and O. Who is sitting to the immediate right of L?

- Ans
- 1. N
 - 2. M
 - 3. Q
 - 4. R

Question ID : 65497833807
 Status : Answered
 Chosen Option : 2

Q.20 The sequence of folding a piece of paper and the manner in which the folded paper has been cut is shown in the following figures. How would this paper look when unfolded?



Ans

- 1.
- 2.
- 3.
- 4.

Question ID : 65497833813
 Status : Answered
 Chosen Option : 1

Q.21 'Patna' is related to 'Bihar' in the same way as 'Dispur' is related to '_____'.
Ans

- 1. Nagaland
- 2. Mizoram
- 3. Meghalaya
- 4. Assam

Question ID : 65497833806
Status : Answered
Chosen Option : 4

Q.22 In a certain code language, 'SPIRIT' is written as 'WKMIMG'. How will 'GLOBAL' be written in that language?
Ans

- 1. GTYOOX
- 2. GOTYXO
- 3. KOSYEO
- 4. KSOEYO

Question ID : 65497833815
Status : Answered
Chosen Option : 3

Q.23 Select the correct mirror image of the given combination when the mirror is placed at 'PQ' as shown.

TRIANGLE | P
Q

- Ans
- 1.
 - 2.
 - 3.
 - 4.

Question ID : 65497833820
Status : Answered
Chosen Option : 4

Q.24 Select the correct option that indicates the arrangement of the given words in the order in which they appear in an English dictionary.

- i. Declaim
- ii. Decline
- iii. Decisive
- iv. Declare
- v. Decode

- Ans
- 1. i, iv, ii, iii, v
 - 2. i, ii, iv, iii, v
 - 3. v, iii, iv, ii, i
 - 4. iii, i, iv, ii, v

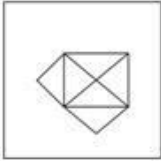
Question ID : 65497833821
Status : Answered
Chosen Option : 4

Q.25 Select the option in which the given figure is embedded (rotation is NOT allowed).




Ans

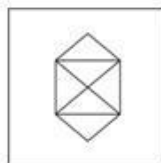
1.




2.



3.



4.



Question ID : 65497833804
Status : Answered
Chosen Option : 3

Section : Part B General Knowledge and General Awareness

Q.1 In November 2020, who among the following inaugurated the 'Lilawati Awards', which is an initiative of All India Council for Technical Education?

Ans 1. Rajiv Kumar

2. Amit Shah

3. Harsh Vardhan

4. Ramesh Pokhriyal 'Nishank'

Question ID : 65497833832
Status : Not Answered
Chosen Option : --

Q.2 Which of the following compounds contains an ionic bond?

Ans 1. CHCl_3

2. NaCl

3. N_2

4. CH_4

Question ID : 65497833846
Status : Answered
Chosen Option : 2

Q.3 Manika Batra is famous as an Indian _____.

- Ans
- 1. basketball player
 - 2. swimmer
 - 3. table tennis player
 - 4. athlete

Question ID : 65497833840
Status : Not Answered
Chosen Option : --

Q.4 Which among the following monuments is in Rajasthan?

- Ans
- 1. Ujjayanta Palace
 - 2. Hawa Mahal
 - 3. Bara Imambara
 - 4. Bibi Ka Maqbara

Question ID : 65497833827
Status : Not Answered
Chosen Option : --

Q.5 Through the Royal Titles Act (1876), Queen Victoria assumed the title of 'Kaiser-i-Hind' or Queen Empress of India. Who was the Viceroy of British India when Queen Victoria assumed the title 'Kaiser-i-Hind'?

- Ans
- 1. Lord Canning
 - 2. Lord Ripon
 - 3. Lord Lansdowne
 - 4. Lord Lytton

Question ID : 65497833835
Status : Not Answered
Chosen Option : --

Q.6 Which of the following types of goods is defined as 'the goods that are identical, similar or comparable to another product, in the eyes of the consumer, such that they can either fully or partly satisfy the same needs of the consumer'?

- Ans
- 1. Capital goods
 - 2. Intermediate goods
 - 3. Substitute goods
 - 4. Consumer goods

Question ID : 65497833825
Status : Not Answered
Chosen Option : --

Q.7 India and Bangladesh are the leading producers of _____.

- Ans
- 1. jute
 - 2. millet
 - 3. coffee
 - 4. tea

Question ID : 65497833843
Status : Not Answered
Chosen Option : --

Q.8 Which of the following was NOT the theme for Union Budget 2020-21?

- Ans
- 1. Develop a Caring Society
 - 2. Aspirational India
 - 3. Economic Development for All
 - 4. Education for All

Question ID : 65497833834
Status : Not Answered
Chosen Option : --

Q.9 Pressure is equal to thrust divided by_____.

- Ans
- 1. area
 - 2. mass
 - 3. Force
 - 4. length

Question ID : 65497833829
Status : Answered
Chosen Option : 1

Q.10 _____ became the first Indian to win the Fed Cup Heart Award 2020 for Asia/Oceania zone, for her successful return to the court post motherhood.

- Ans
- 1. Ankita Raina
 - 2. Riya Bhatia
 - 3. Sania Mirza
 - 4. Rutuja Bhosale

Question ID : 65497833844
Status : Not Answered
Chosen Option : --

Q.11 Which of the following statements about the Equal Remuneration Act of 1976 is INCORRECT?

- Ans
- 1. It applies to certain parts of India.
 - 2. It is a Central Legislation.
 - 3. It provides for prevention of discrimination against women at workplace.
 - 4. It provides for payment of equal remuneration to men and women, in the matter of employment.

Question ID : 65497833839
Status : Not Answered
Chosen Option : --

Q.12 Malala Yousafzai is the youngest Nobel Peace Prize Laureate, having being awarded the prize when she was only 17 years old. In which year was she awarded this Nobel Peace Prize?

- Ans
- 1. 2016
 - 2. 2019
 - 3. 2018
 - 4. 2014

Question ID : 65497833830
Status : Not Answered
Chosen Option : --

Q.13 The Ministry of Information and Broadcasting announced _____ as the new President of the Film and Television Institute of India in September 2020.

- Ans
- 1. Mahesh Bhatt
 - 2. Anupam Kher
 - 3. Gajendra Chauhan
 - 4. Shekhar Kapur

Question ID : 65497833841
Status : Not Answered
Chosen Option : --

Q.14 Which of the following grasslands are present in North America?

- Ans
- 1. Prairies
 - 2. Steppes
 - 3. Pampas
 - 4. Downs

Question ID : 65497833826
Status : Answered
Chosen Option : 1

Q.15 How many members represent Himachal Pradesh in the 17th Lok Sabha as of 22 November 2020?

- Ans
- 1. 12
 - 2. 6
 - 3. 4
 - 4. 8

Question ID : 65497833831
Status : Not Answered
Chosen Option : --

Q.16 Nizam-ul-Mulk Asaf Jah, the founder of Hyderabad state, was the most powerful member at the court of the _____ Farrukh Siyar.

- Ans
- 1. Mughal Emperor
 - 2. Gupta Emperor
 - 3. Khalji Emperor
 - 4. Rajput Emperor

Question ID : 65497833838
Status : Not Answered
Chosen Option : --

Q.17 World Pneumonia Day is observed on:

- Ans
- 1. 18 December
 - 2. 5 September
 - 3. 12 November
 - 4. 15 October

Question ID : 65497833848
Status : Marked For Review
Chosen Option : 3

Q.18 Who among the following is the founder of Fit India movement?

- Ans
- 1. Kiren R jju
 - 2. Amit Shah
 - 3. Narendra Modi
 - 4. Suparno Satpathy

Question ID : 65497833833
Status : Not Answered
Chosen Option : --

Q.19 India completed the 50th anniversary of bank nationalisation programme in_____.

- Ans
- 1. 2019
 - 2. 2020
 - 3. 2017
 - 4. 2015

Question ID : 65497833849
Status : Not Answered
Chosen Option : --

Q.20 What is the maximum number of electrons that can be accommodated in the 'N' shell of an atom?

- Ans
- 1. 24
 - 2. 8
 - 3. 4
 - 4. 32

Question ID : 65497833828
Status : Answered
Chosen Option : 4

Q.21 The language of administration under the Delhi Sultans was:

- Ans
- 1. Urdu
 - 2. Persian
 - 3. Turkish
 - 4. Sanskrit

Question ID : 65497833837
Status : Not Answered
Chosen Option : --

Q.22 Jallikattu is a_____held mainly in Tamil Nadu.

- Ans
- 1. kite flying festival
 - 2. candle lighting festival
 - 3. bull taming festival
 - 4. buffalo fighting festival

Question ID : 65497833842
Status : Not Answered
Chosen Option : --

Q.23 Who among the following Australian cricketers won the Allan Border Medal 2020?

- Ans
- 1. Cameron Green
 - 2. Glenn Maxwell
 - 3. David Warner
 - 4. Pat Cummins

Question ID : 65497833845
Status : Not Answered
Chosen Option : --

Q.24 Which of the following movements against the British has been INCORRECTLY matched with its leader?

- Ans
- 1. Paika Rebellion - Bakshi Jagabandhu
 - 2. Pagal Panthi Revolt - Tirot Sing
 - 3. Kol Uprising - Buddhu Bhagat
 - 4. Ahom Revolt - Gomdhar Konwar

Question ID : 65497833847
Status : Not Answered
Chosen Option : --

Q.25 A kharif crop used both as food and fodder is:

- Ans
- 1. jowar
 - 2. bajra
 - 3. maize
 - 4. wheat

Question ID : 65497833836
Status : Marked For Review
Chosen Option : 1

Section : Part C Elementary Mathematics

Q.1 With a uniform speed, a car covers a distance in 6 hours. Had the speed been increased by 10 km/h, the same distance could have been covered in 5 hours. The distance covered by the car is:

- Ans
- 1. 300 km
 - 2. 200 km
 - 3. 250 km
 - 4. 350 km

Question ID : 65497833858
Status : Answered
Chosen Option : 1

Q.2 What is to be added to 35% of 440 so that the sum may be equal to 42% of 550?

- Ans
- 1. 70
 - 2. 75
 - 3. 77
 - 4. 65

Question ID : 65497833856
Status : Answered
Chosen Option : 3

Q.3 When the speed of a train is decreased by 25%, it takes 42 minutes more to cover the same distance. What is the time (in hours) taken by the train to cover the same distance with its actual speed?

Ans

- ✓ 1. $2\frac{1}{10}$
2. $1\frac{1}{20}$
3. $1\frac{4}{5}$
4. $2\frac{1}{5}$

Question ID : 65497833871
Status : Answered
Chosen Option : 1

Q.4 The compound interest on a certain sum for 2 years at 10% per annum is ₹651 (interest compounded yearly). The simple interest on the same sum for double the time at half the rate of interest per annum is:

Ans

1. ₹600
2. ₹630
3. ₹520
4. ₹620

Question ID : 65497833862
Status : Answered
Chosen Option : 4

Q.5 A and B undertake to do a job for ₹6,000. A can do it in 10 days and B can do it in 12 days. With the assistance of C, they finish the work in 4 days. How much should C be paid for his work?

Ans

1. ₹2,400
2. ₹1,500
3. ₹1,400
4. ₹1,600

Question ID : 65497833857
Status : Answered
Chosen Option : 4

Q.6 A sum of money is distributed among P, Q and R in the ratio 13 : 17 : 25, respectively. If R gets ₹6,800 more than Q, then the difference between P's share and Q's share is:

Ans

1. ₹3,400
2. ₹3,200
3. ₹3,600
4. ₹4,400

Question ID : 65497833859
Status : Answered
Chosen Option : 1

Q.7 A man borrows ₹15,000 at 15% p.a. compound interest. At the end of every year, he pays ₹2,500 as part repayment. How much does he still owe after three such instalments?

- Ans**
1. ₹14,131.87
 2. ₹13,175.66
 3. ₹12,150
 4. ₹12,642.50

Question ID : 65497833873
Status : Answered
Chosen Option : 1

Q.8 When a plot is sold for ₹34,080, the owner loses 20%. At what price must that plot be sold in order to gain 20%?

- Ans**
1. ₹50,120
 2. ₹51,120
 3. ₹41,120
 4. ₹51,020

Question ID : 65497833861
Status : Answered
Chosen Option : 2

Q.9 25 and 750 are the highest common factor and the lowest common multiple of two numbers, respectively. If one of the two numbers is 75, find the other number.

- Ans**
- ✓ 1. 250
 - ✗ 2. 75
 - ✗ 3. 50
 - ✗ 4. 25

Question ID : 65497833863
Status : Answered
Chosen Option : 1

Q.10 The average of five consecutive even numbers is 36. If the next five consecutive odd numbers are included, then what is the average of all the numbers?

- Ans**
- ✗ 1. 39
 - ✗ 2. 41.25
 - ✓ 3. 40.5
 - ✗ 4. 37.75

Question ID : 65497833851
Status : Answered
Chosen Option : 3

Q.11 The average weight of 24 boys is 7 kg more than the average weight of 28 girls. If the total weight of 24 boys is 1080 kg, then the total weight of 28 girls is:

- Ans**
1. 1074 kg
 2. 1064 kg
 3. 1054 kg
 4. 1046 kg

Question ID : 65497833854
Status : Answered
Chosen Option : 2

Q.12 If $2 \text{ of } 8 \div 3 + 3 \frac{4}{5} \div x - 4 \frac{7}{9} = 6 \frac{8}{9}$, what is the value of x ?

- Ans**
1. $\frac{2}{3}$
 2. $\frac{3}{5}$
 3. $\frac{5}{9}$
 4. $\frac{6}{7}$

Question ID : 65497833865
Status : Answered
Chosen Option : 2

Q.13 The height of a right circular cylinder is 14 cm and its curved surface is 264 cm^2 . Its volume is:

- Ans**
1. 396 cm^3
 2. 290 cm^3
 3. 366 cm^3
 4. 252 cm^3

Question ID : 65497833874
Status : Answered
Chosen Option : 1

Q.14 An article is marked at ₹700. If it is sold at a discount of 35%, then the selling price becomes $\frac{5}{3}$ times of its cost price. What is its cost price (in ₹)?

- Ans**
1. 273
 2. 455
 3. 291
 4. 420

Question ID : 65497833868
Status : Answered
Chosen Option : 1

Q.15 The value of $\frac{3}{5} \div 4\frac{4}{5}$ of $\frac{5}{16} + \frac{2}{3} \div \frac{8}{15} \times 1\frac{1}{5} - \frac{1}{4} \times \frac{3}{4} \div 1\frac{1}{4}$ of $\frac{2}{5}$ is:

- Ans
- 1. $\frac{61}{40}$
 - 2. $\frac{12}{5}$
 - 3. $\frac{9}{4}$
 - 4. $\frac{21}{10}$

Question ID : 65497833870
Status : Answered
Chosen Option : 1

Q.16 Ravi borrowed ₹1,800 at 6% per annum and ₹2,800 at 7% per annum simple interest for the same duration and paid ₹2,736 in all as interest. His friend Shiv borrowed ₹2,500 at 8% per annum simple interest for the same duration. How much (in ₹) Shiv had to pay to clear off the loan?

- Ans
- 1. 3,900
 - 2. 4,500
 - 3. 4,300
 - 4. 4,000

Question ID : 65497833853
Status : Answered
Chosen Option : 3

Q.17 32 workers working for 9 hours a day can finish a work in 14 days. If each worker works for 8 hours per day, how many workers are required to finish the same work in 18 days?

- Ans
- 1. 30
 - 2. 24
 - 3. 26
 - 4. 28

Question ID : 65497833867
Status : Answered
Chosen Option : 4

Q.18 The single equivalent discount for three successive discounts of 8%, 12.5% and 20% is:

- Ans
- 1. 40.5%
 - 2. 35.6%
 - 3. 35.4%
 - 4. 36.5%

Question ID : 65497833855
Status : Answered
Chosen Option : 2

Q.19 35 litres of a mixture contain milk and water in the ratio 3 : 2. If 4 litres of this mixture be replaced by 4 litres of milk, then find the ratio of milk to the water in the new mixture.

- Ans
- 1. 4 : 7
 - 2. 3 : 5
 - 3. 5 : 2
 - 4. 3 : 7

Question ID : 65497833872
Status : Answered
Chosen Option : 3

Q.20 What will be the least number of marbles with Seema, if she can arrange them in rows of 6, 10, 12 and 15 marbles each, and the number is also a perfect square?

- Ans
- 1. 625
 - 2. 900
 - 3. 225
 - 4. 400

Question ID : 65497833850
Status : Answered
Chosen Option : 2

Q.21 A student got 160 marks and required 50 more marks to secure the minimum 35% marks to pass. Find the maximum marks.

- Ans
- 1. 600
 - 2. 750
 - 3. 800
 - 4. 500

Question ID : 65497833864
Status : Answered
Chosen Option : 1

Q.22 ₹1,26,672 is divided between A and B in the ratio 7 : 9. The difference between the share of B and that of A (in ₹) is:

- Ans
- 1. 18,354
 - 2. 21,317
 - 3. 15,834
 - 4. 13,485

Question ID : 65497833852
Status : Answered
Chosen Option : 3

Q.23 The perimeter and area of a rectangular sheet are 40 m and 72 m^2 , respectively. The length of the diagonal will be:

- Ans
- 1. 14 m
 - 2. 12 m
 - 3. 16 m
 - 4. 10 m

Question ID : 65497833860
Status : Answered
Chosen Option : 3

Q.24 A sold an article to B at 20% profit. B sold it to C at 12% loss and C sold it to D at 25% profit. If B had a loss of ₹72, then D would have bought the article for:

- Ans**
1. ₹660
 2. ₹396
 3. ₹594
 4. ₹528

Question ID : 65497833869
Status : Answered
Chosen Option : 1

Q.25 A man bought some eggs at ₹60 per dozen and bought another lot of the same number of eggs at ₹50 per dozen. If he gained ₹930 after selling all these eggs at ₹70 per dozen, what was the total number of eggs bought by him?

- Ans**
1. 54 dozens
 2. 48 dozens
 3. 62 dozens
 4. 70 dozens

Question ID : 65497833866
Status : Answered
Chosen Option : 3

Section : Part D English

Q.1 Select the option that is closest in meaning to the underlined idiom/phrase in the given sentence.

Losing my job was a blessing in disguise because I got to spend more time with my family.

- Ans**
1. task that appeared difficult at first but became easy later
 2. a joyful event that made everybody happy
 3. event that seemed bad at first but resulted in something good later
 4. a good thing that happened only once

Question ID : 65497833886
Status : Answered
Chosen Option : 3

Q.2 Select the most appropriate meaning of the given idiom.

To lose one's head

- Ans**
1. To be happy
 2. To take responsibility
 3. To become upset or angry
 4. To be robbed

Question ID : 65497833883
Status : Answered
Chosen Option : 3

Q.3 The following sentence has been split into four segments. Identify the segment that contains a grammatical error.

Mr. Ghosh is senior / than Mr. Sen, / so he must be / promoted first.

- Ans
- 1. Mr. Ghosh is senior
 - 2. so he must be
 - 3. than Mr. Sen
 - 4. promoted first

Question ID : 65497833877
Status : Answered
Chosen Option : 3

Q.4 Select the most appropriate synonym of the given word.

Brutal

- Ans
- 1. Considerate
 - 2. Cheerful
 - 3. Cruel
 - 4. Courteous

Question ID : 65497833878
Status : Answered
Chosen Option : 3

Q.5 Select the most appropriate option that can substitute the underlined segment in the given sentence. If there is no need to substitute it, select 'No substitution required'.

Trees can live in an extremely long time – tens, hundreds, even thousands of years.

- Ans
- 1. can live with an extremely long time
 - 2. can live for an extremely long time
 - 3. can live in an extremely longest time
 - 4. No substitution required

Question ID : 65497833884
Status : Answered
Chosen Option : 2

Q.6 Select the option that can be used as a one-word substitute for the given group of words.

A dummy used to display clothes in a shop window

- Ans
- 1. Mannequin
 - 2. Supermodel
 - 3. Statue
 - 4. Model

Question ID : 65497833894
Status : Answered
Chosen Option : 1

Q.7 Select the most appropriate synonym of the given word.

Perforate

- Ans 1. Pierce
 2. Fold
 3. Tear
 4. Crack

Question ID : 65497833893
Status : Answered
Chosen Option : 3

Q.8 Select the correctly spelt word.

- Ans 1. Schemes
 2. Malnourised
 3. Recognisable
 4. Intigrated

Question ID : 65497833879
Status : Answered
Chosen Option : 1

Q.9 Select the most appropriate option to fill in the blank.

It is important to _____ with the police and listen to their advice.

- Ans 1. cope
 2. combine
 3. concern
 4. cooperate

Question ID : 65497833887
Status : Answered
Chosen Option : 4

Q.10 Select the most appropriate option to fill in the blank.

Nobody seems to be _____ in visiting museums.

- Ans 1. attracted
 2. anxious
 3. obsessed
 4. interested

Question ID : 65497833882
Status : Answered
Chosen Option : 4

Q.11 Select the most appropriate option that can substitute the underlined segment in the given sentence. If there is no need to substitute it, select 'No substitution required'.

He will not get admission in a good college unless he will work hard.

- Ans
- 1. would work
 - 2. No substitution required
 - 3. works
 - 4. is working

Question ID : 65497833875
Status : Answered
Chosen Option : 3

Q.12 Select the option that can be used as a one-word substitute for the given group of words.

Able to be eaten

- Ans
- 1. Decibel
 - 2. Scribble
 - 3. Hobble
 - 4. Edible

Question ID : 65497833876
Status : Answered
Chosen Option : 4

Q.13 Select the most appropriate option to fill in the blank.

The _____ of directors gave their approval for the project.

- Ans
- 1. team
 - 2. board
 - 3. bunch
 - 4. band

Question ID : 65497833880
Status : Answered
Chosen Option : 2

Q.14 Select the most appropriate ANTONYM of the given word.

Remorse

- Ans
- 1. Indifference
 - 2. Guilt
 - 3. Anger
 - 4. Denial

Question ID : 65497833889
Status : Answered
Chosen Option : 2

Q.15 The following sentence has been split into four segments. Identify the segment that contains a grammatical error.

Emma agreed / thinking of an excuse / to get Paul / out of the house.

Ans 1. thinking of an excuse

2. Emma agreed

3. to get Paul

4. out of the house

Question ID : 65497833892

Status : Answered

Chosen Option : 1

Q.16 The following sentence has been split into four segments. Identify the segment that contains a grammatical error.

Why do you think / why John / refused to / marry her?

Ans 1. why John

2. marry her

3. Why do you think

4. refused to

Question ID : 65497833888

Status : Answered

Chosen Option : 1

Q.17 Select the option that can be used as a one-word substitute for the given group of words.

Owing money to someone

Ans 1. Indebted

2. Exchanged

3. Loaned

4. Donated

Question ID : 65497833890

Status : Answered

Chosen Option : 3

Q.18 Select the most appropriate option that can substitute the underlined segment in the given sentence. If there is no need to substitute it, select 'No substitution required'.

Vanilla ice cream with chocolate sauce is my favourite.

Ans 1. with chocolate sauce are

2. No substitution required

3. with chocolate sauces are

4. with chocolate sauce is being

Question ID : 65497833885

Status : Answered

Chosen Option : 2

Q.19 Select the INCORRECTLY spelt word.

- Ans 1. Omission
 2. Remission
 3. Comission
 4. Submission

Question ID : 65497833891
Status : Answered
Chosen Option : 3

Q.20 Select the most appropriate ANTONYM of the given word.

United

- Ans 1. Bonded
 2. Linked
 3. Separated
 4. Together

Question ID : 65497833881
Status : Answered
Chosen Option : 3

Comprehension:

In the following passage, some words have been deleted. Read the passage carefully and select the most appropriate option to fill in each blank.

When the temperature (1)_____during the summer season, many people choose to use air-conditioners to keep their homes and offices cool. Air-conditioners, which were once regarded as a luxury, have now almost become a/an (2)_____. The air-conditioning system not only cools the indoor air down but also filters out harmful pollutants. This helps reduce dust, pollen and allergens inside the home and (3)_____the quality of air inside the house or room. However, along with the (4)_____, there are some disadvantages. A major disadvantage is that if the filter inside the air-conditioner is not cleaned and maintained regularly, it (5)_____to problems such as allergic colds, fever, headaches and dryness of the skin.

SubQuestion No : 21

Q.21 Select the most appropriate option to fill in blank no. 1.

- Ans 1. raises
 2. gains
 3. rises
 4. extends

Question ID : 65497833896
Status : Answered
Chosen Option : 3

Comprehension:

In the following passage, some words have been deleted. Read the passage carefully and select the most appropriate option to fill in each blank.

When the temperature (1)_____during the summer season, many people choose to use air-conditioners to keep their homes and offices cool. Air-conditioners, which were once regarded as a luxury, have now almost become a/an (2)_____. The air-conditioning system not only cools the indoor air down but also filters out harmful pollutants. This helps reduce dust, pollen and allergens inside the home and (3)_____the quality of air inside the house or room. However, along with the (4)_____, there are some disadvantages. A major disadvantage is that if the filter inside the air-conditioner is not cleaned and maintained regularly, it (5)_____to problems such as allergic colds, fever, headaches and dryness of the skin.

SubQuestion No : 22

Q.22 Select the most appropriate option to fill in blank no. 2.

Ans 1. necessity

2. demand

3. urgency

4. essence

Question ID : 65497833897

Status : Answered

Chosen Option : 1

Comprehension:

In the following passage, some words have been deleted. Read the passage carefully and select the most appropriate option to fill in each blank.

When the temperature (1)_____during the summer season, many people choose to use air-conditioners to keep their homes and offices cool. Air-conditioners, which were once regarded as a luxury, have now almost become a/an (2)_____. The air-conditioning system not only cools the indoor air down but also filters out harmful pollutants. This helps reduce dust, pollen and allergens inside the home and (3)_____the quality of air inside the house or room. However, along with the (4)_____, there are some disadvantages. A major disadvantage is that if the filter inside the air-conditioner is not cleaned and maintained regularly, it (5)_____to problems such as allergic colds, fever, headaches and dryness of the skin.

SubQuestion No : 23

Q.23 Select the most appropriate option to fill in blank no. 3.

Ans 1. improve

2. develops

3. alters

4. reforms

Question ID : 65497833898

Status : Answered

Chosen Option : 1

Comprehension:

In the following passage, some words have been deleted. Read the passage carefully and select the most appropriate option to fill in each blank.

When the temperature (1)_____during the summer season, many people choose to use air-conditioners to keep their homes and offices cool. Air-conditioners, which were once regarded as a luxury, have now almost become a/an (2)_____. The air-conditioning system not only cools the indoor air down but also filters out harmful pollutants. This helps reduce dust, pollen and allergens inside the home and (3)_____the quality of air inside the house or room. However, along with the (4)_____, there are some disadvantages. A major disadvantage is that if the filter inside the air-conditioner is not cleaned and maintained regularly, it (5)_____to problems such as allergic colds, fever, headaches and dryness of the skin.

SubQuestion No : 24

Q.24 Select the most appropriate option to fill in blank no. 4.

Ans 1. benefits

2. credits

3. virtue

4. merit

Question ID : 65497833899

Status : Answered

Chosen Option : 1

Comprehension:

In the following passage, some words have been deleted. Read the passage carefully and select the most appropriate option to fill in each blank.

When the temperature (1)_____during the summer season, many people choose to use air-conditioners to keep their homes and offices cool. Air-conditioners, which were once regarded as a luxury, have now almost become a/an (2)_____. The air-conditioning system not only cools the indoor air down but also filters out harmful pollutants. This helps reduce dust, pollen and allergens inside the home and (3)_____the quality of air inside the house or room. However, along with the (4)_____, there are some disadvantages. A major disadvantage is that if the filter inside the air-conditioner is not cleaned and maintained regularly, it (5)_____to problems such as allergic colds, fever, headaches and dryness of the skin.

SubQuestion No : 25

Q.25 Select the most appropriate option to fill in blank no. 5.

Ans 1. could lead

2. led

3. leads

4. is leading

Question ID : 65497833900

Status : Answered

Chosen Option : 3

Section : Part D Hindi

Q.1 'मृगांक' कसका पया यवाची ह ?

Ans 1. कमल

2. च

3. नयन

4. सूय

Question ID : 65497833917

Status : Not Answered

Chosen Option : --

Q.2 दए गए वा का वह भाग ात कर जसम कोई ु ट ह। य द कोई ु ट नह ह, तो कोई ु ट नह ह। चुनहमार यहाँ(1) त ण नवयुवक क (2) श ाका अ ा बंध ह।(3) कोई ु ट नह ह।(4)

Ans 1. 2

2. 3

3. 4

4. 1

Question ID : 65497833911

Status : Not Answered

Chosen Option : --

Q.3 सही वत नी वाले श का चयन कर।

Ans 1. पारीतो षक

2. पा रतो षक

3. परीतो षक

4. प रतो षक

Question ID : 65497833904

Status : Not Answered

Chosen Option : --

Q.4 दए गए वक म से न ल खत वा ांश के लए एक श का चयन क जए.

जसके दय म ममता नह ह

Ans 1. नमूल

2. नभय

3. नमम

4. नदय

Question ID : 65497833913

Status : Not Answered

Chosen Option : --

Q.5 दए गए वा म रखांकत खंड को त ा पत करने के लए सवा धक उपयु वक का चयन कर। य द इसे त ा पत करने क आव कता नह ह, तो वक कसी बदलाव क आव कता नह ह का चयन कर।

मने सुई, कं घी, दपण और पु क मोल लए।

Ans 1. कसी बदलाव क आव कता नह ह।

2. मोल ल ।

3. मोल दी।

4. मोल कए।

Question ID : 65497833910

Status : Not Answered

Chosen Option : --

Q.6 दिए गए वाक्य के किस भाग में त्रुटि है?

छात्राओं ने रंगारंग कार्यक्रम में भाग लिया।

- Ans
- 1. रंगारंग
 - 2. छात्राओं ने
 - 3. भाग लिया।
 - 4. कार्यक्रम म

Question ID : 65497833916
Status : Not Answered
Chosen Option : --

Q.7 सही वर्तनी वाले शब्द का चयन करें।

- Ans
- 1. गाम्भीय
 - 2. गम्भीय
 - 3. गंभीय
 - 4. गांभिय

Question ID : 65497833903
Status : Not Answered
Chosen Option : --

Q.8 रिक्त स्थान की पूर्ति करने के लिए सर्वाधिक उपयुक्त शब्द का चयन करें।

आज का युवा अपने अधिकारों के प्रति अत्यंत _____ है।

- Ans
- 1. सहज
 - 2. सजग
 - 3. अनभिज्ञ
 - 4. बेखबर

Question ID : 65497833909
Status : Not Answered
Chosen Option : --

Q.9 दिए गए वाक्य में रेखांकित खंड को प्रतिस्थापित करने के लिए सर्वाधिक उपयुक्त विकल्प का चयन करें। यदि इसे प्रतिस्थापित करने की आवश्यकता नहीं है, तो विकल्प 'किसी बदलाव की आवश्यकता नहीं है' का चयन करें।

अपराधी छूट जाते हैं, निरपराध को सजा मिलता है।

- Ans
- 1. निरपराध का सजा मिलता है।
 - 2. किसी बदलाव की आवश्यकता नहीं है।
 - 3. निरपराध को सजा मिलती है।
 - 4. निरपराध को सजा मिलती है।

Question ID : 65497833905
Status : Not Answered
Chosen Option : --

Q.10 छप्पर फाड़ कर देना मुहावरे का उचित अर्थ स्पष्ट कीजिए-

- Ans
- 1. विवाह करना
 - 2. अप्रत्याक्षित हानि होना।
 - 3. बिना प्रयत्न प्राप्त होना
 - 4. जवाब नहीं देना

Question ID : 65497833919
Status : Not Answered
Chosen Option : --

Q.11 'आँखें नीची होना' मुहावरे का सही अर्थ है-

- Ans
- 1. क्रोधित होना
 - 2. लज्जित होना
 - 3. परेशान होना
 - 4. चिंतित होना

Question ID : 65497833915
Status : Not Answered
Chosen Option : --

Q.12 दिए गए वाक्य में रेखांकित खंड को प्रतिस्थापित करने के लिए सर्वाधिक उपयुक्त विकल्प का चयन करें। यदि इसे प्रतिस्थापित करने की आवश्यकता नहीं है, तो विकल्प 'किसी बदलाव की आवश्यकता नहीं है' का चयन करें।

कुछ बच्चे मैदान में क्रिकेट खेल रहे थे तो मेरे लड़का ने भी उनके साथ खेलने की जिद की।

- Ans
- 1. तो मेरे बेटे ने भी उनके साथ
 - 2. किसी बदलाव की आवश्यकता नहीं है।
 - 3. तो मेरा बच्चा ने भी उनके साथ
 - 4. तो मेरा लड़का ने भी उनके साथ

Question ID : 65497833906
Status : Not Answered
Chosen Option : --

Q.13 रिक्त स्थान की पूर्ति करने के लिए सर्वाधिक उपयुक्त शब्द का चयन करें।

श्रीकृष्ण के मामा कंस एक _____ राजा थे।

- Ans
- 1. धार्मिक
 - 2. विनयी
 - 3. देशप्रेमी
 - 4. अत्याचारी

Question ID : 65497833901
Status : Not Answered
Chosen Option : --

Q.14 दिए गए शब्द के समानार्थी शब्द का चयन करें।

जलज

- Ans
- 1. सलिल
 - 2. राजीव
 - 3. जरायु
 - 4. जलधि

Question ID : 65497833908
Status : Not Answered
Chosen Option : --

Q.15 रिक्त स्थान की पूर्ति करने के लिए सर्वाधिक उपयुक्त शब्द का चयन करें।

पुलिस सारी घटना की _____ कर रही है।

- Ans
- 1. माप
 - 2. जाँच
 - 3. परीक्षा
 - 4. टीका

Question ID : 65497833920
Status : Not Answered
Chosen Option : --

Q.16 दिए गए शब्द का विलोम चुनें-

प्रचुर

- Ans
- 1. अप्रचुर
 - 2. प्रचलित
 - 3. प्रचारित
 - 4. अप्रचारित

Question ID : 65497833912
Status : Not Answered
Chosen Option : --

Q.17 दिए गए विकल्पों में से निम्नलिखित वाक्यांश के लिए एक शब्द का चयन कीजिए-

अपने देश के साथ विश्वासघात करने वाला

- Ans
- 1. देशप्रेमी
 - 2. देशद्रोही
 - 3. दुर्मिक्ष
 - 4. विश्वासघाती

Question ID : 65497833914
Status : Not Answered
Chosen Option : --

Q.18 बहुसंख्यक रेखांकित शब्द का सही विलोम बताइए-

- Ans
- 1. अल्पतज्ञ
 - 2. असीम
 - 3. अल्पसंख्यक
 - 4. अल्प

Question ID : 65497833918
Status : Not Answered
Chosen Option : --

Q.19 दिए गए वाक्यांश के लिए एक शब्द दीजिए-

जो अक्षरों को पढ़ना-लिखना जानता हो

- Ans
- 1. सर्वज्ञ
 - 2. साक्षर
 - 3. अनपढ़
 - 4. निराक्षर

Question ID : 65497833902
Status : Not Answered
Chosen Option : --

Q.20 दिए गए वाक्य का वह भाग ज्ञात करें जिसमें कोई त्रुटि है। यदि कोई त्रुटि नहीं है, तो 'कोई त्रुटि नहीं है' चुनें।

क्या आप अपनी (1)/ बात की स्पष्टीकरण करने के लिए (2)/ बिलकुल तैयार हैं? (3)/ कोई त्रुटि नहीं है (4)

- Ans
- 1. 4
 - 2. 1
 - 3. 3
 - 4. 2

Question ID : 65497833907
Status : Not Answered
Chosen Option : --

Comprehension:

दिए गए गद्यांश में से कुछ शब्द हटा दिए गए हैं। नीचे दिए विकल्पों की सहायता से रिक्त स्थानों की पूर्ति करें। प्रत्येक संख्या के लिए सर्वाधिक उपयुक्त विकल्प का चयन करें।

तुलसीदास ने 'रामचरितमानस' के द्वारा वेद-शास्त्र-सम्मत हिन्दू धर्म का (1)_____ किया। हमारी संस्कृति का (2)_____ ही वेद, शास्त्र, स्मृति आदि ग्रंथ हैं। तुलसीदास ने उस संस्कृति के आध्यात्मिक और सामाजिक पक्ष की (3)_____ की और हमारे सामने कई आदर्श प्रस्तुत किए। 'रामचरितमानस' के (4)_____ से हिन्दुओं में अपनी संस्कृति के अतीत और भविष्य पर आस्था और गर्व का (5)_____ हुआ।

SubQuestion No : 21

Q.21 गद्यांश के रिक्त स्थान (1) के लिए सर्वाधिक उपयुक्त शब्द होगा-

- Ans
- 1. प्रदान
 - 2. प्रकार
 - 3. प्रचार
 - 4. प्राचार

Question ID : 65497833922
Status : Not Answered
Chosen Option : --

Comprehension:

दिए गए गद्यांश में से कुछ शब्द हटा दिए गए हैं। नीचे दिए विकल्पों की सहायता से रिक्त स्थानों की पूर्ति करें। प्रत्येक संख्या के लिए सर्वाधिक उपयुक्त विकल्प का चयन करें।

तुलसीदास ने 'रामचरितमानस' के द्वारा वेद-शास्त्र-सम्मत हिन्दू धर्म का (1)_____ किया। हमारी संस्कृति का (2)_____ ही वेद, शास्त्र, स्मृति आदि ग्रंथ हैं। तुलसीदास ने उस संस्कृति के आध्यात्मिक और सामाजिक पक्ष की (3)_____ की और हमारे सामने कई आदर्श प्रस्तुत किए। 'रामचरितमानस' के (4)_____ से हिन्दुओं में अपनी संस्कृति के अतीत और भविष्य पर आस्था और गर्व का (5)_____ हुआ।

SubQuestion No : 22**Q.22 गद्यांश के रिक्त स्थान (2) के लिए सर्वाधिक उपयुक्त शब्द होगा-**

- Ans
- 1. आभार
 - 2. आधार
 - 3. उद्धार
 - 4. अधार

Question ID : 65497833923

Status : Not Answered

Chosen Option : --

Comprehension:

दिए गए गद्यांश में से कुछ शब्द हटा दिए गए हैं। नीचे दिए विकल्पों की सहायता से रिक्त स्थानों की पूर्ति करें। प्रत्येक संख्या के लिए सर्वाधिक उपयुक्त विकल्प का चयन करें।

तुलसीदास ने 'रामचरितमानस' के द्वारा वेद-शास्त्र-सम्मत हिन्दू धर्म का (1)_____ किया। हमारी संस्कृति का (2)_____ ही वेद, शास्त्र, स्मृति आदि ग्रंथ हैं। तुलसीदास ने उस संस्कृति के आध्यात्मिक और सामाजिक पक्ष की (3)_____ की और हमारे सामने कई आदर्श प्रस्तुत किए। 'रामचरितमानस' के (4)_____ से हिन्दुओं में अपनी संस्कृति के अतीत और भविष्य पर आस्था और गर्व का (5)_____ हुआ।

SubQuestion No : 23**Q.23 गद्यांश के रिक्त स्थान (3) के लिए सर्वाधिक उपयुक्त शब्द होगा-**

- Ans
- 1. रखा
 - 2. महत्ता
 - 3. गुणगान
 - 4. रक्षा

Question ID : 65497833924

Status : Not Answered

Chosen Option : --

Comprehension:

दिए गए गद्यांश में से कुछ शब्द हटा दिए गए हैं। नीचे दिए विकल्पों की सहायता से रिक्त स्थानों की पूर्ति करें। प्रत्येक संख्या के लिए सर्वाधिक उपयुक्त विकल्प का चयन करें।

तुलसीदास ने 'रामचरितमानस' के द्वारा वेद-शास्त्र-सम्मत हिन्दू धर्म का (1)_____ किया। हमारी संस्कृति का (2)_____ ही वेद, शास्त्र, स्मृति आदि ग्रंथ हैं। तुलसीदास ने उस संस्कृति के आध्यात्मिक और सामाजिक पक्ष की (3)_____ की और हमारे सामने कई आदर्श प्रस्तुत किए। 'रामचरितमानस' के (4)_____ से हिन्दुओं में अपनी संस्कृति के अतीत और भविष्य पर आस्था और गर्व का (5)_____ हुआ।

SubQuestion No : 24**Q.24 गद्यांश के रिक्त स्थान (4) के लिए सर्वाधिक उपयुक्त शब्द होगा-**

- Ans
- 1. मनन-गुनन
 - 2. लिखन-मनन
 - 3. पठन-पाठन
 - 4. लिखन-पाठन

Question ID : 65497833925

Status : Not Answered

Chosen Option : --

Comprehension:

दिए गए गद्यांश में से कुछ शब्द हटा दिए गए हैं। नीचे दिए विकल्पों की सहायता से रिक्त स्थानों की पूर्ति करें। प्रत्येक संख्या के लिए सर्वाधिक उपयुक्त विकल्प का चयन करें।

तुलसीदास ने 'रामचरितमानस' के द्वारा वेद-शास्त्र-सम्मत हिन्दू धर्म का (1)_____ किया। हमारी संस्कृति का (2)_____ ही वेद, शास्त्र, स्मृति आदि ग्रंथ हैं। तुलसीदास ने उस संस्कृति के आध्यात्मिक और सामाजिक पक्ष की (3)_____ की और हमारे सामने कई आदर्श प्रस्तुत किए। 'रामचरितमानस' के (4)_____ से हिन्दुओं में अपनी संस्कृति के अतीत और भविष्य पर आस्था और गर्व का (5)_____ हुआ।

SubQuestion No : 25

Q.25 गद्यांश के रिक्त स्थान (5) के लिए सर्वाधिक उपयुक्त शब्द होगा-

- Ans
- 1. विचार
 - 2. संसार
 - 3. संचार
 - 4. प्रचार

Question ID : 65497833926

Status : Not Answered

Chosen Option : --

**SSC
GD**

**Previous Year Paper
30 Nov 2021 Shift 3**

Exam Date	30/11/2021
Exam Time :	4:00 PM - 5:30 PM
Subject	Constable GD 2021

Section : Part A General Intelligence and Reasoning

Q.1 अ र के उस संयोजन का चयन क जए, जसे दी गई ृंखला के र ान म मब पसे रखने पर ृंखलापूण हो जाएगी।

D Q _ R _ D _ M R _ D _ M _ T

- Ans
- 1. MQTTQR
 - 2. MTQRQT
 - 3. MTQTRQ
 - 4. MTQTQR

Question ID : 65497835473

Status : Answered

Chosen Option : 4

Q.2 चार अ र समूह दए गए ह, जनम से तीन कसी तरह से समान ह और एक असंगत ह। उस असंगत अ र समूह का चयन क जए।

- Ans
- 1. NRV
 - 2. QVB
 - 3. SXD
 - 4. YDJ

Question ID : 65497835451

Status : Answered

Chosen Option : 1

Q.3 उस वक का चयन क जए, जसका तीसर पद से वही संबंध ह, जो ूसर पद का पहले पद से ह।

BEGIN : EBGNI :: CADET : ?

- Ans
- 1. ACTDE
 - 2. TEDCA
 - 3. ADFTE
 - 4. ACDTE

Question ID : 65497835469

Status : Answered

Chosen Option : 4

Q.4 एक न त कू ट भाषा म, PLAN को OBMQ लखा जाता ह, और NOT को UPO लखा जाता ह। उसी कू ट भाषा म MOTHER को कस कार लखा जाएगा?

- Ans 1. SFIUQM
 2. SFIUPN
 3. SFIVQN
 4. SGIURN

Question ID : 65497835470
Status : Answered
Chosen Option : 1

Q.5 If 'A' denotes 'addition', 'B' denotes 'multiplication', 'C' denotes 'subtraction', and 'D' denotes 'division', then what will be the value of the following expression?

82 A 126 B 16 D 112 C 73

- Ans 1. 52
 2. 27
 3. 72
 4. 25

Question ID : 65497835466
Status : Answered
Chosen Option : 2

Q.6 An amount of ₹870 is divided between Urmi and Kripa in the ratio of 18 : 11, respectively, whereas an amount of ₹960 is divided between Poorvi and Mrinal in the ratio of 5 : 7, respectively. Who gets the maximum amount of money among all four?

- Ans 1. Kripa
 2. Urmi
 3. Poorvi
 4. Mrinal

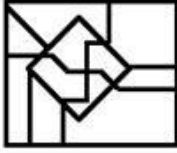
Question ID : 65497835458
Status : Answered
Chosen Option : 2

Q.7 उस विकल्प का चयन करें जिसमें दी गई आकृति सन्निहित है (आकृति को घुमाने की अनुमति नहीं है)।

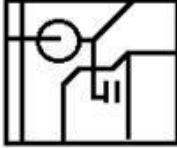


Ans

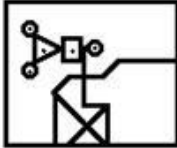
✗ 1.



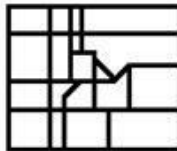
✗ 2.



✗ 3.



✓ 4.

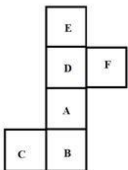


Question ID : 65497835468

Status : Answered

Chosen Option : 1

Q.8 दी गई शीट को मोड़कर एक घन बनाया जाता है। इस प्रकार से बने घन में, उस अक्षर का चयन करें, जो अक्षर 'D' दर्शाने वाले फलक के विपरीत वाले फलक पर होगा।



Ans

1. E

2. B

3. C

4. F

Question ID : 65497835467

Status : Answered

Chosen Option : 2

Q.9 उस सही वक् का चयन क जए, जो दए गए श के उस म को दशा ता ह, जस म म वे अं ेजी श कोश म मौजूद होते ह।

1. Carpet
2. Caring
3. Carrot
4. Creamy
5. Creek

Ans 1. 2, 1, 3, 5, 4
 2. 1, 2, 3, 4, 5
 3. 2, 1, 3, 4, 5
 4. 2, 3, 1, 4, 5

Question ID : 65497835472

Status : Answered

Chosen Option : 3

Q.10 In a cafeteria, seven customers (B, G, H, K, L, M and N) sit on three different benches (X, Y and Z). Each bench must have at least two customers sitting on it. Customer G does not sit with customers K, L and M. Customer B sits only with customer N. Customer K sits on Bench X with his best friends. Customer H sits on Bench Z. On which bench are there three customers?

Ans 1. Only Bench X
 2. Bench X or Bench Y
 3. Only Bench Z
 4. Only Bench Y

Question ID : 65497835462

Status : Not Attempted and Marked For Review

Chosen Option : --

Q.11 वनों के उस समुच्चय का चयन कीजिए जिनके मध्य के संबंध को दिए गए वेन आरेख द्वारा सर्वश्रेष्ठ रूप से निरूपित किया गया है।



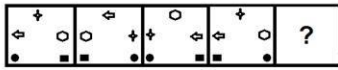
Ans 1. दादा, माता, फार्मासिस्ट
 2. कार्डियोलॉजिस्ट, वकील, प्रोफेसर
 3. माताएं, महिलाएं, वकील
 4. पुत्रियां, भाई, इंजीनियर

Question ID : 65497835463

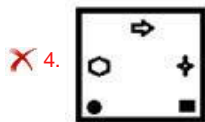
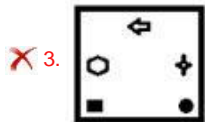
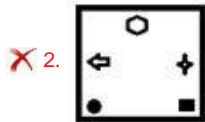
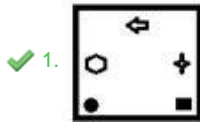
Status : Answered

Chosen Option : 3

Q.12 दिए गए विकल्पों में से उस आकृति का चयन कीजिए, जो निम्नलिखित श्रृंखला में प्रश्नवाचक चिन्ह (?) के स्थान पर आ सकती है।



Ans



Question ID : 65497835475

Status : Answered

Chosen Option : 1

Q.13 Read the given statements and conclusions carefully. Assuming that the information given in the statements is true, even if it appears to be at variance with commonly known facts, decide which of the given conclusions logically follow(s) from the statements.

Statements:

1. All gardens are resorts.
2. No resort is a court.
3. All parks are courts.

Conclusions:

- I. No court is a garden.
- II. No garden is a park.

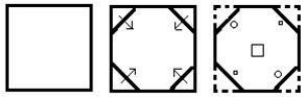
- Ans
- ✗ 1. None of the conclusions follow
 - ✗ 2. Only conclusion I follows
 - ✗ 3. Only conclusion II follows
 - ✓ 4. Both the conclusions follow

Question ID : 65497835456

Status : Answered

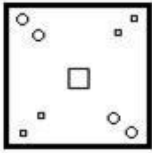
Chosen Option : 4

Q.14 The sequence of folding a piece of paper and the manner in which the folded paper has been cut is shown in the following figures. How would this paper look when unfolded?

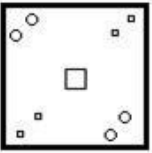


Ans

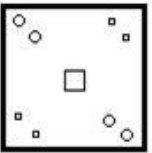
✓ 1.



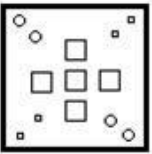
✗ 2.



✗ 3.



✗ 4.



Question ID : 65497835459

Status : Answered

Chosen Option : 1

Q.15 दए गए वक म से उस सं ा का चयन क जए जो न ल खत ृंखला म च (?) को त ा पतकर सकती ह।

27, 41, 57, 76, 99, ?

Ans ✗ 1. 152

✗ 2. 114

✗ 3. 136

✓ 4. 127

Question ID : 65497835453

Status : Answered

Chosen Option : 4

Q.16 उस वक का चयन क जए जसका तीसरी सं ा से वही संबंध ह, जो ूसरी सं ा का पहली सं ा से ह और छठी सं ा का पाँचव सं ा से ह।

6 : 4 :: 11 : ? :: 16 : 8

Ans ✓ 1. 6

✗ 2. 5

✗ 3. 8

✗ 4. 7

Question ID : 65497835465

Status : Not Attempted and Marked For Review

Chosen Option : --

Q.17 एक न त कूट भाषा म, 'NAUSEA' को '236943' और 'SYRUP' को '97165' के प म कू टब कया गया है। उसी भाषा म, 'SUPPRESS' को कस प म कू टब कया जाएगा?

- Ans 1. 96552599
 2. 86552489
 3. 96441499
 4. 96551499

Question ID : 65497835452

Status : Answered

Chosen Option : 4

Q.18 Six friends, Govardan, Sarayu, Rekha, Shyamala, Hema and Ganesh, are standing in a queue at a ticket counter. There are two persons between Sarayu and Hema. Rekha is between Hema and Shyamala. Only one person is standing ahead of Govardan. Ganesh who is third from the back end of the row, is between Govardan and Hema. Which two persons are standing between Sarayu and Hema?

- Ans 1. Shyamala and Rekha
 2. Govardan and Rekha
 3. Ganesh and Shyamala
 4. Govardan and Ganesh

Question ID : 65497835464

Status : Answered

Chosen Option : 3

Q.19 दए गए वक म से उस सं ा का चयन क जए, जो न ल खत ेणीम वाचक च (?) के ान पर आ सकती ह।

23, 40, 74, 125, 193, ?

- Ans 1. 270
 2. 278
 3. 290
 4. 225

Question ID : 65497835474

Status : Answered

Chosen Option : 2

Q.20 एक न त कूट भाषा म, 'POUR' को 'OPRU' और 'TACKLE' को 'ATKCEL' के प म लखा जाता ह। उसी भाषा म 'FORMATIONS' के से लखा जाएगा?

- Ans 1. OFNRTAONSI
 2. OFMTRAOISO
 3. MFPRTAOKSN
 4. OFMRTAOISN

Question ID : 65497835455

Status : Answered

Chosen Option : 4

Q.21 उस वक का चयन क जए जसम दी गई सं ाँ आपस म उसी तरह से संबं धत ह जस कार दए गए समु य क सं ाँ आपस म संबं धत ह।

(12, 14, 56)

- Ans 1. (16, 18, 96)
 2. (24, 16, 214)
 3. (10, 16, 82)
 4. (14, 20, 145)

Question ID : 65497835457
Status : Not Answered
Chosen Option : --

Q.22 दए गए वक प म से उस अ र-समूह का चयन क जए जो न न ृंखलाम नवाचक च (?) के थान पर आ सकता ह।

BEI, EHL, HKO, KNR, ?

- Ans 1. NPS
 2. NRU
 3. NQU
 4. NQT

Question ID : 65497835460
Status : Answered
Chosen Option : 3

Q.23 रोशन, कृ प का भाई ह, जो ांजल का पु ह। वै वी, आयुष क प ी ह। मला, द वका क पु ी ह। द वका, आयुष क दादी ह, जो रोशन का बेटा ह। रोशन का मला से ा संबंध ह?

- Ans 1. ससुर
 2. पता
 3. भाई
 4. भतीजा/भांजा

Question ID : 65497835471
Status : Answered
Chosen Option : 3

Q.24 Select the correct mirror image of the given combination when the mirror is placed at the right side.

d e t A 9 P

- Ans 1. q e t A t e b
 2. q e t A t e b
 3. d e t A t e b
 4. q e t A t e p

Question ID : 65497835454
Status : Answered
Chosen Option : 1

Q.25 'Ammeter' is related to 'Current' in the same way as 'Anemometer' is related to _____.

- Ans
- 1. Temperature
 - 2. Potential Difference
 - 3. Water
 - 4. Wind Speed and Direction

Question ID : 65497835461
Status : Answered
Chosen Option : 2

Section : Part B General Knowledge and General Awareness

Q.1 भारत म वन (संर ण) अध नयम वष _____ म पा रत कया गया था।

- Ans
- 1. 1976
 - 2. 1988
 - 3. 1980
 - 4. 1974

Question ID : 65497835496
Status : Answered
Chosen Option : 1

Q.2 धान मं ी जीवन ोत बीमा योजना कस वष शु क गई थी?

- Ans
- 1. 2018
 - 2. 2014
 - 3. 2015
 - 4. 2017

Question ID : 65497835483
Status : Answered
Chosen Option : 1

Q.3 न ल खत म से कस वेब ुंखला ने 48व अंतरा ीय ऐमी पुर ार 2020 म सव े ामा सीरीज़ का पुर ार जीता?

- Ans
- 1. आ म
 - 2. मेड इन हवन
 - 3. द ी ाइम
 - 4. मजा पुर

Question ID : 65497835479
Status : Answered
Chosen Option : 4

Q.4 न ल खत म से कौन सा काय मेडला ऑ ांगेटा (medulla oblongata) ारा नयं त नह होता

- है? Ans
- 1. छ कना
 - 2. उ ी करना
 - 3. ताली बजाना
 - 4. खाँसना

Question ID : 65497835498
Status : Answered
Chosen Option : 1

Q.5 न ल खत म से कस झील का नमाण अ तं नूतन युग के दौरान उ ा भाव ारा

- आ था? Ans
- 1. वे नाड झील, के रल
 - 2. च ा झील, ओ डशा
 - 3. लोकटक झील, म णपुर
 - 4. लोनार झील, महारा

Question ID : 65497835478

Status : Answered

Chosen Option : 1

Q.6 न ल खत म से कस दश ने जून 2021 म आयोजत G7 लीडस स मट क अ ता क ?

- Ans
- 1. को रया गणरा
 - 2. यूनाइट ड क गडम
 - 3. भारत
 - 4. ऑ लया

Question ID : 65497835497

Status : Answered

Chosen Option : 2

Q.7 सां दा यक सम ाओं पर गांधी-ज ा वाता के ट टने के बाद एक ा यक ढांचे म सां दा यक मामले क जांच करने के लए नवंबर 1944 म गैर-दलीय स ेलन क ापी स म त ारा कस स म त को नयु कया गया था?

- Ans
- 1. जा कर सैन स म त
 - 2. स ूस म त
 - 3. सरदार पट ल स म त
 - 4. बलवंत राय मेहता स म त

Question ID : 65497835482

Status : Answered

Chosen Option : 3

Q.8 17 सतंबर, 2020 को, अंतरा ीय ट नस महासंघ (ITF) ने यह घोषणा क , क महासंघ या फे ड कप को अब महान म हला ट नस खलाड़ी के स ान म _____ के प म जाना जाएगा।

- Ans
- 1. मा ट ना नवरा तलोवा कप
 - 2. बली जीन क ग कप
 - 3. स एवट कप
 - 4. ेफ ाफ कप

Question ID : 65497835480

Status : Not Attempted and Marked For Review

Chosen Option : --

Q.9 स ाट _____ ने मुह द सैन अल-का तब क ीरी को उनक सुंदर लखावट के लए ज़रीन कलम (Zarin Qalam) या ण कलम क उपा ध से स ा नत कया।

- Ans
- 1. शाहजहाँ
 - 2. जहाँगीर
 - 3. औरंगज़ेब
 - 4. अकबर

Question ID : 65497835499

Status : Answered

Chosen Option : 2

Q.10 न म से कौन नवंबर 2020 तक नेपाल क के ट टीम का क ान था?

- Ans
- 1. ान म ा
 - 2. रो हत पौड ल
 - 3. संदीप ला मछाने
 - 4. दीपे स ह ऐरी

Question ID : 65497835493
Status : Answered
Chosen Option : 3

Q.11 अ ूबर 2020 म, अपनी म हला या य क सुर ा के लए भारतीय रलवे ारा शु क गई पहल का नाम ा था?

- Ans
- 1. नारी सेवा
 - 2. मेरी सहली
 - 3. नारी सहायक
 - 4. नारी श

Question ID : 65497835487
Status : Answered
Chosen Option : 4

Q.12 जब भारत के सं वधान का मसौदा तैयार कया जा रहा था, सं वधान सभा को उस अशां त को ान म रखना था जससे भारत गुजर रहा था। उस पर म न ल खत म से कौन सा मु ा ासं गक नह था?

- Ans
- 1. लोग क सामा जक-आ थ क त ब त अनुकूल थी।
 - 2. रयासत अपने भव के बार म अन त थ।
 - 3. द श कई अलग-अलग समुदाय से बना था।
 - 4. भारत और पा क ान के वभाजन क पु ई थी।

Question ID : 65497835486
Status : Answered
Chosen Option : 1

Q.13 कदमाई _____ राजवंश के तहत भूराज का एक प था।

- Ans
- 1. चोल
 - 2. कु षाण
 - 3. चालु
 - 4. गु

Question ID : 65497835494
Status : Answered
Chosen Option : 1

Q.14 अ णाचल के फ नमाता को 2020 म _____ पर एक वृ च (डा हू मी) के लए त त दादा साह बफा े पुर ार ा आ था।

- Ans
- 1. नाव क सवारी
 - 2. शहद नकालने
 - 3. जानवर के शकार
 - 4. प ी द खना

Question ID : 65497835491
Status : Answered
Chosen Option : 3

Q.15 न ल खत म से कौन सी, 'ठोस' क विशेषता नह ह?

- Ans
- 1. ठोस का एक न त आयतन होता ह।
 - 2. ठोस को आसानी से संपी डत कया जा सकता ह।
 - 3. बल के अधीन होने पर ठोस ट ट सकता ह।
 - 4. ठोस के आकार को बदलना मु ल ह, इस लए वे कठोर होते ह

Question ID : 65497835489

Status : Answered

Chosen Option : 2

Q.16 7 सतंबर 2021 को, नासा (NASA) ने घोषणा क क पस वरस रोवर ने मंगल ह क _____ के पहले नमूने के सं ह का काय पूण कर लया ह।

- Ans
- 1. मृदा
 - 2. धूल
 - 3. च ान
 - 4. बफ़

Question ID : 65497835500

Status : Answered

Chosen Option : 3

Q.17 हम ह ू कै लडर के अनुसार 'होली' का ोहार कस दन मनाते ह? Ans

- 1. पू ण मा के एक दन बाद
- 2. अमाव ा के दन
- 3. पू ण मा से एक दन पहले
- 4. पू ण मा के दन

Question ID : 65497835488

Status : Answered

Chosen Option : 2

Q.18 27 नवंबर 2020 तक, भारत का वदशी मु ा भंडार लगभग _____ ब लयन था।

- Ans
- 1. \$774
 - 2. \$574
 - 3. \$474
 - 4. \$374

Question ID : 65497835481

Status : Answered

Chosen Option : 2

Q.19 न ल खत म से कौन सी घटना वष 1856 म ई थी?

- Ans
- 1. ता ा टोपे को पकड़ लया गया, भागने क को शश क और मार डाला गया।
 - 2. अवध पर टश ई इंडया कं पनी ने क ा कर लया था।
 - 3. मंगल पांड को फांसी दी गई।
 - 4. बहा ुर शाह जफर को रगून क जेल भेज दया गया।

Question ID : 65497835495

Status : Answered

Chosen Option : 4

Q.20 न म से कौन-सा 1865 म ा पत भारत का सबसे पुराना संयु ळक ब क ह

- ?Ans
- 1. ेट ब क ऑफ ावणकोर
 - 2. द ना बक
 - 3. केनरा ब क
 - 4. इलाहाबाद ब क (अब इंडयन ब क)

Question ID : 65497835485
Status : Answered
Chosen Option : 4

Q.21 न ल खत म से कौन सा एक एकको शक य जीव ह?

- Ans
- 1. लाल शैवाल
 - 2. मांसपे शय क को शकाएं
 - 3. कवक
 - 4. जीवाणु

Question ID : 65497835490
Status : Answered
Chosen Option : 1

Q.22 शा ीय गा यका, ग रजा दवी ह ु ानी शा ीय संगीत के कस प म

- पारगत थ ? Ans
- 1. तराना
 - 2. ुपद
 - 3. ठ मरी
 - 4. खयाल

Question ID : 65497835477
Status : Not Answered
Chosen Option : --

Q.23 2011 क जनगणना के अनुसार भारत के न ल खत म से कस रा म जनसं ा का सबसे अ धक घन था?

- Ans
- 1. स म
 - 2. बहार
 - 3. म द श
 - 4. उ र द श

Question ID : 65497835492
Status : Answered
Chosen Option : 2

Q.24 200 एक दवसीय अंतररा ीय (ODI) मैच खेलने वाली पहली भारतीय म हला के टर न ल खत म से कौनह?

- Ans
- 1. अनुजा पा टल
 - 2. मताली राज
 - 3. पूनम यादव
 - 4. दी शमा

Question ID : 65497835484
Status : Answered
Chosen Option : 2

Q.25 नालखतमसेकौन-सीनदीतत,भारतऔरबांादशसेहोकरबहतीह?

- Ans 1. पु
 2. यमुना
 3. नमदा
 4. गंगा

Question ID : 65497835476
Status : Answered
Chosen Option : 1

Section : Part C Elementary Mathematics

Q.1 Varun bought a curtain cloth from a wholesaler at 20% discount on the marked price. He then marked the cloth at 20% higher than the original marked price and allowed 10% discount. What is his percentage profit?

- Ans 1. 25
 2. 20
 3. 30
 4. 35

Question ID : 65497835501
Status : Answered
Chosen Option : 4

Q.2 $85 \div 17$ of $4 - [65 \div 13$ of $2 - 14 \times (19 - 25) \div 12 - 10]$ of $\frac{2}{3}$ का मान ज्ञात कीजिए।

- Ans 1. $\frac{11}{12}$
 2. $\frac{3}{2}$
 3. $\frac{7}{6}$
 4. $\frac{19}{12}$

Question ID : 65497835521
Status : Answered
Chosen Option : 4

Q.3 One-fifth of three-eighths of two-thirds of a number is 20. What is 60% of that number?

- Ans 1. 120
 2. 156
 3. 365
 4. 240

Question ID : 65497835514
Status : Answered
Chosen Option : 4

Q.4 किसी स्कूल में लड़कियों और लड़कों की संख्या का अनुपात 2 : 7 है। यदि लड़कियों और लड़कों की संख्या में क्रमशः 15% और 20% की वृद्धि हो जाती है, तो नया अनुपात कितना होगा?

- Ans**
1. 23 : 84
 2. 19 : 14
 3. 24 : 71
 4. 21 : 22

Question ID : 65497835519
Status : Answered
Chosen Option : 1

Q.5 A trader allows a discount of 10% on the marked price and still gains 8% on the whole. At what percentage above the cost price does he mark his goods?

- Ans**
1. 35%
 2. 25%
 3. 18%
 4. 20%

Question ID : 65497835504
Status : Answered
Chosen Option : 4

Q.6 Rohit can complete a piece of work in 32 days, while Raj can complete it by himself in 48 days. They started the work together, but Rohit left 8 days before the work got over. For how many days did they work together?

- Ans**
1. 18
 2. 12
 3. 15
 4. 16

Question ID : 65497835515
Status : Answered
Chosen Option : 2

Q.7 The average monthly income of A and B is ₹4,500, the average monthly income of B and C is ₹5,600, and the average monthly income of A and C is ₹4,800. Find the monthly income of B.

- Ans**
1. ₹6,900
 2. ₹4,750
 3. ₹3,700
 4. ₹5,300

Question ID : 65497835512
Status : Answered
Chosen Option : 4

Q.8 A person saves 12% of his income. One year later, his income shoots up by 25% but he still saves the same amount of money. What is the percentage hike in his expenditure?

- Ans
- 1. 27.4%
 - 2. 28.4%
 - 3. 25.4%
 - 4. 33%

Question ID : 65497835503
Status : Answered
Chosen Option : 2

Q.9 Two friends, A and B, invested in a business in the ratio of 3 : 4. A withdrew his share two months early. At the end of one year, the total profit was ₹2,600. A's share of profit will be:

- Ans
- 1. ₹750
 - 2. ₹1,000
 - 3. ₹800
 - 4. ₹1,110

Question ID : 65497835508
Status : Not Answered
Chosen Option : --

Q.10 Find the single discount equivalent to two successive discounts of 25% and 10%.

- Ans
- 1. 28%
 - 2. 40.25%
 - 3. 32.5%
 - 4. 45.5%

Question ID : 65497835513
Status : Answered
Chosen Option : 3

Q.11 The ratio of the radii of two right circular cones, C and D, is 2 : 3 and their heights are in the ratio 3 : 2. The ratio of the volume of cone D to that of cone C is:

- Ans
- 1. 4 : 3
 - 2. 2 : 3
 - 3. 3 : 4
 - 4. 3 : 2

Question ID : 65497835510
Status : Answered
Chosen Option : 4

Q.12 $\frac{2}{5}$ of $7\frac{1}{2} \div \frac{3}{4} - \frac{3}{4} \times 1\frac{1}{2} \div 2\frac{1}{4}$ का मान ज्ञात कीजिए।
 $5\frac{1}{2} \div 3\frac{2}{3}$ of $\frac{3}{8}$

- Ans
- 1. $\frac{3}{4}$
 - 2. $\frac{1}{2}$
 - 3. $\frac{7}{8}$
 - 4. $\frac{5}{3}$

Question ID : 65497835524
Status : Answered
Chosen Option : 3

Q.13 एक परिवार में 5 व्यक्ति चीनी की खरीद पर 10% खर्च करते हैं। चीनी के मूल्य में 10% की वृद्धि हुई। व्यय में वृद्धि न होने देने के लिए चीनी की खपत में प्रतिशत कमी क्या होनी चाहिए?

- Ans
- 1. 11%
 - 2. $9\frac{1}{11}\%$
 - 3. 10%
 - 4. 9%

Question ID : 65497835511
Status : Not Answered
Chosen Option : --

Q.14 A sum of money at compound interest amounts to seven times of itself in 3 years. In how many years will it be 2401 times of itself?

- Ans
- 1. 9
 - 2. 12
 - 3. 18
 - 4. 15

Question ID : 65497835506
Status : Answered
Chosen Option : 2

Q.15 How many maximum litres of milk can a hemispherical bowl of diameter 9 cm hold approximately?

- Ans
- 1. 0.191 litres
 - 2. 0.90 litres
 - 3. 0.0191 litres
 - 4. 1.90 litres

Question ID : 65497835507
Status : Answered
Chosen Option : 3

Q.16 कार्तिकेय ने 2% वार्षिक व्याज की दर से चक्रवृद्धि व्याज पर 3 वर्ष के लिए सावधि जमा योजना में ₹9,000 की राशि का निवेश किया। सावधि जमा राशि की परिपक्वता पर उसे कितनी राशि (दशमलव के दो स्थानों तक सही) मिलेगी?

- Ans
1. ₹9,650
 2. ₹10,255.25
 3. ₹9,525.50
 4. ₹9,550.87

Question ID : 65497835520
Status : Answered
Chosen Option : 4

Q.17 By selling 90 pens for ₹1,575, a shopkeeper loses 30%. How many pens should he sell for ₹708 so as to earn a profit of 18%?

- Ans
1. 30
 2. 20
 3. 24
 4. 25

Question ID : 65497835522
Status : Not Answered
Chosen Option : --

Q.18 Find the least number which is a perfect square and is divisible by each of the following numbers.

15, 24 and 36

- Ans
1. 3600
 2. 1600
 3. 900
 4. 6400

Question ID : 65497835517
Status : Answered
Chosen Option : 1

Q.19 Pipes A and B can fill a tank in 18 hours and 27 hours, respectively. If both the pipes are opened on alternate hours, one at a time, and pipe A is opened for the first hour, then in how many hours will the tank be filled completely?

- Ans
1. 21
 2. $20\frac{1}{2}$
 3. 20
 4. $21\frac{1}{2}$

Question ID : 65497835523
Status : Answered
Chosen Option : 4

Q.20 For a certain sum, in 2 years, the simple interest is ₹80 and the compound interest for the same period and at the same rate of interest is ₹85. The rate of interest per annum is:

- Ans
- 1. 7.5%
 - 2. 8.5%
 - 3. 12.5%
 - 4. 5.5%

Question ID : 65497835509
Status : Answered
Chosen Option : 3

Q.21 6 व्यक्तियों का औसत वजन 1.5 kg बढ़ जाता है जब उनमें से 45 kg वजन वाले व्यक्ति के स्थान पर एक नया व्यक्ति आता है। नए व्यक्ति का वजन कितना होना चाहिए?

- Ans
- 1. 54 kg
 - 2. 55 kg
 - 3. 50 kg
 - 4. 48 kg

Question ID : 65497835518
Status : Answered
Chosen Option : 1

Q.22 यदि $0.35 : x :: 5 : 6$ है, तो x का मान कितना है?

- Ans
- 1. 0.48
 - 2. 0.42
 - 3. 0.34
 - 4. 0.44

Question ID : 65497835505
Status : Answered
Chosen Option : 2

Q.23 एक मोटरकार ने 60 km/h की चाल से चलना प्रारंभ किया, और इसकी चाल प्रत्येक 3 घंटे पर 20 km/h बढ़ाई जाती है। 470 km की दूरी तय करने में इसे कितने घंटे लगेंगे?

- Ans
- 1. $6\frac{1}{4}$
 - 2. $5\frac{2}{3}$
 - 3. 7
 - 4. $6\frac{1}{2}$

Question ID : 65497835516
Status : Answered
Chosen Option : 4

Q.24 यदि $9987693 \times 6432 \times 7695$ को 10 से भाग दिया जाता है, तो शेषफल कितना बचेगा?

- Ans
1. 6
 2. 0
 3. 1
 4. 9

Question ID : 65497835502
Status : Answered
Chosen Option : 2

Q.25 एक आदमी एक निश्चित दूरी के दो-तिहाई भाग को 70 km/h की चाल से और शेष दूरी को 50 km/h की चाल से तय करता है। पूरी यात्रा में उसे $6\frac{4}{5}$ घंटे का समय लगता है। 56 km/h की चाल से, वह पूरी दूरी कितने समय में तय कर पाएगा?

- Ans
1. 7 घंटे
 2. $8\frac{1}{3}$ घंटे
 3. $7\frac{1}{2}$ घंटे
 4. 8 घंटे

Question ID : 65497835525
Status : Not Answered
Chosen Option : --

Section : Part D English

Q.1 Select the most appropriate meaning of the given idiom.

To get out of hand

- Ans
1. To get out of control
 2. To get an award
 3. To get angry
 4. To get in a trouble

Question ID : 65497835530
Status : Answered
Chosen Option : 1

Q.2 The following sentence has been split into four segments. Identify the segment that contains a grammatical error.

The visitors / were being showed / a collection of / old manuscripts.

- Ans
1. a collection of
 2. old manuscripts
 3. The visitors
 4. were being showed

Question ID : 65497835539
Status : Answered
Chosen Option : 4

Q.3 The following sentence has been split into four segments. Identify the segment that contains a grammatical error.

Mohit is expecting / a huge profit / at his / recent investment.

- Ans 1. at his
 2. a huge profit
 3. Mohit is expecting
 4. recent investment

Question ID : 65497835543
Status : Answered
Chosen Option : 1

Q.4 Select the most appropriate option to fill in the blank.

When his mother was away, he took the _____ of his little brother.

- Ans 1. management
 2. power
 3. charge
 4. duty

Question ID : 65497835526
Status : Answered
Chosen Option : 1

Q.5 Select the most appropriate option to fill in the blank.

Mere classroom teaching-learning is boring and _____ for students.

- Ans 1. varied
 2. monotonous
 3. exciting
 4. interesting

Question ID : 65497835533
Status : Answered
Chosen Option : 2

Q.6 Select the most appropriate synonym of the given word.

Maintain

- Ans 1. Care
 2. Ignore
 3. Release
 4. Neglect

Question ID : 65497835528
Status : Answered
Chosen Option : 1

Q.7 Select the most appropriate ANTONYM of the given word.

Beneficial

- Ans 1. Careful
 2. Fearful
 3. Hopeful
 4. Harmful

Question ID : 65497835534
Status : Answered
Chosen Option : 4

Q.8 Select the option that can be used as a one-word substitute for the given group of words.

The sound of owls

- Ans 1. Hoot
 2. Caw
 3. Cluck
 4. Moo

Question ID : 65497835545
Status : Answered
Chosen Option : 1

Q.9 Select the most appropriate option to fill in the blank.

He _____ an important question in the meeting.

- Ans 1. rose
 2. risen
 3. rise
 4. raised

Question ID : 65497835536
Status : Answered
Chosen Option : 1

Q.10 Select the INCORRECTLY spelt word.

- Ans 1. Brilliant
 2. Illusion
 3. Scrutiny
 4. Abandan

Question ID : 65497835542
Status : Answered
Chosen Option : 4

Q.11 Select the option that can be used as a one-word substitute for the given group of words.

Able to be harmed easily

- Ans 1. Vulnerable
 2. Available
 3. Accessible
 4. Flexible

Question ID : 65497835541
Status : Answered
Chosen Option : 1

Q.12 The following sentence has been divided into parts. One of them may contain an error. Select the part that contains the error from the given options. If you don't find any error, mark 'No error' as your answer.

May I / please borrow / yours book?

- Ans 1. No error
 2. yours book
 3. May I
 4. please borrow

Question ID : 65497835527
Status : Answered
Chosen Option : 2

Q.13 Select the most appropriate option that can substitute the underlined segment in the given sentence. If there is no need to substitute it, select 'No substitution required'.

The task our English teacher gave us was both challenging and entertaining.

- Ans 1. No substitution required
 2. was together challenged
 3. was both challenge
 4. is additionally challenging

Question ID : 65497835537
Status : Answered
Chosen Option : 1

Q.14 Select the INCORRECTLY spelt word.

- Ans 1. Pretanse
 2. Reliance
 3. Alliance
 4. Defiance

Question ID : 65497835535
Status : Answered
Chosen Option : 1

Q.15 Select the most appropriate SYNONYM of the given word.

Compose

- Ans 1. Clutch
 2. Confuse
 3. Collect
 4. Cuddle

Question ID : 65497835544
Status : Answered
Chosen Option : 2

Q.16 Select the most appropriate meaning of the given idiom.

To take stock of

- Ans 1. To measure
 2. To think carefully
 3. To count
 4. To discuss

Question ID : 65497835529
Status : Answered
Chosen Option : 2

Q.17 Select the option that can be used as a one-word substitute for the given group of words.

A large number of things placed one on top of another

- Ans 1. Batch
 2. Group
 3. Pile
 4. Load

Question ID : 65497835531
Status : Answered
Chosen Option : 4

Q.18 Select the option that will improve the underlined part of the given sentence. In case no improvement is needed, select 'No improvement required'.

The children were been drove to the picnic spot in the school bus.

- Ans 1. were been driving
 2. were being driven
 3. were been driven
 4. No improvement required

Question ID : 65497835538
Status : Answered
Chosen Option : 2

Q.19 Select the option that will improve the underlined part of the given sentence. In case no improvement is needed, select 'No improvement required'.

Aphrodite vowed that Paris would had the most beautiful woman as his wife.

- Ans
- 1. will be having
 - 2. would have
 - 3. No improvement required
 - 4. would be having

Question ID : 65497835532
Status : Answered
Chosen Option : 2

Q.20 Select the most appropriate ANTONYM of the given word.

Stout

- Ans
- 1. Obese
 - 2. Heavy
 - 3. Thin
 - 4. Bulky

Question ID : 65497835540
Status : Marked For Review
Chosen Option : 2

Comprehension:

In the following passage, some words have been deleted. Read the passage carefully and select the most appropriate option to fill in each blank.

Football legend Diego Maradona was buried in a private ceremony after a day of (1) _____ scenes in the Argentine capital Buenos Aires. Only (2) _____ two dozen relatives and close friends (3) _____ the final ceremony on Thursday. But (4) _____ huge crowds turned out to pay (5) _____ respects, with many weeping, blowing kisses and praying as they filed past his coffin.

SubQuestion No : 21

Q.21 Select the most appropriate option to fill in blank no. 1.

- Ans
- 1. impressive
 - 2. exciting
 - 3. emotional
 - 4. expressive

Question ID : 65497835547
Status : Answered
Chosen Option : 3

Comprehension:

In the following passage, some words have been deleted. Read the passage carefully and select the most appropriate option to fill in each blank.

Football legend Diego Maradona was buried in a private ceremony after a day of (1) _____ scenes in the Argentine capital Buenos Aires. Only (2) _____ two dozen relatives and close friends (3) _____ the final ceremony on Thursday. But (4) _____ huge crowds turned out to pay (5) _____ respects, with many weeping, blowing kisses and praying as they filed past his coffin.

SubQuestion No : 22

Q.22 Select the most appropriate option to fill in blank no. 2.

- Ans 1. around
 2. more or less
 3. roughly
 4. just

Question ID : 65497835548
Status : Answered
Chosen Option : 4

Comprehension:

In the following passage, some words have been deleted. Read the passage carefully and select the most appropriate option to fill in each blank.

Football legend Diego Maradona was buried in a private ceremony after a day of (1) _____ scenes in the Argentine capital Buenos Aires. Only (2) _____ two dozen relatives and close friends (3) _____ the final ceremony on Thursday. But (4) _____ huge crowds turned out to pay (5) _____ respects, with many weeping, blowing kisses and praying as they filed past his coffin.

SubQuestion No : 23

Q.23 Select the most appropriate option to fill in blank no. 3.

- Ans 1. attending
 2. attended
 3. have attended
 4. attend

Question ID : 65497835549
Status : Answered
Chosen Option : 2

Comprehension:

In the following passage, some words have been deleted. Read the passage carefully and select the most appropriate option to fill in each blank.

Football legend Diego Maradona was buried in a private ceremony after a day of (1) _____ scenes in the Argentine capital Buenos Aires. Only (2) _____ two dozen relatives and close friends (3) _____ the final ceremony on Thursday. But (4) _____ huge crowds turned out to pay (5) _____ respects, with many weeping, blowing kisses and praying as they filed past his coffin.

SubQuestion No : 24

Q.24 Select the most appropriate option to fill in blank no. 4.

- Ans 1. early
 2. earliest
 3. earlier
 4. as early

Question ID : 65497835550
Status : Answered
Chosen Option : 3

Comprehension:

In the following passage, some words have been deleted. Read the passage carefully and select the most appropriate option to fill in each blank.

Football legend Diego Maradona was buried in a private ceremony after a day of (1) _____ scenes in the Argentine capital Buenos Aires. Only (2) _____ two dozen relatives and close friends (3) _____ the final ceremony on Thursday. But (4) _____ huge crowds turned out to pay (5) _____ respects, with many weeping, blowing kisses and praying as they filed past his coffin.

SubQuestion No : 25

Q.25 Select the most appropriate option to fill in blank no. 5.

- Ans 1. their
 2. his
 3. them
 4. its

Question ID : 65497835551
Status : Answered
Chosen Option : 1

Section : Part D Hindi

Q.1 दए गए श के समानाथ श का चयन कर।

नौका

- Ans 1. तरणी
 2. कलापी
 3. चपला
 4. धरनी

Question ID : 65497835558
Status : Not Answered
Chosen Option : --

Q.2 नराधार - रखां कत श का श समूह बताइए।

- Ans 1. जो दद से भरा हो
 2. जसका कोई आधार नह ।
 3. जसका आधार हो
 4. जो पढ़ा- लखा न हो

Question ID : 65497835565
Status : Not Answered
Chosen Option : --

Q.3 दए गए वा म रखां कत खंड को त ा पत करने के लए सबसे उपयु वक का चयन कर। य द इसे त ा पत करने क आव कता नह ह, तो वक कसी बदलाव क आव कता नह ह का चयन कर।

म गाने क कसरत कर रहा ाँ।

- Ans 1. गाने क रयाज़
 2. कसी बदलाव क आव कता नह ह।
 3. गाने क य
 4. गाने क पहल

Question ID : 65497835552
Status : Not Answered
Chosen Option : --

Q.4 'अतिथि की सेवा करने वाला' वाक्यांश के लिए एक शब्द होगा-

- Ans
- 1. आतिथ्य
 - 2. आतिथेयी
 - 3. अनुचर
 - 4. अतिथि

Question ID : 65497835569
Status : Not Answered
Chosen Option : --

Q.5 दिये गये वाक्य में रेखांकित अंश को प्रतिस्थापित करने के लिए सबसे उपयुक्त विकल्प का चयन करें।

तुम्हें ऐसा नहीं बोलना चाहिए।

- Ans
- 1. भूकना
 - 2. कहना
 - 3. उगलना
 - 4. चिल्लाना

Question ID : 65497835567
Status : Not Answered
Chosen Option : --

Q.6 'मन मैला करना' मुहावरे का सही अर्थ क्या है?

- Ans
- 1. ईर्ष्या करना
 - 2. दोषारोपण करना
 - 3. घृणा करना
 - 4. खिन्न होना

Question ID : 65497835571
Status : Not Answered
Chosen Option : --

Q.7 दिये गये वाक्य के किस भाग में त्रुटि है?

अब आज से इस प्रकार की गलती मत करना।

- Ans
- 1. की गलती
 - 2. मत करना।
 - 3. इस प्रकार
 - 4. अब आज से

Question ID : 65497835566
Status : Not Answered
Chosen Option : --

Q.8 निम्नलिखित में से शुद्ध वर्तनी वाला शब्द कौन सा है?

- Ans
- 1. संसारीक
 - 2. सांसारीक
 - 3. सांसारिक
 - 4. संसारिक

Question ID : 65497835564
Status : Not Answered
Chosen Option : --

Q.9 निम्नलिखित में से शुद्ध वर्तनी वाला शब्द कौन सा है?

- Ans 1. नमष्कार
 2. नमस्कार
 3. नमश्कार
 4. नमोष्कार

Question ID : 65497835563
Status : Not Answered
Chosen Option : --

Q.10 रिक्त स्थान को भरने के लिए सबसे उपयुक्त शब्द का चयन करें।

बन्दूक एक बहुत ही उपयोगी _____ है।

- Ans 1. वस्त्र
 2. शास्त्र
 3. शस्त्र
 4. सर्वत्र

Question ID : 65497835559
Status : Not Answered
Chosen Option : --

Q.11 'किसी बड़े और महत्वपूर्ण कार्य का स्मरण चिह्न या रचना' इस वाक्यांश के लिए एक सार्थक शब्द दीजिए।

- Ans 1. सम्मान
 2. यश
 3. कीर्ति
 4. श्रेय

Question ID : 65497835553
Status : Not Answered
Chosen Option : --

Q.12 'निर्जीव' का विलोम शब्द होगा-

- Ans 1. सजीव
 2. अजीव
 3. सहजीव
 4. सगुण

Question ID : 65497835568
Status : Not Answered
Chosen Option : --

Q.13 'ठेढ़ चावल की खिचड़ी पकाना' इस मुहावरे के उचित अर्थ का चयन कीजिए।

- Ans 1. छोटी उम्र में अधिक ज्ञानी होना
 2. अत्यधिक आभाव होना
 3. बहुमत से अलग रहना
 4. बहुमत का सम्मन करना

Question ID : 65497835554
Status : Not Answered
Chosen Option : --

Q.14 रिक्त स्थान भरने के लिए सबसे उपयुक्त शब्द का चयन करें।

_____ खाना तैयार करती हैं।

- Ans
- 1. भैया
 - 2. लड़की
 - 3. बहू
 - 4. बहुरैं

Question ID : 65497835555
Status : Not Answered
Chosen Option : --

Q.15 दिए गए वाक्य का वह भाग ज्ञात करें जिसमें कोई त्रुटि है। यदि कोई त्रुटि नहीं है, तो 'कोई त्रुटि नहीं है' चुनें।

में (1)/ सप्रमाण सहित/ (2) बता रहा हूँ। (3)/ कोई त्रुटि नहीं है/ (4)

- Ans
- 1. 4
 - 2. 2
 - 3. 3
 - 4. 1

Question ID : 65497835560
Status : Not Answered
Chosen Option : --

Q.16 'श्रव्य' का विलोम शब्द होगा-

- Ans
- 1. अलौकिक
 - 2. दृश्य
 - 3. अदृश्य
 - 4. कटु

Question ID : 65497835570
Status : Not Answered
Chosen Option : --

Q.17 दिए गए वाक्य में रेखांकित खंड को प्रतिस्थापित करने के लिए सबसे उपयुक्त विकल्प का चयन करें। यदि इसे प्रतिस्थापित करने की आवश्यकता नहीं है, तो विकल्प 'किसी बदलाव की आवश्यकता नहीं है' का चयन करें।

घनी झाड़ियों के पीछे छिपकर बैठी बिल्ली कुत्ते की जाने की प्रतीक्षा करने लगी।

- Ans
- 1. कुत्ते के जाने की प्रतीक्षा करने लगी।
 - 2. किसी बदलाव की आवश्यकता नहीं है।
 - 3. कुत्ते के जाने में प्रतीक्षा करने लगे।
 - 4. कुत्ते के जाने की प्रतीक्षा करने लगा।

Question ID : 65497835562
Status : Not Answered
Chosen Option : --

Q.18 दिए गए शब्द के समानार्थी शब्द का चयन करें।

आनंद

- Ans 1. आह्लाद
 2. संस्कार
 3. संवाद
 4. पुरस्कार

Question ID : 65497835561
Status : Not Answered
Chosen Option : --

Q.19 रिक्त स्थान को भरने के लिए सबसे उपयुक्त शब्द का चयन करें।

क्रोध और लोभ, व्यक्ति के _____ हैं।

- Ans 1. अजातशत्रु
 2. चिर शत्रु
 3. चिरमित्र
 4. महान गुरु

Question ID : 65497835556
Status : Not Answered
Chosen Option : --

Q.20 दिए गए वाक्य का वह भाग ज्ञात करें जिसमें कोई त्रुटि है। यदि कोई त्रुटि नहीं है, तो 'कोई त्रुटि नहीं है' चुनें।

किसी भी भाषा की (1)/ वर्तनी सबसे अधिक (2)/ महत्व की चीज है (3)/ कोई त्रुटि नहीं है (4)

- Ans 1. 4
 2. 3
 3. 2
 4. 1

Question ID : 65497835557
Status : Not Answered
Chosen Option : --

Comprehension:

शंका नैराश्य का लक्षण नहीं, आशा का ही स्रोत है। असल में जिन चीजों के बारे में हमें (1)_____ नहीं होती, उनकी असलियत तक पहुंचना भी हमारे लिए दुश्वार होता है। शंका मनुष्य को (2)_____ रहती है, शंका कठिनाई के भीतर से चलकर (3)_____ तक पहुंचने की राह है। शंका को सही बिंदु से देखकर उसका (4)_____ खोजने की कोशिश करना विद्वता की सबसे बड़ी पहचान है। विश्वास की अंधता में सो जाने की अपेक्षा शंका के (5)_____ पर चलते रहना धर्म की कहीं बड़ी पहचान है।

निम्न प्रश्नों के उत्तर उपरोक्त गद्यांश के आधार पर दीजिए।

SubQuestion No : 21

Q.21 गद्यांश के रिक्त स्थान (1) के लिए सर्वाधिक उपयुक्त शब्द होगा-

- Ans 1. चिंता
 2. ईर्ष्या
 3. शंका
 4. लज्जा

Question ID : 65497835573
Status : Not Answered
Chosen Option : --

Comprehension:

शंका नैराश्य का लक्षण नहीं, आशा का ही स्रोत है। असल में जिन चीजों के बारे में हमें (1)_____ नहीं होती, उनकी असलियत तक पहुंचना भी हमारे लिए दुश्वार होता है। शंका मनुष्य को (2)_____ रहती है, शंका कठिनाई के भीतर से चलकर (3)_____ तक पहुंचने की राह है। शंका को सही बिंदु से देखकर उसका (4)_____ खोजने की कोशिश करना विद्वता की सबसे बड़ी पहचान है। विश्वास की अंधता में सो जाने की अपेक्षा शंका के (5)_____ पर चलते रहना धर्म की कहीं बड़ी पहचान है।

निम्न प्रश्नों के उत्तर उपरोक्त गद्यांश के आधार पर दीजिए।

SubQuestion No : 22

Q.22 गद्यांश के रिक्त स्थान (2) के लिए सर्वाधिक उपयुक्त शब्द होगा-

- Ans
- 1. जलाये
 - 2. भगाये
 - 3. जगाये
 - 4. सुलाये

Question ID : 65497835574
Status : Not Answered
Chosen Option : --

Comprehension:

शंका नैराश्य का लक्षण नहीं, आशा का ही स्रोत है। असल में जिन चीजों के बारे में हमें (1)_____ नहीं होती, उनकी असलियत तक पहुंचना भी हमारे लिए दुश्वार होता है। शंका मनुष्य को (2)_____ रहती है, शंका कठिनाई के भीतर से चलकर (3)_____ तक पहुंचने की राह है। शंका को सही बिंदु से देखकर उसका (4)_____ खोजने की कोशिश करना विद्वता की सबसे बड़ी पहचान है। विश्वास की अंधता में सो जाने की अपेक्षा शंका के (5)_____ पर चलते रहना धर्म की कहीं बड़ी पहचान है।

निम्न प्रश्नों के उत्तर उपरोक्त गद्यांश के आधार पर दीजिए।

SubQuestion No : 23

Q.23 गद्यांश के रिक्त स्थान (3) के लिए सर्वाधिक उपयुक्त शब्द होगा-

- Ans
- 1. निर्णय
 - 2. साधन
 - 3. सत्य
 - 4. लक्ष्य

Question ID : 65497835575
Status : Not Answered
Chosen Option : --

Comprehension:

शंका नैराश्य का लक्षण नहीं, आशा का ही स्रोत है। असल में जिन चीजों के बारे में हमें (1)_____ नहीं होती, उनकी असलियत तक पहुंचना भी हमारे लिए दुश्वार होता है। शंका मनुष्य को (2)_____ रहती है, शंका कठिनाई के भीतर से चलकर (3)_____ तक पहुंचने की राह है। शंका को सही बिंदु से देखकर उसका (4)_____ खोजने की कोशिश करना विद्वता की सबसे बड़ी पहचान है। विश्वास की अंधता में सो जाने की अपेक्षा शंका के (5)_____ पर चलते रहना धर्म की कहीं बड़ी पहचान है।

निम्न प्रश्नों के उत्तर उपरोक्त गद्यांश के आधार पर दीजिए।

SubQuestion No : 24

Q.24 गद्यांश के रिक्त स्थान (4) के लिए सर्वाधिक उपयुक्त शब्द होगा-

- Ans
- 1. अवदान
 - 2. समाधान
 - 3. प्रभाव
 - 4. परिणाम

Question ID : 65497835576
Status : Not Answered
Chosen Option : --

Comprehension:

शंका नैरा काल गण नह, आशा का ही ोत असल म जन चीज के बार म हम (1)___ नह होती, उनक ह।

अस लयत तक प चं ना भी हमार लए ु ार होता ह। शंका मनु को (2)___ रहती ह, शंका क ठनाई के भीतर से चलकर (3)___ तक प चं ने क राह ह। शंका को सही ब ु से द खकर उसका (4)___ खोजने क को शश करना व ता क सबसे बड़ी पहचान ह। व ास क अंधता म सौ जाने क अपे ा शंका के (5)___ पर चलते रहना धम क कह बड़ी पहचान ह।

न के उ र उपरो ग ांश के आधार पर दी जए।

SubQuestion No : 25

Q.25 ग ांश के र ान (5) के लए सवा धक उपयु श

होगा-**Ans** 1. फूल

2. धूल

3. शरीर

4. शूल

Question ID : 65497835577

Status : Not Answered

Chosen Option : --