

This Question Paper consists of **29** questions and **10** printed pages + **one** outline map of **India**.
इस प्रश्न-पत्र में **29** प्रश्न तथा **10** मुद्रित पृष्ठ + **भारत का एक रेखा-मानचित्र** है।

Roll No.

--	--	--	--	--	--	--	--	--	--	--	--

अनुक्रमांक

Code No. **62/OS/2**
कोड संख्या

Set No. -

A

सेट संख्या

SOCIAL SCIENCE
(सामाजिक विज्ञान)
(213)

Day and Date of Examination
(परीक्षा का दिन व दिनांक)

Signature of Invigilators
(निरीक्षकों के हस्ताक्षर)

1. _____

2. _____

General Instructions :

- 1 Candidate must write his/her Roll Number on the first page of the Question Paper.
- 2 Please check the Question Paper to verify that the total pages and the total number of questions contained in the Question Paper are the same as those printed on the top of the first page. Also check to see that the questions are in sequential order.
- 3 For the objective type of questions, you have to choose any **one** of the four alternatives given in the question i.e. (A), (B), (C) and (D) and indicate your correct answer in the Answer-Book given to you.
- 4 All the questions including objective type questions are to be answered within the allotted time and no separate time limit is fixed for answering objective type questions.
- 5 Making any identification mark in the Answer-Book or writing Roll Number anywhere other than the specified places will lead to disqualification of the candidate.
- 6 Write your Question Paper Code No. **62/OS/2**, Set –

A

 on the Answer-Book.
- 7 (a) The Question Paper is in English/Hindi medium only. However, if you wish, you can answer in any one of the languages listed below :
English, Hindi, Urdu, Punjabi, Bengali, Tamil, Malayalam, Kannada, Telugu, Marathi, Oriya, Gujarati, Konkani, Manipuri, Assamese, Nepali, Kashmiri, Sanskrit and Sindhi.
You are required to indicate the language you have chosen to answer in the box provided in the Answer-Book.
(b) If you choose to write the answer in the language other than Hindi and English, the responsibility for any errors/mistakes in understanding the question will be yours only.



सामान्य अनुदेश :

- 1 परीक्षार्थी प्रश्नपत्र के पहले पृष्ठ पर अपना अनुक्रमांक अवश्य लिखें ।
- 2 कृपया प्रश्नपत्र को जाँच लें कि प्रश्नपत्र के कुल पृष्ठों तथा प्रश्नों की उतनी ही संख्या है जितनी प्रथम पृष्ठ के सबसे ऊपर छपी है । इस बात की जाँच भी कर लें कि प्रश्न क्रमिक रूप में हैं ।
- 3 वस्तुनिष्ठ प्रश्नों में आपको चार विकल्पों (A), (B), (C) तथा (D) में से कोई एक उत्तर चुनना है तथा दी गई उत्तर-पुस्तिका में आप सही उत्तर लिखिए ।
- 4 वस्तुनिष्ठ प्रश्नों के साथ-साथ सभी प्रश्नों के उत्तर निर्धारित अवधि के भीतर ही देने हैं । वस्तुनिष्ठ प्रश्नों के लिए अलग से समय नहीं दिया जाएगा ।
- 5 उत्तर-पुस्तिका में पहचान-चिह्न बनाने अथवा निर्दिष्ट स्थानों के अतिरिक्त कहीं भी अनुक्रमांक लिखने पर परीक्षार्थी को अयोग्य ठहराया जायेगा ।
- 6 अपनी उत्तर-पुस्तिका पर प्रश्नपत्र की कोड संख्या **62/OS/2, सेट – A** लिखें ।
- 7 (क) प्रश्नपत्र केवल हिंदी/अंग्रेजी में है । फिर भी, यदि आप चाहें तो नीचे दी गई किसी एक भाषा में उत्तर दे सकते हैं :

अंग्रेजी, हिंदी, उर्दू, पंजाबी, बंगला, तमिल, मलयालम, कन्नड़, तेलुगु, मराठी, उड़िया, गुजराती, कोंकणी, मणिपुरी, असमिया, नेपाली, कश्मीरी, संस्कृत और सिंधी ।

कृपया उत्तर-पुस्तिका में दिए गए बॉक्स में लिखें कि आप किस भाषा में उत्तर लिख रहे हैं ।
- (ख) यदि आप हिंदी एवं अंग्रेजी के अतिरिक्त किसी अन्य भाषा में उत्तर लिखते हैं तो प्रश्न को समझने में होने वाली त्रुटियों / गलतियों की जिम्मेदारी केवल आपकी होगी ।



SOCIAL SCIENCE

(सामाजिक विज्ञान)

(213)

Time : 3 Hours]

[Maximum Marks : 100

समय : 3 घण्टे]

[पूर्णांक : 100

-
- Notes :**
- (1) **All** questions are **compulsory** and carry marks as indicated against each question.
 - (2) For Multiple Choice Questions **four** options are given. You have to choose right option and indicate it in your answer book.
 - (3) Attach the map with answer sheet.

- निर्देश :**
- (1) सभी प्रश्न अनिवार्य हैं और प्रत्येक प्रश्न के अंक उसके सामने दिये गये हैं।
 - (2) बहुविकल्पीय प्रश्नों के चार विकल्प दिये गये हैं। आप सही विकल्प चुनिये और अपनी उत्तर-पुस्तिका में लिखिये।
 - (3) दिये गये रेखा मानचित्र को अपनी उत्तर-पुस्तिका के साथ संलग्न कीजिए।
-



1 Mesopotamian civilization was situated between which of the following rivers ? 1

- (A) Ganga and Yamuna (B) Nile and Congo
(C) Tigris and Euphrates (D) Hwango and Chang Jiang

मैसोपोटामिया सभ्यता निम्नलिखित नदियों में से किन के मध्य स्थित थी ?

- (A) गंगा और यमुना (B) नील और कांगो
(C) टगरीस और फरात (D) हॉगहो और चेंग जियांग

2 Which one of the following was the most important and prominent rebellion of tribals after 1857 ? 1

- (A) Santhal Rebellion (B) Garo Rebellion
(C) Jaintia Rebellion (D) Munda Rebellion

1857 के बाद निम्नलिखित में से कौन सा जनजातिय विद्रोह सबसे महत्वपूर्ण और प्रमुख था ?

- (A) संथाल विद्रोह (B) गारो विद्रोह
(C) जयंतिया विद्रोह (D) मुंडा विद्रोह

3 Which one of the following freedoms is not provided in the Indian Constitution ? 1

- (A) Freedom of speech and expression
(B) Freedom to form associations and unions
(C) Freedom to move freely across the world
(D) Freedom to reside and settle in any part of India

भारतीय संविधान में निम्नलिखित स्वतंत्रताओं में से कौन सी स्वतंत्रता नहीं दी गई है ?

- (A) बोलने और अभिव्यक्त करने की स्वतंत्रता
(B) संस्थाओं और संघों के बनाने की स्वतंत्रता
(C) दुनियाभर में घूमने की स्वतंत्रता
(D) भारत के किसी भाग में रहने और बसने की स्वतंत्रता



4 Which one of the following is the greatest threat to peace and security of a country ? 1

- (A) Casteism (B) Terrorism
(C) Poverty (D) Nepotism

किसी देश की शांति और सुरक्षा के लिए सबसे बड़ा खतरा है ?

- (A) जातिवाद (B) आतंकवाद
(C) गरीबी (D) भाई-भतीजावाद

5 Mention any two features of Fascism. 2

फ़ासीवाद की किन्हीं दो विशेषताओं का उल्लेख कीजिए ।

6 Why was the Khilafat Movement started ? Explain. 2

खिलाफत आंदोलन क्यों शुरू किया गया था ? स्पष्ट कीजिए ।

7 Why is there a need to conserve Bio-diversity ? Explain with an example. 2

जैव-विविधता के संरक्षण की आवश्यकता क्यों है ? उदाहरण सहित स्पष्ट कीजिए ।

8 Mention any two Constitutional values given in the Preamble of the Indian Constitution. 2

भारतीय संविधान की प्रस्तावना में दिए गए किन्हीं दो संवैधानिक मूल्यों का उल्लेख कीजिए ।

9 Explain the contribution of the Gupta rulers in the field of administration. 4

प्रशासन के क्षेत्र में गुप्त शासकों के योगदान की व्याख्या कीजिए ।



- 10 Explain the main features of the Later Vedic Period society. 4
उत्तर वैदिक काल के समाज की मुख्य विशेषताओं की व्याख्या कीजिए ।
- 11 How was the Mauryan Empire established ? Explain. 4
मौर्य साम्राज्य किस प्रकार स्थापित किया गया था ? स्पष्ट कीजिए ।
- 12 Explain the political and economic life of the Greeks. 4
यूनानियों के राजनीतिक और आर्थिक जीवन की व्याख्या कीजिए ।
- 13 Describe any four features of Western Ghats. 4
पश्चिमी घाट की किन्हीं चार विशेषताओं का वर्णन कीजिए ।
- 14 Explain any four characteristics of Monsoon in India. 4
भारत में मानसून की किन्हीं चार विशेषताओं की व्याख्या कीजिए ।
- 15 "From olden days till now waterways have been import means of 4
transportation." Examine the statement.
“प्राचीनकाल से अबतक जल मार्ग परिवहन के महत्वपूर्ण साधन रहे हैं ।” इस कथन की परख कीजिए ।
- 16 Describe the role of Gram Sabha in a Gram Panchayat. 4
एक ग्राम पंचायत में ग्राम सभा की भूमिका का वर्णन कीजिए ।



- 17 Describe any four features of the Indian Constitution. 4
भारतीय संविधान की किन्हीं चार विशेषताओं का वर्णन कीजिए ।
- 18 Explain the powers of Governor of a state. 4
किसी राज्य के राज्यपाल की शक्तियों की व्याख्या कीजिए ।
- 19 Highlight the various stages of the Election Process in India. 4
भारत में चुनाव प्रक्रिया के विभिन्न चरणों को उजागर कीजिए ।
- 20 Differentiate between National and Regional Political parties with examples. 4
राष्ट्रीय और क्षेत्रीय राजनीतिक दलों में उदाहरणों सहित अंतर स्पष्ट कीजिए ।
- 21 Describe the four phases involved in Disaster Management. 4
आपदा प्रबंधन में शामिल चार चरणों का वर्णन कीजिए ।
- 22 How does literacy play an important role in the success of a democracy ? 4
Explain.
लोकतंत्र की सफलता में साक्षरता किस प्रकार महत्वपूर्ण भूमिका निभाती है ? व्याख्या कीजिए ।
- 23 Analyze the provisions that have been made in the Indian Constitution 4
for National Integration.
भारतीय संविधान में राष्ट्रीय एकता के लिए किए गए प्रावधानों का विश्लेषण कीजिए ।



24 Who announced the Partition of Bengal ? Describe its impacts on Indian Society. 5

बंगाल विभाजन की घोषणा किसने की ? इसका इंडियन सोसाइटी पर पड़े प्रभावों का वर्णन कीजिए ।

25 Explain the process of Unification of Germany. 5

जर्मनी के एकीकरण की प्रक्रिया को स्पष्ट कीजिए ।

26 Explain the main features of 'Advancing South-West Monsoon Season' in India. 5

भारत में आगे बढ़ते दक्षिण पश्चिम मानसून ऋतु की मुख्य विशेषताओं की व्याख्या कीजिए ।

27 Describe the functions of the Indian Parliament. 5

भारतीय संसद के कार्यों का वर्णन कीजिए ।

28 In the given political map of India, mark and label the following with appropriate symbols : 4

(i) Mizo Hills

(ii) Kaveri River

(iii) Simlipal National Park

(iv) Leading Coffee producing state

दिये गये भारत के रेखा मानचित्र में निम्नलिखित को उपयुक्त चिन्हों से दर्शाएँ और उनके नाम लिखिए :

(i) मिज़ो पहाड़ियाँ

(ii) कावेरी नदी

(iii) सिम्पलीपाल राष्ट्रीय उद्यान

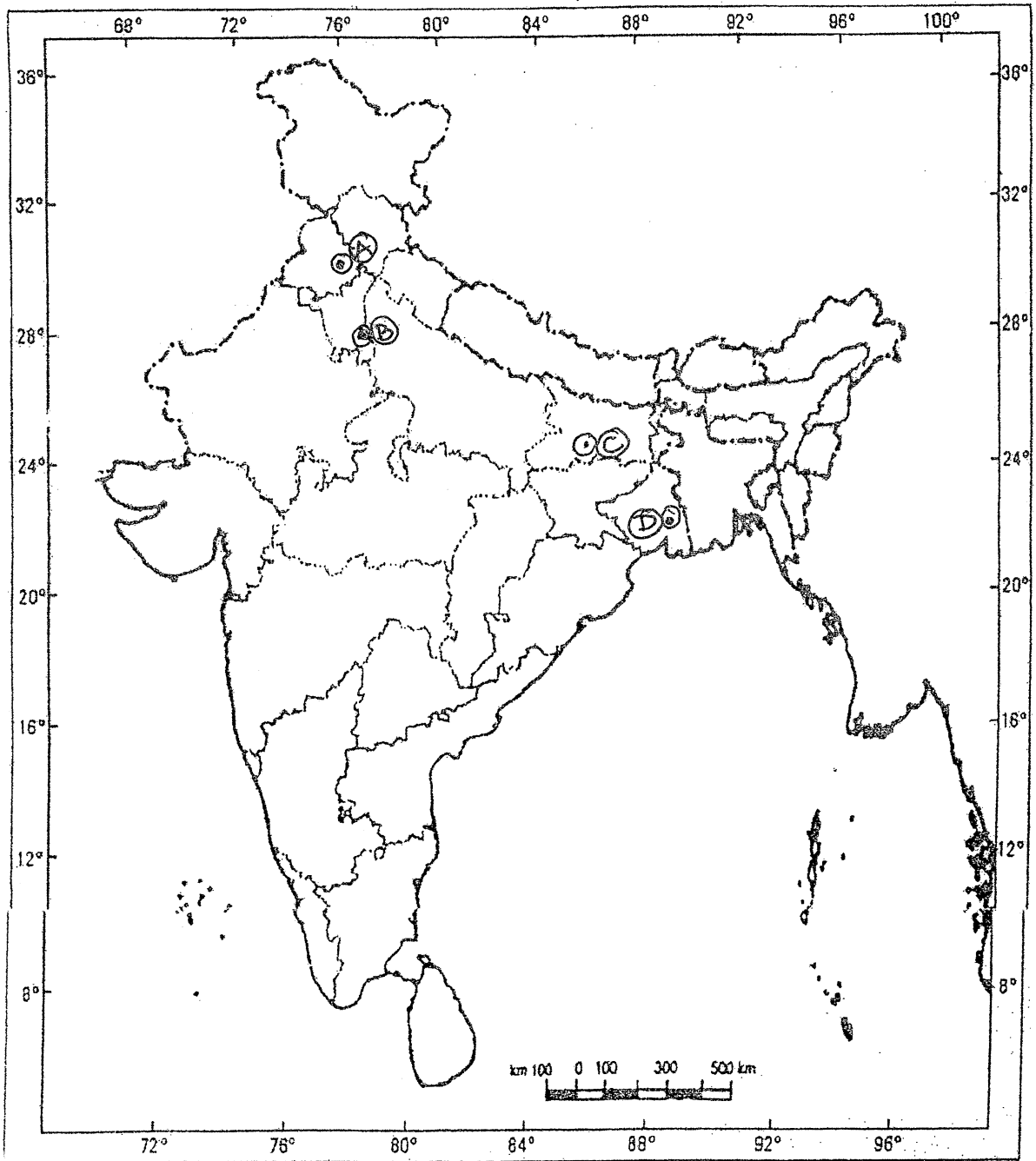
(iv) अग्रणी कॉफी उत्पादक राज्य



29 Identify and write in your answer book the correct names of major International Airports of India marked by (A), (B), (C) and (D) in the given political map of India.

4

दिये गये भारत के रेखा मानचित्र में भारत के प्रमुख अंतर्राष्ट्रीय हवाई अड्डों को (A), (B), (C) तथा (D) से दर्शाया गया है। इन्हें पहचानिये तथा अपने उत्तर पुस्तिका में इनके सही नाम लिखिए।



Note : The following questions are for **Visually Impaired Candidates only** in place of Questions Nos. **28** and **29**.

Answer to these questions must not be in more than a sentence.

- (29.1) Name any two peaks of the Himalayas.
- (29.2) Name the two major rivers that flow through Andhra Pradesh.
- (29.3) Name two Wildlife Sanctuaries of Rajasthan.
- (29.4) Name any two important species of trees of Tropical Deciduous Forests.

नोट : निम्न प्रश्न केवल **28** और **29** के स्थान पर दृष्टिबाधित उम्मीदवारों के लिए हैं ।

इन प्रश्नों के उत्तर एक वाक्य से अधिक नहीं होने चाहिए ।

- (29.1) हिमालय की किन्हीं दो चोटियों का नाम लिखिए ।
- (29.2) उन दो प्रमुख नदियों का नाम लिखिए जो आंध्र प्रदेश से होकर बहती हैं ।
- (29.3) राजस्थान के दो वन्य जीवन अभयारण्यों के नाम लिखिए ।
- (29.4) उष्णकटिबंधीय पर्णपाती वनों की किन्हीं दो महत्वपूर्ण वृक्षों की जातियों के नाम लिखिए ।



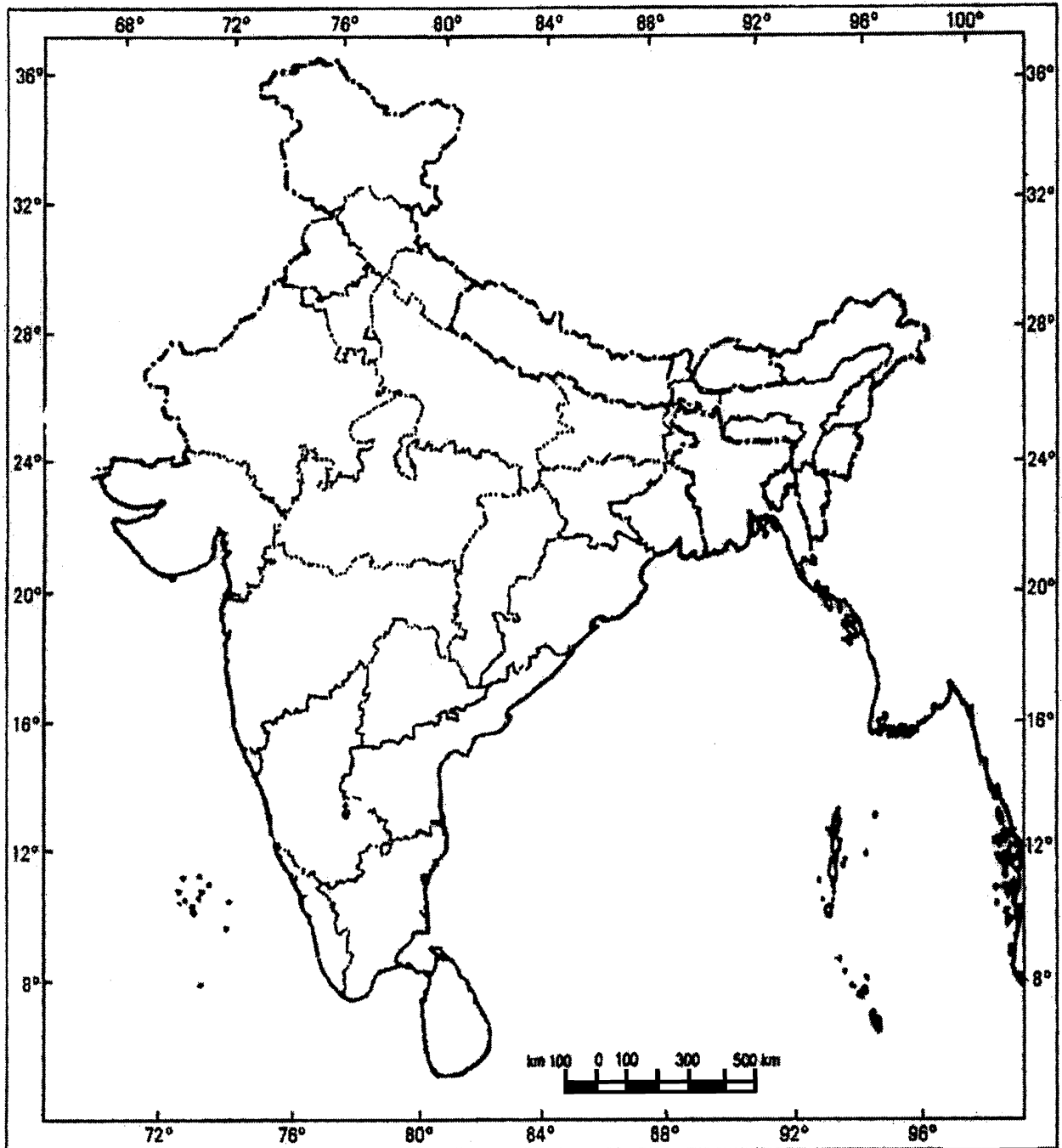


Roll No.

--	--	--	--	--	--	--	--	--	--	--	--	--	--	--	--	--	--	--	--

Q. No. 28

Outline Map of India (Political)



This Question Paper consists of **29** questions and **10** printed pages + **one** outline map of **India**.
इस प्रश्न-पत्र में **29** प्रश्न तथा **10** मुद्रित पृष्ठ + **भारत का एक रेखा-मानचित्र** है।

Roll No.

--	--	--	--	--	--	--	--	--	--	--	--

अनुक्रमांक

Code No. **62/OS/2**
कोड संख्या

Set No. - **B**
सेट संख्या

SOCIAL SCIENCE
(सामाजिक विज्ञान)
(213)

Day and Date of Examination
(परीक्षा का दिन व दिनांक)

Signature of Invigilators
(निरीक्षकों के हस्ताक्षर)

1. _____

2. _____

General Instructions :

- 1 Candidate must write his/her Roll Number on the first page of the Question Paper.
- 2 Please check the Question Paper to verify that the total pages and the total number of questions contained in the Question Paper are the same as those printed on the top of the first page. Also check to see that the questions are in sequential order.
- 3 For the objective type of questions, you have to choose any **one** of the four alternatives given in the question i.e. (A), (B), (C) and (D) and indicate your correct answer in the Answer-Book given to you.
- 4 All the questions including objective type questions are to be answered within the allotted time and no separate time limit is fixed for answering objective type questions.
- 5 Making any identification mark in the Answer-Book or writing Roll Number anywhere other than the specified places will lead to disqualification of the candidate.
- 6 Write your Question Paper Code No. **62/OS/2**, Set – **B** on the Answer-Book.
- 7 (a) The Question Paper is in English/Hindi medium only. However, if you wish, you can answer in any one of the languages listed below :
English, Hindi, Urdu, Punjabi, Bengali, Tamil, Malayalam, Kannada, Telugu, Marathi, Oriya, Gujarati, Konkani, Manipuri, Assamese, Nepali, Kashmiri, Sanskrit and Sindhi.
You are required to indicate the language you have chosen to answer in the box provided in the Answer-Book.
(b) If you choose to write the answer in the language other than Hindi and English, the responsibility for any errors/mistakes in understanding the question will be yours only.



सामान्य अनुदेश :

- 1 परीक्षार्थी प्रश्नपत्र के पहले पृष्ठ पर अपना अनुक्रमांक अवश्य लिखें ।
- 2 कृपया प्रश्नपत्र को जाँच लें कि प्रश्नपत्र के कुल पृष्ठों तथा प्रश्नों की उतनी ही संख्या है जितनी प्रथम पृष्ठ के सबसे ऊपर छपी है । इस बात की जाँच भी कर लें कि प्रश्न क्रमिक रूप में हैं ।
- 3 वस्तुनिष्ठ प्रश्नों में आपको चार विकल्पों (A), (B), (C) तथा (D) में से कोई एक उत्तर चुनना है तथा दी गई उत्तर-पुस्तिका में आप सही उत्तर लिखिए ।
- 4 वस्तुनिष्ठ प्रश्नों के साथ-साथ सभी प्रश्नों के उत्तर निर्धारित अवधि के भीतर ही देने हैं । वस्तुनिष्ठ प्रश्नों के लिए अलग से समय नहीं दिया जाएगा ।
- 5 उत्तर-पुस्तिका में पहचान-चिह्न बनाने अथवा निर्दिष्ट स्थानों के अतिरिक्त कहीं भी अनुक्रमांक लिखने पर परीक्षार्थी को अयोग्य ठहराया जायेगा ।
- 6 अपनी उत्तर-पुस्तिका पर प्रश्नपत्र की कोड संख्या **62/OS/2, सेट – B** लिखें ।
- 7 (क) प्रश्नपत्र केवल हिंदी/अंग्रेजी में है । फिर भी, यदि आप चाहें तो नीचे दी गई किसी एक भाषा में उत्तर दे सकते हैं :
अंग्रेजी, हिंदी, उर्दू, पंजाबी, बंगला, तमिल, मलयालम, कन्नड़, तेलुगु, मराठी, उड़िया, गुजराती, कोंकणी, मणिपुरी, असमिया, नेपाली, कश्मीरी, संस्कृत और सिंधी ।
कृपया उत्तर-पुस्तिका में दिए गए बॉक्स में लिखें कि आप किस भाषा में उत्तर लिख रहे हैं ।
- (ख) यदि आप हिंदी एवं अंग्रेजी के अतिरिक्त किसी अन्य भाषा में उत्तर लिखते हैं तो प्रश्न को समझने में होने वाली त्रुटियों / गलतियों की जिम्मेदारी केवल आपकी होगी ।



SOCIAL SCIENCE

(सामाजिक विज्ञान)

(213)

Time : 3 Hours]

[Maximum Marks : 100

समय : 3 घण्टे]

[पूर्णांक : 100

-
- Notes :** (1) **All** questions are **compulsory** and carry marks as indicated against each question.
- (2) For Multiple Choice Questions **four** options are given. You have to choose right option and indicate it in your answer book.
- (3) Attach the map with answer sheet.

- निर्देश :** (1) सभी प्रश्न अनिवार्य हैं और प्रत्येक प्रश्न के अंक उसके सामने दिये गये हैं।
- (2) बहुविकल्पीय प्रश्नों के चार विकल्प दिये गये हैं। आप सही विकल्प चुनिये और अपनी उत्तर-पुस्तिका में लिखिये।
- (3) दिये गये रेखा मानचित्र को अपनी उत्तर-पुस्तिका के साथ संलग्न कीजिए।
-



1 Which one of the following freedoms is not provided in the Indian Constitution ? 1

- (A) Freedom of speech and expression
- (B) Freedom to form associations and unions
- (C) Freedom to move freely across the world
- (D) Freedom to reside and settle in any part of India

भारतीय संविधान में निम्नलिखित स्वतंत्रताओं में से कौन सी स्वतंत्रता नहीं दी गई है ?

- (A) बोलने और अभिव्यक्त करने की स्वतंत्रता
- (B) संस्थाओं और संघों के बनाने की स्वतंत्रता
- (C) दुनियाभर में घूमने की स्वतंत्रता
- (D) भारत के किसी भाग में रहने और बसने की स्वतंत्रता

2 Which one of the following is the greatest threat to peace and security of a country ? 1

- (A) Casteism
- (B) Terrorism
- (C) Poverty
- (D) Nepotism

किसी देश की शांति और सुरक्षा के लिए सबसे बड़ा खतरा है ?

- (A) जातिवाद
- (B) आतंकवाद
- (C) गरीबी
- (D) भाई-भतीजावाद

3 Mesopotamian civilization was situated between which of the following rivers ? 1

- (A) Ganga and Yamuna
- (B) Nile and Congo
- (C) Tigris and Euphrates
- (D) Hwango and Chang Jiang

मैसोपोटामिया सभ्यता निम्नलिखित नदियों में से किन के मध्य स्थित थी ?

- (A) गंगा और यमुना
- (B) नील और कांगो
- (C) टगरीस और फरात
- (D) हॉगहो और चेंग जियांग



4 Which one of the following was the most important and prominent rebellion of tribals after 1857 ? 1

(A) Santhal Rebellion

(B) Garo Rebellion

(C) Jaintia Rebellion

(D) Munda Rebellion

1857 के बाद निम्नलिखित में से कौन सा जनजातिय विद्रोह सबसे महत्वपूर्ण और प्रमुख था ?

(A) संथाल विद्रोह

(B) गारो विद्रोह

(C) जयंतिया विद्रोह

(D) मुंडा विद्रोह

5 Mention any two Teachings of Guru Nanak. 2

गुरु नानक की किन्हीं दो शिक्षाओं का उल्लेख कीजिए ।

6 Why was the Khilafat Movement started ? Explain. 2

खिलाफत आंदोलन क्यों शुरू किया गया था ? स्पष्ट कीजिए ।

7 Why are Peninsular rivers more suitable for generating electricity ? 2

Explain with an example.

विद्युत उत्पादन के लिए प्रायद्वीपीय नदियाँ अधिक उपयुक्त क्यों हैं ? उदाहरण सहित स्पष्ट कीजिए ।

8 Mention any two Constitutional values given in the Preamble of the Indian Constitution. 2

भारतीय संविधान की प्रस्तावना में दिए गए किन्हीं दो संवैधानिक मूल्यों का उल्लेख कीजिए ।

9 Explain the position of women in India before the 'Social Reform Movement'. 4

सामाजिक सुधार आंदोलन से पहले भारत में महिलाओं की स्थिति को स्पष्ट कीजिए ।



- 10 Explain the main features of the Muslim Reform Movement in India. 4
भारत में मुस्लिम सुधार आंदोलन की मुख्य विशेषताओं की व्याख्या कीजिए ।
- 11 Describe the role of Gram Sabha in a Gram Panchayat. 4
एक ग्राम पंचायत में ग्राम सभा की भूमिका का वर्णन कीजिए ।
- 12 How was the Mauryan Empire established ? Explain. 4
मौर्य साम्राज्य किस प्रकार स्थापित किया गया था ? स्पष्ट कीजिए ।
- 13 Describe any four features of the 'Eastern Coastal Plain' of India. 4
भारत के 'पूर्वी तटीय मैदान' की किन्हीं चार विशेषताओं का वर्णन कीजिए ।
- 14 What is 'Bursting of Monsoon' ? Why do these occur on the Kerala coast ? Explain. 1+3=4
'मानसून के फटने' से क्या अभिप्राय है ? यह प्रायः केरल के तट पर क्यों घटित होते हैं ? स्पष्ट कीजिए ।
- 15 Explain the political and economic life of the Greeks. 4
यूनानियों के राजनीतिक और आर्थिक जीवन की व्याख्या कीजिए ।
- 16 Explain the powers of Governor of a state. 4
किसी राज्य के राज्यपाल की शक्तियों की व्याख्या कीजिए ।



- 17 "From olden days till now waterways have been import means of transportation." Examine the statement. 4
“प्राचीनकाल से अबतक जल मार्ग परिवहन के महत्वपूर्ण साधन रहे हैं ।” इस कथन की परख कीजिए ।
- 18 Describe any four features of the Indian Constitution. 4
भारतीय संविधान की किन्हीं चार विशेषताओं का वर्णन कीजिए ।
- 19 Analyze the provisions that have been made in the Indian Constitution for National Integration. 4
भारतीय संविधान में राष्ट्रीय एकता के लिए किए गए प्रावधानों का विश्लेषण कीजिए ।
- 20 Highlight the various stages of the Election Process in India. 4
भारत में चुनाव प्रक्रिया के विभिन्न चरणों को उजागर कीजिए ।
- 21 Differentiate between National and Regional Political parties with examples. 4
राष्ट्रीय और क्षेत्रीय राजनीतिक दलों में उदाहरणों सहित अंतर स्पष्ट कीजिए ।
- 22 Describe the four phases involved in Disaster Management. 4
आपदा प्रबंधन में शामिल चार चरणों का वर्णन कीजिए ।
- 23 How does literacy play an important role in the success of a democracy ? 4
Explain.
लोकतंत्र की सफलता में साक्षरता किस प्रकार महत्वपूर्ण भूमिका निभाती है ? व्याख्या कीजिए ।



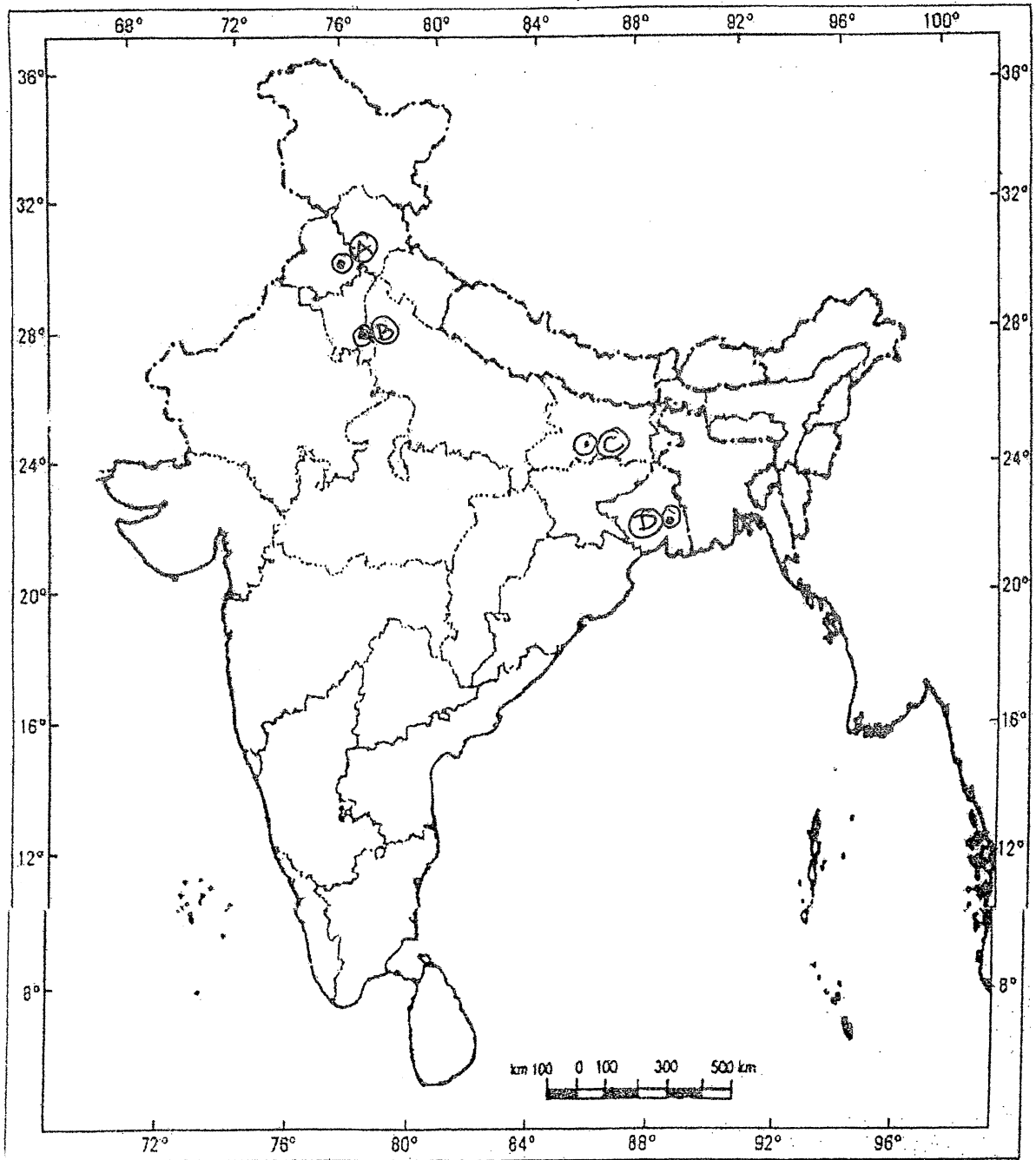
- 24** Describe any five effects of the Lahore Session of the Congress held in 1929. **5**
1929 में आयोजित कांग्रेस के लाहौर अधिवेशन के किन्हीं पाँच प्रमुख प्रभावों का वर्णन कीजिए ।
- 25** Describe the functions of the Indian Parliament. **5**
भारतीय संसद के कार्यों का वर्णन कीजिए ।
- 26** Explain the main features of 'Advancing South-West Monsoon Season' **5**
in India.
भारत में आगे बढ़ते दक्षिण पश्चिम मानसून ऋतु की मुख्य विशेषताओं की व्याख्या कीजिए ।
- 27** Explain the process of Unification of Germany. **5**
जर्मनी के एकीकरण की प्रक्रिया को स्पष्ट कीजिए ।
- 28** In the given political map of India, mark and label the following **4**
with appropriate symbols :
(i) Mizo Hills
(ii) Kaveri River
(iii) Simlipal National Park
(iv) Leading Coffee producing state
दिये गये भारत के रेखा मानचित्र में निम्नलिखित को उपयुक्त चिन्हों से दर्शाएँ और उनके नाम लिखिए :
(i) मिज़ो पहाड़ियाँ
(ii) कावेरी नदी
(iii) सिम्पलीपाल राष्ट्रीय उद्यान
(iv) अग्रणी कॉफी उत्पादक राज्य



29 Identify and write in your answer book the correct names of major International Airports of India marked by (A), (B), (C) and (D) in the given political map of India.

4

दिये गये भारत के रेखा मानचित्र में भारत के प्रमुख अंतर्राष्ट्रीय हवाई अड्डों को (A), (B), (C) तथा (D) से दर्शाया गया है। इन्हें पहचानिये तथा अपने उत्तर पुस्तिका में इनके सही नाम लिखिए।



Note : The following questions are for **Visually Impaired Candidates only** in place of Questions Nos. **28** and **29**.

Answer to these questions must not be in more than a sentence.

- (29.1) Name any two peaks of the Himalayas.
- (29.2) Name the two major rivers that flow through Andhra Pradesh.
- (29.3) Name two Wildlife Sanctuaries of Rajasthan.
- (29.4) Name any two important species of trees of Tropical Deciduous Forests.

नोट : निम्न प्रश्न केवल **28** और **29** के स्थान पर दृष्टिबाधित उम्मीदवारों के लिए हैं ।

इन प्रश्नों के उत्तर एक वाक्य से अधिक नहीं होने चाहिए ।

- (29.1) हिमालय की किन्हीं दो चोटियों का नाम लिखिए ।
- (29.2) उन दो प्रमुख नदियों का नाम लिखिए जो आंध्र प्रदेश से होकर बहती हैं ।
- (29.3) राजस्थान के दो वन्य जीवन अभयारण्यों के नाम लिखिए ।
- (29.4) उष्णकटिबंधीय पर्णपाती वनों की किन्हीं दो महत्वपूर्ण वृक्षों की जातियों के नाम लिखिए ।



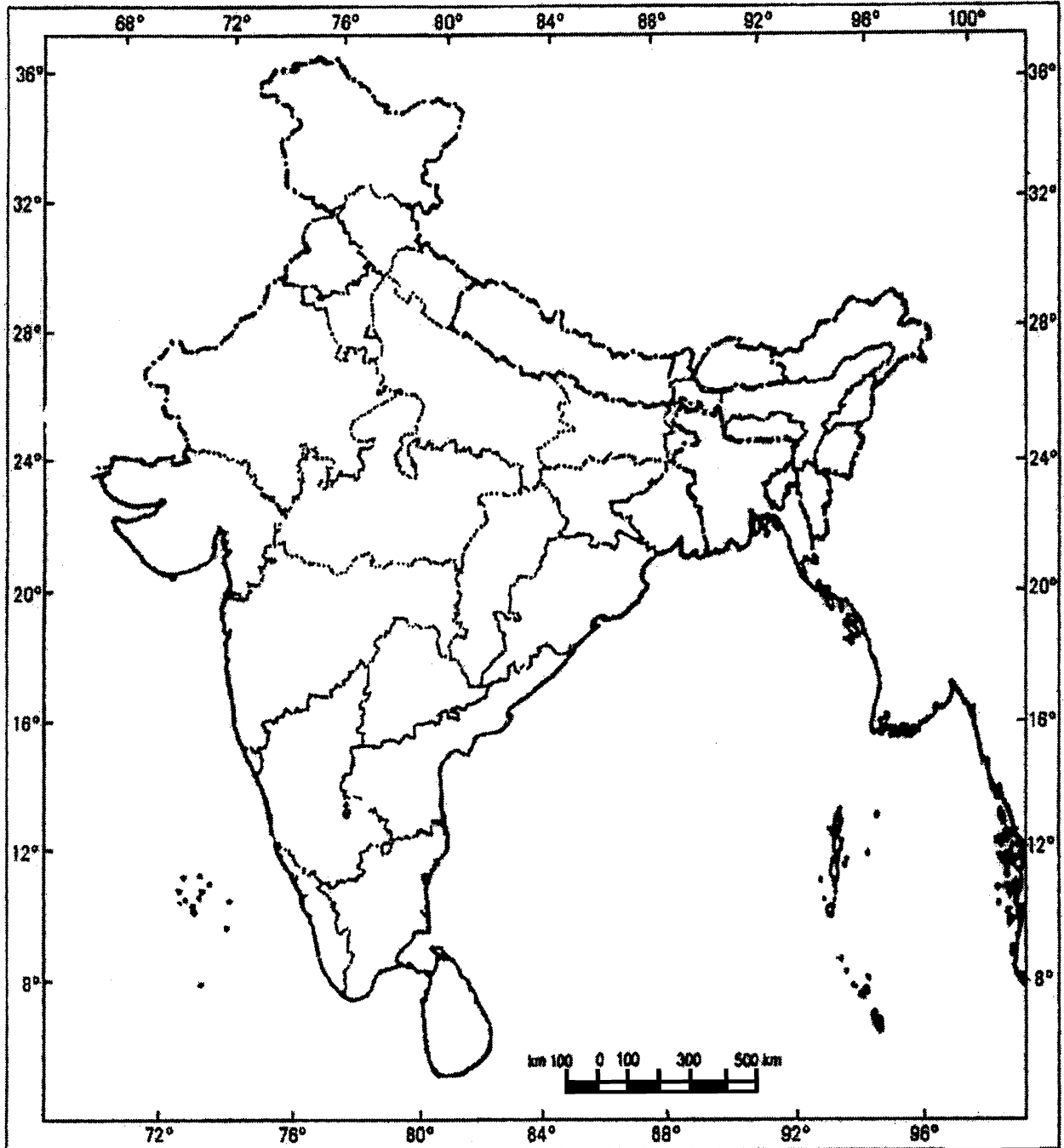


Roll No.

--	--	--	--	--	--	--	--	--	--	--	--	--	--	--	--	--	--	--	--

Q. No. 28

Outline Map of India (Political)



This Question Paper consists of **29** questions and **10** printed pages + **one** outline map of **India**.
इस प्रश्न-पत्र में **29** प्रश्न तथा **10** मुद्रित पृष्ठ + **भारत का एक रेखा-मानचित्र** है।

Roll No.

--	--	--	--	--	--	--	--	--	--	--	--

अनुक्रमांक

Code No. **62/OS/2**
कोड संख्या

Set No. -

C

सेट संख्या

SOCIAL SCIENCE
(सामाजिक विज्ञान)
(213)

Day and Date of Examination
(परीक्षा का दिन व दिनांक)

Signature of Invigilators
(निरीक्षकों के हस्ताक्षर)

1. _____

2. _____

General Instructions :

- 1 Candidate must write his/her Roll Number on the first page of the Question Paper.
- 2 Please check the Question Paper to verify that the total pages and the total number of questions contained in the Question Paper are the same as those printed on the top of the first page. Also check to see that the questions are in sequential order.
- 3 For the objective type of questions, you have to choose any **one** of the four alternatives given in the question i.e. (A), (B), (C) and (D) and indicate your correct answer in the Answer-Book given to you.
- 4 All the questions including objective type questions are to be answered within the allotted time and no separate time limit is fixed for answering objective type questions.
- 5 Making any identification mark in the Answer-Book or writing Roll Number anywhere other than the specified places will lead to disqualification of the candidate.
- 6 Write your Question Paper Code No. **62/OS/2**, Set –

C

 on the Answer-Book.
- 7 (a) The Question Paper is in English/Hindi medium only. However, if you wish, you can answer in any one of the languages listed below :
English, Hindi, Urdu, Punjabi, Bengali, Tamil, Malayalam, Kannada, Telugu, Marathi, Oriya, Gujarati, Konkani, Manipuri, Assamese, Nepali, Kashmiri, Sanskrit and Sindhi.
You are required to indicate the language you have chosen to answer in the box provided in the Answer-Book.
(b) If you choose to write the answer in the language other than Hindi and English, the responsibility for any errors/mistakes in understanding the question will be yours only.



सामान्य अनुदेश :

- 1 परीक्षार्थी प्रश्नपत्र के पहले पृष्ठ पर अपना अनुक्रमांक अवश्य लिखें ।
- 2 कृपया प्रश्नपत्र को जाँच लें कि प्रश्नपत्र के कुल पृष्ठों तथा प्रश्नों की उतनी ही संख्या है जितनी प्रथम पृष्ठ के सबसे ऊपर छपी है । इस बात की जाँच भी कर लें कि प्रश्न क्रमिक रूप में हैं ।
- 3 वस्तुनिष्ठ प्रश्नों में आपको चार विकल्पों (A), (B), (C) तथा (D) में से कोई एक उत्तर चुनना है तथा दी गई उत्तर-पुस्तिका में आप सही उत्तर लिखिए ।
- 4 वस्तुनिष्ठ प्रश्नों के साथ-साथ सभी प्रश्नों के उत्तर निर्धारित अवधि के भीतर ही देने हैं । वस्तुनिष्ठ प्रश्नों के लिए अलग से समय नहीं दिया जाएगा ।
- 5 उत्तर-पुस्तिका में पहचान-चिह्न बनाने अथवा निर्दिष्ट स्थानों के अतिरिक्त कहीं भी अनुक्रमांक लिखने पर परीक्षार्थी को अयोग्य ठहराया जायेगा ।
- 6 अपनी उत्तर-पुस्तिका पर प्रश्नपत्र की कोड संख्या **62/OS/2, सेट – C** लिखें ।
- 7 (क) प्रश्नपत्र केवल हिंदी/अंग्रेजी में है । फिर भी, यदि आप चाहें तो नीचे दी गई किसी एक भाषा में उत्तर दे सकते हैं :
अंग्रेजी, हिंदी, उर्दू, पंजाबी, बंगला, तमिल, मलयालम, कन्नड़, तेलुगु, मराठी, उड़िया, गुजराती, कोंकणी, मणिपुरी, असमिया, नेपाली, कश्मीरी, संस्कृत और सिंधी ।
कृपया उत्तर-पुस्तिका में दिए गए बॉक्स में लिखें कि आप किस भाषा में उत्तर लिख रहे हैं ।
- (ख) यदि आप हिंदी एवं अंग्रेजी के अतिरिक्त किसी अन्य भाषा में उत्तर लिखते हैं तो प्रश्न को समझने में होने वाली त्रुटियों / गलतियों की जिम्मेदारी केवल आपकी होगी ।



SOCIAL SCIENCE

(सामाजिक विज्ञान)

(213)

Time : 3 Hours]

[Maximum Marks : 100

समय : 3 घण्टे]

[पूर्णांक : 100

-
- Notes :**
- (1) **All** questions are **compulsory** and carry marks as indicated against each question.
 - (2) For Multiple Choice Questions **four** options are given. You have to choose right option and indicate it in your answer book.
 - (3) Attach the map with answer sheet.

- निर्देश :**
- (1) सभी प्रश्न अनिवार्य हैं और प्रत्येक प्रश्न के अंक उसके सामने दिये गये हैं।
 - (2) बहुविकल्पीय प्रश्नों के चार विकल्प दिये गये हैं। आप सही विकल्प चुनिये और अपनी उत्तर-पुस्तिका में लिखिये।
 - (3) दिये गये रेखा मानचित्र को अपनी उत्तर-पुस्तिका के साथ संलग्न कीजिए।
-



1 Which one of the following is the greatest threat to peace and security of a country ? 1

- (A) Casteism (B) Terrorism
(C) Poverty (D) Nepotism

किसी देश की शांति और सुरक्षा के लिए सबसे बड़ा खतरा है ?

- (A) जातिवाद (B) आतंकवाद
(C) गरीबी (D) भाई-भतीजावाद

2 Which one of the following freedoms is not provided in the Indian Constitution ? 1

- (A) Freedom of speech and expression
(B) Freedom to form associations and unions
(C) Freedom to move freely across the world
(D) Freedom to reside and settle in any part of India

भारतीय संविधान में निम्नलिखित स्वतंत्रताओं में से कौन सी स्वतंत्रता नहीं दी गई है ?

- (A) बोलने और अभिव्यक्त करने की स्वतंत्रता
(B) संस्थाओं और संघों के बनाने की स्वतंत्रता
(C) दुनियाभर में घूमने की स्वतंत्रता
(D) भारत के किसी भाग में रहने और बसने की स्वतंत्रता

3 Which one of the following was the most important and prominent rebellion of tribals after 1857 ? 1

- (A) Santhal Rebellion (B) Garo Rebellion
(C) Jaintia Rebellion (D) Munda Rebellion

1857 के बाद निम्नलिखित में से कौन सा जनजातिय विद्रोह सबसे महत्वपूर्ण और प्रमुख था ?

- (A) संथाल विद्रोह (B) गारो विद्रोह
(C) जयंतिया विद्रोह (D) मुंडा विद्रोह



4 Mesopotamian civilization was situated between which of the following rivers ?1

- (A) Ganga and Yamuna (B) Nile and Congo
(C) Tigris and Euphrates (D) Hwango and Chang Jiang

मैसोपोटामिया सभ्यता निम्नलिखित नदियों में से किन के मध्य स्थित थी ?

- (A) गंगा और यमुना (B) नील और कांगो
(C) टगरीस और फरात (D) हॉगहो और चेंग जियांग

5 Mention any two contributions of the Arabs in the field of medicine. 2

चिकित्साशास्त्र के क्षेत्र में अरब वासियों के किन्हीं दो योगदानों का उल्लेख कीजिए ।

6 Why was the Khilafat Movement started ? Explain. 2

खिलाफत आंदोलन क्यों शुरू किया गया था ? स्पष्ट कीजिए ।

7 Explain any two specialities of the 'Deccan Trap'. 2

'दक्कन ट्रेप' की किन्हीं दो विशिष्टताओं की व्याख्या कीजिए ।

8 Mention any two Constitutional values given in the Preamble of the Indian Constitution. 2

भारतीय संविधान की प्रस्तावना में दिए गए किन्हीं दो संवैधानिक मूल्यों का उल्लेख कीजिए ।

9 Explain any four steps taken by Pandita Ramabai to improve the status of women in India. 4

भारत में महिलाओं की स्थिति में सुधार के लिए पंडिता रमाबाई द्वारा उठाए गए किन्हीं चार कदमों की व्याख्या कीजिए ।



- 10 Who led the 'Reform Movement' among the Parsis ? How did they begin religious reforms among the Parsis ? Explain. 4

पारसियों के बीच सुधार आंदोलन का नेतृत्व किन्होंने किया ? उन्होंने पारसियों के बीच कैसे धार्मिक सुधारों को शुरु किया ? स्पष्ट कीजिए ।

- 11 Explain the political and economic life of the Greeks. 4

यूनानियों के राजनीतिक और आर्थिक जीवन की व्याख्या कीजिए ।

- 12 "From olden days till now waterways have been import means of transportation." Examine the statement. 4

“प्राचीनकाल से अबतक जल मार्ग परिवहन के महत्वपूर्ण साधन रहे हैं ।” इस कथन की परख कीजिए ।

- 13 What are Biosphere Reserves ? Mention the objectives for establishing the Biosphere Reserves. 1+3=4

जैव आरक्षित क्षेत्र क्या हैं ? जैव आरक्षित क्षेत्रों को स्थापित करने के उद्देश्यों का उल्लेख कीजिए ।

- 14 What is Global Warming ? Explain the activities responsible for Global Warming. 1+3=4

विश्व तापन से क्या अभिप्राय है ? विश्व तापन के उत्तरदायी गतिविधियों की व्याख्या कीजिए ।

- 15 Describe the role of Gram Sabha in a Gram Panchayat. 4

एक ग्राम पंचायत में ग्राम सभा की भूमिका का वर्णन कीजिए ।



- 16 How was the Mauryan Empire established ? Explain. 4
मौर्य साम्राज्य किस प्रकार स्थापित किया गया था ? स्पष्ट कीजिए ।
- 17 Explain the powers of Governor of a state. 4
किसी राज्य के राज्यपाल की शक्तियों की व्याख्या कीजिए ।
- 18 Describe the four phases involved in Disaster Management. 4
आपदा प्रबंधन में शामिल चार चरणों का वर्णन कीजिए ।
- 19 Describe any four features of the Indian Constitution. 4
भारतीय संविधान की किन्हीं चार विशेषताओं का वर्णन कीजिए ।
- 20 How does literacy play an important role in the success of a democracy ? 4
Explain.
लोकतंत्र की सफलता में साक्षरता किस प्रकार महत्वपूर्ण भूमिका निभाती है ? व्याख्या कीजिए ।
- 21 Analyze the provisions that have been made in the Indian Constitution 4
for National Integration.
भारतीय संविधान में राष्ट्रीय एकता के लिए किए गए प्रावधानों का विश्लेषण कीजिए ।
- 22 Differentiate between National and Regional Political parties with examples. 4
राष्ट्रीय और क्षेत्रीय राजनीतिक दलों में उदाहरणों सहित अंतर स्पष्ट कीजिए ।
- 23 Highlight the various stages of the Election Process in India. 4
भारत में चुनाव प्रक्रिया के विभिन्न चरणों को उजागर कीजिए ।



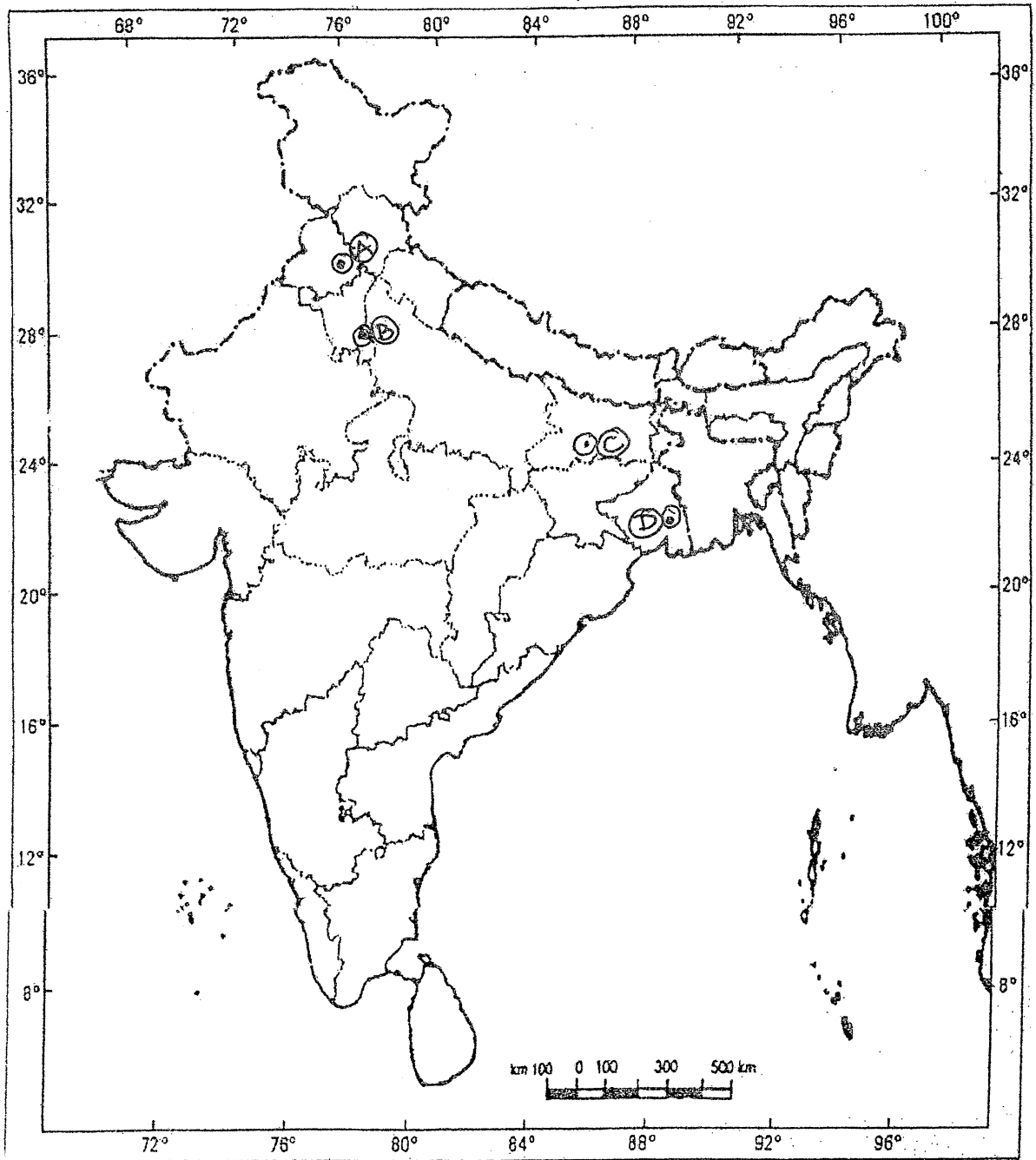
- 24** Describe any five factors that led to the Partition of India in 1947. **5**
1947 में भारत के विभाजन के उत्तरदायी किन्हीं पाँच कारकों का वर्णन कीजिए ।
- 25** Explain the process of Unification of Germany. **5**
जर्मनी के एकीकरण की प्रक्रिया को स्पष्ट कीजिए ।
- 26** Explain the main features of 'Advancing South-West Monsoon Season' **5**
in India.
भारत में आगे बढ़ते दक्षिण पश्चिम मानसून ऋतु की मुख्य विशेषताओं की व्याख्या कीजिए ।
- 27** Describe the functions of the Indian Parliament. **5**
भारतीय संसद के कार्यों का वर्णन कीजिए ।
- 28** In the given political map of India, mark and label the following **4**
with appropriate symbols :
(i) Mizo Hills
(ii) Kaveri River
(iii) Simlipal National Park
(iv) Leading Coffee producing state
दिये गये भारत के रेखा मानचित्र में निम्नलिखित को उपयुक्त चिन्हों से दर्शाइए और उनके नाम लिखिए :
(i) मिज़ो पहाड़ियाँ
(ii) कावेरी नदी
(iii) सिम्पलीपाल राष्ट्रीय उद्यान
(iv) अग्रणी कॉफी उत्पादक राज्य



29 Identify and write in your answer book the correct names of major International Airports of India marked by (A), (B), (C) and (D) in the given political map of India.

4

दिये गये भारत के रेखा मानचित्र में भारत के प्रमुख अंतर्राष्ट्रीय हवाई अड्डों को (A), (B), (C) तथा (D) से दर्शाया गया है। इन्हें पहचानिये तथा अपने उत्तर पुस्तिका में इनके सही नाम लिखिए।



Note : The following questions are for **Visually Impaired Candidates only** in place of Questions Nos. **28** and **29**.

Answer to these questions must not be in more than a sentence.

- (29.1) Name any two peaks of the Himalayas.
- (29.2) Name the two major rivers that flow through Andhra Pradesh.
- (29.3) Name two Wildlife Sanctuaries of Rajasthan.
- (29.4) Name any two important species of trees of Tropical Deciduous Forests.

नोट : निम्न प्रश्न केवल **28** और **29** के स्थान पर दृष्टिबाधित उम्मीदवारों के लिए हैं ।

इन प्रश्नों के उत्तर एक वाक्य से अधिक नहीं होने चाहिए ।

- (29.1) हिमालय की किन्हीं दो चोटियों का नाम लिखिए ।
- (29.2) उन दो प्रमुख नदियों का नाम लिखिए जो आंध्र प्रदेश से होकर बहती हैं ।
- (29.3) राजस्थान के दो वन्य जीवन अभयारण्यों के नाम लिखिए ।
- (29.4) उष्णकटिबंधीय पर्णपाती वनों की किन्हीं दो महत्वपूर्ण वृक्षों की जातियों के नाम लिखिए ।



Roll No.

--	--	--	--	--	--	--	--	--	--	--	--	--	--	--	--	--	--	--	--

Q. No. 28

Outline Map of India (Political)

