

SSB Constable (Non GD)

Previous Year Paper
13 Jul, 2023

SSB Exam 13th Jul 2023

Participant ID	
Participant Name	
Test Center Name	
Test Date	13/07/2023
Test Time	12:30 PM - 2:30 PM
Subject	CT Non GD

Section : General Knowledge

Q.1 अप्रैल 2023 तक की स्थिति के अनुसार, भारतीय राष्ट्रीय अंतरिक्ष संवर्धन एवं प्राधिकरण केंद्र (इन-स्पेस) के अध्यक्ष कौन हैं?

- Ans 1. पवन गोयनका
 2. सुधीर कुमार एन
 3. गौतमी सुदर्शन
 4. एस सोमनाथ

Question ID : 630680270326
Option 1 ID : 6306801050500
Option 2 ID : 6306801050501
Option 3 ID : 6306801050499
Option 4 ID : 6306801050498
Status : Answered
Chosen Option : 2

Q.2 निम्नलिखित में से 'त्योहार -समुदाय' का कौन-सा युग्म सही सुमेलित है?

- Ans 1. लोसर - मोनपा
 2. हॉर्नबिल - बोडो
 3. गरिया - कोली
 4. चाड लाहो - कार्बी

Question ID : 630680270339
Option 1 ID : 6306801050552
Option 2 ID : 6306801050551
Option 3 ID : 6306801050553
Option 4 ID : 6306801050550
Status : Answered
Chosen Option : 3

Q.3 फरवरी 2023 में, स्वास्थ्य एवं परिवार कल्याण मंत्रालय ने _____ के उन्मूलन के लिए एक राष्ट्रव्यापी मास ड्रग एडमिनिस्ट्रेशन (एमडीए) अभियान शुरू किया।

- Ans 1. हेपेटाइटिस बी
 2. लिम्फेटिक फिलरियासेस
 3. जापानी इंसेफेलाइटिस
 4. कोविड-19

Question ID : 630680270328
Option 1 ID : 6306801050509
Option 2 ID : 6306801050507
Option 3 ID : 6306801050506
Option 4 ID : 6306801050508
Status : Answered
Chosen Option : 2

7/17/23, 12:23 PM

cdn.digialm.com//per/g01/pub/1258/touchstone/AssessmentQPHTMLMode1/1258O23340/1258O23340S1D333/168948790...

Q.4 भारत में ब्रिटिश साम्राज्य के खिलाफ सविनय अवज्ञा आंदोलन के संबंध में निम्नलिखित में से कौन सा/से कथन सही है/हैं?

- I. औद्योगिक श्रमिक वर्ग ने पूरे देश में बहुत बड़ी संख्या में हिस्सा लिया।
- II. भारतीय व्यापारियों और उद्योगपतियों ने इस आंदोलन का समर्थन किया जब ये पहली बार शुरू किए गया था।

- Ans
- 1. केवल I
 - 2. I और II दोनों
 - 3. न ही I न ही II
 - 4. केवल II

Question ID : 630680270333
 Option 1 ID : 6306801050526
 Option 2 ID : 6306801050528
 Option 3 ID : 6306801050529
 Option 4 ID : 6306801050527
 Status : Answered
 Chosen Option : 2

Q.5 भारत की 2011 की जनगणना के अनुसार, बिहार लगभग _____ प्रतिशत साक्षरता दर के साथ देश में अंतिम स्थान पर है।

- Ans
- 1. 62
 - 2. 64
 - 3. 66
 - 4. 68

Question ID : 630680270342
 Option 1 ID : 6306801050562
 Option 2 ID : 6306801050563
 Option 3 ID : 6306801050564
 Option 4 ID : 6306801050565
 Status : Answered
 Chosen Option : 2

Q.6 फरवरी 2023 में, भारतीय भूवैज्ञानिक सर्वेक्षण ने जम्मू-कश्मीर में किस धातु के 5.9 मिलियन टन अनुमानित संसाधनों की खोज की?

- Ans
- 1. थोरियम
 - 2. प्लेटिनम
 - 3. यूरेनियम
 - 4. लिथियम

Question ID : 630680270327
 Option 1 ID : 6306801050504
 Option 2 ID : 6306801050503
 Option 3 ID : 6306801050502
 Option 4 ID : 6306801050505
 Status : Answered
 Chosen Option : 3

Q.7 लक्ष्य सेन निम्नलिखित में से किस खेल से संबंधित है?

- Ans 1. बैडमिंटन
 2. शतरंज
 3. कबड्डी
 4. टेबल टेनिस

Question ID : 630680270325
Option 1 ID : 6306801050495
Option 2 ID : 6306801050494
Option 3 ID : 6306801050496
Option 4 ID : 6306801050497
Status : Answered
Chosen Option : 2

Q.8 निम्न हिमाचल तथा शिवालिक के बीच में स्थित लंबवत् घाटी को _____ के नाम से जाना जाता है।

- Ans 1. द्वीप
 2. घाट
 3. दून
 4. दर्रा

Question ID : 630680270340
Option 1 ID : 6306801050554
Option 2 ID : 6306801050556
Option 3 ID : 6306801050557
Option 4 ID : 6306801050555
Status : Answered
Chosen Option : 4

Q.9 निम्नलिखित में से कौन सी भारतीय भाषा इंडो-आर्यन भाषा परिवार से संबंधित नहीं है?

- Ans 1. कुर्माली
 2. बोडो
 3. उड़िया
 4. अंगिका

Question ID : 630680270337
Option 1 ID : 6306801050543
Option 2 ID : 6306801050545
Option 3 ID : 6306801050542
Option 4 ID : 6306801050544
Status : Answered
Chosen Option : 3

Q.10 जनवरी 2023 तक की स्थिति के अनुसार, भारत में लोकसभा के _____ निर्वाचन क्षेत्र हैं।

- Ans 1. 538
 2. 543
 3. 548
 4. 545

Question ID : 630680270345
Option 1 ID : 6306801050574
Option 2 ID : 6306801050575
Option 3 ID : 6306801050577
Option 4 ID : 6306801050576
Status : Answered
Chosen Option : 2

Q.11 भारत में निम्नलिखित में से किस प्रकार की वनस्पति में चंदन के वृक्ष पाए जाते हैं?

- Ans
- 1. पर्वतीय वन
 - 2. उष्ण कटिबंधीय सदाबहार वन
 - 3. उष्ण कटिबंधीय पर्णपाती वन
 - 4. उष्ण कटिबंधीय कंटीले वन

Question ID : 630680270341
 Option 1 ID : 6306801050561
 Option 2 ID : 6306801050558
 Option 3 ID : 6306801050559
 Option 4 ID : 6306801050560
 Status : Answered
 Chosen Option : 3

Q.12 'किताब-उल-हिंद' निम्नलिखित में से किस लेखक द्वारा लिखा गया था?

- Ans
- 1. अमीर खुसरो
 - 2. इब्र बतूता
 - 3. अल-बरुनी
 - 4. अबुल फज़ल

Question ID : 630680270336
 Option 1 ID : 6306801050541
 Option 2 ID : 6306801050539
 Option 3 ID : 6306801050538
 Option 4 ID : 6306801050540
 Status : Answered
 Chosen Option : 4

Q.13 भारतीय संविधान का कौन सा अनुच्छेद 'राष्ट्रपति पर महाभियोग चलाने की प्रक्रिया' से संबंधित है?

- Ans
- 1. अनुच्छेद 52
 - 2. अनुच्छेद 58
 - 3. अनुच्छेद 55
 - 4. अनुच्छेद 61

Question ID : 630680270346
 Option 1 ID : 6306801050578
 Option 2 ID : 6306801050580
 Option 3 ID : 6306801050579
 Option 4 ID : 6306801050581
 Status : Answered
 Chosen Option : 4

Q.14 प्रथम विश्व युद्ध के दौरान अमेरिका मित्र राष्ट्रों में किस वर्ष शामिल हुआ था?

- Ans
- 1. 1915
 - 2. 1918
 - 3. 1916
 - 4. 1917

Question ID : 630680270334
 Option 1 ID : 6306801050530
 Option 2 ID : 6306801050533
 Option 3 ID : 6306801050531
 Option 4 ID : 6306801050532
 Status : Answered
 Chosen Option : 2

Q.15 मई 2022 में, भारतीय पुरुष टीम ने पहली बार थॉमस कप (बैडमिंटन) टूर्नामेंट जीतने के लिए निम्नलिखित में से किस टीम को हराया?

- Ans 1. इंडोनेशिया
 2. थाईलैंड
 3. मलेशिया
 4. सिंगापुर

Question ID : 630680270324
Option 1 ID : 6306801050493
Option 2 ID : 6306801050492
Option 3 ID : 6306801050491
Option 4 ID : 6306801050490
Status : Answered
Chosen Option : 1

Q.16 भारत की 2011 की जनगणना के अनुसार निम्नलिखित राज्यों को उच्चतम से निम्नतम लिंगानुपात के सही क्रम में व्यवस्थित करें।

- I. नागालैंड
- II. राजस्थान
- III. झारखंड

- Ans 1. III-I-II
 2. II-I-III
 3. I-II-III
 4. I-III-II

Question ID : 630680270343
Option 1 ID : 6306801050569
Option 2 ID : 6306801050566
Option 3 ID : 6306801050567
Option 4 ID : 6306801050568
Status : Answered
Chosen Option : 4

Q.17 परिवर्ती आगत की कुल संप्राप्ति _____ के समान होती है।

- Ans 1. कुल उत्पाद
 2. औसत उत्पाद
 3. सीमांत उत्पाद
 4. हासमान सीमांत उत्पाद

Question ID : 630680270330
Option 1 ID : 6306801050516
Option 2 ID : 6306801050517
Option 3 ID : 6306801050515
Option 4 ID : 6306801050514
Status : Answered
Chosen Option : 4

Q.18 अंग्रेजों के खिलाफ भारत के स्वतंत्रता संग्राम के संदर्भ में, 'घटना - वर्ष' का निम्नलिखित में से कौन-सा युग्म सही सुमेलित नहीं है?

- Ans 1. पूर्ण स्वराज - 1926
2. गांधी-इरविन समझौता - 1931
3. साइमन कमीशन - 1928
4. चौरी चौरा - 1922

Question ID : 630680270332
 Option 1 ID : 6306801050523
 Option 2 ID : 6306801050525
 Option 3 ID : 6306801050524
 Option 4 ID : 6306801050522
 Status : Answered
 Chosen Option : 2

Q.19 निम्नलिखित में से किस लेखक ने 57वां ज्ञानपीठ पुरस्कार जीता?

- Ans 1. अनुराधा राय
2. तपन बंदोपाध्याय
3. दामोदर मौजो
4. बद्री नारायण

Question ID : 630680270335
 Option 1 ID : 6306801050534
 Option 2 ID : 6306801050537
 Option 3 ID : 6306801050536
 Option 4 ID : 6306801050535
 Status : Answered
 Chosen Option : 4

Q.20 भारतीय संविधान का कौन सा अनुच्छेद 'प्राण और दैहिक स्वतंत्रता का संरक्षण' से संबंधित है?

- Ans 1. अनुच्छेद 19
2. अनुच्छेद 20
3. अनुच्छेद 21
4. अनुच्छेद 22

Question ID : 630680270344
 Option 1 ID : 6306801050570
 Option 2 ID : 6306801050571
 Option 3 ID : 6306801050572
 Option 4 ID : 6306801050573
 Status : Answered
 Chosen Option : 3

Q.21 ऐसे जीव जिनकी कोशिकाओं में केन्द्रक झिल्ली नहीं होती है उन्हें _____ कहते हैं।

- Ans 1. यूकेरियोट
2. अकशेरुकी
3. प्रोकैरियोट
4. कशेरुकी

Question ID : 630680270348
 Option 1 ID : 6306801050588
 Option 2 ID : 6306801050587
 Option 3 ID : 6306801050589
 Option 4 ID : 6306801050586
 Status : Answered
 Chosen Option : 4

7/17/23, 12:23 PM

cdn.digialm.com//per/g01/pub/1258/touchstone/AssessmentQPHTMLMode1/1258O23340/1258O23340S1D333/168948790...

Q.22 भारत के निर्वाचन आयोग के संबंध में निम्नलिखित में से कौन सा/से कथन सही है/हैं?

I. भारत का निर्वाचन आयोग एक सदस्यीय या बहु-सदस्यीय भी हो सकता है।

II. 1993 तक, निर्वाचन आयोग एक सदस्यीय था।

- Ans
- 1. केवल II
 - 2. केवल I
 - 3. I और II दोनों
 - 4. न ही I न ही II

Question ID : 630680270347
 Option 1 ID : 6306801050583
 Option 2 ID : 6306801050582
 Option 3 ID : 6306801050584
 Option 4 ID : 6306801050585
 Status : Answered
 Chosen Option : 3

Q.23 जब पूर्ति वक्र दायीं ओर शिफ्ट होता है और मांग वक्र बायीं ओर शिफ्ट होता है, तो मात्रा पर प्रभाव _____ पर निर्भर करता है।

- Ans
- 1. कुछ उत्पादों की उपलब्धता
 - 2. उपभोक्ताओं के रुचियों तथा अधिमानों
 - 3. दोनों वक्रों में शिफ्ट के परिमाण
 - 4. आपूर्ति की कीमत लोच

Question ID : 630680270331
 Option 1 ID : 6306801050519
 Option 2 ID : 6306801050518
 Option 3 ID : 6306801050521
 Option 4 ID : 6306801050520
 Status : Answered
 Chosen Option : 2

Q.24 निम्नलिखित में से कौन सा भारतीय त्यौहार भैंस दौड़ के वार्षिक कार्यक्रम से जुड़ा है?

- Ans
- 1. जल्लीकट्टू
 - 2. कम्बाला
 - 3. बोनालू
 - 4. उगादी

Question ID : 630680270338
 Option 1 ID : 6306801050548
 Option 2 ID : 6306801050547
 Option 3 ID : 6306801050549
 Option 4 ID : 6306801050546
 Status : Answered
 Chosen Option : 1

7/17/23, 12:23 PM

cdn.digialm.com//per/g01/pub/1258/touchstone/AssessmentQPHTMLMode1/1258O23340/1258O23340S1D333/168948790...

Q.25 अगस्त 2022 में, निम्नलिखित में से किस राज्य/संघ राज्य क्षेत्र ने 'मेक इंडिया नंबर 1' मिशन शुरू किया?

- Ans 1. हरियाणा
 2. लद्दाख
 3. दिल्ली
 4. गुजरात

Question ID : 630680270329
 Option 1 ID : 6306801050510
 Option 2 ID : 6306801050513
 Option 3 ID : 6306801050511
 Option 4 ID : 6306801050512
 Status : Answered
 Chosen Option : 1

Section : Mathematics

Q.1 दीपक अकेले एक कार्य को 50 घंटे में कर सकता है। दीपक तथा राहुल मिलकर उसी कार्य को 40 घंटे में कर सकते हैं। राहुल तथा वरून मिलकर उसी कार्य को 25 घंटे में कर सकते हैं। वरून अकेले उसी कार्य को कितने घंटों में पूरा कर सकता है?

- Ans 1. 150/11 घंटे
 2. 100/7 घंटे
 3. 200/7 घंटे
 4. 200/9 घंटे

Question ID : 630680270366
 Option 1 ID : 6306801050659
 Option 2 ID : 6306801050661
 Option 3 ID : 6306801050660
 Option 4 ID : 6306801050658
 Status : Answered
 Chosen Option : 4

Q.2 350 मीटर लम्बे एक पुल के विपरीत छोरों पर दो लडके खड़े हुए हैं। यदि वे एक दूसरे की ओर क्रमशः 3 मीटर/मिनट तथा 4 मीटर/मिनट की गति से चलते हैं, तो वे कितने समय में एक दूसरे से मिलेंगे?

- Ans 1. 48 मिनट
 2. 40 मिनट
 3. 50 मिनट
 4. 45 मिनट

Question ID : 630680270363
 Option 1 ID : 6306801050648
 Option 2 ID : 6306801050646
 Option 3 ID : 6306801050649
 Option 4 ID : 6306801050647
 Status : Answered
 Chosen Option : 3

7/17/23, 12:23 PM

cdn.digialm.com//per/g01/pub/1258/touchstone/AssessmentQPHTMLMode1/1258O23340/1258O23340S1D333/168948790...

Q.3 जब एक संख्या को क्रमिक रूप से 15 प्रतिशत, 25 प्रतिशत तथा 18 प्रतिशत से कम किया जाता है, तो वह 6273 हो जाती है। वह संख्या क्या है?

- Ans** 1. 12000
 2. 18000
 3. 16000
 4. 14000

Question ID : 630680270354
Option 1 ID : 6306801050612
Option 2 ID : 6306801050610
Option 3 ID : 6306801050611
Option 4 ID : 6306801050613
Status : Answered
Chosen Option : 1

Q.4 एक शंकु जिसकी त्रिज्या 12 से.मी. तथा ऊँचाई 16 से.मी. है, का कुल पृष्ठीय क्षेत्रफल क्या है?

- Ans** 1. 1450.36 से.मी.²
 2. 1206.85 से.मी.²
 3. 1150.46 से.मी.²
 4. 1300.62 से.मी.²

Question ID : 630680270370
Option 1 ID : 6306801050677
Option 2 ID : 6306801050674
Option 3 ID : 6306801050675
Option 4 ID : 6306801050676
Status : Answered
Chosen Option : 2

Q.5 एक घनाकार कमरे में रखी जा सकने वाली सबसे लंबी छड़ की लंबाई $40\sqrt{3}$ से.मी. है। घन का आयतन क्या है?

- Ans** 1. 42875 से.मी.³
 2. 15625 से.मी.³
 3. 27000 से.मी.³
 4. 64000 से.मी.³

Question ID : 630680270373
Option 1 ID : 6306801050686
Option 2 ID : 6306801050688
Option 3 ID : 6306801050689
Option 4 ID : 6306801050687
Status : Answered
Chosen Option : 3

7/17/23, 12:23 PM

cdn.digialm.com//per/g01/pub/1258/touchstone/AssessmentQPHTMLMode1/1258O23340/1258O23340S1D333/168948790...

Q.6 एक व्यक्ति द्वारा 6 वर्षों में 1000 रुपये के मूलधन पर प्राप्त किया गया साधारण ब्याज मूलधन का 60 प्रतिशत है। ब्याज की वार्षिक दर क्या है?

- Ans
- 1. 5 प्रतिशत
 - 2. 8 प्रतिशत
 - 3. 9 प्रतिशत
 - 4. 10 प्रतिशत

Question ID : 630680270360

Option 1 ID : 6306801050634

Option 2 ID : 6306801050637

Option 3 ID : 6306801050635

Option 4 ID : 6306801050636

Status : Answered

Chosen Option : 4

Q.7 पाईप A तथा C साथ मिलकर एक टंकी को 30 घंटे में भर सकते हैं। पाईप C तथा D साथ मिलकर उसी टंकी को 15 घंटे में भर सकते हैं। पाईप A तथा D साथ मिलकर उसी टंकी को 20 घंटे में भर सकते हैं। पाईप C अकेले उसी टंकी को कितने घंटे में भर सकता है?

- Ans
- 1. 45 घंटे
 - 2. 70 घंटे
 - 3. 40 घंटे
 - 4. 55 घंटे

Question ID : 630680270367

Option 1 ID : 6306801050665

Option 2 ID : 6306801050662

Option 3 ID : 6306801050663

Option 4 ID : 6306801050664

Status : Answered

Chosen Option : 4

Q.8 एक निश्चित राशि पर 2 वर्ष तथा 3 वर्ष के पश्चात चक्रवृद्धि ब्याज (वार्षिक संयोजन पर) पर प्राप्त किया गया मिश्रधन क्रमशः 11520 रुपये तथा 13824 रुपये है। वह राशि क्या है?

- Ans
- 1. 6000 रुपये
 - 2. 8000 रुपये
 - 3. 9000 रुपये
 - 4. 7000 रुपये

Question ID : 630680270361

Option 1 ID : 6306801050638

Option 2 ID : 6306801050640

Option 3 ID : 6306801050639

Option 4 ID : 6306801050641

Status : Answered

Chosen Option : 3

7/17/23, 12:23 PM

cdn.digialm.com//per/g01/pub/1258/touchstone/AssessmentQPHTMLMode1/1258O23340/1258O23340S1D333/168948790...

Q.9 5 क्रमागत सम संख्याओं का औसत 7 है। यदि अगली सम संख्या को भी लिया जाए, तो नया औसत क्या होगा?

- Ans**
- 1. 8
 - 2. 9
 - 3. 43/6
 - 4. 47/6

Question ID : 630680270351
 Option 1 ID : 6306801050598
 Option 2 ID : 6306801050600
 Option 3 ID : 6306801050599
 Option 4 ID : 6306801050601
 Status : Answered
 Chosen Option : 4

Q.10 दो संख्याओं में से, छोटी संख्या का 56.2 प्रतिशत बड़ी संख्या के 11.24 प्रतिशत के बराबर है। यदि दोनों संख्याओं का योग 1200 है, तो बड़ी संख्या का मान क्या है?

- Ans**
- 1. 1000
 - 2. 750
 - 3. 800
 - 4. 900

Question ID : 630680270353
 Option 1 ID : 6306801050609
 Option 2 ID : 6306801050606
 Option 3 ID : 6306801050608
 Option 4 ID : 6306801050607
 Status : Answered
 Chosen Option : 2

Q.11 A तथा B की आय 5 : 7 के अनुपात में है तथा उनके व्यय 1 : 1 के अनुपात में है। यदि A, 2000 रुपये बचाता है तथा B, 4000 रुपये बचाता है, तो A की आय क्या होगी?

- Ans**
- 1. 5000 रुपये
 - 2. 7000 रुपये
 - 3. 6000 रुपये
 - 4. 8000 रुपये

Question ID : 630680270359
 Option 1 ID : 6306801050632
 Option 2 ID : 6306801050631
 Option 3 ID : 6306801050630
 Option 4 ID : 6306801050633
 Status : Answered
 Chosen Option : 3

Q.12 एक आयत की लम्बाई तथा चौड़ाई के बीच अंतर 18 मीटर है। यदि इसका परिमाप 144 मीटर है, तो आयत का क्षेत्रफल क्या होगा?

- Ans 1. 1215 मीटर²
 2. 1245 मीटर²
 3. 1150 मीटर²
 4. 1210 मीटर²

Question ID : 630680270368
 Option 1 ID : 6306801050669
 Option 2 ID : 6306801050666
 Option 3 ID : 6306801050667
 Option 4 ID : 6306801050668
 Status : Answered
 Chosen Option : 2

Q.13 एक पुरुष एक निश्चित दूरी के आधे भाग को 20 कि.मी./घंटा की गति से तय करता है। वह शेष दूरी को 60 प्रतिशत, 15 कि.मी./घंटा की गति से तय करता है तथा बची हुई दूरी को 10 कि.मी./घंटा की गति से तय करता है। संपूर्ण यात्रा के लिए उसकी औसत गति क्या है?

- Ans 1. 400/13 कि.मी./घंटा
 2. 200/13 कि.मी./घंटा
 3. 380/13 कि.मी./घंटा
 4. 120/13 कि.मी./घंटा

Question ID : 630680270352
 Option 1 ID : 6306801050602
 Option 2 ID : 6306801050604
 Option 3 ID : 6306801050605
 Option 4 ID : 6306801050603
 Status : Answered
 Chosen Option : 3

Q.14 एक पुरुष एक बिन्दु से 9:00 पूर्वाह्न पर 45 कि.मी./घंटा की गति से दौड़ना आरंभ करता है। दो घंटे पश्चात दूसरा पुरुष उसी बिंदु से समान दिशा में 60 कि.मी./घंटा की गति से दौड़ना आरंभ करता है। किस समय दूसरा पुरुष पहले पुरुष से 60 कि.मी. आगे होगा?

- Ans 1. 6:45 अपराह्न
 2. 9:00 अपराह्न
 3. 6:55 अपराह्न
 4. 8:00 अपराह्न

Question ID : 630680270364
 Option 1 ID : 6306801050650
 Option 2 ID : 6306801050652
 Option 3 ID : 6306801050651
 Option 4 ID : 6306801050653
 Status : Answered
 Chosen Option : 3

7/17/23, 12:23 PM

cdn.digialm.com//per/g01/pub/1258/touchstone/AssessmentQPHTMLMode1/1258O23340/1258O23340S1D333/168948790...

Q.15 X, Y तथा Z मिलकर एक कार्य को 25 दिनों में पूरा कर सकते हैं। X तथा Y मिलकर उसी कार्य को 50 दिनों में पूरा कर सकते हैं। Z अकेला उसी कार्य को कितने दिनों में पूरा कर सकता है?

- Ans 1. 42 दिन
 2. 50 दिन
 3. 45 दिन
 4. 35 दिन

Question ID : 630680270365
 Option 1 ID : 6306801050657
 Option 2 ID : 6306801050654
 Option 3 ID : 6306801050655
 Option 4 ID : 6306801050656
 Status : Answered
 Chosen Option : 2

Q.16 $(171 + 129)^2 - (171 - 129)^2$ का मान क्या है?

- Ans 1. 340×260
 2. 300×400
 3. 320×280
 4. 342×258

Question ID : 630680270349
 Option 1 ID : 6306801050591
 Option 2 ID : 6306801050593
 Option 3 ID : 6306801050592
 Option 4 ID : 6306801050590
 Status : Answered
 Chosen Option : 4

Q.17 एक व्यक्ति सामान दूरी की चार यात्राएं करता है। पहली यात्रा में उसकी गति 80 कि.मी./घंटा थी तथा अगली हर यात्रा में उसकी गति पिछली यात्रा की गति से आधी थी। इन चार यात्राओं में उस व्यक्ति की औसत गति क्या है?

- Ans 1. $64/3$ कि.मी./घंटा
 2. 24 कि.मी./घंटा
 3. 22 कि.मी./घंटा
 4. $43/2$ कि.मी./घंटा

Question ID : 630680270362
 Option 1 ID : 6306801050644
 Option 2 ID : 6306801050645
 Option 3 ID : 6306801050643
 Option 4 ID : 6306801050642
 Status : Answered
 Chosen Option : 3

Q.18 यदि एक गोले का त्रिज्य 35 से.मी. है, तो गोले का कुल पृष्ठीय क्षेत्रफल क्या है?

- Ans 1. 15400 से.मी.²
 2. 14300 से.मी.²
 3. 16500 से.मी.²
 4. 12000 से.मी.²

Question ID : 630680270369
 Option 1 ID : 6306801050672
 Option 2 ID : 6306801050671
 Option 3 ID : 6306801050670
 Option 4 ID : 6306801050673
 Status : Answered
 Chosen Option : 2

Q.19 एक व्यक्ति को एक बोटल 1350 रुपये में बेचने पर 25 प्रतिशत की हानि होती है। उसे 28 प्रतिशत का लाभ कमाने के लिए बोटल को किस मूल्य पर बेचना चाहिए?

- Ans 1. 2304 रुपये
 2. 1935 रुपये
 3. 1875 रुपये
 4. 2045 रुपये

Question ID : 630680270355
 Option 1 ID : 6306801050616
 Option 2 ID : 6306801050614
 Option 3 ID : 6306801050615
 Option 4 ID : 6306801050617
 Status : Answered
 Chosen Option : 1

Q.20 एक वस्तु को 30 प्रतिशत तथा 18 प्रतिशत की दो क्रमिक छूट देने के पश्चात 1722 रुपये में बेचा गया है। वस्तु का अंकित मूल्य क्या है?

- Ans 1. 3000 रुपये
 2. 3500 रुपये
 3. 2700 रुपये
 4. 3800 रुपये

Question ID : 630680270356
 Option 1 ID : 6306801050618
 Option 2 ID : 6306801050619
 Option 3 ID : 6306801050620
 Option 4 ID : 6306801050621
 Status : Answered
 Chosen Option : 1

Q.21 यदि $3M = 8N = 24P$ है, तो $M : N : P$ का मान क्या है?

- Ans 1. 7 : 5 : 1
 2. 6 : 3 : 1
 3. 5 : 2 : 1
 4. 8 : 3 : 1

Question ID : 630680270357
 Option 1 ID : 6306801050625
 Option 2 ID : 6306801050622
 Option 3 ID : 6306801050623
 Option 4 ID : 6306801050624
 Status : Answered
 Chosen Option : 4

Q.22 एक बेलन की त्रिज्या 42 से.मी. है। यदि बेलन की ऊँचाई उसकी त्रिज्या की दो गुना है, तो बेलन का वक्र पृष्ठीय क्षेत्रफल क्या है?

- Ans
- 1. 22220 से.मी.²
 - 2. 22198 से.मी.²
 - 3. 22176 से.मी.²
 - 4. 22154 से.मी.²

Question ID : 630680270371
 Option 1 ID : 6306801050679
 Option 2 ID : 6306801050681
 Option 3 ID : 6306801050680
 Option 4 ID : 6306801050678
 Status : Answered
 Chosen Option : 1

Q.23 तीन विभिन्न संख्याओं का लघुत्तम समापवर्त्य 180 है। निम्नलिखित में से कौन सा उनका महत्तम समापवर्तक नहीं हो सकता है?

- Ans
- 1. 5
 - 2. 6
 - 3. 10
 - 4. 25

Question ID : 630680270350
 Option 1 ID : 6306801050596
 Option 2 ID : 6306801050597
 Option 3 ID : 6306801050595
 Option 4 ID : 6306801050594
 Status : Answered
 Chosen Option : 4

Q.24 90 रुपये प्रति कि.ग्रा. मूल्य वाली चाय को 150 रुपये प्रति कि.ग्रा. मूल्य वाली चाय के साथ किस अनुपात में मिलाया जाए जिससे इस मिश्रण को 143 रुपये प्रति कि.ग्रा. का बेचने पर 30 प्रतिशत का लाभ हो?

- Ans
- 1. 4 : 1
 - 2. 3 : 1
 - 3. 2 : 1
 - 4. 5 : 1

Question ID : 630680270358
 Option 1 ID : 6306801050629
 Option 2 ID : 6306801050627
 Option 3 ID : 6306801050626
 Option 4 ID : 6306801050628
 Status : Answered
 Chosen Option : 2

7/17/23, 12:23 PM

cdn.digialm.com//per/g01/pub/1258/touchstone/AssessmentQPHTMLMode1/1258O23340/1258O23340S1D333/168948790...

Q.25 एक घन की भुजा की लंबाई 24 से.मी. है। घन का पार्श्व पृष्ठीय क्षेत्रफल क्या है?

- Ans
- 1. 4608 से.मी.²
 - 2. 1152 से.मी.²
 - 3. 2880 से.मी.²
 - 4. 2304 से.मी.²

Question ID : 630680270372

Option 1 ID : 6306801050685

Option 2 ID : 6306801050683

Option 3 ID : 6306801050684

Option 4 ID : 6306801050682

Status : Answered

Chosen Option : 4

Section : Reasoning

Q.1 नीचे दिए गए प्रश्न में, चार शब्द युग्म दिए गए हैं। (-) के बायीं ओर दिया गया शब्द (-) के दायीं ओर दिए गए शब्द से किसी तर्क/नियम/संबंध से संबंधित है। तीन उसी एक तर्क/नियम/संबंध के आधार पर समान है। दिए गए विकल्पों में से विषम को चुनिए। (दिए गए शब्द अर्थपूर्ण हैं)

- Ans
- 1. कुल्हाड़ी – लकड़हारा
 - 2. मूर्तिकार – छेनी
 - 3. लेखक – कलम
 - 4. चिकित्सक – स्टेथोस्कोप

Question ID : 630680270384

Option 1 ID : 6306801050733

Option 2 ID : 6306801050732

Option 3 ID : 6306801050730

Option 4 ID : 6306801050731

Status : Answered

Chosen Option : 3

Q.2 एक विशिष्ट कोड भाषा में, 'POLY' को 'JHFR' लिखा जाता है। इस कोड भाषा में 'HUNT' को किस प्रकार लिखा जाएगा?

- Ans
- 1. ZLKP
 - 2. BNHM
 - 3. YKJO
 - 4. ZLFK

Question ID : 630680270379

Option 1 ID : 6306801050710

Option 2 ID : 6306801050713

Option 3 ID : 6306801050712

Option 4 ID : 6306801050711

Status : Answered

Chosen Option : 2

Q.3 निम्नलिखित प्रश्न में दी गई श्रृंखला में से लुप्त अंक ज्ञात कीजिए।

111, 106, 113, 102, 115, ?, 117

- Ans
- 1. 102
 - 2. 95
 - 3. 100
 - 4. 98

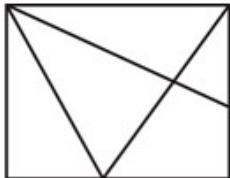
Question ID : 630680270397
 Option 1 ID : 6306801050785
 Option 2 ID : 6306801050784
 Option 3 ID : 6306801050782
 Option 4 ID : 6306801050783
 Status : Answered
 Chosen Option : 4

Q.4 यदि शब्द 'MORTEIN' के अक्षरों को अंग्रेजी वर्णमाला क्रम के अनुसार बाएं से दाएं की ओर व्यवस्थित किया जाए, तो मूल शब्द की तुलना में कितने अक्षरों का स्थान अपरिवर्तित रहेगा?

- Ans
- 1. एक
 - 2. कोई भी नहीं
 - 3. तीन
 - 4. दो

Question ID : 630680270374
 Option 1 ID : 6306801050693
 Option 2 ID : 6306801050692
 Option 3 ID : 6306801050691
 Option 4 ID : 6306801050690
 Status : Answered
 Chosen Option : 3

Q.5 दी गई आकृति में कितने त्रिभुज हैं?



- Ans
- 1. 7
 - 2. 9
 - 3. 6
 - 4. 8

Question ID : 630680270387
 Option 1 ID : 6306801050743
 Option 2 ID : 6306801050745
 Option 3 ID : 6306801050742
 Option 4 ID : 6306801050744
 Status : Answered
 Chosen Option : 2

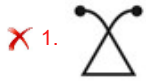
7/17/23, 12:23 PM

cdn.digialm.com//per/g01/pub/1258/touchstone/AssessmentQPHTMLMode1/1258O23340/1258O23340S1D333/168948790...

Q.6 कौन सी आकृति दी गई आकृतियों के समान है?



Ans



Question ID : 630680270393

Option 1 ID : 6306801050766

Option 2 ID : 6306801050767

Option 3 ID : 6306801050768

Option 4 ID : 6306801050769

Status : Answered

Chosen Option : 3

Q.7 दिए गए दो चिन्हों को आपस में परस्पर बदलने पर निम्नलिखित में से कौन सा समीकरण सही होगा?

+ तथा ÷

I. $62 \times 2 + 31 - 12 \div 6 = -2$

II. $84 \div 39 + 3 \times 4 - 16 = 118$

Ans ✗ 1. ना ही I ना ही II

✗ 2. I तथा II दोनों

✗ 3. केवल II

✓ 4. केवल I

Question ID : 630680270395

Option 1 ID : 6306801050777

Option 2 ID : 6306801050776

Option 3 ID : 6306801050775

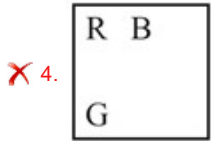
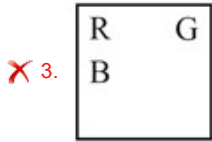
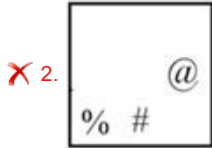
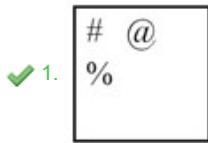
Option 4 ID : 6306801050774

Status : Answered

Chosen Option : 1

Q.8 निम्नलिखित प्रश्न में, दिए गए विकल्पों में से विषम आकृति को चुनिए।

Ans



Question ID : 630680270394
 Option 1 ID : 6306801050772
 Option 2 ID : 6306801050770
 Option 3 ID : 6306801050773
 Option 4 ID : 6306801050771
 Status : Answered
 Chosen Option : 4

Q.9 निम्नलिखित प्रश्न में अक्षर समूहों के समूह दिए गये हैं। प्रत्येक समूह के अक्षर समूह किसी न किसी तर्क/नियम/संबंध द्वारा उसी समूह के अन्य अक्षर समूहों से संबंधित हैं। दिए गए विकल्पों में से अक्षर समूहों के उस समूह का चयन करें जो समान तर्क/नियम/संबंध का अनुसरण करता हो।

(STQ, NQP, MNK) (ABC, ZYX, UVW)

Ans

✓ 1. (LQE, BNI, FKY)

✗ 2. (GMT, QJD, AGM)

✗ 3. (WRC, ZNT, QKW)

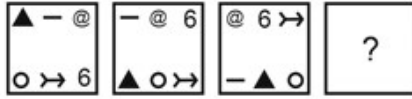
✗ 4. (KSB, YPH, FMV)

Question ID : 630680270381
 Option 1 ID : 6306801050721
 Option 2 ID : 6306801050720
 Option 3 ID : 6306801050719
 Option 4 ID : 6306801050718
 Status : Answered
 Chosen Option : 4

7/17/23, 12:23 PM

cdn.digialm.com//per/g01/pub/1258/touchstone/AssessmentQPHTMLMode1/1258O23340/1258O23340S1D333/168948790...

Q.10 निम्नलिखित प्रश्न में, दिए गए विकल्पों में से प्रश्न चिन्ह (?) के स्थान पर आने वाली आकृति को चुनिए।



Ans

✓ 1.



✗ 2.



✗ 3.



✗ 4.



Question ID : 630680270386

Option 1 ID : 6306801050739

Option 2 ID : 6306801050740


Option 3 ID : 6306801050741

Option 4 ID : 6306801050738

Status : Answered

Chosen Option : 1

Q.11 दी गई आकृति में कितने आयत हैं?



Ans ✗ 1. 12

✗ 2. 15

✓ 3. 14

✗ 4. 13

Question ID : 630680270388

Option 1 ID : 6306801050746

Option 2 ID : 6306801050748

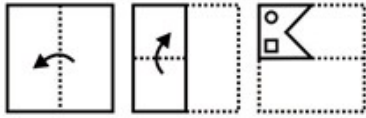
Option 3 ID : 6306801050747

Option 4 ID : 6306801050749

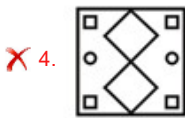
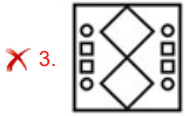
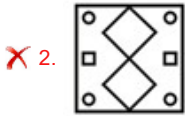
Status : Answered

Chosen Option : 3

Q.12 नीचे की प्रश्न आकृतियों में दिखाए गए अनुसार कागज को मोड़कर छेदने तथा खोलने के बाद वह किस विकल्प आकृति जैसा दिखाई देगा?



Ans



Question ID : 630680270391

Option 1 ID : 6306801050759

Option 2 ID : 6306801050760

Option 3 ID : 6306801050758

Option 4 ID : 6306801050761

Status : Answered

Chosen Option : 1

Q.13 एक विशिष्ट कोड भाषा में, 'FRGHK' को 'DAZKY' लिखा जाता है, 'AXRMB' को 'UFKQT' लिखा जाता है। इस कोड भाषा में 'BROWN' को किस प्रकार लिखा जाएगा?

Ans ✗ 1. GPLKU

✗ 2. GHLKU

✗ 3. GRHKU

✓ 4. GPHKU

Question ID : 630680270380

Option 1 ID : 6306801050714

Option 2 ID : 6306801050716

Option 3 ID : 6306801050715

Option 4 ID : 6306801050717

Status : Answered

Chosen Option : 4

Q.14 $\sqrt{325.08} \times 9.906 + 14.27\%$ of $343 + 13.86 \times 11.23$ का सन्निकट मान क्या है?

- Ans
- 1. 321
 - 2. 421
 - 3. 484
 - 4. 383

Question ID : 630680270396
 Option 1 ID : 6306801050779
 Option 2 ID : 6306801050781
 Option 3 ID : 6306801050780
 Option 4 ID : 6306801050778
 Status : Answered
 Chosen Option : 2

Q.15 निम्नलिखित प्रश्न में, दिए गए विकल्पों में से प्रश्न चिन्ह (?) के स्थान पर आने वाली आकृति को चुनिए।



Ans

- 1.
- 2.
- 3.
- 4.

Question ID : 630680270385
 Option 1 ID : 6306801050734
 Option 2 ID : 6306801050735
 Option 3 ID : 6306801050736
 Option 4 ID : 6306801050737
 Status : Answered
 Chosen Option : 3

Q.16 शब्द 'CJLCULSTOR' में अक्षरों को अंग्रेजी वर्णमाला क्रम के अनुसार पिछले अक्षर से बदल दिया जाता है। नवगठित शब्द में बायें से दूसरे अक्षर के दायें ओर सातवा अक्षर क्या होगा?

- Ans
- 1. Q
 - 2. K
 - 3. N
 - 4. S

Question ID : 630680270375
 Option 1 ID : 6306801050696
 Option 2 ID : 6306801050695
 Option 3 ID : 6306801050694
 Option 4 ID : 6306801050697
 Status : Answered
 Chosen Option : 3

Q.17 नीचे दी गई स्ट्रिंग पर विचार करें जो अक्षरों से बनी है। कितने स्वरों के ठीक पहले एक व्यंजन है?

KWLUJFISFGUDHTOIJCEUBDIXMNGU

- Ans
- 1. नौ
 - 2. आठ
 - 3. सात
 - 4. पाँच

Question ID : 630680270376
 Option 1 ID : 6306801050699
 Option 2 ID : 6306801050698
 Option 3 ID : 6306801050700
 Option 4 ID : 6306801050701
 Status : Answered
 Chosen Option : 4

Q.18 निम्नलिखित प्रश्न में अक्षर समूहों के समूह दिए गये हैं। प्रत्येक समूह के अक्षर समूह किसी न किसी तर्क/नियम/संबंध द्वारा उसी समूह के अन्य अक्षर समूहों से संबंधित हैं। दिए गए विकल्पों में से अक्षर समूहों के उस समूह का चयन करें जो समान तर्क/नियम/संबंध का अनुसरण करता हो।

(AL, ET, IB) (BH, FP, JX)

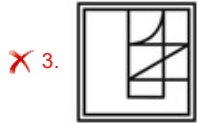
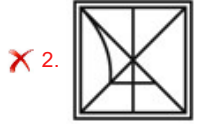
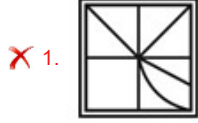
- Ans
- 1. (BD, FL, KT)
 - 2. (RS, VB, ZJ)
 - 3. (PA, TI, XR)
 - 4. (HM, LU, PC)

Question ID : 630680270382
 Option 1 ID : 6306801050724
 Option 2 ID : 6306801050722
 Option 3 ID : 6306801050723
 Option 4 ID : 6306801050725
 Status : Answered
 Chosen Option : 4

Q.19 दी गई विकल्प आकृतियों में से उस आकृति को चुनिए जिस में प्रश्न आकृति निहित है।



Ans



Question ID : 630680270392
Option 1 ID : 6306801050763
Option 2 ID : 6306801050764
Option 3 ID : 6306801050762
Option 4 ID : 6306801050765
Status : Answered
Chosen Option : 4

Q.20 निम्नलिखित प्रश्न में चार अक्षर युग्म दिए गए हैं। (-) के बायीं ओर के अक्षर (-) के दायीं ओर के अक्षरों से कुछ तर्क/नियम/संबंध से संबंधित है। उनमें से तीन समान तर्क/नियम/संबंध के आधार पर समान हैं। दिए गए विकल्पों में से विषम को चुनिए।

Ans ✓ 1. ORB – GWS

✗ 2. BHS – XMG

✗ 3. ANJ – OSF

✗ 4. HRV – AWM

Question ID : 630680270383
Option 1 ID : 6306801050729
Option 2 ID : 6306801050728
Option 3 ID : 6306801050727
Option 4 ID : 6306801050726
Status : Answered
Chosen Option : 3

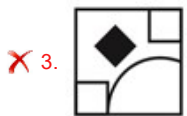
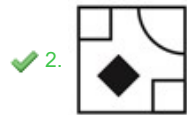
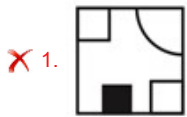
7/17/23, 12:23 PM

cdn.digialm.com//per/g01/pub/1258/touchstone/AssessmentQPHTMLMode1/1258O23340/1258O23340S1D333/168948790...

Q.21 कौन सी उत्तर आकृति प्रश्न आकृति के प्रतिरूप को पूरा करेगी?



Ans



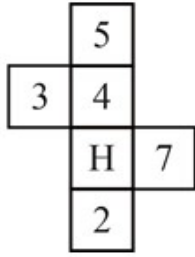
Question ID : 630680270389
Option 1 ID : 6306801050751
Option 2 ID : 6306801050752
Option 3 ID : 6306801050753
Option 4 ID : 6306801050750
Status : Answered
Chosen Option : 2

Q.22 'J + R' का अर्थ 'J, R का पिता है', 'J - R' का अर्थ 'J, R की माता है', 'J ÷ R' का अर्थ 'J, R का पुत्र है' तथा 'J × R' का अर्थ 'J, R का भाई है'। यदि $S + M \times T \div F - K$ है, तो S, K से किस प्रकार संबंधित है?

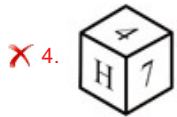
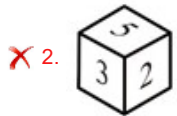
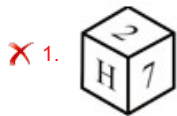
- Ans
- ✗ 1. भाई
 - ✗ 2. ससुर
 - ✗ 3. माता का भाई
 - ✓ 4. पिता

Question ID : 630680270377
Option 1 ID : 6306801050704
Option 2 ID : 6306801050705
Option 3 ID : 6306801050703
Option 4 ID : 6306801050702
Status : Answered
Chosen Option : 2

Q.23 दिए गए कागज को मोड़ने पर, निम्नलिखित में से कौन सा बक्सा नहीं बनाया जा सकता है?



Ans



Question ID : 630680270390
 Option 1 ID : 6306801050754
 Option 2 ID : 6306801050755
 Option 3 ID : 6306801050757
 Option 4 ID : 6306801050756
 Status : Answered
 Chosen Option : 1

Q.24 'T + M' का अर्थ है 'M, T की बहन है', 'T @ M' का अर्थ 'M, T का पुत्र है' तथा 'T # M' का अर्थ 'M, T का पति है'। यदि A # J @ K + R + G है, तो G, J से किस प्रकार संबंधित है?

- Ans ✓ 1. पुत्री
 ✗ 2. बहु
 ✗ 3. माता
 ✗ 4. बहन

Question ID : 630680270378
 Option 1 ID : 6306801050709
 Option 2 ID : 6306801050707
 Option 3 ID : 6306801050708
 Option 4 ID : 6306801050706
 Status : Answered
 Chosen Option : 2

7/17/23, 12:23 PM

cdn.digialm.com//per/g01/pub/1258/touchstone/AssessmentQPHTMLMode1/1258O23340/1258O23340S1D333/168948790...

Q.25 निम्नलिखित प्रश्न में दी गई श्रृंखला में से लुप्त अंक ज्ञात कीजिए।

71, 70, 74, 47, 63, ?, -26

- Ans 1. -60
 2. -64
 3. -62
 4. -65

Question ID : 630680270398
Option 1 ID : 6306801050788
Option 2 ID : 6306801050789
Option 3 ID : 6306801050787
Option 4 ID : 6306801050786
Status : Answered
Chosen Option : 3

Section : General English

Q.1 A sentence has been given with a blank to be filled with an appropriate option. Choose the correct alternative.

Some countries have secured _____ vaccine doses than their populations need.

- Ans 1. most
 2. many
 3. more
 4. much

Question ID : 630680270403
Option 1 ID : 6306801050809
Option 2 ID : 6306801050806
Option 3 ID : 6306801050807
Option 4 ID : 6306801050808
Status : Not Answered
Chosen Option : --

Q.2 Choose the word that is opposite in meaning to the given word.

Accidental

- Ans 1. Random
 2. Deliberate
 3. Arbitrary
 4. Desultory

Question ID : 630680270414
Option 1 ID : 6306801050850
Option 2 ID : 6306801050853
Option 3 ID : 6306801050851
Option 4 ID : 6306801050852
Status : Not Answered
Chosen Option : --

Q.3 Choose the incorrectly spelt word.

- Ans** 1. Motif
 2. Gaudy
 3. Impressoin
 4. Happiness

Question ID : **630680270417**
Option 1 ID : **6306801050865**
Option 2 ID : **6306801050864**
Option 3 ID : **6306801050863**
Option 4 ID : **6306801050862**
Status : **Not Answered**
Chosen Option : --

Q.4 A sentence has been given with a blank to be filled with an appropriate option. Choose the correct alternative.

I have _____ soft spot for your elder sister.

- Ans** 1. No article
 2. the
 3. a
 4. an

Question ID : **630680270399**
Option 1 ID : **6306801050791**
Option 2 ID : **6306801050790**
Option 3 ID : **6306801050793**
Option 4 ID : **6306801050792**
Status : **Not Answered**
Chosen Option : --

Q.5 In the following question, out of the given four alternatives, select the alternative which best expresses the meaning of the Idiom/Phrase.

Give a wide berth

- Ans** 1. To practice nepotism
 2. Give a second chance
 3. Stay away from someone or something
 4. Share a shocking news

Question ID : **630680270410**
Option 1 ID : **6306801050834**
Option 2 ID : **6306801050836**
Option 3 ID : **6306801050835**
Option 4 ID : **6306801050837**
Status : **Not Answered**
Chosen Option : --

7/17/23, 12:23 PM

cdn.digialm.com//per/g01/pub/1258/touchstone/AssessmentQPHTMLMode1/1258O23340/1258O23340S1D333/168948790...

Q.6 In the following question, out of the given four alternatives, select the alternative which best expresses the meaning of the Idiom/Phrase.

Bet one's boots

- Ans** 1. To get involved in a fight
 2. To do nothing or being inactive
 3. To ignore someone
 4. To be sure or certain

Question ID : 630680270409
Option 1 ID : 6306801050830
Option 2 ID : 6306801050833
Option 3 ID : 6306801050831
Option 4 ID : 6306801050832
Status : Not Answered
Chosen Option : --

Q.7 A sentence has been given with a blank to be filled with an appropriate option. Choose the correct alternative.

Most of my teaching has taken place in _____ UK.

- Ans** 1. an
 2. a
 3. No article
 4. the

Question ID : 630680270400
Option 1 ID : 6306801050795
Option 2 ID : 6306801050797
Option 3 ID : 6306801050794
Option 4 ID : 6306801050796
Status : Not Answered
Chosen Option : --

Q.8 Choose the correct spelling of the underlined word. If the given spelling is correct, choose 'no correction'.

My wife and infant were acompanying my nieces.

- Ans** 1. accompnying
 2. accompanying
 3. No correction
 4. accompanying

Question ID : 630680270418
Option 1 ID : 6306801050868
Option 2 ID : 6306801050866
Option 3 ID : 6306801050869
Option 4 ID : 6306801050867
Status : Not Answered
Chosen Option : --

Q.9 Choose the word that can substitute the given group of words.

A large crowd of people

- Ans** 1. Flock
 2. Swarm
 3. Pack
 4. Throng

Question ID : **630680270408**
Option 1 ID : **6306801050828**
Option 2 ID : **6306801050829**
Option 3 ID : **6306801050827**
Option 4 ID : **6306801050826**
Status : **Not Answered**
Chosen Option : --

Q.10 Choose the word that can substitute the given group of words.

One who holds a post without any salary

- Ans** 1. Honorary
 2. Lecher
 3. Pedestrian
 4. Itinerant

Question ID : **630680270407**
Option 1 ID : **6306801050823**
Option 2 ID : **6306801050824**
Option 3 ID : **6306801050822**
Option 4 ID : **6306801050825**
Status : **Not Answered**
Chosen Option : --

Q.11 Choose the word that is opposite in meaning to the given word.

Absolute

- Ans** 1. Imperious
 2. Pure
 3. Limited
 4. Classic

Question ID : **630680270413**
Option 1 ID : **6306801050849**
Option 2 ID : **6306801050846**
Option 3 ID : **6306801050848**
Option 4 ID : **6306801050847**
Status : **Not Answered**
Chosen Option : --

Q.12 Find the part of the given sentence that has an error in it. If there is no error, choose 'No error'.

They had laughed when / Paul have brought forth crumbled / sugar cubes from his coat pocket./ No error

- Ans** 1. No error
 2. sugar cubes from his coat pocket.
 3. Paul have brought forth crumbled
 4. They had laughed when

Question ID : **630680270406**
Option 1 ID : **6306801050821**
Option 2 ID : **6306801050820**
Option 3 ID : **6306801050819**
Option 4 ID : **6306801050818**
Status : **Not Answered**
Chosen Option : --

Q.13 Find the part of the given sentence that has an error in it. If there is no error, choose 'No error'.

The nurse did gave her / an update each day, and / it was always the same./ No error

- Ans** 1. it was always the same.
 2. The nurse did gave her
 3. an update each day, and
 4. No error

Question ID : **630680270405**
Option 1 ID : **6306801050816**
Option 2 ID : **6306801050814**
Option 3 ID : **6306801050815**
Option 4 ID : **6306801050817**
Status : **Not Answered**
Chosen Option : --

Q.14 A sentence has been given with a blank to be filled with an appropriate option. Choose the correct alternative.

Many goods come _____ through the port of Lagos.

- Ans** 1. on
 2. of
 3. off
 4. in

Question ID : **630680270402**
Option 1 ID : **6306801050804**
Option 2 ID : **6306801050802**
Option 3 ID : **6306801050805**
Option 4 ID : **6306801050803**
Status : **Not Answered**
Chosen Option : --

7/17/23, 12:23 PM

cdn.digialm.com//per/g01/pub/1258/touchstone/AssessmentQPHTMLMode1/1258O23340/1258O23340S1D333/168948790...

Q.15 Choose the word that means the same as the given word.

Facsimile

- Ans** 1. Archetype
 2. Veneer
 3. Façade
 4. Doppelganger

Question ID : 630680270415
Option 1 ID : 6306801050856
Option 2 ID : 6306801050857
Option 3 ID : 6306801050854
Option 4 ID : 6306801050855
Status : Not Answered
Chosen Option : --

Q.16 Choose the word that means the same as the given word.

Verity

- Ans** 1. Flimsy
 2. Fallacy
 3. Facticity
 4. Erroneousness

Question ID : 630680270416
Option 1 ID : 6306801050860
Option 2 ID : 6306801050861
Option 3 ID : 6306801050858
Option 4 ID : 6306801050859
Status : Not Answered
Chosen Option : --

Q.17 Choose the phrase or idiom that best defines the highlighted set of words.

Everyone was instructed to remain patient while the policeman inspected the crash site.

- Ans** 1. To hold the horses
 2. To spill the beans
 3. To see eye to eye
 4. To hit the books

Question ID : 630680270411
Option 1 ID : 6306801050838
Option 2 ID : 6306801050840
Option 3 ID : 6306801050841
Option 4 ID : 6306801050839
Status : Not Answered
Chosen Option : --

Q.18 Find the part of the given sentence that has an error in it. If there is no error, choose 'No error'.

She turned the box / over and run her / hand around the edges. / No error

- Ans
- 1. hand around the edges.
 - 2. She turned the box
 - 3. No error
 - 4. over and run her

Question ID : 630680270404
Option 1 ID : 6306801050812
Option 2 ID : 6306801050810
Option 3 ID : 6306801050813
Option 4 ID : 6306801050811
Status : Not Answered
Chosen Option : --

Q.19 Choose the phrase or idiom that best defines the highlighted set of words.

I think we all need to relax in order to regain some energy to do this work.

- Ans
- 1. Keep one's chin up
 - 2. Get off someone's back
 - 3. Recharge one's batteries
 - 4. Drive a hard bargain

Question ID : 630680270412
Option 1 ID : 6306801050844
Option 2 ID : 6306801050843
Option 3 ID : 6306801050845
Option 4 ID : 6306801050842
Status : Not Answered
Chosen Option : --

Q.20 A sentence has been given with a blank to be filled with an appropriate option. Choose the correct alternative.

The _____ you will work in this company, _____ harder it will become to leave.

- Ans
- 1. long, the
 - 2. long, a
 - 3. longest, a
 - 4. longer, the

Question ID : 630680270401
Option 1 ID : 6306801050799
Option 2 ID : 6306801050798
Option 3 ID : 6306801050801
Option 4 ID : 6306801050800
Status : Not Answered
Chosen Option : --

Comprehension:

Read the following information carefully and answer the given questions.

Approximately 67 miles (107 km) to the north of Aurangabad in the Indhyadri range of Western Ghats lie the caves of Ajanta. The 30 caves, famous for their early Buddhist temple architecture and many delicately drawn murals, are located in a 76 m high, horseshoe-shaped escarpment overlooking the Waghora (tiger) River. The river originates from a picturesque waterfall called sat kund (seven leaps) just off the last cave. It serves as a potent reminder of the natural forces that over untold eons have shaped the basaltic layers of the Deccan plateau. Also, a part of the Gautala Wildlife Sanctuary, this primordial landscape provides a fitting background to one of the finest collections of paintings from India's antiquity. Accorded UNESCO World Heritage site status in 1983 CE, the ancient name of the site is untraceable today. Its current name is derived from a neighbouring village, the local pronunciation of which is Ajintha.

The period of excavation (used as synonymous to the carving of the caves) can be divided into two broad phases. The earliest caves, belonging to the Hinayana phase of Buddhism, can be roughly traced back to the 2nd century BCE, with its period of activity continuing to around the 1st century CE during the rule of Satavahana Dynasty (2nd century BCE – 2nd century CE). The later phase of activities, between 5th and 6th century CE, largely took place under the patronage of the Vakataka dynasty (3rd century – 5th century CE).

The excavation and creation of the caves seem to have been a more community effort in the earlier phase. Group efforts contributed to the building of various parts of the caves, from the facades to single cells. Later, however, construction was marked by sponsorship from influential patrons and local feudatories.

SubQuestion No : 21

Q.21 The period of excavation of the Ajanta caves can be divided into how many phases?

- Ans 1. Four
 2. Two
 3. Three
 4. Five

Question ID : 630680270421
Option 1 ID : 6306801050876
Option 2 ID : 6306801050874
Option 3 ID : 6306801050875
Option 4 ID : 6306801050877
Status : Not Answered
Chosen Option : --

7/17/23, 12:23 PM

cdn.digialm.com//per/g01/pub/1258/touchstone/AssessmentQPHTMLMode1/1258O23340/1258O23340S1D333/168948790...

Comprehension:

Read the following information carefully and answer the given questions.

Approximately 67 miles (107 km) to the north of Aurangabad in the Indhyadri range of Western Ghats lie the caves of Ajanta. The 30 caves, famous for their early Buddhist temple architecture and many delicately drawn murals, are located in a 76 m high, horseshoe-shaped escarpment overlooking the Waghora (tiger) River. The river originates from a picturesque waterfall called sat kund (seven leaps) just off the last cave. It serves as a potent reminder of the natural forces that over untold eons have shaped the basaltic layers of the Deccan plateau. Also, a part of the Gautala Wildlife Sanctuary, this primordial landscape provides a fitting background to one of the finest collections of paintings from India's antiquity. Accorded UNESCO World Heritage site status in 1983 CE, the ancient name of the site is untraceable today. Its current name is derived from a neighbouring village, the local pronunciation of which is Ajintha.

The period of excavation (used as synonymous to the carving of the caves) can be divided into two broad phases. The earliest caves, belonging to the Hinayana phase of Buddhism, can be roughly traced back to the 2nd century BCE, with its period of activity continuing to around the 1st century CE during the rule of Satavahana Dynasty (2nd century BCE – 2nd century CE). The later phase of activities, between 5th and 6th century CE, largely took place under the patronage of the Vakataka dynasty (3rd century – 5th century CE).

The excavation and creation of the caves seem to have been a more community effort in the earlier phase. Group efforts contributed to the building of various parts of the caves, from the facades to single cells. Later, however, construction was marked by sponsorship from influential patrons and local feudatories.

SubQuestion No : 22

Q.22 Which of the following words is opposite in meaning to the word 'potent' as used in the passage?

- Ans**
- 1. Mighty
 - 2. Concentrated
 - 3. Undiluted
 - 4. Frail

Question ID : **630680270424**
Option 1 ID : **6306801050887**
Option 2 ID : **6306801050889**
Option 3 ID : **6306801050886**
Option 4 ID : **6306801050888**
Status : **Not Answered**
Chosen Option : --

Comprehension:

Read the following information carefully and answer the given questions.

Approximately 67 miles (107 km) to the north of Aurangabad in the Indhyadri range of Western Ghats lie the caves of Ajanta. The 30 caves, famous for their early Buddhist temple architecture and many delicately drawn murals, are located in a 76 m high, horseshoe-shaped escarpment overlooking the Waghora (tiger) River. The river originates from a picturesque waterfall called sat kund (seven leaps) just off the last cave. It serves as a potent reminder of the natural forces that over untold eons have shaped the basaltic layers of the Deccan plateau. Also, a part of the Gautala Wildlife Sanctuary, this primordial landscape provides a fitting background to one of the finest collections of paintings from India's antiquity. Accorded UNESCO World Heritage site status in 1983 CE, the ancient name of the site is untraceable today. Its current name is derived from a neighbouring village, the local pronunciation of which is Ajintha.

The period of excavation (used as synonymous to the carving of the caves) can be divided into two broad phases. The earliest caves, belonging to the Hinayana phase of Buddhism, can be roughly traced back to the 2nd century BCE, with its period of activity continuing to around the 1st century CE during the rule of Satavahana Dynasty (2nd century BCE – 2nd century CE). The later phase of activities, between 5th and 6th century CE, largely took place under the patronage of the Vakataka dynasty (3rd century – 5th century CE).

The excavation and creation of the caves seem to have been a more community effort in the earlier phase. Group efforts contributed to the building of various parts of the caves, from the facades to single cells. Later, however, construction was marked by sponsorship from influential patrons and local feudatories.

SubQuestion No : 23

Q.23 According to the given passage, which of the following statements is NOT correct?

- Ans** 1. Group efforts contributed to the building of various parts of the Ajanta caves.
 2. There are total 30 Ajanta caves.
 3. The Ajanta caves follow the Buddhist temple architecture.
 4. The earliest caves, belonged to the Vajrayana phase of Buddhism.

Question ID : **630680270422**
Option 1 ID : **6306801050879**
Option 2 ID : **6306801050880**
Option 3 ID : **6306801050878**
Option 4 ID : **6306801050881**
Status : **Not Answered**
Chosen Option : --

Comprehension:

Read the following information carefully and answer the given questions.

Approximately 67 miles (107 km) to the north of Aurangabad in the Indhyadri range of Western Ghats lie the caves of Ajanta. The 30 caves, famous for their early Buddhist temple architecture and many delicately drawn murals, are located in a 76 m high, horseshoe-shaped escarpment overlooking the Waghora (tiger) River. The river originates from a picturesque waterfall called sat kund (seven leaps) just off the last cave. It serves as a potent reminder of the natural forces that over untold eons have shaped the basaltic layers of the Deccan plateau. Also, a part of the Gautala Wildlife Sanctuary, this primordial landscape provides a fitting background to one of the finest collections of paintings from India's antiquity. Accorded UNESCO World Heritage site status in 1983 CE, the ancient name of the site is untraceable today. Its current name is derived from a neighbouring village, the local pronunciation of which is Ajintha.

The period of excavation (used as synonymous to the carving of the caves) can be divided into two broad phases. The earliest caves, belonging to the Hinayana phase of Buddhism, can be roughly traced back to the 2nd century BCE, with its period of activity continuing to around the 1st century CE during the rule of Satavahana Dynasty (2nd century BCE – 2nd century CE). The later phase of activities, between 5th and 6th century CE, largely took place under the patronage of the Vakataka dynasty (3rd century – 5th century CE).

The excavation and creation of the caves seem to have been a more community effort in the earlier phase. Group efforts contributed to the building of various parts of the caves, from the facades to single cells. Later, however, construction was marked by sponsorship from influential patrons and local feudatories.

SubQuestion No : 24

Q.24 The given passage mainly talks about _____.

- Ans**
- 1. the Indhyadri range of Western Ghats
 - 2. creation of caves
 - 3. Ajanta caves and their period of excavation
 - 4. excavation of different caves in India

Question ID : **630680270420**
Option 1 ID : **6306801050873**
Option 2 ID : **6306801050870**
Option 3 ID : **6306801050871**
Option 4 ID : **6306801050872**
Status : **Not Answered**
Chosen Option : --

Comprehension:

Read the following information carefully and answer the given questions.

Approximately 67 miles (107 km) to the north of Aurangabad in the Indhyadri range of Western Ghats lie the caves of Ajanta. The 30 caves, famous for their early Buddhist temple architecture and many delicately drawn murals, are located in a 76 m high, horseshoe-shaped escarpment overlooking the Waghora (tiger) River. The river originates from a picturesque waterfall called sat kund (seven leaps) just off the last cave. It serves as a potent reminder of the natural forces that over untold eons have shaped the basaltic layers of the Deccan plateau. Also, a part of the Gautala Wildlife Sanctuary, this primordial landscape provides a fitting background to one of the finest collections of paintings from India's antiquity. Accorded UNESCO World Heritage site status in 1983 CE, the ancient name of the site is untraceable today. Its current name is derived from a neighbouring village, the local pronunciation of which is Ajintha.

The period of excavation (used as synonymous to the carving of the caves) can be divided into two broad phases. The earliest caves, belonging to the Hinayana phase of Buddhism, can be roughly traced back to the 2nd century BCE, with its period of activity continuing to around the 1st century CE during the rule of Satavahana Dynasty (2nd century BCE – 2nd century CE). The later phase of activities, between 5th and 6th century CE, largely took place under the patronage of the Vakataka dynasty (3rd century – 5th century CE).

The excavation and creation of the caves seem to have been a more community effort in the earlier phase. Group efforts contributed to the building of various parts of the caves, from the facades to single cells. Later, however, construction was marked by sponsorship from influential patrons and local feudatories.

SubQuestion No : 25

Q.25 The current name of Ajanta caves is derived from a _____.

- Ans**
- 1. ruler's name
 - 2. Buddhist policy
 - 3. neighbouring village
 - 4. famous battle

Question ID : **630680270423**
 Option 1 ID : **6306801050884**
 Option 2 ID : **6306801050882**
 Option 3 ID : **6306801050883**
 Option 4 ID : **6306801050885**
 Status : **Not Answered**
 Chosen Option : --

Section : **General Hindi**

Q.1 राजसभा का समास-विग्रह ज्ञात कीजिए।

- Ans**
- 1. सभा का राज
 - 2. सभा की राजता
 - 3. राजा है जो सभा
 - 4. राजा की सभा

Question ID : **630680270441**
 Option 1 ID : **6306801050954**
 Option 2 ID : **6306801050956**
 Option 3 ID : **6306801050955**
 Option 4 ID : **6306801050957**
 Status : **Answered**
 Chosen Option : **4**

Q.2 दिए गए शब्द के अनेकार्थी शब्द ज्ञात कीजिए।

तंत्र

- Ans 1. तारा
 2. उपासना
 3. बाण
 4. विचार

Question ID : 630680270429
Option 1 ID : 6306801050907
Option 2 ID : 6306801050906
Option 3 ID : 6306801050909
Option 4 ID : 6306801050908
Status : Answered
Chosen Option : 1

Q.3 दिए गए वाक्यांश के लिए सार्थक शब्द ज्ञात कीजिए।

किसी भाषा की विचारधारा को दूसरे भाषा में व्यक्त करना।

- Ans 1. अनिकेत
 2. अनादि
 3. अनुयायी
 4. अनुवाद

Question ID : 630680270437
Option 1 ID : 6306801050941
Option 2 ID : 6306801050939
Option 3 ID : 6306801050940
Option 4 ID : 6306801050938
Status : Answered
Chosen Option : 4

Q.4 दिए गए शब्द युग्म का अर्थ ज्ञात कीजिए।

इत्र – इतर

- Ans 1. दुर्गंध और दूसरा
 2. सुगंध और बिखरना
 3. सुगंध और गीला
 4. सुगंध और दूसरा

Question ID : 630680270431
Option 1 ID : 6306801050914
Option 2 ID : 6306801050915
Option 3 ID : 6306801050917
Option 4 ID : 6306801050916
Status : Answered
Chosen Option : 4

Q.5 दिए गए शब्द का पर्यायवाची ज्ञात कीजिए।

कुसुम

- Ans 1. पुष्प
 2. वृक्ष
 3. अनोखा
 4. मलिन

Question ID : 630680270426
Option 1 ID : 6306801050894
Option 2 ID : 6306801050896
Option 3 ID : 6306801050897
Option 4 ID : 6306801050895
Status : Answered
Chosen Option : 1

Q.6 दिए गए शब्द का प्रयुक्त संधि-विच्छेद ज्ञात कीजिए।

सयुंक्त

- Ans 1. सयुं + क्त
 2. सयु + अकंत
 3. सय + उक्त
 4. सम् + युक्त

Question ID : 630680270444
Option 1 ID : 6306801050966
Option 2 ID : 6306801050967
Option 3 ID : 6306801050969
Option 4 ID : 6306801050968
Status : Answered
Chosen Option : 4

Q.7 विद्याधन' का समास-विग्रह ज्ञात कीजिए।

- Ans 1. विद्या जैसी धन
 2. विद्या रूपी धन
 3. विद्या है जो धन
 4. विद्या से धन

Question ID : 630680270440
Option 1 ID : 6306801050950
Option 2 ID : 6306801050951
Option 3 ID : 6306801050952
Option 4 ID : 6306801050953
Status : Answered
Chosen Option : 2

Q.8 दिए गए शब्द का विलोम शब्द ज्ञात कीजिए।

उत्थान

- Ans 1. पतन
 2. धरती
 3. प्रगति
 4. प्राचीन

Question ID : 630680270428
Option 1 ID : 6306801050903
Option 2 ID : 6306801050904
Option 3 ID : 6306801050905
Option 4 ID : 6306801050902
Status : Answered
Chosen Option : 1

Q.9 दिए गए शब्द का उपसर्ग ज्ञात कीजिए।

अभियान

- Ans 1. अभिय
 2. अभि
 3. अभ
 4. अइ

Question ID : 630680270438
Option 1 ID : 6306801050942
Option 2 ID : 6306801050944
Option 3 ID : 6306801050943
Option 4 ID : 6306801050945
Status : Answered
Chosen Option : 2

Q.10 दिए गए शब्द का विलोम शब्द ज्ञात कीजिए।

उजाला

- Ans 1. रात
 2. अंधकार
 3. प्रकाश
 4. छवि

Question ID : 630680270427
Option 1 ID : 6306801050900
Option 2 ID : 6306801050898
Option 3 ID : 6306801050899
Option 4 ID : 6306801050901
Status : Answered
Chosen Option : 3

Q.11 दिए गए शब्द का प्रयुक्त संधि-विच्छेद ज्ञात कीजिए।

दिग्गज

- Ans 1. दिग् + अज
 2. दिग् + कज
 3. दिग् + आज
 4. दिक् + गज

Question ID : 630680270443

Option 1 ID : 6306801050963

Option 2 ID : 6306801050962

Option 3 ID : 6306801050965

Option 4 ID : 6306801050964

Status : Answered

Chosen Option : 4

Q.12 दिए गए वाक्य में उचित लोकोक्ति का चयन करके रिक्त स्थान की पूर्ति कीजिए।

चोर की _____ में तिनका

- Ans 1. नाखून
 2. आँख
 3. हाथ
 4. दाढ़ी

Question ID : 630680270434

Option 1 ID : 6306801050929

Option 2 ID : 6306801050927

Option 3 ID : 6306801050926

Option 4 ID : 6306801050928

Status : Answered

Chosen Option : 4

Q.13 दिए गए शब्द का प्रत्यय ज्ञात कीजिए।

अक्लमंद

- Ans 1. अकल
 2. मंद
 3. लमंद
 4. कलमंद

Question ID : 630680270439

Option 1 ID : 6306801050948

Option 2 ID : 6306801050946

Option 3 ID : 6306801050949

Option 4 ID : 6306801050947

Status : Answered

Chosen Option : 2

Q.14 दिए गए शब्द युग्म का अर्थ ज्ञात कीजिए।

पवन – पावन

- Ans
- 1. प्रान्त और पोत
 - 2. कपड़ा और पवित्र
 - 3. हवा और पवित्र
 - 4. हवा और अपवित्र

Question ID : 630680270432
 Option 1 ID : 6306801050921
 Option 2 ID : 6306801050920
 Option 3 ID : 6306801050919
 Option 4 ID : 6306801050918
 Status : Answered
 Chosen Option : 3

Q.15 दिए गए शब्द के अनेकार्थी शब्द ज्ञात कीजिए।

कोटी

- Ans
- 1. लाख
 - 2. बाधा
 - 3. हजार
 - 4. श्रेणी

Question ID : 630680270430
 Option 1 ID : 6306801050911
 Option 2 ID : 6306801050912
 Option 3 ID : 6306801050910
 Option 4 ID : 6306801050913
 Status : Answered
 Chosen Option : 1

Q.16 दिए गए शब्द का पर्यायवाची ज्ञात कीजिए।

सरोवर

- Ans
- 1. पाताल
 - 2. प्रभाकर
 - 3. तालाब
 - 4. पर्वत

Question ID : 630680270425
 Option 1 ID : 6306801050893
 Option 2 ID : 6306801050892
 Option 3 ID : 6306801050890
 Option 4 ID : 6306801050891
 Status : Answered
 Chosen Option : 3

Q.17 निम्नलिखित प्रश्न में, दिए गए चार विकल्पों में से, उस विकल्प का चयन करें जो दिए गए मुहावरे के अर्थ को सर्वश्रेष्ठ रूप से व्यक्त करता है।

फटे हाल होना

- Ans
- 1. हार जाना
 - 2. कपड़े गंदे होना
 - 3. गरीब होना
 - 4. बुरी तरह थकना

Question ID : 630680270433
 Option 1 ID : 6306801050925
 Option 2 ID : 6306801050924
 Option 3 ID : 6306801050923
 Option 4 ID : 6306801050922
 Status : Answered
 Chosen Option : 4

Q.18 दिए गए शब्द का प्रयुक्त संधि-विच्छेद ज्ञात कीजिए।

तिरस्कार

- Ans
- 1. तिर: + साकार
 - 2. तिर: + आकार
 - 3. तिर: + कार
 - 4. तिरस: + कार

Question ID : 630680270442
 Option 1 ID : 6306801050959
 Option 2 ID : 6306801050961
 Option 3 ID : 6306801050960
 Option 4 ID : 6306801050958
 Status : Answered
 Chosen Option : 2

Q.19 दिए गए वाक्य में उचित लोकोक्ति का चयन करके रिक्त स्थान की पूर्ति कीजिए।

परशुराम का कोप का अर्थ _____ होता है।

- Ans
- 1. लोभ में पड़ना
 - 2. शांत
 - 3. अधिक प्रेम
 - 4. अत्यधिक क्रोध

Question ID : 630680270435
 Option 1 ID : 6306801050932
 Option 2 ID : 6306801050933
 Option 3 ID : 6306801050931
 Option 4 ID : 6306801050930
 Status : Answered
 Chosen Option : 4

7/17/23, 12:23 PM

cdn.digialm.com//per/g01/pub/1258/touchstone/AssessmentQPHTMLMode1/1258O23340/1258O23340S1D333/168948790...

Q.20 दिए गए वाक्यांश के लिए सार्थक शब्द ज्ञात कीजिए।

जो समतल न हो।

- Ans 1. अपेय
 2. असम
 3. अमर
 4. अनुपम

Question ID : **630680270436**
 Option 1 ID : **6306801050937**
 Option 2 ID : **6306801050934**
 Option 3 ID : **6306801050936**
 Option 4 ID : **6306801050935**
 Status : **Answered**
 Chosen Option : **2**

Comprehension:

निम्नलिखित गद्यांश को ध्यानपूर्वक पढ़िए और दिए गए प्रश्न के उत्तर दीजिए।

भारत विभिन्न संस्कृतियों, नस्लों, भाषाओं और धर्मों का देश है। ये "विविधता में एकता" की भूमि है, जहाँ अलग-अलग जीवन-शैली और तरीकों के लोग एक साथ रहते हैं। इन भिन्नताओं के बावजूद भी वे सब भाईचारे और मानवता के संबंध के साथ रहते हैं। यही भारत की एक अलग विशेषता है, जो इसे पूरे विश्व भर में प्रसिद्ध करती है। आमतौर पर, अपनाते और उदार होने की महान प्राचीन भारतीय संस्कृति का अनुसरण भारत के लोग करते हैं, जो स्वाभाव में उन्हें समाविष्ट बनाती है।

अपने रीति-रिवाज और विश्वास का अनुसरण करने के द्वारा सभी धर्मों के लोग अलग तरीकों से पूजा-पाठ करते हैं, जो बुनियादी एकरूपता के अस्तित्व को प्रदर्शित करता है। एकता का भाव विभिन्न असमानताओं की सोच से परे लोगों के बीच भाईचारे और समरसता की भावना को बढ़ावा देता है।

भारत अपनी समृद्ध सांस्कृतिक विरासत के लिए प्रसिद्ध है, जो कि विभिन्न धर्मों के लोगों के कारण है। अपने हित और विश्वास के आधार पर विभिन्न जीवन-शैलियों को अलग-अलग संस्कृति के लोग बढ़ावा देते हैं। फिर ये विभिन्न पेशेवर क्षेत्रों में जैसे संगीत, कला, नाटक, नृत्य (शास्त्रीय, फोक आदि), नाट्यशाला, मूर्तिकला आदि में वृद्धि को बढ़ावा देते हैं। लोगों की आध्यात्मिक परंपरा उन्हें एक-दूसरे के लिये अधिक धर्मनिष्ठ बनाती है। सभी भारतीय धार्मिक लेख लोगों की आध्यात्मिक समझ का महान साधन है। इतना ही नहीं, यहाँ अलग-अलग धर्मों और क्षेत्रों के लोगों द्वारा अलग-अलग बोलियाँ और भाषाएँ बोली जाती हैं, जैसे- उड़िया, पंजाबी, मराठी, गुजराती, बंगाली, उर्दू, कन्नड़, मलयालम आदि। लेकिन फिर भी भारत की राजभाषा हिन्दी है, हालाँकि भारत के केवल उत्तरी क्षेत्रों के कुछ भागों की ही मातृभाषा हिन्दी है। लेकिन इतनी विविधता होने के बाद भी भारत के लोग हिन्दी को स्वेच्छा से गर्व के साथ राजभाषा के रूप में स्वीकारते हैं।

एक भारतीय होने के नाते, हम सभी को अपनी जिम्मेदारी समझनी चाहिये और किसी भी कीमत पर इसकी अनोखी विशेषता को कायम रखने की कोशिश करनी चाहिए।

SubQuestion No : 21

Q.21 भारत की एक अलग विशेषता क्या है?

- Ans 1. भाईचारे और मानवता के संबंध के साथ रहना
 2. भाईचारे और मानवता के संबंध के साथ ना रहना
 3. लड़ाई झगड़ें करना
 4. यहाँ की भीड़

Question ID : **630680270449**
 Option 1 ID : **6306801050984**
 Option 2 ID : **6306801050982**
 Option 3 ID : **6306801050983**
 Option 4 ID : **6306801050985**
 Status : **Answered**
 Chosen Option : **1**

7/17/23, 12:23 PM

cdn.digialm.com//per/g01/pub/1258/touchstone/AssessmentQPHTMLMode1/1258O23340/1258O23340S1D333/168948790...

Comprehension:

निम्नलिखित गद्यांश को ध्यानपूर्वक पढ़िए और दिए गए प्रश्न के उत्तर दीजिए।

भारत विभिन्न संस्कृतियों, नस्लों, भाषाओं और धर्मों का देश है। ये "विविधता में एकता" की भूमि है, जहाँ अलग-अलग जीवन-शैली और तरीकों के लोग एक साथ रहते हैं। इन भिन्नताओं के बावजूद भी वे सब भाईचारे और मानवता के संबंध के साथ रहते हैं। यही भारत की एक अलग विशेषता है, जो इसे पूरे विश्व भर में प्रसिद्ध करती है। आमतौर पर, अपनाने और उदार होने की महान प्राचीन भारतीय संस्कृति का अनुसरण भारत के लोग करते हैं, जो स्वाभाव में उन्हें समाविष्टक बनाती है।

अपने रीति-रिवाज़ और विश्वास का अनुसरण करने के द्वारा सभी धर्मों के लोग अलग तरीकों से पूजा-पाठ करते हैं, जो बुनियादी एकरूपता के अस्तित्व को प्रदर्शित करता है। एकता का भाव विभिन्न असमानताओं की सोच से परे लोगों के बीच भाईचारे और समरसता की भावना को बढ़ावा देता है।

भारत अपनी समृद्ध सांस्कृतिक विरासत के लिए प्रसिद्ध है, जो कि विभिन्न धर्मों के लोगों के कारण है। अपने हित और विश्वास के आधार पर विभिन्न जीवन-शैलियों को अलग-अलग संस्कृति के लोग बढ़ावा देते हैं। फिर ये विभिन्न पेशेवर क्षेत्रों में जैसे संगीत, कला, नाटक, नृत्य (शास्त्रीय, फोक आदि), नाट्यशाला, मूर्तिकला आदि में वृद्धि को बढ़ावा देते हैं। लोगों की आध्यात्मिक परंपरा उन्हें एक-दूसरे के लिये अधिक धर्मनिष्ठ बनाती है। सभी भारतीय धार्मिक लेख लोगों की आध्यात्मिक समझ का महान साधन है। इतना ही नहीं, यहाँ अलग-अलग धर्मों और क्षेत्रों के लोगों द्वारा अलग-अलग बोलियाँ और भाषाएँ बोली जाती हैं, जैसे- उड़िया, पंजाबी, मराठी, गुजराती, बंगाली, उर्दू, कन्नड़, मलयालम आदि। लेकिन फिर भी भारत की राजभाषा हिन्दी है, हालाँकि भारत के केवल उत्तरी क्षेत्रों के कुछ भागों की ही मातृभाषा हिन्दी है। लेकिन इतनी विविधता होने के बाद भी भारत के लोग हिन्दी को स्वेच्छा से गर्व के साथ राजभाषा के रूप में स्वीकारते हैं।

एक भारतीय होने के नाते, हम सभी को अपनी जिम्मेदारी समझनी चाहिये और किसी भी कीमत पर इसकी अनोखी विशेषता को कायम रखने की कोशिश करनी चाहिए।

SubQuestion No : 22

Q.22 भारत किस लिए सबसे अधिक प्रसिद्ध है?

- Ans**
- 1. महान पुरुषों के लिए
 - 2. मूर्तिकला के लिए
 - 3. वस्त्रों के लिए
 - 4. समृद्ध सांस्कृतिक विरासत के लिए

Question ID : 630680270447

Option 1 ID : 6306801050976

Option 2 ID : 6306801050975

Option 3 ID : 6306801050974

Option 4 ID : 6306801050977

Status : Answered

Chosen Option : 4

Comprehension:

निम्नलिखित गद्यांश को ध्यानपूर्वक पढ़िए और दिए गए प्रश्न के उत्तर दीजिए।

भारत विभिन्न संस्कृतियों, नस्लों, भाषाओं और धर्मों का देश है। ये "विविधता में एकता" की भूमि है, जहाँ अलग-अलग जीवन-शैली और तरीकों के लोग एक साथ रहते हैं। इन भिन्नताओं के बावजूद भी वे सब भाईचारे और मानवता के संबंध के साथ रहते हैं। यही भारत की एक अलग विशेषता है, जो इसे पूरे विश्व भर में प्रसिद्ध करती है। आमतौर पर, अपनाने और उदार होने की महान प्राचीन भारतीय संस्कृति का अनुसरण भारत के लोग करते हैं, जो स्वाभाव में उन्हें समाविष्टक बनाती है।

अपने रीति-रिवाज और विश्वास का अनुसरण करने के द्वारा सभी धर्मों के लोग अलग तरीकों से पूजा-पाठ करते हैं, जो बुनियादी एकरूपता के अस्तित्व को प्रदर्शित करता है। एकता का भाव विभिन्न असमानताओं की सोच से परे लोगों के बीच भाईचारे और समरसता की भावना को बढ़ावा देता है।

भारत अपनी समृद्ध सांस्कृतिक विरासत के लिए प्रसिद्ध है, जो कि विभिन्न धर्मों के लोगों के कारण है। अपने हित और विश्वास के आधार पर विभिन्न जीवन-शैलियों को अलग-अलग संस्कृति के लोग बढ़ावा देते हैं। फिर ये विभिन्न पेशेवर क्षेत्रों में जैसे संगीत, कला, नाटक, नृत्य (शास्त्रीय, फोक आदि), नाट्यशाला, मूर्तिकला आदि में वृद्धि को बढ़ावा देते हैं। लोगों की आध्यात्मिक परंपरा उन्हें एक-दूसरे के लिये अधिक धर्मनिष्ठ बनाती है। सभी भारतीय धार्मिक लेखकों की आध्यात्मिक समझ का महान साधन है। इतना ही नहीं, यहाँ अलग-अलग धर्मों और क्षेत्रों के लोगों द्वारा अलग-अलग बोलियाँ और भाषाएँ बोली जाती हैं, जैसे- उड़िया, पंजाबी, मराठी, गुजराती, बंगाली, उर्दू, कन्नड़, मलयालम आदि। लेकिन फिर भी भारत की राजभाषा हिन्दी है, हालाँकि भारत के केवल उत्तरी क्षेत्रों के कुछ भागों की ही मातृभाषा हिन्दी है। लेकिन इतनी विविधता होने के बाद भी भारत के लोग हिन्दी को स्वेच्छा से गर्व के साथ राजभाषा के रूप में स्वीकारते हैं।

एक भारतीय होने के नाते, हम सभी को अपनी जिम्मेदारी समझनी चाहिये और किसी भी कीमत पर इसकी अनोखी विशेषता को कायम रखने की कोशिश करनी चाहिए।

SubQuestion No : 23

Q.23 दिए गए अपठित गद्यांश का उपयुक्त शीर्षक क्या होगा?

- Ans**
- 1. देश की राजभाषा
 - 2. कला संस्कृति
 - 3. भारत की विविधता में एकता
 - 4. अनोखी विशेषता

Question ID : **630680270446**

Option 1 ID : **6306801050971**

Option 2 ID : **6306801050973**

Option 3 ID : **6306801050972**

Option 4 ID : **6306801050970**

Status : **Answered**

Chosen Option : **3**

7/17/23, 12:23 PM

cdn.digialm.com//per/g01/pub/1258/touchstone/AssessmentQPHTMLMode1/1258O23340/1258O23340S1D333/168948790...

Comprehension:

निम्नलिखित गद्यांश को ध्यानपूर्वक पढ़िए और दिए गए प्रश्न के उत्तर दीजिए।

भारत विभिन्न संस्कृतियों, नस्लों, भाषाओं और धर्मों का देश है। ये "विविधता में एकता" की भूमि है, जहाँ अलग-अलग जीवन-शैली और तरीकों के लोग एक साथ रहते हैं। इन भिन्नताओं के बावजूद भी वे सब भाईचारे और मानवता के संबंध के साथ रहते हैं। यही भारत की एक अलग विशेषता है, जो इसे पूरे विश्व भर में प्रसिद्ध करती है। आमतौर पर, अपनाते और उदार होने की महान प्राचीन भारतीय संस्कृति का अनुसरण भारत के लोग करते हैं, जो स्वाभाव में उन्हें समाविष्टक बनाती है।

अपने रीति-रिवाज़ और विश्वास का अनुसरण करने के द्वारा सभी धर्मों के लोग अलग तरीकों से पूजा-पाठ करते हैं, जो बुनियादी एकरूपता के अस्तित्व को प्रदर्शित करता है। एकता का भाव विभिन्न असमानताओं की सोच से परे लोगों के बीच भाईचारे और समरसता की भावना को बढ़ावा देता है।

भारत अपनी समृद्ध सांस्कृतिक विरासत के लिए प्रसिद्ध है, जो कि विभिन्न धर्मों के लोगों के कारण है। अपने हित और विश्वास के आधार पर विभिन्न जीवन-शैलियों को अलग-अलग संस्कृति के लोग बढ़ावा देते हैं। फिर ये विभिन्न पेशेवर क्षेत्रों में जैसे संगीत, कला, नाटक, नृत्य (शास्त्रीय, फोक आदि), नाट्यशाला, मूर्तिकला आदि में वृद्धि को बढ़ावा देते हैं। लोगों की आध्यात्मिक परंपरा उन्हें एक-दूसरे के लिये अधिक धर्मनिष्ठ बनाती है। सभी भारतीय धार्मिक लेख लोगों की आध्यात्मिक समझ का महान साधन है। इतना ही नहीं, यहाँ अलग-अलग धर्मों और क्षेत्रों के लोगों द्वारा अलग-अलग बोलियाँ और भाषाएँ बोली जाती हैं, जैसे- उड़िया, पंजाबी, मराठी, गुजराती, बंगाली, उर्दू, कन्नड़, मलयालम आदि। लेकिन फिर भी भारत की राजभाषा हिन्दी है, हालाँकि भारत के केवल उत्तरी क्षेत्रों के कुछ भागों की ही मातृभाषा हिन्दी है। लेकिन इतनी विविधता होने के बाद भी भारत के लोग हिन्दी को स्वेच्छा से गर्व के साथ राजभाषा के रूप में स्वीकारते हैं।

एक भारतीय होने के नाते, हम सभी को अपनी जिम्मेदारी समझनी चाहिये और किसी भी कीमत पर इसकी अनोखी विशेषता को कायम रखने की कोशिश करनी चाहिए।

SubQuestion No : 24**Q.24** भारत की राजभाषा क्या है?

- Ans**
- 1. अवधि
 - 2. पंजाबी
 - 3. हिंदी
 - 4. मराठी

Question ID : 630680270448

Option 1 ID : 6306801050978

Option 2 ID : 6306801050981

Option 3 ID : 6306801050979

Option 4 ID : 6306801050980

Status : Answered

Chosen Option : 3

Comprehension:

निम्नलिखित गद्यांश को ध्यानपूर्वक पढ़िए और दिए गए प्रश्न के उत्तर दीजिए।

भारत विभिन्न संस्कृतियों, नस्लों, भाषाओं और धर्मों का देश है। ये "विविधता में एकता" की भूमि है, जहाँ अलग-अलग जीवन-शैली और तरीकों के लोग एक साथ रहते हैं। इन भिन्नताओं के बावजूद भी वे सब भाईचारे और मानवता के संबंध के साथ रहते हैं। यही भारत की एक अलग विशेषता है, जो इसे पूरे विश्व भर में प्रसिद्ध करती है। आमतौर पर, अपनाने और उदार होने की महान प्राचीन भारतीय संस्कृति का अनुसरण भारत के लोग करते हैं, जो स्वाभाव में उन्हें समाविष्टक बनाती है।

अपने रीति-रिवाज़ और विश्वास का अनुसरण करने के द्वारा सभी धर्मों के लोग अलग तरीकों से पूजा-पाठ करते हैं, जो बुनियादी एकरूपता के अस्तित्व को प्रदर्शित करता है। एकता का भाव विभिन्न असमानताओं की सोच से परे लोगों के बीच भाईचारे और समरसता की भावना को बढ़ावा देता है।

भारत अपनी समृद्ध सांस्कृतिक विरासत के लिए प्रसिद्ध है, जो कि विभिन्न धर्मों के लोगों के कारण है। अपने हित और विश्वास के आधार पर विभिन्न जीवन-शैलियों को अलग-अलग संस्कृति के लोग बढ़ावा देते हैं। फिर ये विभिन्न पेशेवर क्षेत्रों में जैसे संगीत, कला, नाटक, नृत्य (शास्त्रीय, फोक आदि), नाट्यशाला, मूर्तिकला आदि में वृद्धि को बढ़ावा देते हैं। लोगों की आध्यात्मिक परंपरा उन्हें एक-दूसरे के लिये अधिक धर्मनिष्ठ बनाती है। सभी भारतीय धार्मिक लेख लोगों की आध्यात्मिक समझ का महान साधन है। इतना ही नहीं, यहाँ अलग-अलग धर्मों और क्षेत्रों के लोगों द्वारा अलग-अलग बोलियाँ और भाषाएं बोली जाती हैं, जैसे- उड़िया, पंजाबी, मराठी, गुजराती, बंगाली, उर्दू, कन्नड़, मलयालम आदि। लेकिन फिर भी भारत की राजभाषा हिन्दी है, हालाँकि भारत के केवल उत्तरी क्षेत्रों के कुछ भागों की ही मातृभाषा हिन्दी है। लेकिन इतनी विविधता होने के बाद भी भारत के लोग हिन्दी को स्वेच्छा से गर्व के साथ राजभाषा के रूप में स्वीकारते हैं।

एक भारतीय होने के नाते, हम सभी को अपनी जिम्मेदारी समझनी चाहिये और किसी भी कीमत पर इसकी अनोखी विशेषता को कायम रखने की कोशिश करनी चाहिए।

SubQuestion No : 25

Q.25 'प्रसिद्धि' शब्द का सही पर्यायवाची शब्द बताएं।

- Ans**
- 1. उक्त
 - 2. विदित
 - 3. अन्वेषणा
 - 4. कीर्ति

Question ID : **630680270450**
 Option 1 ID : **6306801050987**
 Option 2 ID : **6306801050989**
 Option 3 ID : **6306801050986**
 Option 4 ID : **6306801050988**
 Status : **Answered**
 Chosen Option : **4**