


[Grievance](#)
[View response](#)
[Logout](#)
[Create](#)

Name	[REDACTED]
Roll No	[REDACTED]
Subject	Paper I

Paper- 1

Date- 5-Aug-2019

Shift- 3rd

QID : 301 - Read the following statements and identify the correct one:

[I] "Principal modes of adaptation are assimilation and accommodation by which an individual adapts to his world." Piaget.

[II] "The modes of adaptation were variation and natural selection, by which a species adapts to its environment". Charles Darwin.

ନିମ୍ନରେ ଥିବା କଥାମାନଙ୍କୁ ପଢ଼ି ଓ କେଉଁଟି ଠିକ୍ ବାଛି:

[I] "ଅନୁକୂଳନର ମୁଖ୍ୟ ଉପାୟ ହେଉଛି ଆତ୍ମୀକରଣ ଓ ଉପଯୋଜନ, ଯାହାଦ୍ୱାରା ଜଣେ ପିଲା ତା ନିଜର ଦୁନିଆକୁ ଅନୁକୂଳନ କରିଥାଏ"- ପିଆଜେଟ୍ ।

[II] "ଅନୁକୂଳନର ଉପାୟଗୁଡ଼ିକ ହେଉଛି ବିଭେଦ ଓ ପ୍ରାକୃତିକ ଚୟନ, ଯାହାଦ୍ୱାରା ଏକ ଜାତି ନିଜ ପରିବେଶକୁ ଅନୁକୂଳନ କରିଥାଏ"- ଚାର୍ଲସ୍ ଡାରୱିନ୍ ।

Options:

1) [I] correct and [II] wrong

[I] ଠିକ୍ ଓ [II] ଭୁଲ୍

2) [I] wrong and [II] correct

[I] ଭୁଲ୍ ଓ [II] ଠିକ୍

3) Both [I] and [II] correct

ଉଭୟ [I] ଓ [II] ଠିକ୍

4) Both [I] and [II] wrong

ଉଭୟ [I] ଓ [II] ଭୁଲ୍

Correct Answer: 3) Both [I] and [II] correct

ଉଭୟ [I] ଓ [II] ଠିକ୍

Candidate Answer: 3) Both [I] and [II] correct

ଉଭୟ [I] ଓ [II] ଠିକ୍

QID : 302 - An infant sucks on whatever object touches his mouth, assuming that object as her mother's nipple, is an example of which concept of Piaget's theory of intelligence?

ଏକ ଶିଶୁର ପାଟି ରେ ଯାହାକିଛି ଜିନିଷ ସ୍ପର୍ଶ ହୋଇଥାଏ ତାହାକୁ ମାଆର ସ୍ତନ ଭାବି ଚୁଟୁନିଥାଏ, ଏହା ପିଆଜେଟ୍ ମେଥା ଶକ୍ତିର କେଉଁ ସିଦ୍ଧାନ୍ତର ଅନ୍ତର୍ଭୁକ୍ତ ?

Options:

- 1) Spatial
ସ୍ଥାନ ସମ୍ବନ୍ଧୀୟ
- 2) Assimilation
ନିଜସ୍ୱୀକରଣ
- 3) Schema
ସଂକ୍ଷିପ୍ତ ବିବରଣ
- 4) Equilibrium
ଭାରସାମ୍ୟ

Correct Answer: 2) Assimilation

ନିଜସ୍ୱୀକରଣ

Candidate Answer: 1) Spatial

ସ୍ଥାନ ସମ୍ବନ୍ଧୀୟ

QID : 303 - Which of the following is the correct order of Piaget's four stages of a child's development?

ନିମ୍ନଲିଖିତ ମଧ୍ୟରୁ କଣ ଶିଶୁ ବିକାଶ ସମ୍ବନ୍ଧୀୟ ଯିଆଜେକ ଚାରୋଟି ସ୍ତରର ସଠିକ୍ କ୍ରମ ?

Options:

- 1) Pre-Operational Stage, Concrete-Operational Stage, Sensorimotor Stage, Formal-Operational Stage
ପ୍ରି-ଅପରେସନାଲ୍ ଚରଣ, କଙ୍କ୍ରିଟ୍-ଅପରେସନାଲ୍ ଚରଣ, ସେନ୍ସୋରୀମୋଟର ଚରଣ, ଫର୍ମାଲ୍ ଅପରେସନାଲ୍ ଚରଣ
- 2) Sensorimotor Stage, Pre-Operational Stage, Concrete-Operational Stage, Formal-Operational Stage
ସେନ୍ସୋରୀମୋଟର ଚରଣ, ପ୍ରି-ଅପରେସନାଲ୍ ଚରଣ, କଙ୍କ୍ରିଟ୍-ଅପରେସନାଲ୍ ଚରଣ, ଫର୍ମାଲ୍ ଅପରେସନାଲ୍ ଚରଣ
- 3) Sensorimotor Stage, Formal-Operational Stage, Pre-Operational Stage, Concrete-Operational Stage
ସେନ୍ସୋରୀମୋଟର ଚରଣ, ଫର୍ମାଲ୍ ଅପରେସନାଲ୍ ଚରଣ, ପ୍ରି-ଅପରେସନାଲ୍ ଚରଣ, କଙ୍କ୍ରିଟ୍-ଅପରେସନାଲ୍ ଚରଣ
- 4) Pre-Operational Stage, Sensorimotor Stage, Formal-Operational Stage, Concrete-Operational Stage
ପ୍ରି-ଅପରେସନାଲ୍ ଚରଣ, ସେନ୍ସୋରୀମୋଟର ଚରଣ, ଫର୍ମାଲ୍ ଅପରେସନାଲ୍ ଚରଣ, କଙ୍କ୍ରିଟ୍-ଅପରେସନାଲ୍ ଚରଣ

Correct Answer: 2) Sensorimotor Stage, Pre-Operational Stage, Concrete-Operational Stage, Formal-Operational Stage

ସେନ୍ସୋରୀମୋଟର ଚରଣ, ପ୍ରି-ଅପରେସନାଲ୍ ଚରଣ, କଙ୍କ୍ରିଟ୍-ଅପରେସନାଲ୍ ଚରଣ, ଫର୍ମାଲ୍ ଅପରେସନାଲ୍ ଚରଣ

Candidate Answer: 2) Sensorimotor Stage, Pre-Operational Stage, Concrete-Operational Stage, Formal-Operational Stage

ସେନ୍ସୋରୀମୋଟର ଚରଣ, ପ୍ରି-ଅପରେସନାଲ୍ ଚରଣ, କଙ୍କ୍ରିଟ୍-ଅପରେସନାଲ୍ ଚରଣ, ଫର୍ମାଲ୍ ଅପରେସନାଲ୍ ଚରଣ

QID : 304 - The term 'deferred imitation' which relates to a child's ability to imitate absent object and activity in pre-operational period, is given by:

ବିଳମ୍ବିତ ଅନୁକରଣ' ଶବ୍ଦ, ଯାହା ପ୍ରି-ଅପରେସନାଲ୍ ସମୟରେ ଅନୁପସ୍ଥିତ ବସ୍ତୁ ଓ କାର୍ଯ୍ୟକଳାପକୁ ଶିଶୁର ଅନୁକରଣ କରିବାର ସମ୍ପତ୍ତି ସମ୍ପର୍କିତ, ତାହା କିଏ ପ୍ରତିପାଦନ କରିଥିଲେ ?

Options:

1) Sigmund Freud

ସିଗମଣ୍ଡ ଫ୍ରାଇଡ

2) Jean Piaget

ଜିନ୍ ପିଆଜେ

3) Heinz Hartmann

ହେଞ୍ଜ ହାର୍ଟମାନ୍

4) Jean-Jacques Rousseau

ଜିନ୍-ଜ୍ୟାକସ୍ ରୁସୋ

Correct Answer: 2) Jean Piaget

ଜିନ୍ ପିଆଜେ

Candidate Answer: 2) Jean Piaget

ଜିନ୍ ପିଆଜେ

QID : 305 - Genetic epistemology is:

ଆନୁବଂଶିକ ଅଧ୍ୟୟନ କଣ ଅଟେ ?

Options:

1) A study of origin of knowledge

ଜ୍ଞାନର ଆରମ୍ଭ ହେବାର ଅଧ୍ୟୟନ

2) A discipline established by Sigmund Freud

ସିଗମଣ୍ଡ ଫ୍ରାଇଡଙ୍କ ଦ୍ୱାରା ସ୍ଥାପିତ ଏକ ପ୍ରଶିକ୍ଷଣ

3) A study of heredity

ବଂଶାନୁକ୍ରମର ଅଧ୍ୟୟନ

4) A study of human genes and hormones.

ମାନବ ଜିନ୍ ଓ ହର୍ମୋନର ଅଧ୍ୟୟନ

Correct Answer: 1) A study of origin of knowledge

ଜ୍ଞାନର ଆରମ୍ଭ ହେବାର ଅଧ୍ୟୟନ

Candidate Answer: 3) A study of heredity

ବଂଶାନୁକ୍ରମର ଅଧ୍ୟୟନ

QID : 306 - A teacher, in a question paper, provides clue words in order to complete an incomplete story. This approach to teaching-learning is called:

ଜଣେ ଶିକ୍ଷକ ଏକ ପ୍ରଶ୍ନପତ୍ରରେ ଅସମ୍ପୂର୍ଣ୍ଣ ଥିବା ଏକ ଗପ ସାରିବା ପାଇଁ ସାଂକେତିକ ଶବ୍ଦ ଦେଲେ । ଏହି ଶିକ୍ଷଣ ପଦ୍ଧତି ର ଏହି ଦୃଷ୍ଟିକୋଣକୁ କଣ କୁହାଯାଏ ?

Options:

1) Situated Learning

ପରିସ୍ଥିତିକ ଶିକ୍ଷା

2) Scaffolding

ସ୍କାଫୋଲ୍ଡିଙ୍ଗ୍

3) Metacognition

ଜ୍ଞାନାତୀତ

4) Defence Mechanism

ପ୍ରତିରକ୍ଷା ଉପାୟ

Correct Answer: 2) Scaffolding

ସ୍କାଫୋଲ୍ଡିଙ୍ଗ୍

Candidate Answer: 3) Metacognition

ଜ୍ଞାନାତୀତ

QID : 307 - Which of the following is not an area of learning?

ନିମ୍ନଲିଖିତ ମଧ୍ୟରୁ କଣ ଶିକ୍ଷାର ଏକ କ୍ଷେତ୍ର ନୁହେଁ ?

Options:

1) Knowledge

ଜ୍ଞାନ

2) Concepts

ବିଷୟ

3) Memory

ସ୍ମୃତି

4) Skills

ଦକ୍ଷତା

Correct Answer: 3) Memory

ସ୍ମୃତି

Candidate Answer: 3) Memory

ସ୍ମୃତି

QID : 308 - "Spelling bee" is a formalised game of memory. Which form of learning does it involve?

"ସ୍ପେଲିଙ୍ଗ୍ ବି" ହେଉଛି ସ୍ମୃତିର ଏକ ଔପଚାରିକ ଖେଳ । ଏଥିରେ କେଉଁ ପ୍ରକାରର ଶିକ୍ଷା ଅନ୍ତର୍ଭୁକ୍ତ ରହିଛି ?

Options:

- 1) Rote-learning
ଘୋଷିକରି ମନେ ରଖିବା
- 2) Deferred imitation
ବିଳମ୍ବିତ ଶିକ୍ଷା(ଇମିଟେସନ୍)
- 3) Operative learning
ସହଯୋଗୀ ଶିକ୍ଷା
- 4) Figurative learning
ପ୍ରତୀକାତ୍ମକ ଶିକ୍ଷା

Correct Answer: 1) Rote-learning
ଘୋଷିକରି ମନେ ରଖିବା

Candidate Answer: 3) Operative learning
ସହଯୋଗୀ ଶିକ୍ଷା

QID : 309 - Knowledge of which factor helps a teacher to know the growth and development of her students better?

ଜ୍ଞାନର କେଉଁ କାରକ ଜଣେ ଶିକ୍ଷକଙ୍କୁ ନିଜ ଛାତ୍ରମାନଙ୍କର ବୃଦ୍ଧି ଓ ବିକାଶ ସମ୍ପର୍କରେ ଜାଣିବା ପାଇଁ ସହାୟକ ହେବ ?

Options:

- 1) Heredity
ବଂଶାନୁକ୍ରମ
- 2) IQ level
IQ ସ୍ତର
- 3) Physical Appearance
ଶରୀର ଗଢଣ
- 4) Progress Card
ପ୍ରଗତି ପତ୍ର

Correct Answer: 4) Progress Card
ପ୍ରଗତି ପତ୍ର

Candidate Answer: 4) Progress Card
ପ୍ରଗତି ପତ୍ର

QID : 310 - Read the following statements and identify the correct one:

- [I] Identical twins are monozygotic and have same sex.
[II] Fraternal twins can be same or opposite sex and their genes are as different as any other brother and sister.

ନିମ୍ନରେ ଥିବା ବକ୍ତବ୍ୟକୁ ପଢନ୍ତୁ ଓ କେଉଁଟି ଠିକ୍ ବାଛନ୍ତୁ:

- [I] ଏକାଭଳି ଦେଖାଯାଉଥିବା ଯାଆଁଳା ଏକଯୁଗ୍ମକ ବିଶିଷ୍ଟ ଅଟନ୍ତି ଓ ସମାନ ଲିଙ୍ଗ ବିଶିଷ୍ଟ ହୋଇଥାନ୍ତି ।
[II] ଦ୍ୱିଅଣ୍ଡଜ ଯମଜଙ୍କର ସମାନ ବା ବାପରିତ ଲିଙ୍ଗ ବିଶିଷ୍ଟ ହୋଇପାରନ୍ତି ଓ ସେମାନଙ୍କର ଜିନ୍ ଅନ୍ୟ ଭାଇ ଓ ଭଉଣୀଙ୍କ ପରି ଅଲଗା ହୋଇଥାଏ ।

Options:

- 1) [I] correct and [II] wrong
[I] ଠିକ୍ ଓ [II] ଭୁଲ୍
- 2) [I] wrong and [II] correct
[I] ଭୁଲ୍ ଓ [II] ଠିକ୍
- 3) Both [I] and [II] correct
ଉଭୟ [I] ଓ [II] ଠିକ୍
- 4) Both [I] and [II] wrong
ଉଭୟ [I] ଓ [II] ଭୁଲ୍

Correct Answer: 3) Both [I] and [II] correct
ଉଭୟ [I] ଓ [II] ଠିକ୍

Candidate Answer: 2) [I] wrong and [II] correct
[I] ଭୁଲ୍ ଓ [II] ଠିକ୍

QID : 311 - Which of the following is not a characteristic of Charles Cooley's Looking Glass Self Theory?

ନିମ୍ନଲିଖିତ ମଧ୍ୟରୁ କେଉଁଟି ଚାର୍ଲ୍ସ କୁଲେଙ୍କ ଆୟନ-ପର୍ଯ୍ୟାୟ ସିଦ୍ଧାନ୍ତର ଏକ ବୈଶିଷ୍ଟ୍ୟ ନୁହେଁ ?

Options:

- 1) It portrays that human mind is social
ଏହା ମାନବ ମସ୍ତିଷ୍କକୁ ସାମାଜିକ ବୋଲି ଦର୍ଶାଏ
- 2) It assigns an active role to an individual who perceives what others think of him/her
ଏହା ସେହି ବ୍ୟକ୍ତିକୁ ଏକ ସକ୍ରିୟ ଭୂମିକା ନ୍ୟସ୍ତ କରିଥାଏ ଯିଏ ଅନ୍ୟମାନେ ତା ବିଷୟରେ କଣ ଭାବନ୍ତି ତାହା ବୁଝିଥାଏ
- 3) It advocates interactionist perspective
ଏହା ପାରସ୍ପରିକ ପ୍ରଭାବ ଦୃଷ୍ଟିକୋଣକୁ ସମର୍ଥନ କରିଥାଏ
- 4) It believes that parents play an important role in child's personality development
ଏହା ଶିଶୁର ବ୍ୟକ୍ତିତ୍ୱ ବିକାଶରେ ଏକ ମୁଖ୍ୟ ଭୂମିକା ଗ୍ରହଣ କରିଥାଏ

Correct Answer: 4) It believes that parents play an important role in child's personality development
ଏହା ଶିଶୁର ବ୍ୟକ୍ତିତ୍ୱ ବିକାଶରେ ଏକ ମୁଖ୍ୟ ଭୂମିକା ଗ୍ରହଣ କରିଥାଏ

Candidate Answer: 3) It advocates interactionist perspective
ଏହା ପାରସ୍ପରିକ ପ୍ରଭାବ ଦୃଷ୍ଟିକୋଣକୁ ସମର୍ଥନ କରିଥାଏ

QID : 312 - Which of the following is not a learning domain of Bloom's Taxonomy?

ନିମ୍ନଲିଖିତ ମଧ୍ୟରୁ କେଉଁଟି ବ୍ଲୁମ୍ଙ୍କ ବର୍ଗୀକରଣର ଏକ ଶିକ୍ଷାତ୍ମକ ପରିସର ନୁହେଁ ?

Options:

- 1) Psychomotor domain
ମନୋଶ୍ଳାଳନ ପରିସର
- 2) Affective domain
ପ୍ରଭାବୀ ପରିସର
- 3) Cognitive domain
ବୌଦ୍ଧିକ ପରିସର
- 4) Pre-operational domain
ପ୍ରାକ୍-ସଂକାର୍ଯ୍ୟଧର୍ମୀ ପରିସର

Correct Answer: 4) Pre-operational domain
ପ୍ରାକ୍-ସଂକାର୍ଯ୍ୟଧର୍ମୀ ପରିସର

Candidate Answer: 4) Pre-operational domain
ପ୍ରାକ୍-ସଂକାର୍ଯ୍ୟଧର୍ମୀ ପରିସର

QID : 313 - A teacher spotted a child with SEN (Special Education Need) in her class not singing along with other children. She asked the student to stand along with her and sing, while she motivated her. This is an example of what form of education system?

ଜଣେ ଶିକ୍ଷକ ବିଶେଷ ଶିକ୍ଷା ଆବଶ୍ୟକତା ଥିବା ଏକ ଶିଶୁକୁ ଅନ୍ୟ ପିଲାମାନଙ୍କ ସହ ଗାଉନଥିବାର ଦେଖିଲେ । ସେ ସେହି ପିଲାକୁ ନିଜ ସହ ଠିଆ ହୋଇ ଗୀତ ଗାଇବାକୁ କହିବା ସହ ପ୍ରୋତ୍ସାହିତ କଲେ । ଏହା କେଉଁ ପ୍ରକାରର ଶିକ୍ଷା ବ୍ୟବସ୍ଥାର ଏକ ଉଦାହରଣ ଅଟେ ?

Options:

- 1) Integrated Education
ସମନ୍ୱିତ ଶିକ୍ଷା
- 2) Inclusion Education
ଅନ୍ତର୍ନିବେଶୀ ଶିକ୍ଷା
- 3) Mainstream Education
ମୁଖ୍ୟଧାରା ଶିକ୍ଷା
- 4) Conventional Education
ପାରମ୍ପରିକ ଶିକ୍ଷା

Correct Answer: 2) Inclusion Education
ଅନ୍ତର୍ନିବେଶୀ ଶିକ୍ଷା

Candidate Answer: 2) Inclusion Education
ଅନ୍ତର୍ନିବେଶୀ ଶିକ୍ଷା

QID : 314 - Who is not a 'diverse learner' in an inclusive classroom?

ଏକ ଅନ୍ତର୍ନିବେଶୀ ଶ୍ରେଣୀଗୃହରେ କିଏ ଏକ 'ବିବିଧତାପୂର୍ଣ୍ଣ ଶିକ୍ଷାର୍ଥୀ' ନୁହେଁ ?

Options:

- 1) Person with disabilities
ଅକ୍ଷମତା ଥିବା ବ୍ୟକ୍ତି
- 2) Person with different languages and cultures
ଭିନ୍ନ ଭାଷା ଓ ସଂସ୍କୃତି ଥିବା ବ୍ୟକ୍ତି
- 3) Person with different kind of food items in the lunchbox
ଖାଦ୍ୟ ବାକ୍ସରେ ବିଭିନ୍ନ ପ୍ରକାରର ଖାଦ୍ୟ ଥିବା ବ୍ୟକ୍ତି
- 4) Person with different interests and ways of learning
ବିଭିନ୍ନ ଲକ୍ଷ୍ମୀ ଓ ଶିକ୍ଷାର ବିଭିନ୍ନ ଉପାୟ ଥିବା ବ୍ୟକ୍ତି

Correct Answer: 3) Person with different kind of food items in the lunchbox
ଖାଦ୍ୟ ବାକ୍ସରେ ବିଭିନ୍ନ ପ୍ରକାରର ଖାଦ୍ୟ ଥିବା ବ୍ୟକ୍ତି

Candidate Answer: 1) Person with disabilities
ଅକ୍ଷମତା ଥିବା ବ୍ୟକ୍ତି

QID : 315 - Which of the following is not a committee/policy created around inclusive education in India?

ନିମ୍ନଲିଖିତ କେଉଁଟି ଭାରତରେ ଅନ୍ତର୍ଭୁକ୍ତ ଶିକ୍ଷା ପାଇଁ ସୃଷ୍ଟି ଏକ କମିଟି/ନିୟମ ନୁହେଁ ?

Options:

- 1) Integrated Education for Disabled Children (IEDC)
ଇଣ୍ଟିଗ୍ରେଟେଡ୍ ଏଜୁକେସନ୍ ଫର୍ ଡିସେବୁଲ୍ଡ ଚିଲ୍ଡ୍ରେନ୍ (IEDC)
- 2) Kothari Commission
କୋଠାରି କମିସନ୍
- 3) Sakshar Bharat
ସାକ୍ଷର ଭାରତ
- 4) Mandal Commission
ମଣ୍ଡଳ କମିସନ୍

Correct Answer: 3) Sakshar Bharat
ସାକ୍ଷର ଭାରତ

Candidate Answer: 3) Sakshar Bharat
ସାକ୍ଷର ଭାରତ

QID : 316 - How could a teacher hold the attention of a slow learner?

ଶିକ୍ଷକ ଏକ ଧୀମା ଶିକ୍ଷାର୍ଥୀର ଧ୍ୟାନ କେଉଁ ଉପାୟରେ ଲଗାଇ ରଖିବାରେ ସମର୍ଥ ହେବେ ?

Options:

1) By using the technique of motivational dynamism

ଅଭିପ୍ରେରଣ କ୍ରିୟାଶୀଳତା କୌଶଳ ବ୍ୟବହାର କରିବା ଦ୍ୱାରା

2) By making him sit in the front row so that he can easily copy from the board.

ତାକୁ ଆଗ ଧାଡ଼ିରେ ବସାଇବା ଯେପରି ସେ ସହଜରେ କଳାପତାରୁ ଉତ୍ତର ପାରିବ

3) By making him sit with an intelligent student

ତାକୁ ଏକ ବୁଦ୍ଧିମାନ ପିଲା ପାଖରେ ବସାଇବା ଦ୍ୱାରା

4) By providing hand-written notes

ହସ୍ତ ଲିଖିତ ନୋଟ୍ ଯୋଗାଇବା ଦ୍ୱାରା

Correct Answer: 1) By using the technique of motivational dynamism

ଅଭିପ୍ରେରଣ କ୍ରିୟାଶୀଳତା କୌଶଳ ବ୍ୟବହାର କରିବା ଦ୍ୱାରା

Candidate Answer: 1) By using the technique of motivational dynamism

ଅଭିପ୍ରେରଣ କ୍ରିୟାଶୀଳତା କୌଶଳ ବ୍ୟବହାର କରିବା ଦ୍ୱାରା

QID : 317 - What strategy should a teacher follow to promote Gender sensitisation in classroom?

ଶ୍ରେଣୀଗୃହରେ ଲିଙ୍ଗଗତ ସଚେତନତାକୁ ପ୍ରୋତ୍ସାହିତ କରିବା ପାଇଁ ଶିକ୍ଷକ କେଉଁ ଉପାୟ ଆପଣେଇ ପାରିବେ ?

Options:

1) To select students for class activities that defies their gender.

ପିଲାମାନଙ୍କ ଲିଙ୍ଗ ହିସାବରେ ଶ୍ରେଣୀଗୃହରେ କାର୍ଯ୍ୟ ଚୟନ କରିବା

2) A teacher can encourage educational activities for children to inculcate moral values and respect for each other irrespective of caste, gender and religion

ଜାତି, ଲିଙ୍ଗ ଓ ଧର୍ମ ନିର୍ବିଶେଷରେ ପରସ୍ପର ପାଇଁ ନୈତିକ ମୂଲ୍ୟବୋଧ ଓ ସମ୍ମାନ ଶିଖାଇବା ପାଇଁ ଶିକ୍ଷଣ କାର୍ଯ୍ୟ ପାଇଁ ଶିକ୍ଷକ ପ୍ରୋତ୍ସାହିତ କରିବେ

3) By allowing girls to come in school pants rather than skirts

ଝିଅମାନଙ୍କୁ ଶୁର୍ଟ ବଦଳରେ ପ୍ୟାଣ୍ଟ ପିନ୍ଧି ଆସିବାକୁ ଅନୁମତି ଦେବା

4) Organising a play where boys play female character and girls play male characters.

ଏକ ନାଟକର ଆୟୋଜନ କରିବା ଯେଉଁଥିରେ ପୁଅମାନେ ମହିଳା ଭୂମିକା କରିବେ ଓ ଝିଅମାନେ ପୁରୁଷ ଭୂମିକା କରିବେ

Correct Answer: 2) A teacher can encourage educational activities for children to inculcate moral values and respect for each other irrespective of caste, gender and religion

ଜାତି, ଲିଙ୍ଗ ଓ ଧର୍ମ ନିର୍ବିଶେଷରେ ପରସ୍ପର ପାଇଁ ନୈତିକ ମୂଲ୍ୟବୋଧ ଓ ସମ୍ମାନ ଶିଖାଇବା ପାଇଁ ଶିକ୍ଷଣ କାର୍ଯ୍ୟ ପାଇଁ ଶିକ୍ଷକ ପ୍ରୋତ୍ସାହିତ କରିବେ

Candidate Answer: 2) A teacher can encourage educational activities for children to inculcate moral values and respect for each other irrespective of caste, gender and religion

ଜାତି, ଲିଙ୍ଗ ଓ ଧର୍ମ ନିର୍ବିଶେଷରେ ପରସ୍ପର ପାଇଁ ନୈତିକ ମୂଲ୍ୟବୋଧ ଓ ସମ୍ମାନ ଶିଖାଇବା ପାଇଁ ଶିକ୍ଷଣ କାର୍ଯ୍ୟ ପାଇଁ ଶିକ୍ଷକ ପ୍ରୋତ୍ସାହିତ କରିବେ

QID : 318 - Which of the following statements is not correct of Autism?

ଅତିଜମ୍ ସମ୍ବନ୍ଧରେ ନିମ୍ନଲିଖିତ ମଧ୍ୟରୁ କଣ ଠିକ୍ ନୁହେଁ ?

Options:

1) Autistic child has over-exaggerated concern with oneself and little for the environment or for others.

ଅତିଶୁଦ୍ଧ ଶିଶୁର ନିଜସହିତ ଅତିରଞ୍ଜିତ ସମ୍ବନ୍ଧ ଥାଏ ଓ ପରିବେଶ ପାଇଁ ବା ଅନ୍ୟମାନଙ୍କ ପାଇଁ କମ୍ ଥାଏ

2) People with Autism are intellectually disabled

ଅତିଜ୍ଞତ୍ୱ ଥିବା ଶିଶୁମାନେ ପ୍ରଜ୍ଞାବାନ୍ ନୁହେଁ

3) It is a developmental disorder characterised by severe deficits in social interaction and communication.

ଏହା ଏକ ବିକାଶଜନିତ ବିକୃତି ଅଟେ, ଯେଉଁଥିରେ ସାମାଜିକ ବିନିମୟ ଓ ଯୋଗାଯୋଗରେ ଗଭୀର ଅଭାବ ରହିଥାଏ

4) It is first described by Swiss psychiatrist, Paul Bleuler

ଏହାକୁ ପ୍ରଥମେ ସ୍ୱିସ୍ ମନୋବିଜ୍ଞାନୀ ପଲ୍ ବ୍ଲୁଅର୍ ଦର୍ଶାଇଥିଲେ

Correct Answer: 2) People with Autism are intellectually disabled

ଅତିଜ୍ଞତ୍ୱ ଥିବା ଶିଶୁମାନେ ପ୍ରଜ୍ଞାବାନ୍ ନୁହେଁ

Candidate Answer: 2) People with Autism are intellectually disabled

ଅତିଜ୍ଞତ୍ୱ ଥିବା ଶିଶୁମାନେ ପ୍ରଜ୍ଞାବାନ୍ ନୁହେଁ

QID : 319 - 'I started education programmes for disadvantaged children in Rome. I introduced the concept of 'prepared environment' for classroom teaching. I advocate teacher as an observer (who learns a lot from child) in the classroom teaching.' Who am I?

'ମୁଁ ରୋମ୍ ରେ ଅନଗୁଣ ପିଲାମାନଙ୍କ ପାଇଁ ଶିକ୍ଷା କାର୍ଯ୍ୟକ୍ରମ ଆରମ୍ଭ କରିଥିଲି । ମୁଁ ଶ୍ରେଣୀଗୃହ ଶିକ୍ଷାଦାନ ପାଇଁ 'ପୂର୍ବପ୍ରସ୍ତୁତ ପରିବେଶ' ଅବଧାରଣା ଦେଇଥିଲି । ଶ୍ରେଣୀଗୃହ ଶିକ୍ଷାଦାନରେ ଶିକ୍ଷକ ଜଣେ ଦେଖଣାହାରି (ଯିଏକି ପିଲାଠାରୁ ଅନେକ କିଛି ଶିଖିଥାଏ) ବୋଲି ମୁଁ ଦର୍ଶାଇଥିଲି । ମୁଁ କିଏ ?

Options:

1) Friedrich Froebel

ଫ୍ରେଡ୍ରିକ୍ ଫ୍ରୋବେଲ୍

2) Maria Montessori

ମାରିଆ ମଣ୍ଟେସୋରି

3) Heinrich Pestalozzi

ହେନରିକ୍ ପେଷ୍ଟାଲୋଜି

4) Rousseau

ରୁସୋ

Correct Answer: 2) Maria Montessori

ମାରିଆ ମଣ୍ଟେସୋରି

Candidate Answer: 2) Maria Montessori

ମାରିଆ ମଣ୍ଟେସୋରି

QID : 320 - Effective learning is feasible only:

କେବେ ପ୍ରଭାବୀ ଶିକ୍ଷା ସମ୍ଭବ ହୁଏ ?

Options:

1) When teaching is based soundly on the best available understanding of the processes of effective learning and the teacher establishes a purposeful and safe learning environment conducive to learning.

ଯେତେବେଳେ ଶିକ୍ଷା ପ୍ରଭାବୀ ଶିକ୍ଷାର ଉପଲକ୍ଷ ଥିବା ସବୁଠାରୁ ଭଲ ଜ୍ଞାନ ଉପରେ ପର୍ଯ୍ୟବେଶିତ ଥାଏ ଓ ଶିକ୍ଷକ ଶିକ୍ଷା ପାଇଁ ଏକ ଉଦ୍ଦେଶ୍ୟପୂର୍ଣ୍ଣ ଓ ସୁରକ୍ଷିତ ଶିକ୍ଷଣ ପରିବେଶ ସୃଷ୍ଟି କରନ୍ତି ।

2) When teaching-learning is done only using ICT tools of teaching.

ଯେତେବେଳେ ଶିକ୍ଷଣ ICT ଉପକରଣ ଦ୍ୱାରା ହୋଇଥାଏ ।

3) When teacher provides all written notes in the class.

ଯେତେବେଳେ ଶିକ୍ଷକ ଶ୍ରେଣୀଗୃହରେ ସମସ୍ତ ଲିଖିତ ନୋଟ୍ ଦେଇଥାଆନ୍ତି ।

4) When teacher speaks in fluent English.

ଯେତେବେଳେ ଶିକ୍ଷକ ପ୍ରାଞ୍ଜଳ ଇଂରାଜୀ କୁହନ୍ତି ।

Correct Answer: 1) When teaching is based soundly on the best available understanding of the processes of effective learning and the teacher establishes a purposeful and safe learning environment conducive to learning.

ଯେତେବେଳେ ଶିକ୍ଷା ପ୍ରଭାବୀ ଶିକ୍ଷାର ଉପଲକ୍ଷ ଥିବା ସବୁଠାରୁ ଭଲ ଜ୍ଞାନ ଉପରେ ପର୍ଯ୍ୟବେଶିତ ଥାଏ ଓ ଶିକ୍ଷକ ଶିକ୍ଷା ପାଇଁ ଏକ ଉଦ୍ଦେଶ୍ୟପୂର୍ଣ୍ଣ ଓ ସୁରକ୍ଷିତ ଶିକ୍ଷଣ ପରିବେଶ ସୃଷ୍ଟି କରନ୍ତି ।

Candidate Answer: 2) When teaching-learning is done only using ICT tools of teaching.

ଯେତେବେଳେ ଶିକ୍ଷଣ ICT ଉପକରଣ ଦ୍ୱାରା ହୋଇଥାଏ ।

QID : 321 - Who introduced the term 'behaviourism' in the realm of psychological theory of learning?

ଶିକ୍ଷାର ମନୋବିଜ୍ଞାନିକ ସିଦ୍ଧାନ୍ତ ଅବସରରେ କିଏ 'ଆଚରଣବାଦ'ର ଆରମ୍ଭ କରିଥିଲେ ?

Options:

1) John B. Watson

ଜନ୍ ବି. ୱାଟସନ୍

2) Heinrich Pestalozzi

ହେନରିକ୍ ପେଷ୍ଟାଲୋଜି

3) Howard Gardner's

ହୋୱାର୍ଡ ଗାର୍ଡେନରସ୍

4) Jean Piaget

ଜିନ୍ ପିଆଜେ

Correct Answer: 1) John B. Watson

ଜନ୍ ବି. ୱାଟସନ୍

Candidate Answer: 2) Heinrich Pestalozzi

ହେନରିକ୍ ପେଷ୍ଟାଲୋଜି

QID : 322 - Rewarding only the 'best' student in the class is not considered to be a satisfactory approach. Which of the following reasons do not support the above statement?

ଶ୍ରେଣୀଗୃହରେ କେବଳ 'ସବୁଠାରୁ ଭଲ' ଛାତ୍ରକୁ ପୁରସ୍କୃତ କରିବା ଏକ ସନ୍ତୋଷଜନକ ଉପାୟ ନୁହେଁ । ନିମ୍ନଲିଖିତ କେଉଁ କାରଣ ଉପରୋକ୍ତ କଥନକୁ ପ୍ରମାଣିତ କରେନାହିଁ ?

Options:

1) It can engender feelings of unfairness or competition among the less able and lower attaining children,

ଏହା ସ୍ୱଳ୍ପ କ୍ଷମତା ବିଶିଷ୍ଟ ଓ କମ୍ ପ୍ରାପ୍ତ କରୁଥିବା ପିଲାମାନଙ୍କ ମଧ୍ୟରେ ପକ୍ଷପାତୀତା ବା ପ୍ରତିଯୋଗୀତାର ଭୟ ସୃଷ୍ଟି କରାଇପାରେ

2) Rewarding such children will make them more intelligent and smart.

ଏପରି ପିଲାଙ୍କୁ ପୁରସ୍କୃତ କରିବା ଦ୍ୱାରା ଏମାନେ ଅଧିକ ବୁଦ୍ଧିମାନ ଓ ଦକ୍ଷ ହେବେ ।

3) Rewards do not always lead to higher quality work.

ପୁରସ୍କାର ସର୍ବଦା ଉଚ୍ଚମାନର କାମ କରାଏ ନାହିଁ ।

4) Rewarding children who are already well motivated may lead to a loss of interest in the subject

ଆଗରୁ ଭଲଭାବରେ ଅଭିପ୍ରେରିଣା ପାଇଥିବା ପିଲାମାନଙ୍କୁ ପୁରସ୍କୃତ କଲେ ସେମାନଙ୍କର ବିଷୟ ପ୍ରତି ଆଗ୍ରହ କମିଯାଏ ।

Correct Answer: 2) Rewarding such children will make them more intelligent and smart.

ଏପରି ପିଲାଙ୍କୁ ପୁରସ୍କୃତ କରିବା ଦ୍ୱାରା ଏମାନେ ଅଧିକ ବୁଦ୍ଧିମାନ ଓ ଦକ୍ଷ ହେବେ ।

Candidate Answer: 4) Rewarding children who are already well motivated may lead to a loss of interest in the subject

ଆଗରୁ ଭଲଭାବରେ ଅଭିପ୍ରେରିଣା ପାଇଥିବା ପିଲାମାନଙ୍କୁ ପୁରସ୍କୃତ କଲେ ସେମାନଙ୍କର ବିଷୟ ପ୍ରତି ଆଗ୍ରହ କମିଯାଏ ।

QID : 323 - Which of the following is not correct of Integrated Learning System (ILS) ?

ଏକୀକୃତ ଶିକ୍ଷା ବ୍ୟବସ୍ଥା (ILS) ସମ୍ପର୍କରେ ନିମ୍ନଲିଖିତ କେଉଁଟି ସତ୍ୟ ନୁହେଁ ?

Options:

1) It is computer based system for teaching

ଏହା କମ୍ପ୍ୟୁଟର ପର୍ଯ୍ୟବେଦିତ ଶିକ୍ଷଣ ଅଟେ

2) It includes a number of management tools for assessment and record keeping

ଏଥିରେ ମୂଲ୍ୟାୟନ ଓ ରେକର୍ଡ ରଖିବା ପାଇଁ ଅନେକ ପ୍ରକାରର ପରିଚାଳନା ଉପକରଣ ଥାଏ

3) It operates like Skinner's behaviourist 'programmed learning' theory

ଏହା ସ୍କିନର୍ କ ଆଚରଣବାଦ 'ପ୍ରୋଗ୍ରାମ୍ ଶିକ୍ଷା' ସିଦ୍ଧାନ୍ତ ପରି ପରିଚାଳିତ ହୁଏ

4) It is a game app for SNE (Special Need for Education) children

ଏହା SNE (ଶିକ୍ଷା ପାଇଁ ବିଶିଷ୍ଟ ଆବଶ୍ୟକତା) ପିଲାମାନଙ୍କ ପାଇଁ ଏକ ଖେଳ ଆପ୍

Correct Answer: 4) It is a game app for SNE (Special Need for Education) children

ଏହା SNE (ଶିକ୍ଷା ପାଇଁ ବିଶିଷ୍ଟ ଆବଶ୍ୟକତା) ପିଲାମାନଙ୍କ ପାଇଁ ଏକ ଖେଳ ଆପ୍

Candidate Answer: 3) It operates like Skinner's behaviourist 'programmed learning' theory

ଏହା ସ୍କିନର୍ କ ଆଚରଣବାଦ 'ପ୍ରୋଗ୍ରାମ୍ ଶିକ୍ଷା' ସିଦ୍ଧାନ୍ତ ପରି ପରିଚାଳିତ ହୁଏ

QID : 324 - A student does not finish his homework on time, talks through out the entire classroom teaching and hits other children. What kind of behaviour is expected from a teacher in such situation, which leaves a stronger and longer effect on the student?

ଜଣେ ପିଲା ତାର ଘରପାଠ ସମୟରେ ଶେଷ କରେନାହିଁ, ଶ୍ରେଣୀଗୃହରେ ଶିକ୍ଷାଦାନ ସମୟରେ ଅବିରତ ଗପେ ଓ ଅନ୍ୟ ପିଲାଙ୍କୁ ମାରେ ।

ଏପରି କ୍ଷେତ୍ରରେ ଜଣେ ଶିକ୍ଷକ କିପରି ବ୍ୟବହାର କରିବା ଉଚିତ୍ ଯେପରି ତାହା ପିଲା ଉପରେ ଶକ୍ତ ଓ ଦୀର୍ଘସମୟୀ ପ୍ରଭାବ ପକାଇବ ?

Options:**1) Positive Reinforcement**

ସକରାତ୍ମକ ଦୃଢ଼ୀକରଣ

2) Negative Reinforcement

ନକରାତ୍ମକ ଦୃଢ଼ୀକରଣ

3) Corporal punishment

ଶାରୀରିକ ଦଣ୍ଡ

4) Avoidance

ପରିହାର

Correct Answer: 1) Positive Reinforcement

ସକରାତ୍ମକ ଦୃଢ଼ୀକରଣ

Candidate Answer: 1) Positive Reinforcement

ସକରାତ୍ମକ ଦୃଢ଼ୀକରଣ

QID : 325 - An English and a Social Studies teacher gave a common project on the topic, History of Indian Partition, as depicted in novel Train to Pakistan and in history textbook as a part of internal assessment. This new approach for assessment in classroom promotes:

ଜଣେ ଇଂରାଜୀ ଓ ସାମାଜିକ ବିଜ୍ଞାନ ଶିକ୍ଷକ ଇଣ୍ଡିଆଲ ମୂଲ୍ୟାୟନ ପାଇଁ ଟ୍ରେନ୍ ଟୁ ପାକିସ୍ତାନ ପୁସ୍ତକ ଓ ଇତିହାସ ପାଠ୍ୟପୁସ୍ତକରୁ ଭାରତ ବିଭାଜନର ଇତିହାସ ଉପରେ ଏକ ସାଧାରଣ ପ୍ରକଳ୍ପ କରିବାକୁ କହିଲେ । ଶ୍ରେଣୀଗୃହରେ ମୂଲ୍ୟାୟନର ଏହି ନୂଆ ଉପାୟ କଣ ପ୍ରୋତ୍ସାହିତ କରେ ?

Options:**1) Integrated Education**

ଏକୀକୃତ ଶିକ୍ଷା

2) Traditional Education

ପାରମ୍ପରିକ ଶିକ୍ଷା

3) Inclusive Education

ଅନ୍ତର୍ଭିତ୍ତି ଶିକ୍ଷା

4) Formal Education

ଔପଚାରିକ ଶିକ୍ଷା

Correct Answer: 1) Integrated Education

ଏକୀକୃତ ଶିକ୍ଷା

Candidate Answer: 1) Integrated Education

ଏକୀକୃତ ଶିକ୍ଷା

QID : 326 - What among the following is not expected from a teacher?

ନିମ୍ନଲିଖିତ ମଧ୍ୟରୁ କେଉଁଟି ଜଣେ ଶିକ୍ଷକଙ୍କ ଠାରୁ ଆଶା କରାଯାଏ ନାହିଁ ?

Options:

1) Master her subject

ନିଜ ବିଷୟରେ ଦକ୍ଷତା

2) Encourage students to become life-long learners

ପିଲାମାନଙ୍କୁ ଜୀବନବ୍ୟାପି ଶିକ୍ଷାଗ୍ରହଣ କରିବା ପାଇଁ ପ୍ରୋତ୍ସାହିତ କରିବା

3) Give good marks to her students

ନିଜ ଛାତ୍ରମାନଙ୍କୁ ଭଲ ମାର୍କ ଦେବା

4) Develop new teaching practices and techniques

ନୂଆ ଶିକ୍ଷଣ ଅଭ୍ୟାସ ଓ କୌଶଳ ବିକାଶ କରିବା

Correct Answer: 3) Give good marks to her students

ନିଜ ଛାତ୍ରମାନଙ୍କୁ ଭଲ ମାର୍କ ଦେବା

Candidate Answer: 3) Give good marks to her students

ନିଜ ଛାତ୍ରମାନଙ୍କୁ ଭଲ ମାର୍କ ଦେବା

QID : 327 - Which one of the following is not correct of CCE (Continuous and Comprehensive Evaluation)?

CCE (ନିରନ୍ତର ଓ ବ୍ୟାପକ ଶିକ୍ଷା) କ୍ଷେତ୍ରରେ ନିମ୍ନଲିଖିତ କେଉଁଟି ଠିକ୍ ନୁହେଁ ?

Options:

1) It makes teaching -learning more child centric

ଏହା ଶିକ୍ଷାକୁ ଅଧିକ ଶିକ୍ଷାର୍ଥୀ କେନ୍ଦ୍ରୀକ କରେ

2) CCE was introduced to get away with exam-centric approach of evaluation

ମୂଲ୍ୟାଙ୍କନ ପରୀକ୍ଷା କେନ୍ଦ୍ରୀକ ଗୁଣକୁ ବାଦ ଦେବା ପାଇଁ CCE ପ୍ରସ୍ତୁତ କରାଯାଇଥିଲା

3) It focuses on a holistic development of child's personality

ଏହା ଶିଶୁର ବ୍ୟକ୍ତିତ୍ୱର ପୂର୍ଣ୍ଣ ବିକାଶ ଉପରେ ଧ୍ୟାନ ଦିଏ

4) It makes students life stress and exam free.

ଏହା ପିଲାର ଜୀବନକୁ ଚିନ୍ତାମୁକ୍ତ ଓ ପରୀକ୍ଷାମୁକ୍ତ କରେ

Correct Answer: 4) It makes students life stress and exam free.

ଏହା ପିଲାର ଜୀବନକୁ ଚିନ୍ତାମୁକ୍ତ ଓ ପରୀକ୍ଷାମୁକ୍ତ କରେ

Candidate Answer: 4) It makes students life stress and exam free.

ଏହା ପିଲାର ଜୀବନକୁ ଚିନ୍ତାମୁକ୍ତ ଓ ପରୀକ୍ଷାମୁକ୍ତ କରେ

QID : 328 - As per Right to Education Act, 2005, what is the total number of working hours per week, including the preparation hours, for a teacher at primary level of school education?

ଶିକ୍ଷା ଅଧିକାର ଆଇନ୍, 2005 ହିସାବରେ, ପ୍ରାଥମିକ ଶିକ୍ଷା ବିଦ୍ୟାଳୟରେ ପ୍ରସ୍ତୁତି ସମୟକୁ ମିଶାଇ ସପ୍ତାହରେ କାର୍ଯ୍ୟାୟକ୍ରମ କେତେ ସମୟ ରହିବ ?

Options:

- 1) 25 hours/week
25 ଘଣ୍ଟା/ସପ୍ତାହ
- 2) 35 hours/week
35 ଘଣ୍ଟା/ସପ୍ତାହ
- 3) 45 hours/week
45 ଘଣ୍ଟା/ସପ୍ତାହ
- 4) 55 hours/week
55 ଘଣ୍ଟା/ସପ୍ତାହ

Correct Answer: 3) 45 hours/week
45 ଘଣ୍ଟା/ସପ୍ତାହ

Candidate Answer: 3) 45 hours/week
45 ଘଣ୍ଟା/ସପ୍ତାହ

QID : 329 - Which among the following is not correct of National Council of Educational Research and Training (NCERT) in India?

କାତାୟ ଶିକ୍ଷା ଗବେଷଣା ଓ ପ୍ରଶିକ୍ଷଣ ପରିଷଦ (NCERT) ସମ୍ପର୍କରେ ନିମ୍ନଲିଖିତ ମଧ୍ୟରୁ କଣ ଠିକ୍ ନୁହେଁ ?

Options:

- 1) It is the apex body for curriculum- related matters for school education in India.
ଏହା ଭାରତରେ ବିଦ୍ୟାଳୟ ସ୍ତରୀୟ ଶିକ୍ଷାରେ ପାଠ୍ୟକ୍ରମ ସମ୍ପର୍କିତ ବିଷୟ ପାଇଁ କାର୍ଯ୍ୟରତ ସଂସ୍ଥା ଅଟେ ।
- 2) Provides academic support and technical assistance in improving the quality of education in India
ଭାରତରେ ଶିକ୍ଷାର ମାନ ବୃଦ୍ଧି କରିବା ପାଇଁ ଏହା ଶୈକ୍ଷିକ ସହଯୋଗ ଓ ବୈଷୟିକ ସହଯୋଗ କରେ ।
- 3) It is the academic adviser to the Finance Ministry of the Government of India.
ଏହା ଭାରତ ସରକାରଙ୍କ ଅର୍ଥ ମନ୍ତ୍ରଣାଳୟର ଶୈକ୍ଷିକ ସହାୟକ ଅଟେ ।
- 4) It conducts and promotes educational research
ଏହା ଶିକ୍ଷା ସମ୍ପର୍କୀୟ ଗବେଷଣା କରାଇଥାଏ ଓ ପ୍ରୋତ୍ସାହିତ କରାଇଥାଏ ।

Correct Answer: 3) It is the academic adviser to the Finance Ministry of the Government of India.
ଏହା ଭାରତ ସରକାରଙ୍କ ଅର୍ଥ ମନ୍ତ୍ରଣାଳୟର ଶୈକ୍ଷିକ ସହାୟକ ଅଟେ ।

Candidate Answer: 3) It is the academic adviser to the Finance Ministry of the Government of India.
ଏହା ଭାରତ ସରକାରଙ୍କ ଅର୍ଥ ମନ୍ତ୍ରଣାଳୟର ଶୈକ୍ଷିକ ସହାୟକ ଅଟେ ।

QID : 330 - Read the following statements and mark the correct answer:

- [I] Assessment: Collecting information on the learners' learning using a variety of procedures.
[II] Evaluation: Making judgements on the basis of information collected.

ନିମ୍ନରେ ଥିବା ବକ୍ତବ୍ୟ ପଢନ୍ତୁ ଓ ଠିକ୍ ଉତ୍ତର ଦର୍ଶାନ୍ତୁ:

- [I] ମୂଲ୍ୟାୟନ: ବିଭିନ୍ନ ପ୍ରଣାଳୀ ବ୍ୟବହାର କରି ଶିକ୍ଷାର୍ଥୀର ଶିକ୍ଷା ସମ୍ପର୍କରେ ସୂଚନା ସଂଗ୍ରହ କରିବା ।
[II] ମୂଲ୍ୟାଙ୍କନ: ସଂଗୃହୀତ ସୂଚନା ଉପରେ ମତାମତ ପ୍ରକାଶ କରିବା ।

Options:

- 1) [I] correct, [II] wrong
[I] ଠିକ୍, [II] ଭୁଲ୍
- 2) [I] wrong, [II] correct
[I] ଭୁଲ୍, [II] ଠିକ୍
- 3) Both [I] and [II] correct
ଉଭୟ [I] ଓ [II] ଠିକ୍
- 4) Both [I] and [II] wrong
ଉଭୟ [I] ଓ [II] ଭୁଲ୍

Correct Answer: 3) Both [I] and [II] correct
ଉଭୟ [I] ଓ [II] ଠିକ୍

Candidate Answer: 3) Both [I] and [II] correct
ଉଭୟ [I] ଓ [II] ଠିକ୍

QID : 331 - ସ୍ଵାଭାବିକ ଭାବେ ଶିଖୁଥିବା ଭାଷାକୁ _____ କୁହାଯାଏ ।

Options:

- 1) ପ୍ରଥମ ଭାଷା
- 2) ଭାଷା ଅଧିଗ୍ରହଣ ବା ଦଖଲ
- 3) ଦ୍ଵିତୀୟ ଭାଷା
- 4) ଉପରୋକ୍ତ ମଧ୍ୟରୁ କୌଣସିଟି ନୁହେଁ

Correct Answer: 1) ପ୍ରଥମ ଭାଷା

Candidate Answer: 1) ପ୍ରଥମ ଭାଷା

QID : 332 - ମାତୃଭାଷା ସଠିକ ଭାବେ ବୁଝିବା ଦ୍ଵାରା ଜ୍ଞାତୁଛାତ୍ରୀଙ୍କୁ _____ ପଢ଼ିବାର ଅଭ୍ୟାସ ସୃଷ୍ଟି ହୋଇଥାଏ ।

Options:

- 1) ଶିକ୍ଷା
- 2) ଭାଷା ଅଧିଗ୍ରହଣ
- 3) ଜ୍ଞାନ ଅଧିଗ୍ରହଣ
- 4) ସୂଚନା ଅଧିଗ୍ରହଣ

Correct Answer: 3) ଜ୍ଞାନ ଅଧିଗ୍ରହଣ

Candidate Answer: 2) ଭାଷା ଅଧିଗ୍ରହଣ

QID : 333 - ଜଣେ ଶିକ୍ଷାର୍ଥୀ କିପରି ଭଲ ବକ୍ତବ୍ୟ ବା କହିବା ଶୈଳୀ ହାସଲ କରି ପରିବ ?

Options:

- 1) ଗଭୀର ଭାବେ ଅନୁକରଣ କରି କିମ୍ବା ଅଭ୍ୟାସ କରି
- 2) ଭଲ ଶିକ୍ଷାବଳୀର ଜ୍ଞାନ ରଖି
- 3) କଥାବସ୍ତୁର ସରଳୀକରଣ କରି
- 4) ଲମ୍ବା ବାକ୍ୟ ମନେ ରଖି

Correct Answer: 1) ଗଭୀର ଭାବେ ଅନୁକରଣ କରି କିମ୍ବା ଅଭ୍ୟାସ କରି

Candidate Answer: 1) ଗଭୀର ଭାବେ ଅନୁକରଣ କରି କିମ୍ବା ଅଭ୍ୟାସ କରି

QID : 334 - _____ ଭାଷା ଏବଂ ସଂସ୍କୃତି ମଧ୍ୟରେ କଥୋପକଥନ ଏବଂ ସମ୍ପର୍କର ଜାତୀୟ ବୁଝିବା ପାଇଁ ଉଚ୍ଚ ମାଧ୍ୟମିକ ଶିକ୍ଷାର୍ଥୀଙ୍କୁ ସାହାଯ୍ୟ କରିପାରେ, ଯାହା କି ଭାଷାଗତ ଜ୍ଞାନରେ ଦକ୍ଷତା ହାସଲ କରିବା, ସୂଚନା ପ୍ରାପ୍ତ କରିବା ଏବଂ ଭାଷା ଉପଯୋଗର କ୍ଷମତାରେ ସୁଧାର ଆଣିବାର ଆଧାର ଅଟେ | ବିକଳ ଗୁଡ଼ିକରୁ ସଠିକ ଶବ୍ଦ ଖାଲି ସ୍ଥାନରେ ଭରନ୍ତୁ |

Options:

- 1) ଲେଖିବା
- 2) କହିବା
- 3) ଶୁଣିବା
- 4) ଅଧ୍ୟୟନ କରିବା

Correct Answer: 4) ଅଧ୍ୟୟନ କରିବା

Candidate Answer: 3) ଶୁଣିବା

QID : 335 - ଜଣେ ଶିକ୍ଷକ ଶିକ୍ଷାଦାନର ପ୍ରାରମ୍ଭରେ _____ ଉପରେ ଭରସା କରିପାରିବେ ନାହିଁ |

Options:

- 1) ପ୍ରଶଂସା
- 2) ମୁଖ୍ୟତାକରଣ
- 3) ସମାଲୋଚନା
- 4) ସାମୁଦ୍ରିକକରଣ

Correct Answer: 2) ମୁଖ୍ୟତାକରଣ

Candidate Answer: 2) ମୁଖ୍ୟତାକରଣ

QID : 336 - ଶିଶୁଙ୍କ ପ୍ରକ୍ରିୟାରେ ପ୍ରତ୍ୟେକ ପିଲା କେତୋଟି ସୋପାନ ଦେଇ ଅତିକ୍ରମ କରିଥାଏ ?

Options:

- 1) 3
- 2) 4
- 3) 5
- 4) 6

Correct Answer: 2) 4

Candidate Answer: 2) 4

QID : 337 - ଗ୍ରାମାର କିପରି ପଢ଼ାଇବା ଉଚିତ୍?

Options:

- 1) ଉତ୍ତମ ରୂପେ ବର୍ଣ୍ଣନା କରିବା ସହିତ
- 2) କଥା କହିବା ଅଭ୍ୟାସ ସହିତ
- 3) ଲେଖିବା ପାଇଁ କିଛି ଆସାଇନମେଣ୍ଟ ଦେବା
- 4) ଶିକ୍ଷାର୍ଥୀମାନଙ୍କୁ ନିୟମଗୁଡ଼ିକୁ ଶିଖାଇବା

Correct Answer: 2) କଥା କହିବା ଅଭ୍ୟାସ ସହିତ

Candidate Answer: 4) ଶିକ୍ଷାର୍ଥୀମାନଙ୍କୁ ନିୟମଗୁଡ଼ିକୁ ଶିଖାଇବା

QID : 338 - ଗୋଟିଏ ଶବ୍ଦର ଅର୍ଥ କିପରି ଜାଣିବାକୁ ହୁଏ?

Options:

- 1) କଣ୍ଠେକ୍ସ୍ ସହିତ ଥିବା ସମ୍ପର୍କ
- 2) ଶବ୍ଦକୋଷ
- 3) ଉତ୍ପତ୍ତି ସ୍ଥଳ
- 4) ବନାନ୍

Correct Answer: 3) ଉତ୍ପତ୍ତି ସ୍ଥଳ

Candidate Answer: 2) ଶବ୍ଦକୋଷ

QID : 339 - ଭାଷା ଶିଖିବାର ଉପାୟଗୁଡ଼ିକ କ'ଣ?

Options:

- 1) ଭବିତ ଉପାୟରେ
- 2) ଦୀର୍ଘକାଳୀନ ପ୍ରକ୍ରିୟା
- 3) ମନ୍ଦର ପ୍ରକ୍ରିୟା
- 4) ଏଗୁଡ଼ିକରୁ କୌଣସିଟି ନୁହେଁ

Correct Answer: 3) ମନ୍ଦର ପ୍ରକ୍ରିୟା

Candidate Answer: 2) ଦୀର୍ଘକାଳୀନ ପ୍ରକ୍ରିୟା

QID : 340 - ଗୋଟିଏ 5th ଶ୍ରେଣୀର ଛାତ୍ରର ଭୋକାବୁଲାରୀକୁ _____ ସାହାଯ୍ୟରେ ବୁଦ୍ଧି କରାଯାଇପାରିବ।

Options:

- 1) ଗ୍ରାଫ୍ ଓ ଇମେଜ୍ ସାହାଯ୍ୟରେ
- 2) ସିମାଣ୍ଟିକ୍ ଲର୍ନିଂ
- 3) ଫୋନ୍ ସାହାଯ୍ୟରେ
- 4) ଉଭୟ ଗ୍ରାଫ୍ ଓ ଫୋନ୍ ସାହାଯ୍ୟରେ

Correct Answer: 2) ସିମାଣ୍ଟିକ୍ ଲର୍ନିଂ**Candidate Answer: 2) ସିମାଣ୍ଟିକ୍ ଲର୍ନିଂ****QID : 341 - ଭାଷା ଶିକ୍ଷାର୍ଥୀମାନଙ୍କର କାହିଁକି ଆକଳନ କରାଯିବା ଉଚିତ ?****Options:**

- 1) ଶିକ୍ଷକମାନେ ଭଲ ନିଷ୍ପତ୍ତି ନେବାପାଇଁ ପ୍ରମାଣ ସଂଗ୍ରହ କରିବା ଆବଶ୍ୟକ
- 2) ଶିକ୍ଷକମାନେ ଛାତ୍ରମାନଙ୍କୁ ହତୋତ୍ସାହିତ କରିବା ଆବଶ୍ୟକ
- 3) ଶିକ୍ଷକମାନେ ଛାତ୍ରମାନଙ୍କ ତ୍ରୁଟି ଦର୍ଶାଇବା ଆବଶ୍ୟକ
- 4) ଉପରୋକ୍ତ ମଧ୍ୟରୁ ସମସ୍ତ

Correct Answer: 1) ଶିକ୍ଷକମାନେ ଭଲ ନିଷ୍ପତ୍ତି ନେବାପାଇଁ ପ୍ରମାଣ ସଂଗ୍ରହ କରିବା ଆବଶ୍ୟକ**Candidate Answer: 4) ଉପରୋକ୍ତ ମଧ୍ୟରୁ ସମସ୍ତ****QID : 342 - ନିମ୍ନଲିଖିତ ମଧ୍ୟରୁ କେଉଁଟିକୁ ଶିକ୍ଷାର୍ଥୀଙ୍କ ଅଗ୍ରଗତି ଉଲ୍ଲେଖ କରିବା ପାଇଁ ବ୍ୟବହାର କରିହେବ?****Options:**

- 1) ଛାତ୍ର-ପିତାମାତା-ଶିକ୍ଷକ ବୈଠକ
- 2) ଗ୍ରେଡ୍‌ଗୁଡ଼ିକ
- 3) ଷ୍ଟୋରଗୁଡ଼ିକ
- 4) ଉପରୋକ୍ତ ମଧ୍ୟରୁ ସମସ୍ତ

Correct Answer: 4) ଉପରୋକ୍ତ ମଧ୍ୟରୁ ସମସ୍ତ**Candidate Answer: 4) ଉପରୋକ୍ତ ମଧ୍ୟରୁ ସମସ୍ତ****QID : 343 - ନିମ୍ନୋକ୍ତ ବିକଳଗୁଡ଼ିକ ମଧ୍ୟରୁ କେଉଁଟି ଠିକ୍? ରଚନାତ୍ମକ ଆକଳନ ମଧ୍ୟରେ ରହିଛି _____****Options:**

- 1) ସାହାଯ୍ୟ ପ୍ରଦାନ ନିମନ୍ତେ ଅତିରିକ୍ତ ସୂଚନା ହାସଲ କରିବା
- 2) ଶିକ୍ଷାର୍ଥୀଙ୍କ ପାଇଁ ବିଷୟ କଷ୍ଟକର ହେଉଥିବା କ୍ଷେତ୍ରରେ ଭିନ୍ନ ସାମଗ୍ରୀ ଉପଯୋଗ କରାଯିବା ଆବଶ୍ୟକ କି ଜାଣିବା ପାଇଁ ସୂଚନା ହାସଲ
- 3) ଯଦି ଶିକ୍ଷାର୍ଥୀ ପ୍ରାସଙ୍ଗିକ କୌଶଳ ହାସଲ କରିଥା'ନ୍ତି ତେବେ ଅଧିକ ଆହ୍ୱାନକାରୀ କାର୍ଯ୍ୟକଳାପର ବ୍ୟବସ୍ଥା
- 4) ଉପରୋକ୍ତ ମଧ୍ୟରୁ ସମସ୍ତ

Correct Answer: 4) ଉପରୋକ୍ତ ମଧ୍ୟରୁ ସମସ୍ତ

Candidate Answer: 4) ଉପରୋକ୍ତ ମଧ୍ୟରୁ ସମସ୍ତ

QID : 344 - ନିମ୍ନୋକ୍ତ ବିକଳଗୁଡ଼ିକ ମଧ୍ୟରୁ କେଉଁଟି ଠିକ୍? କେଉଁ ଇଂରାଜୀ ଶବ୍ଦଗୁଡ଼ିକ ଶିକ୍ଷାର୍ଥୀମାନଙ୍କ ପାଇଁ କଷ୍ଟକର ତାହା ଚିହ୍ନଟ କରିବା ଏବଂ ସେହି ଅନୁଯାୟୀ ଶିକ୍ଷକମାନେ ଉପଯୋଗୀ ଅଭ୍ୟାସ ଅନୁଶୀଳନ କରିବାରେ ସାହାଯ୍ୟ କରିବା ପାଇଁ _____ ଆକଳନ ବ୍ୟବହାର କରାଯାଏ।

Options:

- 1) ରଚନାତ୍ମକ ଆକଳନ
- 2) ଯୋଗାତ୍ମକ ଆକଳନ
- 3) ପ୍ରାକ୍-ଆକଳନ
- 4) ଚିହ୍ନଟ ସମସ୍ୟା ଅନୁଯାୟୀ ସମାଧାନ

Correct Answer: 1) ରଚନାତ୍ମକ ଆକଳନ

Candidate Answer: 4) ଚିହ୍ନଟ ସମସ୍ୟା ଅନୁଯାୟୀ ସମାଧାନ

QID : 345 - ଶିକ୍ଷାର୍ଥୀମାନଙ୍କଠାରେ ପଢ଼ିବା ଶୈଳୀକୁ ଉନ୍ନତ କରିବା ଶିକ୍ଷକମାନେ କ'ଣ କରିବା ଉଚିତ?

Options:

- 1) ଗୋଟିଏ ପ୍ୟାସେଜ୍ କିମ୍ବା ଚାପୁରକୁ ଶୀଘ୍ର ପଢ଼ନ୍ତୁ
- 2) ଭଲ ଭାବେ ବୁଝିବା ପାଇଁ ସେହି ବିଷୟକୁ ନେଇ ପ୍ରଶ୍ନ ତିଆରି କରନ୍ତୁ
- 3) ଶିକ୍ଷାର୍ଥୀମାନଙ୍କୁ ନିଜକୁ ନିଜେ ପଢ଼ିବା ପାଇଁ କୁହନ୍ତୁ
- 4) ଗୋଟିଏ ପ୍ୟାସେଜ୍ କିମ୍ବା ଚାପୁରକୁ କେବଳ ଘରେ ପଢ଼ିବା ପାଇଁ କୁହନ୍ତୁ

Correct Answer: 2) ଭଲ ଭାବେ ବୁଝିବା ପାଇଁ ସେହି ବିଷୟକୁ ନେଇ ପ୍ରଶ୍ନ ତିଆରି କରନ୍ତୁ

Candidate Answer: 3) ଶିକ୍ଷାର୍ଥୀମାନଙ୍କୁ ନିଜକୁ ନିଜେ ପଢ଼ିବା ପାଇଁ କୁହନ୍ତୁ

QID : 346 - _____ ଦ୍ଵାରା ଶୁଣିବା ଅଭ୍ୟାସ ଉପରେ ଖରାପ ପ୍ରଭାବ ପଡ଼ିଥାଏ।

Options:

- 1) ଆବଶ୍ୟକ ଅନୁସାରେ ଶୁଣିବା କୌଶଳ
- 2) ଶୁଣିବା ଜିନିଷର ଏକ ସାମାନ୍ୟ ବାର୍ତ୍ତା
- 3) ଖୁବ୍ ଜୋର୍ରେ କଥା କହିବା
- 4) ଶିକ୍ଷାର୍ଥୀମାନଙ୍କର କଥାକୁ ଏକା ସାଙ୍ଗରେ ଶୁଣିବା

Correct Answer: 3) ଖୁବ୍ ଜୋର୍ରେ କଥା କହିବା

Candidate Answer: 3) ଖୁବ୍ ଜୋର୍ରେ କଥା କହିବା

QID : 347 - _____ ମାଧ୍ୟମରେ ଶିକ୍ଷାଦାନ ସମୟରେ ଶିକ୍ଷାର୍ଥୀମାନଙ୍କର ବେଶୀରୁ ବେଶୀ ଯୋଗଦାନ ସମ୍ଭବ ହେବ।

Options:

- 1) ଲେକ୍ଚର ମେଥଡ୍
- 2) ଟେକ୍ସଟ୍-ବୁକ୍ ମେଥଡ୍
- 3) ଅଡିଓ-ଭିଡିଓ ଆଲ୍ ଏଡ୍
- 4) ଆଲୋଚନା କରିବା ଉପାୟରେ

Correct Answer: 4) ଆଲୋଚନା କରିବା ଉପାୟରେ

Candidate Answer: 3) ଅଡିଓ-ଭିଡିଓ ଆଲ୍ ଏଡ୍

QID : 348 - ଭିକ୍ସ ଅ ଥେ ଫୋଲଲିଂ ଇସ୍ ନୋଟ ଅ ଇମ୍ପୋରଟାଣ୍ଟ ଚାରକଟେରିଷ୍ଟିକ ଅ ରେମେଡିଆଲ ଟିଚିଙ୍ଗ୍?

Options:

- 1) ଟାସ୍କସ
- 2) ଟିମେ ମେନେଜମେଣ୍ଟ
- 3) ପୁଣିଶ୍ଚମେଣ୍ଟ
- 4) ଗୁଇଡାନ୍ସ

Correct Answer: 3) ପୁଣିଶ୍ଚମେଣ୍ଟ

Candidate Answer: 2) ଟିମେ ମେନେଜମେଣ୍ଟ

QID : 349 - ଶିକ୍ଷାଦାନର _____ ଭର୍ବାଲ୍ ଗାଇଡାନ୍ସ କମ୍ ପ୍ରଭାବଶାଳୀ ହୋଇଥାଏ।

Options:

- 1) ସିଲ୍ସରେ
- 2) ଆଟିଚୁୟାନ୍ସରେ
- 3) କନ୍ସେପ୍ଟ୍ ଓ ଫ୍ୟାକ୍ଟ୍ରେ
- 4) ରିଲେଶନ୍ସିପ୍ରେ

Correct Answer: 1) ସିଲ୍ସରେ

Candidate Answer: 3) କନ୍ସେପ୍ଟ୍ ଓ ଫ୍ୟାକ୍ଟ୍ରେ

QID : 350 - “କାହିଁବା” ଶବ୍ଦ ପାଇଁ କଥାର କେଉଁ ଅଂଶ ବାକ୍ୟରେ ବ୍ୟବହାର ହୋଇଛି ?

Options:

- 1) ବିଶେଷ୍ୟ
- 2) ବିଶେଷଣ
- 3) କ୍ରିୟା
- 4) ସର୍ବନାମ

Correct Answer: 3) କ୍ରିୟା

Candidate Answer: 3) କ୍ରିୟା

QID : 351 - ନିମ୍ନୋକ୍ତ ବାକ୍ୟରୁ ସଠିକ୍ ବିଶେଷଣ ବାଛନ୍ତୁ । ମହାଲକ୍ଷ୍ମୀ ଶ୍ରେଣୀରେ ଅନୁପସ୍ଥିତ ଥିଲା ।

Options:

- 1) ଶ୍ରେଣୀ
- 2) ମହାଲକ୍ଷ୍ମୀ
- 3) ଅନୁପସ୍ଥିତ
- 4) ରୁ

Correct Answer: 3) ଅନୁପସ୍ଥିତ

Candidate Answer: 3) ଅନୁପସ୍ଥିତ

QID : 352 - ଗୋଟିଏ କ୍ରିୟା ବିଶେଷଣ ସହ ଶୂନ୍ୟ ସ୍ଥାନ ପୂରଣ କର । ମୁଁ _____ 10ଟା ଭିତରେ ଖଟକୁ ଯାଏ ।

Options:

- 1) ବେଳେବେଳେ
- 2) ଥରେ
- 3) ସବୁବେଳେ
- 4) ସାଧାରଣତଃ

Correct Answer: 4) ସାଧାରଣତଃ

Candidate Answer: 1) ବେଳେବେଳେ

QID : 353 - ସଠିକ୍ ପ୍ରିପୋଜିସନ୍ ସହ ଶୂନ୍ୟସ୍ଥାନ ପୂରଣ କରନ୍ତୁ । ମୋ ନିଜ କାର୍ ବ୍ୟତୀତ ଅନ୍ୟ କୌଣସି ଶୈଳୀରେ ଯାତ୍ରା କରିବା _____ ମୁଁ ଚିନ୍ତା ପାରିବି ନାହିଁ ।

Options:

- 1) ଉପରେ
- 2) ରେ
- 3) ନେଇ
- 4) ବିଷୟରେ

Correct Answer: 4) ବିଷୟରେ

Candidate Answer: 1) ଉପରେ

QID : 354 - ନିମ୍ନୋକ୍ତ ପଦ ସମ୍ପୂର୍ଣ୍ଣ କରନ୍ତୁ । ଭାଗ୍ୟ ସୁହାଏ _____

Options:

- 1) ସାହାସୀକୁ
- 2) ଭୀରୁକୁ
- 3) ନମ୍ର ବ୍ୟକ୍ତିକୁ
- 4) କାମଚୋରକୁ

Correct Answer: 1) ସାହାସୀକୁ**Candidate Answer: 4)** କାମଚୋରକୁ**QID : 355** - ମୂଲିଖିତ ଗଦ୍ୟାଂଶକୁ ଧ୍ୟାନର ସହିତ ପଢ଼ନ୍ତୁ ଏବଂ ନିମ୍ନରେ ଦିଆ ଯାଇଥିବା ପ୍ରଶ୍ନ ଗୁଡ଼ିକର ଉତ୍ତର ଦିଅନ୍ତୁ :

ପାହିଁଲା ଅନ୍ଧାର ରଜନୀ, ଉଠ ଉଠ ବାଳକେ
 ନବୀନ ପ୍ରଭାତ ସମୟ, ଏବେ ଗାଥ ପୁଲକେ ।
 ଦଶ ଦିଗ ଦେଖ ଉଜ୍ଜଳ, ପାଇ ରବି କିରଣ,
 ଫୁଲ ଫୁଟିଅଛି କାନନେ, ଧୀରେ ବହେ ପବନ ।
 ଥିଲେ ଅଚେତନ ନିଦ୍ରାରେ, ସର୍ବେ ଧରଣୀ ବାସୀ,
 କି ମନ୍ତ୍ର ପଢ଼ିଲା ପ୍ରଭାତ, କେଉଁ ଦେଶରୁ ଆସି ।
 ନବ ପ୍ରାଣ ଲଭି କ୍ଷଣକେ, ଜାଗି ଉଠିଲେ ସର୍ବେ
 ଆକାଶ ପୃଥିବୀ ପୁରିଲା, ମହା ଆନନ୍ଦ ରବେ ।
 ବିହଙ୍ଗେ ଗାଇଲେ ସଙ୍ଗୀତ, ଆହା କି ମନୋହର
 ସେ ଗୀତ ଶ୍ରବଣେ, ହୃଦୟ ନାଚି ଉଠେ ମୋହର ।
 ବିହଙ୍ଗ ସଙ୍ଗେତେ ବାଳକେ, ଗାଥ ଆନନ୍ଦ ମନେ
 ହୃଦୟେ ସୁମରି ଜଗତପିତା ସୃଷ୍ଟି କାରଣେ ।

ପଦ୍ୟର ବିଷୟବସ୍ତୁ କ'ଣ ?

Options:

- 1) ଶୀତକାଳୀନ ଦୁଃସମୟ
- 2) ଚନ୍ଦ୍ରାଲୋକ
- 3) ଗ୍ରୀଷ୍ମ
- 4) ପ୍ରକୃତିର ବର୍ଣ୍ଣନା

Correct Answer: 4) ପ୍ରକୃତିର ବର୍ଣ୍ଣନା**Candidate Answer: 4)** ପ୍ରକୃତିର ବର୍ଣ୍ଣନା

QID : 356 - ମୂଲ୍ୟୁତ ଗଦ୍ୟାଂଶକୁ ଧ୍ୟାନର ସହିତ ପଢ଼ନ୍ତୁ ଏବଂ ନିମ୍ନରେ ଦିଆ ଯାଇଥିବା ପ୍ରଶ୍ନ ଗୁଡ଼ିକର ଉତ୍ତର ଦିଅନ୍ତୁ :

ପାହିଲା ଅନ୍ଧାର ରଜନୀ, ଉଠ ଉଠ ବାଳକେ
ନବୀନ ପ୍ରଭାତ ସମୟ, ଏବେ ଗାଅ ପୁଲକେ ।
ଦଶ ଦିଗ ଦେଖ ଉଜ୍ଜଳ, ପାଇ ରବି କିରଣ,
ଫୁଲ ଫୁଟିଅଛି କାନନେ, ଧୀରେ ବହେ ପବନ ।
ଥୁଲେ ଅଚେତନ ନିଦ୍ରାରେ, ସର୍ବେ ଧରଣୀ ବାସୀ,
କି ମନ୍ତ୍ର ପଢ଼ିଲା ପ୍ରଭାତ, କେଉଁ ଦେଶରୁ ଆସି ।
ନବ ପ୍ରାଣ ଲଭି କ୍ଷଣକେ, ଜାଗି ଉଠିଲେ ସର୍ବେ
ଆକାଶ ପୃଥିବୀ ପୁରିଲା, ମହା ଆନନ୍ଦ ରବେ ।
ବିହଙ୍ଗେ ଗାଇଲେ ସଙ୍ଗୀତ, ଆହା କି ମନୋହର
ସେ ଗୀତ ଶ୍ରବଣେ, ହୃଦୟ ନାଚି ଉଠେ ମୋହର ।
ବିହଙ୍ଗ ସଙ୍ଗତେ ବାଳକେ, ଗାଅ ଆନନ୍ଦ ମନେ
ହୃଦୟେ ସୁମରି ଜଗତପିତା ସୃଷ୍ଟି କାରଣେ ।

କବି ପିଲାମାନଙ୍କୁ କ'ଣ ମନେପକାଇ ଦେଉଛନ୍ତି?

Options:

- 1) ସୂର୍ଯ୍ୟ କେତେବେଳେ ଉଦୟ ହୁଅନ୍ତି
- 2) କିଏ ପବନକୁ ପ୍ରବାହିତ କରନ୍ତି
- 3) ପୃଥିବୀ କେତେବେଳେ ଜାଗ୍ରତ ହୁଏ
- 4) ବିଶ୍ୱର ସୃଷ୍ଟି କିଏ

Correct Answer: 2) କିଏ ପବନକୁ ପ୍ରବାହିତ କରନ୍ତି

Candidate Answer: 3) ପୃଥିବୀ କେତେବେଳେ ଜାଗ୍ରତ ହୁଏ

QID : 357 - ମୂଲ୍ୟୁତ ଗଦ୍ୟାଂଶକୁ ଧ୍ୟାନର ସହିତ ପଢ଼ନ୍ତୁ ଏବଂ ନିମ୍ନରେ ଦିଆ ଯାଇଥିବା ପ୍ରଶ୍ନ ଗୁଡ଼ିକର ଉତ୍ତର ଦିଅନ୍ତୁ :

ପାହିଲା ଅନ୍ଧାର ରଜନୀ, ଉଠ ଉଠ ବାଳକେ
ନବୀନ ପ୍ରଭାତ ସମୟ, ଏବେ ଗାଅ ପୁଲକେ ।
ଦଶ ଦିଗ ଦେଖ ଉଜ୍ଜଳ, ପାଇ ରବି କିରଣ,
ଫୁଲ ଫୁଟିଅଛି କାନନେ, ଧୀରେ ବହେ ପବନ ।
ଥୁଲେ ଅଚେତନ ନିଦ୍ରାରେ, ସର୍ବେ ଧରଣୀ ବାସୀ,
କି ମନ୍ତ୍ର ପଢ଼ିଲା ପ୍ରଭାତ, କେଉଁ ଦେଶରୁ ଆସି ।
ନବ ପ୍ରାଣ ଲଭି କ୍ଷଣକେ, ଜାଗି ଉଠିଲେ ସର୍ବେ
ଆକାଶ ପୃଥିବୀ ପୁରିଲା, ମହା ଆନନ୍ଦ ରବେ ।
ବିହଙ୍ଗେ ଗାଇଲେ ସଙ୍ଗୀତ, ଆହା କି ମନୋହର
ସେ ଗୀତ ଶ୍ରବଣେ, ହୃଦୟ ନାଚି ଉଠେ ମୋହର ।
ବିହଙ୍ଗ ସଙ୍ଗତେ ବାଳକେ, ଗାଅ ଆନନ୍ଦ ମନେ
ହୃଦୟେ ସୁମରି ଜଗତପିତା ସୃଷ୍ଟି କାରଣେ ।

କାହା ସହିତ ପିଲାମାନେ ଖୁସିର ସଙ୍ଗୀତ ଗାନ କରନ୍ତି?

Options:

- 1) ଆକାଶ
- 2) ଆର୍ଥଲିଂ
- 3) ପକ୍ଷୀ
- 4) ପୃଥିବୀ

Correct Answer: 3) ପକ୍ଷୀ

Candidate Answer: 3) ପକ୍ଷୀ

QID : 358 - ନିମ୍ନଲିଖିତ କବିତାକୁ ଧ୍ୟାନରେ ପଢ଼ନ୍ତୁ ଏବଂ ଦୁଇରୁ ପାଞ୍ଚ ପର୍ଯ୍ୟନ୍ତ ପ୍ରଶ୍ନର ଉତ୍ତର ଦିଅନ୍ତୁ ।

ଚାରୋଟି କାଦୁଆଖୁଣ୍ଟୀ ଚଢ଼େଇ ଖୁସି ଏବଂ

ଉତ୍ସାହିତ ଥିଲେ, କାରଣ କାଦୁଆରେ ରହୁଥିବା

ଛୋଟ ମାଛ ଶାକାର କରିବାକୁ ଏବଂ ଖାଇବାକୁ ସେମାନେ ସମର୍ଥ ହୋଇଛନ୍ତି।

ପ୍ରାୟ ଷୋହଳରୁ କୋଡ଼ିଏଟି ପର୍ଯ୍ୟନ୍ତ ଧଳା ଓ

ମାଟିଆ ବଗ କାଦୁଆକୁ ସକାଳୁ ରାତି ପର୍ଯ୍ୟନ୍ତ ଦରିଦ୍ର କୃଷି ଶ୍ରମିକଙ୍କ ପରି ଲେଉଟ ପାଉଟ କରିଛନ୍ତି।

ଏହା ତୃତୀୟ ପ୍ରମାଣ ଯେ ପୋଖରୀରେ ମାଛ ଅଛନ୍ତି। ହଠାତ୍ ହଳେ ମାଛରଙ୍କା କେଉଁଠୁ ଆସି ପହଞ୍ଚିଗଲେ ପାଣିକୁ କେଇଥର ଡୁବ ମାରିଲେ।

ନିଜ ପାଇଁ ଖାଦ୍ୟ ସଂଗ୍ରହ କଲେ ଏବଂ ଫୁର୍କିନା ଉଡ଼ିଗଲେ। କୁଳରେ ବସି ଗୋଟିଏ ଏକୃତିଆ ମାଛରଙ୍କା ଖରା ପୋଉଥିଲା, ତା'ର

ଡେଶାଗୁଡ଼ିକ ଜଣେ ମେମ୍ ସାହବଙ୍କ ଗାଉନ୍ ପରି ଖୋଲାଥିଲା । ଓଃ ନିର୍ବୋଧ ହିନ୍ଦୁ ବଗଗୁଡ଼ିକ ଏହି ଇଂରେଜ ମାଛ ରଙ୍କା ଆଡ଼କୁ ଅନାଇଲେ

ଯେଉଁମାନେ ଖାଲି ପକେଟ୍ରେ କେଉଁଠୁ ଆସି ପହଞ୍ଚିଯାଇଥିଲେ, ପୋଖରୀର ସବୁ ପ୍ରକାର ମାଛରେ ନିଜକୁ ପରିପୂର୍ଣ୍ଣ କଲେ ଏବଂ ଏହାପରେ

ଉଡ଼ିତାଲିଗଲେ। ତୁମେ ପୋଖରୀ ନିକଟରେ ବରଗଛରେ ବାସ କର। କିନ୍ତୁ ସାରାଦିନ ବ୍ୟାପୀ କାଦୁଆ ଏବଂ ପାଣି ଚକଟିବା ପରେ ବି

ତୁମେମାନେ ଅଳ୍ପ କେଇଟି ଦୁର୍ବଳ ମାଛ ପାଆ । ତୁମେମାନେ ବର୍ତ୍ତମାନ ଏକ କଷ୍ଟକର ସମୟରେ ରହୁଛ । ଅଧିକରୁ ଅଧିକ ମାଛରଙ୍କାମାନେ

ପୋଖରୀକୁ ଓହ୍ଲାଇବେ ଏବଂ ସବୁଠାରୁ ଭଲ ମାଛ ନେଇ ଚାଲିଯିବେ । ତୁମମାନଙ୍କର କୌଣସି ଆଶା ନାହିଁ, କୌଣସି ଭବିଷ୍ୟତ ନାହିଁ, ଯେ

ପର୍ଯ୍ୟନ୍ତ ତୁମେ ବିଦେଶ ଯାଇନ କିମ୍ବା ଶିଖିନ କେମିତି ମହାସାଗରରେ ପହଞ୍ଚିବାକୁ ହେବ।

ଉପରୋକ୍ତ ଗଦ୍ୟାଂଶରେ ଲେଖକ ପ୍ରକୃତରେ କେଉଁ ଅର୍ଥ ଜଣାଇବାକୁ ଚାହୁଁଛନ୍ତି?

Options:

- 1) ଇଂରେଜମାନଙ୍କ ଉପରେ ହିନ୍ଦୁଙ୍କର ଆଧିପତ୍ୟ
- 2) ହିନ୍ଦୁଙ୍କ ଉପରେ ଇଂରେଜମାନଙ୍କର ଆଧିପତ୍ୟ
- 3) କୃଷକଙ୍କ ଉପରେ ମହାଜନମାନଙ୍କର ଆଧିପତ୍ୟ
- 4) ମହାଜନମାନଙ୍କ ଉପରେ କୃଷକଙ୍କର ଆଧିପତ୍ୟ

Correct Answer: 2) ହିନ୍ଦୁଙ୍କ ଉପରେ ଇଂରେଜମାନଙ୍କର ଆଧିପତ୍ୟ

Candidate Answer: 3) କୃଷକଙ୍କ ଉପରେ ମହାଜନମାନଙ୍କର ଆଧିପତ୍ୟ

QID : 359 - ନିମ୍ନଲିଖିତ କବିତାକୁ ଧ୍ୟାନରେ ପଢ଼ନ୍ତୁ ଏବଂ ଦୁଇରୁ ପାଞ୍ଚ ପର୍ଯ୍ୟନ୍ତ ପ୍ରଶ୍ନର ଉତ୍ତର ଦିଅନ୍ତୁ ।

ଚାରୋଟି କାଦୁଆଖୁଣ୍ଟୀ ଚଢ଼େଇ ଖୁସି ଏବଂ

ଉତ୍ସାହିତ ଥିଲେ, କାରଣ କାଦୁଆରେ ରହୁଥିବା

ଛୋଟ ମାଛ ଶାକାର କରିବାକୁ ଏବଂ ଖାଇବାକୁ ସେମାନେ ସମର୍ଥ ହୋଇଛନ୍ତି।

ପ୍ରାୟ ଷୋହଳରୁ କୋଡ଼ିଏଟି ପର୍ଯ୍ୟନ୍ତ ଧଳା ଓ

ମାଟିଆ ବଗ କାଦୁଆକୁ ସକାଳୁ ରାତି ପର୍ଯ୍ୟନ୍ତ ଦରିଦ୍ର କୃଷି ଶ୍ରମିକଙ୍କ ପରି ଲେଉଟ ପାଉଟ କରିଛନ୍ତି।

ଏହା ତୃତୀୟ ପ୍ରମାଣ ଯେ ପୋଖରୀରେ ମାଛ ଅଛନ୍ତି। ହଠାତ୍ ହଳେ ମାଛରଙ୍କା କେଉଁଠୁ ଆସି ପହଞ୍ଚିଗଲେ ପାଣିକୁ କେଇଥର ଡୁବ ମାରିଲେ।

ନିଜ ପାଇଁ ଖାଦ୍ୟ ସଂଗ୍ରହ କଲେ ଏବଂ ଫୁର୍କିନା ଉଡ଼ିଗଲେ। କୁଳରେ ବସି ଗୋଟିଏ ଏକୃତିଆ ମାଛରଙ୍କା ଖରା ପୋଉଥିଲା, ତା'ର

ଡେଶାଗୁଡ଼ିକ ଜଣେ ମେମ୍ ସାହବଙ୍କ ଗାଉନ୍ ପରି ଖୋଲାଥିଲା । ଓଃ ନିର୍ବୋଧ ହିନ୍ଦୁ ବଗଗୁଡ଼ିକ ଏହି ଇଂରେଜ ମାଛ ରଙ୍କା ଆଡ଼କୁ ଅନାଇଲେ

ଯେଉଁମାନେ ଖାଲି ପକେଟ୍ରେ କେଉଁଠୁ ଆସି ପହଞ୍ଚିଯାଇଥିଲେ, ପୋଖରୀର ସବୁ ପ୍ରକାର ମାଛରେ ନିଜକୁ ପରିପୂର୍ଣ୍ଣ କଲେ ଏବଂ ଏହାପରେ

ଉଡ଼ିତାଲିଗଲେ। ତୁମେ ପୋଖରୀ ନିକଟରେ ବରଗଛରେ ବାସ କର। କିନ୍ତୁ ସାରାଦିନ ବ୍ୟାପୀ କାଦୁଆ ଏବଂ ପାଣି ଚକଟିବା ପରେ ବି

ତୁମେମାନେ ଅଳ୍ପ କେଇଟି ଦୁର୍ବଳ ମାଛ ପାଆ । ତୁମେମାନେ ବର୍ତ୍ତମାନ ଏକ କଷ୍ଟକର ସମୟରେ ରହୁଛ । ଅଧିକରୁ ଅଧିକ ମାଛରଙ୍କାମାନେ

ପୋଖରୀକୁ ଓହ୍ଲାଇବେ ଏବଂ ସବୁଠାରୁ ଭଲ ମାଛ ନେଇ ଚାଲିଯିବେ । ତୁମମାନଙ୍କର କୌଣସି ଆଶା ନାହିଁ, କୌଣସି ଭବିଷ୍ୟତ ନାହିଁ, ଯେ

ପର୍ଯ୍ୟନ୍ତ ତୁମେ ବିଦେଶ ଯାଇନ କିମ୍ବା ଶିଖିନ କେମିତି ମହାସାଗରରେ ପହଞ୍ଚିବାକୁ ହେବ।

ପ୍ରଦତ୍ତ ଗଦ୍ୟାଂଶରେ ମାଛରଙ୍କା କାହା ଭଳି ନିଜର ଡେଶକୁ ବିସ୍ତାର କରୁଛି?

Options:

- 1) ଜଣେ ମେମ୍‌ସାହେବଙ୍କ ଗାଉନ୍ ଭଳି
- 2) ଜଣେ ଇଂଲିଶମେନ୍‌ର କ୍ଲୋକ୍ ଭଳି
- 3) ଜଣେ କୃଷକର ଲୁଗା ଭଳି
- 4) ବିବାହିତ କନ୍ୟାର ଗାଉନ୍‌ର ଟ୍ରେନ୍ ଭଳି

Correct Answer: 1) ଜଣେ ମେମ୍‌ସାହେବଙ୍କ ଗାଉନ୍ ଭଳି

Candidate Answer: 1) ଜଣେ ମେମ୍‌ସାହେବଙ୍କ ଗାଉନ୍ ଭଳି

QID : 360 - ନିମ୍ନଲିଖିତ କବିତାକୁ ଧ୍ୟାନରେ ପଢ଼ନ୍ତୁ ଏବଂ ଦୁଇଟି ପାଠ ପର୍ଯ୍ୟନ୍ତ ପ୍ରଶ୍ନର ଉତ୍ତର ଦିଅନ୍ତୁ ।

ଚାରୋଟି କାଦୁଆଖୁଣ୍ଟୀ ଚଢ଼େଇ ଖୁସି ଏବଂ

ଉତ୍ସାହିତ ଥିଲେ, କାରଣ କାଦୁଆରେ ରହୁଥିବା

ଛୋଟ ମାଛ ଶାକାର କରିବାକୁ ଏବଂ ଖାଇବାକୁ ସେମାନେ ସମର୍ଥ ହୋଇଛନ୍ତି।

ପ୍ରାୟ ଷୋହଳରୁ କୋଡ଼ିଏଟି ପର୍ଯ୍ୟନ୍ତ ଧଳା ଓ

ମାଟିଆ ବଗ କାଦୁଆକୁ ସକାଳୁ ରାତି ପର୍ଯ୍ୟନ୍ତ ଦରିଦ୍ର କୃଷି ଶ୍ରମିକଙ୍କ ପରି ଲେଉଟ ପାଉଟ କରିଛନ୍ତି।

ଏହା ତୃତୀୟ ପ୍ରମାଣ ଯେ ପୋଖରୀରେ ମାଛ ଅଛନ୍ତି। ହଠାତ୍ ହଳେ ମାଛରଙ୍କା କେଉଁଠୁ ଆସି ପହଞ୍ଚିଗଲେ ପାଣିକୁ କେଳଥର ଡୁବ ମାରିଲେ।

ନିଜ ପାଇଁ ଖାଦ୍ୟ ସଂଗ୍ରହ କଲେ ଏବଂ ପୁରୁକିନା ଉଡ଼ିଗଲେ। କୂଳରେ ବସି ଗୋଟିଏ ଏକୃଟିଆ ମାଛରଙ୍କା ଖରା ପୋଉଥିଲା, ତା'ର

ତେଣାଗୁଡ଼ିକ ଜଣେ ମେମ୍ ସାହେବଙ୍କ ଗାଉନ୍ ପରି ଖୋଲାଥିଲା । ଓଃ ନିର୍ବୋଧ ହିନ୍ଦୁ ବଗଗୁଡ଼ିକ ଏହି ଇଂରେଜ ମାଛ ରଙ୍କା ଆଡ଼କୁ ଅନାଇଲେ

ଯେଉଁମାନେ ଖାଲି ପକେଟରେ କେଉଁଠୁ ଆସି ପହଞ୍ଚିଯାଇଥିଲେ, ପୋଖରୀର ସବୁ ପ୍ରକାର ମାଛରେ ନିଜକୁ ପରିପୂର୍ଣ୍ଣ କଲେ ଏବଂ ଏହାପରେ

ଉଡ଼ିଚାଲିଗଲେ। ତୁମେ ପୋଖରୀ ନିକଟରେ ବରଗଛରେ ବାସ କର। କିନ୍ତୁ ସାରାଦିନ ବ୍ୟାପୀ କାଦୁଆ ଏବଂ ପାଣି ଚକଟିବା ପରେ ବି

ତୁମେମାନେ ଅଳ୍ପ କେଇଟି ଦୁର୍ବଳ ମାଛ ପାଆ । ତୁମେମାନେ ବର୍ତ୍ତମାନ ଏକ କଷ୍ଟକର ସମୟରେ ରହୁଛ । ଅଧିକରୁ ଅଧିକ ମାଛରଙ୍କାମାନେ

ପୋଖରୀକୁ ଓହ୍ଲାଇବେ ଏବଂ ସବୁଠାରୁ ଭଲ ମାଛ ନେଇ ଚାଲିଯିବେ । ତୁମମାନଙ୍କର କୌଣସି ଆଶା ନାହିଁ, କୌଣସି ଭବିଷ୍ୟତ ନାହିଁ, ଯେ

ପର୍ଯ୍ୟନ୍ତ ତୁମେ ବିଦେଶ ଯାଇନ କିମ୍ବା ଶିଖିନ କେମିତି ମହାସାଗରରେ ପହଞ୍ଚିବାକୁ ହେବ।

‘ପ୍ରାୟ ଷୋହଳରୁ କୋଡ଼ିଏଟି ପର୍ଯ୍ୟନ୍ତ ଧଳା ଓ ମାଟିଆ ବଗ କାଦୁଆକୁ ସକାଳୁ ରାତି ପର୍ଯ୍ୟନ୍ତ ଦରିଦ୍ର କୃଷି ଶ୍ରମିକଙ୍କ ପରି ଲେଉଟ ପାଉଟ କରିଛନ୍ତି।’?

Options:

- 1) ସବୁ ଇଂଲିଶ ଲୋକ ସେମାନଙ୍କର ଖାଦ୍ୟ ସହଜରେ ଓ ସୁବିଧାରେ ପାଇଯାଆନ୍ତି।
- 2) ସବୁ କୃଷକ ମାନେ ସେମାନଙ୍କର ଖାଦ୍ୟ ସହଜରେ ଓ ସୁବିଧାରେ ପାଇଯାଆନ୍ତି।
- 3) ସବୁ ଇଂଲିଶ ଲୋକ ସେମାନଙ୍କ ଜମିରେ ଦିନସାରା ହଳ କରନ୍ତି।
- 4) ସବୁ କୃଷକ ମାନେ ସେମାନଙ୍କ ଜମିରେ ଦିନସାରା ହଳ କରନ୍ତି।

Correct Answer: 4) ସବୁ କୃଷକ ମାନେ ସେମାନଙ୍କ ଜମିରେ ଦିନସାରା ହଳ କରନ୍ତି।

Candidate Answer: 4) ସବୁ କୃଷକ ମାନେ ସେମାନଙ୍କ ଜମିରେ ଦିନସାରା ହଳ କରନ୍ତି।

QID : 361 - The sentence below has been divided into three parts. Select the part of the sentence that has an error. If the sentence has no error, select the option 'No Error'.

Mexico City is /2,240 metres up of / sea level.

Options:

- 1) Mexico City is
- 2) 2,240 metres up of
- 3) sea level.
- 4) No Error

Correct Answer: 2) 2,240 metres up of

Candidate Answer: 1) Mexico City is

QID : 362 - Select the word segment that substitutes (replaces) the bracketed word segment correctly and completes the sentence meaningfully.

A postmortem was **(ordered to trying)** to ascertain the cause of death.

Options:

- 1) order to try
- 2) ordered for try
- 3) ordered to try
- 4) No correction required

Correct Answer: 3) ordered to try

Candidate Answer: 1) order to try

QID : 363 - A sentence has been given in Active/Passive voice. Out of the four alternatives suggested, select the one which best expresses the same sentence in Passive/Active voice.

The classrooms have been cleaned.

Options:

- 1) Someone was cleaning the classrooms.
- 2) Someone has clean the classrooms.
- 3) Someone has cleaned the classrooms.
- 4) Someone was cleaned the classrooms.

Correct Answer: 3) Someone has cleaned the classrooms.

Candidate Answer: 2) Someone has clean the classrooms.

QID : 364 - Select the word that fills in the blank correctly and completes the sentence meaningfully.

Nobody lives on _____ Moon.

Options:

- 1) a
- 2) an
- 3) the
- 4) top of

Correct Answer: 3) the

Candidate Answer: 3) the

QID : 365 - Select the word that fills in the blank correctly and completes the sentence meaningfully.

I shall _____ to the park for a walk.

Options:

- 1) went
- 2) go
- 3) going
- 4) gone

Correct Answer: 2) go

Candidate Answer: 2) go

QID : 366 - Select the word that is closest in meaning (SYNONYM) to the word given below.

DILATORY

Options:

- 1) Delayed
- 2) Dilated
- 3) Constricted
- 4) Harmonious

Correct Answer: 1) Delayed

Candidate Answer: 4) Harmonious

QID : 367 - Select the word that is opposite in meaning (ANTONYM) to the word given below.

DIATRIBE

Options:

- 1) parochial
- 2) harangue
- 3) rant
- 4) tribute

Correct Answer: 4) tribute

Candidate Answer: 4) tribute

QID : 368 - Select the word that is spelled correctly.

Options:

- 1) Colonall
- 2) Colonel
- 3) Coloanal
- 4) Colonell

Correct Answer: 2) Colonel

Candidate Answer: 3) Coloanal

QID : 369 - Select the most appropriate 'one word ' for the expressions given below.

Someone who is extremely wicked or villainous

Options:

- 1) Religious
- 2) Nefarious
- 3) Mellifluous
- 4) Ravenous

Correct Answer: 2) Nefarious

Candidate Answer: 3) Mellifluous

QID : 370 - Select the option that best expresses the meaning of the idiom or phrase given below.

'Still waters run deep'

Options:

- 1) To break relationships with others
- 2) When you're really in need, you think of creative solutions to your problems.
- 3) People who don't talk a lot sometimes have really interesting thoughts
- 4) When a task/something is very easy

Correct Answer: 3) People who don't talk a lot sometimes have really interesting thoughts

Candidate Answer: 2) When you're really in need, you think of creative solutions to your problems.

QID : 371 - Which of these is not an indication that a pupil speaks English correctly?

Options:

- 1) Uses appropriate structures and vocabulary
- 2) Uses varied sentence patterns
- 3) Presents his ideas in a jumbled sequence
- 4) Speaks with proper articulation, stress and intonation

Correct Answer: 3) Presents his ideas in a jumbled sequence

Candidate Answer: 4) Speaks with proper articulation, stress and intonation

QID : 372 - Which of these is not characteristic of a receptive pupil learning English?

Options:

- 1) pupil is engaged in listening
- 2) pupil is engaged in reading the language
- 3) pupil can understand what he is reading
- 4) pupil attempts to speak

Correct Answer: 4) pupil attempts to speak

Candidate Answer: 4) pupil attempts to speak

QID : 373 - Listening to and understanding radio news comes under which of these learning types?

Options:

- 1) Listening
- 2) Writing
- 3) Reading
- 4) Speaking

Correct Answer: 1) Listening

Candidate Answer: 4) Speaking

QID : 374 - Which of these is a remarkable tool for helping students develop speaking and listening skills?

Options:

- 1) Writing
- 2) Storytelling
- 3) Intonation
- 4) Reading

Correct Answer: 2) Storytelling

Candidate Answer: 2) Storytelling

QID : 375 - Which of these paves the way for written Composition?

Options:

- 1) Guided written composition
- 2) Free written composition
- 3) Oral Composition
- 4) Listening to compositions

Correct Answer: 3) Oral Composition

Candidate Answer: 4) Listening to compositions

QID : 376 - Using a lecture or a radio announcement in the target language, to help students become accustomed to different accents and to a realistic pace of speech is useful to teach which of these?

Options:

- 1) Speaking
- 2) Listening
- 3) Writing
- 4) Reading

Correct Answer: 2) Listening

Candidate Answer: 2) Listening

QID : 377 - Which of these gives children another means of self-expression, allowing them to creatively convey feelings and emotions they encounter?

Options:

- 1) Reading the newspaper
- 2) Poetry and Recitation
- 3) Library visits
- 4) Writing passages

Correct Answer: 2) Poetry and Recitation

Candidate Answer: 2) Poetry and Recitation

QID : 378 - 'Blending' as the strategy for reading a new word is used to teach which of these?

Options:

- 1) Poem
- 2) Composition
- 3) Reading Comprehension
- 4) Phonics

Correct Answer: 4) Phonics

Candidate Answer: 1) Poem

QID : 379 - To accurately assess English language learners, variations in students' English language skills which of these need not be considered?

Options:

- 1) prior schooling experience
- 2) proficiency and student achievement
- 3) trauma due to any other factors
- 4) height and weight of the child

Correct Answer: 4) height and weight of the child

Candidate Answer: 2) proficiency and student achievement

QID : 380 - At a beginner's level which of these works to inculcate an interest in writing?

Options:

- 1) writing a letter to a pen pal
- 2) surfing blogs
- 3) listening to advertisements
- 4) reading newspapers

Correct Answer: 1) writing a letter to a pen pal

Candidate Answer: 1) writing a letter to a pen pal

QID : 381 - Read the passage carefully and answer the questions that follow choosing the correct alternatives.

The Barren Island volcano, located 140-km north-east of Port Blair is India's only live volcano and is located in the Andaman and Nicobar Islands. This volcano had started showing activity in the year 1991 after being dormant for over 150 years. On the afternoon of January 23, 2017, the scientific team on board CSIR-NIO's research ship R V Sindhu Sankalp were busy collecting sea floor samples in the Andaman Basin near the Barren volcano when it suddenly started spewing ash. During the daytime only ash clouds were observed. However, after sundown, the team observed red lava fountains spewing from the crater into the atmosphere and hot lava flows streaming down the slopes of the volcano.

According to the passage, which of these is India's only live volcano located in the Andaman and Nicobar Islands?

Options:

- 1) The Amsterdam Island Volcano
- 2) The Barren Island volcano
- 3) The Batu Tara Volcano
- 4) The Bachelor Volcano

Correct Answer: 2) The Barren Island volcano

Candidate Answer: 1) The Amsterdam Island Volcano

QID : 382 - Read the passage carefully and answer the questions that follow choosing the correct alternatives.

The Barren Island volcano, located 140-km north-east of Port Blair is India's only live volcano and is located in the Andaman and Nicobar Islands. This volcano had started showing activity in the year 1991 after being dormant for over 150 years. On the afternoon of January 23, 2017, the scientific team on board CSIR-NIO's research ship R V Sindhu Sankalp were busy collecting sea floor samples in the Andaman Basin near the Barren volcano when it suddenly started spewing ash. During the daytime only ash clouds were observed. However, after sundown, the team observed red lava fountains spewing from the crater into the atmosphere and hot lava flows streaming down the slopes of the volcano.

According to the passage the scientific team was on board which of these research ships?

Options:

- 1) R V Sindhu Sankalp
- 2) P V Sindhu Sankalp
- 3) INS Vikrant
- 4) INS Viraat

Correct Answer: 1) R V Sindhu Sankalp

Candidate Answer: 1) R V Sindhu Sankalp

QID : 383 - Read the passage carefully and answer the questions that follow choosing the correct alternatives.

The Barren Island volcano, located 140-km north-east of Port Blair is India's only live volcano and is located in the Andaman and Nicobar Islands. This volcano had started showing activity in the year 1991 after being dormant for over 150 years. On the afternoon of January 23, 2017, the scientific team on board CSIR-NIO's research ship R V Sindhu Sankalp were busy collecting sea floor samples in the Andaman Basin near the Barren volcano when it suddenly started spewing ash. During the daytime only ash clouds were observed. However, after sundown, the team observed red lava fountains spewing from the crater into the atmosphere and hot lava flows streaming down the slopes of the volcano.

According to the passage what was the scientific team doing on January 23rd, 2017?

Options:

- 1) catching fish
- 2) collecting sea floor samples
- 3) observing the volcano
- 4) collecting lava from the spewing volcano

Correct Answer: 2) collecting sea floor samples

Candidate Answer: 2) collecting sea floor samples

QID : 384 - Read the passage carefully and answer the questions that follow choosing the correct alternatives.

The Barren Island volcano, located 140-km north-east of Port Blair is India's only live volcano and is located in the Andaman and Nicobar Islands. This volcano had started showing activity in the year 1991 after being dormant for over 150 years. On the afternoon of January 23, 2017, the scientific team on board CSIR-NIO's research ship R V Sindhu Sankalp were busy collecting sea floor samples in the Andaman Basin near the Barren volcano when it suddenly started spewing ash. During the daytime only ash clouds were observed. However, after sundown, the team observed red lava fountains spewing from the crater into the atmosphere and hot lava flows streaming down the slopes of the volcano.

According to the passage, what did the team observe after sundown?

Options:

- 1) hot water fountains
- 2) dust clouds
- 3) red lava fountains
- 4) ash clouds

Correct Answer: 3) red lava fountains

Candidate Answer: 3) red lava fountains

QID : 385 - Read the passage carefully and answer the questions that follow choosing the correct alternatives.

The Barren Island volcano, located 140-km north-east of Port Blair is India's only live volcano and is located in the Andaman and Nicobar Islands. This volcano had started showing activity in the year 1991 after being dormant for over 150 years. On the afternoon of January 23, 2017, the scientific team on board CSIR-NIO's research ship R V Sindhu Sankalp were busy collecting sea floor samples in the Andaman Basin near the Barren volcano when it suddenly started spewing ash. During the daytime only ash clouds were observed. However, after sundown, the team observed red lava fountains spewing from the crater into the atmosphere and hot lava flows streaming down the slopes of the volcano.

Identify the context in which the word 'DORMANT' is used in the passage.

Options:

- 1) rising
- 2) awake
- 3) cheerful
- 4) resting

Correct Answer: 4) resting

Candidate Answer: 2) awake

QID : 386 - Read the passage carefully and answer the questions that follow choosing the correct alternatives.

A telephone, or phone, is a telecommunications device that permits two or more users to conduct a conversation when they are too far apart to be heard directly. A telephone converts sound, typically and most efficiently the human voice, into electronic signals that are transmitted via cables and other communication channels to another telephone which reproduces the sound to the receiving user.

In 1876, Alexander Graham Bell was the first to be granted a United States patent for a device that produced clearly intelligible replication of the human voice. This instrument was further developed by many others. The telephone was the first device in history that enabled people to talk directly with each other across large distances. Telephones rapidly became indispensable to businesses, government and households.

The essential elements of a telephone are a microphone (transmitter) to speak into and an earphone (receiver) which reproduces the voice in a distant location. In addition, most telephones contain a ringer to announce an incoming telephone call, and a dial or keypad to enter a telephone number when initiating a call to another telephone. The receiver and transmitter are usually built into a handset which is held up to the ear and mouth during conversation.

The first telephones were directly connected to each other from one customer's office or residence to another customer's location. Being impractical beyond just a few customers, these systems were quickly replaced by manually operated centrally located switchboards. These exchanges were soon connected together, eventually forming an automated, worldwide public switched telephone network.

Who was the first to be granted a United States patent for a telephone?

Options:

- 1) Alexander Graham Bell
- 2) Thomas Stark
- 3) Thomas Alva Edison
- 4) Madame Curie

Correct Answer: 1) Alexander Graham Bell

Candidate Answer: 1) Alexander Graham Bell

QID : 387 - Read the passage carefully and answer the questions that follow choosing the correct alternatives.

A telephone, or phone, is a telecommunications device that permits two or more users to conduct a conversation when they are too far apart to be heard directly. A telephone converts sound, typically and most efficiently the human voice, into electronic signals that are transmitted via cables and other communication channels to another telephone which reproduces the sound to the receiving user.

In 1876, Alexander Graham Bell was the first to be granted a United States patent for a device that produced clearly intelligible replication of the human voice. This instrument was further developed by many others. The telephone was the first device in history that enabled people to talk directly with each other across large distances. Telephones rapidly became indispensable to businesses, government and households.

The essential elements of a telephone are a microphone (transmitter) to speak into and an earphone (receiver) which reproduces the voice in a distant location. In addition, most telephones contain a ringer to announce an incoming telephone call, and a dial or keypad to enter a telephone number when initiating a call to another telephone. The receiver and transmitter are usually built into a handset which is held up to the ear and mouth during conversation.

The first telephones were directly connected to each other from one customer's office or residence to another customer's location. Being impractical beyond just a few customers, these systems were quickly replaced by manually operated centrally located switchboards. These exchanges were soon connected together, eventually forming an automated, worldwide public switched telephone network.

The receiver and transmitter are built into which of these?

Options:

- 1) Ringer
- 2) Handset
- 3) Keypad
- 4) Loudspeaker

Correct Answer: 2) Handset

Candidate Answer: 4) Loudspeaker

QID : 388 - Read the passage carefully and answer the questions that follow choosing the correct alternatives.

A telephone, or phone, is a telecommunications device that permits two or more users to conduct a conversation when they are too far apart to be heard directly. A telephone converts sound, typically and most efficiently the human voice, into electronic signals that are transmitted via cables and other communication channels to another telephone which reproduces the sound to the receiving user.

In 1876, Alexander Graham Bell was the first to be granted a United States patent for a device that produced clearly intelligible replication of the human voice. This instrument was further developed by many others. The telephone was the first device in history that enabled people to talk directly with each other across large distances. Telephones rapidly became indispensable to businesses, government and households.

The essential elements of a telephone are a microphone (transmitter) to speak into and an earphone (receiver) which reproduces the voice in a distant location. In addition, most telephones contain a ringer to announce an incoming telephone call, and a dial or keypad to enter a telephone number when initiating a call to another telephone. The receiver and transmitter are usually built into a handset which is held up to the ear and mouth during conversation.

The first telephones were directly connected to each other from one customer's office or residence to another customer's location. Being impractical beyond just a few customers, these systems were quickly replaced by manually operated centrally located switchboards. These exchanges were soon connected together, eventually forming an automated, worldwide public switched telephone network.

How does a telephone work?

Options:

- 1) Converts sound into mechanical signal
- 2) Converts electrical signal to mechanical signal
- 3) Converts sound into electrical signal
- 4) Converts sound to light signal

Correct Answer: 3) Converts sound into electrical signal

Candidate Answer: 3) Converts sound into electrical signal

QID : 389 - Read the passage carefully and answer the questions that follow choosing the correct alternatives.

A telephone, or phone, is a telecommunications device that permits two or more users to conduct a conversation when they are too far apart to be heard directly. A telephone converts sound, typically and most efficiently the human voice, into electronic signals that are transmitted via cables and other communication channels to another telephone which reproduces the sound to the receiving user.

In 1876, Alexander Graham Bell was the first to be granted a United States patent for a device that produced clearly intelligible replication of the human voice. This instrument was further developed by many others. The telephone was the first device in history that enabled people to talk directly with each other across large distances. Telephones rapidly became indispensable to businesses, government and households.

The essential elements of a telephone are a microphone (transmitter) to speak into and an earphone (receiver) which reproduces the voice in a distant location. In addition, most telephones contain a ringer to announce an incoming telephone call, and a dial or keypad to enter a telephone number when initiating a call to another telephone. The receiver and transmitter are usually built into a handset which is held up to the ear and mouth during conversation.

The first telephones were directly connected to each other from one customer's office or residence to another customer's location. Being impractical beyond just a few customers, these systems were quickly replaced by manually operated centrally located switchboards. These exchanges were soon connected together, eventually forming an automated, worldwide public switched telephone network.

Which of these is not an essential element of a telephone?

Options:

- 1) microphone
- 2) earphone
- 3) ringer
- 4) monitor

Correct Answer: 4) monitor

Candidate Answer: 2) earphone

QID : 390 - Read the passage carefully and answer the questions that follow choosing the correct alternatives.

A telephone, or phone, is a telecommunications device that permits two or more users to conduct a conversation when they are too far apart to be heard directly. A telephone converts sound, typically and most efficiently the human voice, into electronic signals that are transmitted via cables and other communication channels to another telephone which reproduces the sound to the receiving user.

In 1876, Alexander Graham Bell was the first to be granted a United States patent for a device that produced clearly intelligible replication of the human voice. This instrument was further developed by many others. The telephone was the first device in history that enabled people to talk directly with each other across large distances. Telephones rapidly became indispensable to businesses, government and households.

The essential elements of a telephone are a microphone (transmitter) to speak into and an earphone (receiver) which reproduces the voice in a distant location. In addition, most telephones contain a ringer to announce an incoming telephone call, and a dial or keypad to enter a telephone number when initiating a call to another telephone. The receiver and transmitter are usually built into a handset which is held up to the ear and mouth during conversation.

The first telephones were directly connected to each other from one customer's office or residence to another customer's location. Being impractical beyond just a few customers, these systems were quickly replaced by manually operated centrally located switchboards. These exchanges were soon connected together, eventually forming an automated, worldwide public switched telephone network.

Direct connections were replaced by which of these?

Options:

- 1) switchboards
- 2) microphone
- 3) earphone
- 4) ringers

Correct Answer: 1) switchboards

Candidate Answer: 2) microphone

QID : 391 - _____ is the manipulative tool used for developing the geometrical concepts of 'symmetry' and 'reflection' in Class IV.

_____ ହେଉଛି ଏକ ମ୍ୟାନୁପୁଲେଟିଭ୍ ଟୁଲ୍ ଯାହା ଚତୁର୍ଥ ଶ୍ରେଣୀରେ 'ସିମେଟ୍ରି' ଓ 'ପ୍ରତିବିମ୍ବ'ର ଜ୍ୟାମିତିକ ଧାରଣା ବିକଶିତ କରିବା ପାଇଁ ବ୍ୟବହୃତ ହୁଏ।

Options:

- 1) Dot paper
ଡଟ ପେପର
- 2) Two sided counter
ଦୁଇ ପକ୍ଷର କାଉଣ୍ଟର
- 3) Beads string
ବେଡ୍‌ସ୍ ଷ୍ଟ୍ରିଙ୍ଗ୍
- 4) Abacus
ଗଣନା-ଯନ୍ତ୍ରବିଶେଷ

Correct Answer: 1) Dot paper

ଡଟ ପେପର

Candidate Answer: 3) Beads string

ବେଡ଼ସ୍ ଷ୍ଟ୍ରିଙ୍ଗ୍

QID : 392 - In the lesson plans being currently prepared in schools, the aspect to be told after the content analysis is _____.

ବିଦ୍ୟାଳୟରେ ପାଠ୍ୟକ୍ରମ ଗୁଡ଼ିକ ନିୟମିତ ପ୍ରସ୍ତୁତ କରାଯାଏ, ବିଷୟବସ୍ତୁ ବିଶ୍ଳେଷଣର ପରେ କୁହାଯାଏ ଯେ _____।

Options:

1) evaluation

ମୂଲ୍ୟାୟନ

2) teaching-learning activities

ଶିକ୍ଷଣ-ଶିକ୍ଷା କାର୍ଯ୍ୟକ୍ରମ

3) competencies to be achieved

ଦକ୍ଷତା ଅର୍ଜନ କରିବା

4) teaching learning material

ଶିକ୍ଷଣ ଶିକ୍ଷାର ଉପାଦାନ

Correct Answer: 3) competencies to be achieved

ଦକ୍ଷତା ଅର୍ଜନ କରିବା

Candidate Answer: 3) competencies to be achieved

ଦକ୍ଷତା ଅର୍ଜନ କରିବା

QID : 393 - 'Development of Geometric thought' model is also called _____.

'ଜ୍ୟାମିତିକ ଚିନ୍ତାର ବିକାଶ' ମଡେଲ _____ ମଧ୍ୟ କୁହାଯାଏ।

Options:

1) Van Hiele Model

ଭ୍ୟାନ ହିଲେ ମଡେଲ

2) S Back Bell

ଏସ୍ ବ୍ୟକ୍ ବେଲ

3) S.M. Corey

ଏସ୍.ଏମ୍. କୋରି

4) No option is correct

କୌଣସି ବିକଳ୍ପ ଠିକ୍ ନୁହେଁ

Correct Answer: 1) Van Hiele Model

ଭ୍ୟାନ ହିଲେ ମଡେଲ

Candidate Answer: 1) Van Hiele Model

ଭ୍ୟାନ ହିଲେ ମଡେଲ

QID : 394 - During the teaching-learning process, a teacher can adopt which Mathematics teaching and learning strategies?

ପାଠ୍ୟଦାନ -ଶିଖିବା ପ୍ରକ୍ରିୟା ସମୟରେ, ଏକ ଶିକ୍ଷକ ଗଣିତର କେଉଁ ପାଠ୍ୟଦାନ ଏବଂ ଶିକ୍ଷାଦାନ କୌଶଳ ଗ୍ରହଣ କରିବେ?

Options:

1) Mathematical games

ଗାଣିତିକ ଖେଳ

2) Group work

ସମ୍ମିଳିତ କାମ

3) Peer learning

ପିଅର୍ ଶିକ୍ଷଣ

4) All options are correct

ସମସ୍ତ ବିକଳ୍ପ ସଠିକ୍

Correct Answer: 4) All options are correct

ସମସ୍ତ ବିକଳ୍ପ ସଠିକ୍

Candidate Answer: 4) All options are correct

ସମସ୍ତ ବିକଳ୍ପ ସଠିକ୍

QID : 395 - Which of the following is a suitable approach for explaining that a remainder is always less than the divisor to Class IV students?

ବହୁଥ ଶ୍ରେଣୀର ଶିକ୍ଷାର୍ଥୀକୁ ବିଭାଜକର ତୁଳନାରେ ଭାଗଶେଷ ସର୍ବଦା କମ ଥାଏ ତାହା ବୁଝାଇବା ପାଇଁ ନିମ୍ନ ମଧ୍ୟରୁ କେଉଁଟି ଉପଯୁକ୍ତ ପଦ୍ଧତି?

Options:

1) Represent division sums as mixed fractions and explain that the numerator of the fraction part is the remainder

ମିଶ୍ର ଭଗ୍ନାଂଶ ହିସାବରେ ବିଭାଜକର ଭାଗଫଳକୁ ଉପସ୍ଥାପନ କରନ୍ତୁ ଏବଂ ବର୍ଣ୍ଣନାକରନ୍ତୁ ଯେ ଭଗ୍ନାଂଶର ନୁମେରେଟର ଭାଗଶେଷ ଏକ ଅଂଶ ଅଟେ ।

2) Explain orally to students many times

ଛାତ୍ରଙ୍କୁ ମୌଖିକ ରୂପେ ଅନେକ ଥର ବର୍ଣ୍ଣନା କରନ୍ତୁ

3) Grouping of objects in multiples of the divisor and showing that the number of objects not in the group, is less than the divisor

ବିଭାଜକର ଅନେକ ଅବଜେକ୍ଟର ଗୋଷ୍ଠୀକରଣ କରିବା ଏବଂ ଦେଖିବା ଯେ ଗ୍ରୁପରେ ନଥିବା ଅନେକ ଅବଜେକ୍ଟ ଗୁଡ଼ିକ, ଭାଜକ ଠାରୁ କମ ।

4) No option is correct

କୌଣସି ବିକଳ୍ପ ଠିକ୍ ନୁହେଁ

Correct Answer: 3) Grouping of objects in multiples of the divisor and showing that the number of objects not in the group, is less than the divisor

ବିଭାଜକର ଅନେକ ଅବଜେକ୍ଟର ଗୋଷ୍ଠୀକରଣ କରିବା ଏବଂ ଦେଖିବା ଯେ ଗ୍ରୁପରେ ନଥିବା ଅନେକ ଅବଜେକ୍ଟ ଗୁଡ଼ିକ, ଭାଜକ ଠାରୁ କମ ।

Candidate Answer: 2) Explain orally to students many times

ଛାତ୍ରଙ୍କୁ ମୌଖିକ ରୂପେ ଅନେକ ଥର ବର୍ଣ୍ଣନା କରନ୍ତୁ

QID : 396 - How many levels are there in 'Development of Geometric Thought' model?

'ଜ୍ୟାମିତିକ ଚିନ୍ତାର ବିକାଶ' ମଡେଲରେ କେତେ ସ୍ତର ରହିଛି?

Options:

- 1) 5
- 2) 3
- 3) 2
- 4) 9

Correct Answer: 1) 5

Candidate Answer: 4) 9

QID : 397 - In which form, mathematics is important at primary level?

କେଉଁ ସ୍ତରରେ, ଗଣିତ ହେଉଛି ପ୍ରାଥମିକ ସ୍ତରରେ ଗୁରୁତ୍ୱପୂର୍ଣ୍ଣ ?

Options:

- 1) Cultural
ସାଂସ୍କୃତିକ
- 2) Mental
ମାନସିକ
- 3) Religious
ଧାର୍ମିକ
- 4) Social
ସାମାଜିକ

Correct Answer: 2) Mental
ମାନସିକ

Candidate Answer: 2) Mental
ମାନସିକ

QID : 398 - If a teacher wants to be a good mathematician, then he/she must be able to _____.

ଜଣେ ଶିକ୍ଷକ ଯଦି ଜଣେ ଭଲ ଗଣିତବିଦ୍ ହେବାକୁ ଚାହାନ୍ତି ତେବେ ସେ _____ ରେ ସକ୍ଷମ ହେବାଦରକାର ।

Options:

- 1) solve the problem in no time
ଅତି ଶୀଘ୍ର ସମସ୍ୟା ସମାଧାନ କରିବା
- 2) master the techniques of answering questions
ପ୍ରଶ୍ନର ଉତ୍ତର ଦେବା କୌଶଳ ରେ ମାତ୍ସର କରିବା
- 3) memorise most of the formulae
ଅଧିକତମ ସୂତ୍ର ସ୍ମରଣ
- 4) understand, apply and make connections across the concepts
ଧାରଣା ଗୁଡ଼ିକୁ ବୁଝିବା, ପ୍ରୟୋଗ କରିବା ଏବଂ ସଂଯୋଗ ତିଆରି କରିବା

Correct Answer: 4) understand, apply and make connections across the concepts

ଧାରଣା ଗୁଡ଼ିକୁ ବୁଝିବା, ପ୍ରୟୋଗ କରିବା ଏବଂ ସଂଯୋଗ ତିଆରି କରିବା

Candidate Answer: 4) understand, apply and make connections across the concepts

ଧାରଣା ଗୁଡ଼ିକୁ ବୁଝିବା, ପ୍ରୟୋଗ କରିବା ଏବଂ ସଂଯୋଗ ତିଆରି କରିବା

QID : 399 - According to NCF 2005, which of the following is not the goal of learning Mathematics?

NCF 2005 ର ମତରେ, ନିମ୍ନ ରେ ଥିବା କେଉଁଟି ଗଣିତ ଶିକ୍ଷାର ଲକ୍ଷ୍ୟ ନୁହେଁ?

Options:

1) Including more Mathematical concepts at primary level

ପ୍ରାଥମିକ ସ୍ତରରେ ଆହୁରି ଗାଣିତିକ ଧାରଣା ସହ

2) Giving importance to the method of problem-solving

ସମସ୍ୟା ସମାଧାନ କରିବା ପଦ୍ଧତି କୁ ଗୁରୁତ୍ୱ ଦେବା

3) Mathematisation of thought process

ଗଣିତ ଚିନ୍ତା ପ୍ରକ୍ରିୟା

4) Visualisation of Mathematics

ଗଣିତର କଳ୍ପନା

Correct Answer: 1) Including more Mathematical concepts at primary level

ପ୍ରାଥମିକ ସ୍ତରରେ ଆହୁରି ଗାଣିତିକ ଧାରଣା ସହ

Candidate Answer: 1) Including more Mathematical concepts at primary level

ପ୍ରାଥମିକ ସ୍ତରରେ ଆହୁରି ଗାଣିତିକ ଧାରଣା ସହ

QID : 400 - _____ is not a phase in problem analysis.

_____ ସମସ୍ୟା ବିଶ୍ଳେଷଣର ଏକ ପର୍ଯ୍ୟାୟ ନୁହେଁ।

Options:

1) Identify the problem thoroughly

ସମସ୍ୟାଟି ପୂର୍ଣ୍ଣାନ୍ୱୟପୂର୍ଣ୍ଣଭାବେ ଚିହ୍ନିତ କରିବା

2) Identifying different methods

ବିଭିନ୍ନ ପଦ୍ଧତି ଚିହ୍ନିତ କରିବା

3) Choosing a suitable method

ଗୋଟିଏ ଉପଯୁକ୍ତ ପଦ୍ଧତି ନିର୍ବାଚନ କରିବା

4) No option is correct

କୌଣସି ବିକଳ୍ପ ଠିକ୍ ନୁହେଁ

Correct Answer: 4) No option is correct

କୌଣସି ବିକଳ୍ପ ଠିକ୍ ନୁହେଁ

Candidate Answer: 2) Identifying different methods

ବିଭିନ୍ନ ପଦ୍ଧତି ଚିହ୍ନିତ କରିବା

QID : 401 - What is the value of the expression $200 + (300 \div 10) - 30$?

$200 + (300 \div 10) - 30$ ର ଅଭିବ୍ୟକ୍ତିର ମୂଲ୍ୟ କେତେ?

Options:

- 1) 230
- 2) 300
- 3) 200
- 4) 270

Correct Answer: 3) 200

Candidate Answer: 3) 200

QID : 402 - Which of the following digit in 2518 have maximum place value?

2518-ରେ ନିମ୍ନଲିଖିତ ମଧ୍ୟରୁ କେଉଁ ସଂଖ୍ୟାଟି ସର୍ବାଧିକ ସ୍ଥାନର ମୂଲ୍ୟରେ ଅଛି?

Options:

- 1) 8
- 2) 2
- 3) 5
- 4) 1

Correct Answer: 2) 2

Candidate Answer: 2) 2

QID : 403 - What is the value of (9 tens + 2 hundreds + 7 ones)?

(9 ଦଶ + 2 ଶତ + 7 ଟି)ର ମୂଲ୍ୟ କେତେ?

Options:

- 1) 927
- 2) 792
- 3) 297
- 4) 279

Correct Answer: 3) 297

Candidate Answer: 3) 297

QID : 404 - If the Least Common Multiple and Highest Common Factor of 32 and K are 96 and 4 respectively. Then K is equal to _____.

ଯଦି 32 ଏବଂ K ର ଲଘୁଷ୍ଟ ସାଧାରଣ ଗୁଣିତକ ଏବଂ ଗରିଷ୍ଠ ସାଧାରଣ ଗୁଣନୀୟକ ଯଥାକ୍ରମେ 96 ଏବଂ 4 ହୁଏ। ତେବେ K ର ମୂଲ୍ୟ ହେଉଛି _____।

Options:

- 1) 18
- 2) 24
- 3) 12
- 4) 16

Correct Answer: 3) 12

Candidate Answer: 3) 12

QID : 405 - Which of the following number is not a perfect square?

ନିମ୍ନ ମଧ୍ୟରୁ କେଉଁ ସଂଖ୍ୟାଟି ନିଖୁଣ ବର୍ଗ (ପରଫେକ୍ଟ ସ୍କୋୟାର) ନୁହେଁ?

Options:

- 1) 784
- 2) 841
- 3) 288
- 4) 196

Correct Answer: 3) 288

Candidate Answer: 1) 784

QID : 406 - If the area of a square is 625 cm^2 , then what is the side (in cm) of the square?

ଯଦି ବର୍ଗକ୍ଷେତ୍ରର କ୍ଷେତ୍ରଫଳ 625 ସେମି^2 ହୁଏ, ତେବେ ବର୍ଗକ୍ଷେତ୍ରର ପ୍ରାନ୍ତ(ସେମି) କେତେ ହେବ ?

Options:

- 1) 25
- 2) 30
- 3) 32
- 4) 34

Correct Answer: 1) 25

Candidate Answer: 1) 25

QID : 407 - If the radius of the circle is 14 cm, then what is the circumference (in cm) of the circle?

ବୃତ୍ତର ବ୍ୟାସାର୍ଦ୍ଧ 14 ସେମି ହେଲେ ବୃତ୍ତର ପରିଧି (ସେମି) କେତେ ହବ?

Options:

- 1) 84
- 2) 88
- 3) 92
- 4) 96

Correct Answer: 2) 88

Candidate Answer: 4) 96

QID : 408 - What is the ratio of the volume of the sphere to the volume of the hemisphere, if the radius of both sphere and hemisphere is same?

ଯଦି ଉଭୟ ବୃତ୍ତ ଏବଂ ବୃତ୍ତାଂଶ ବ୍ୟାସାର୍ଦ୍ଧ ସମାନ ହୁଏ, ବୃତ୍ତର ଆୟତନର ସହ ବୃତ୍ତାଂଶର ଆୟତନ କେତେ ହେବ ?

Options:

- 1) 2 : 1
- 2) 1 : 2
- 3) 3 : 1
- 4) 1 : 3

Correct Answer: 1) 2 : 1

Candidate Answer: 1) 2 : 1

QID : 409 - If the base and height of the parallelogram are 24 cm and 12 cm respectively, then what is the area (in cm^2) of the parallelogram?

ଯଦି ପାରଲେଲୋଗ୍ରାମ ର ମୂଳ ଏବଂ ଉଚ୍ଚତା ଯଥାକ୍ରମରେ 24 ସେମି ଏବଂ 12 ସେମି ହୁଏ, ତେବେ ସମାନ୍ତରାଳଗ୍ରାମର କ୍ଷେତ୍ରଫଳ (ସେମି²) କେତେ ହବ?

Options:

- 1) 280
- 2) 284
- 3) 288
- 4) 292

Correct Answer: 3) 288

Candidate Answer: 3) 288

QID : 410 - If the other two sides of a right angled triangles are 40 cm and 30 cm, then what is the length (in cm) of the hypotenuse?

ଯଦି ଏକ ସମକୋଣୀ ତ୍ରିଭୁଜର ଅନ୍ୟ ଦୁଇ ପ୍ରାନ୍ତ 40 ସେମି ଏବଂ 30 ସେମି ହୁଏ, ତେବେ ଅନୁକୋଣର ବୈଦିଆ (ସେମି) କେତେ ହବ?

Options:

- 1) 50
- 2) 90
- 3) 130
- 4) 170

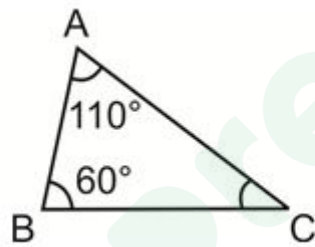
Correct Answer: 1) 50

Candidate Answer: 3) 130

QID : 411 -

In the given $\triangle ABC$, what is the value of $\angle ACB$?

ପ୍ରଦତ୍ତ $\triangle ABC$ - ରେ, $\angle ACB$ ର ମାନ କେତେ ହବ?



Options:

- 1) 6
- 2) 10
- 3) 14
- 4) 18

Correct Answer: 2) 10

Candidate Answer: 2) 10

QID : 412 - If $2y, 4y, 5y, 7y$ are the angles of the quadrilateral, then what is the value (in degrees) of y ?

$2y, 4y, 5y, 7y$ ଯଦି ଚତୁର୍ଭୁଜର କୋଣ ହୁଏ ତେବେ y ର ମୂଲ୍ୟ (ଡିଗ୍ରିରେ) କେତେ ହେବ?

Options:

- 1) 12
- 2) 16
- 3) 20
- 4) 24

Correct Answer: 3) 20**Candidate Answer:** 1) 12**QID : 413** - Which of the following is supplementary angle (in degrees) of 60° ?ତଳର ଦିଆ ହେଇଥିବା 60° ର ପରିପୂରକ କୋଣ (ଡିଗ୍ରୀରେ) କେତେ ହବ?**Options:**

- 1) 60
- 2) 140
- 3) 150
- 4) 120

Correct Answer: 4) 120**Candidate Answer:** 4) 120**QID : 414** - What is the value (in degrees) of each exterior angle of a 18 sided regular polygon?

18 ପାର୍ଶ୍ଵଯୁକ୍ତ ନିୟମିତ ବହୁଭୁଜର ପ୍ରତିଟି ବାହ୍ୟକ କୋଣଟିର ମୂଲ୍ୟ(ଡିଗ୍ରୀରେ) କେତେ ହବ?

Options:

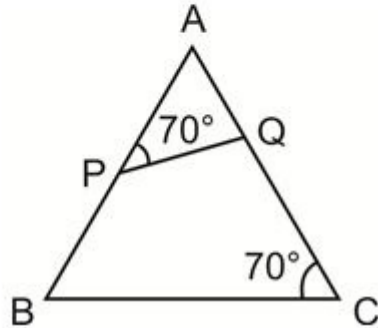
- 1) 20
- 2) 60
- 3) 100
- 4) 140

Correct Answer: 1) 20**Candidate Answer:** 2) 60

QID : 415 -

In the given figure, which of the following is correct?

ନିମ୍ନ ଚିତ୍ର ରେ କେଉଁଟି ସଠିକ ଅଟେ ?



Options:

- 1) $\Delta APQ \sim \Delta ABC$
- 2) $\Delta AQP \sim \Delta ACB$
- 3) $\Delta APQ \sim \Delta ACB$
- 4) $\Delta ABC \sim \Delta AQB$

Correct Answer: 3) $\Delta APQ \sim \Delta ACB$

Candidate Answer: 1) $\Delta APQ \sim \Delta ABC$

QID : 416 -

In the following question, select the number which can be placed at the sign of question mark (?) from the given alternatives.

ନିମ୍ନ ପ୍ରଶ୍ନ ରେ, ଦିଆଯାଇଥିବା ବିକଳ୍ପ ମାନଙ୍କ ମଧ୍ୟରୁ କେଉଁଟି (?)

ସ୍ଥାନ ରେ ଲେଖା ଯାଇପାରିବ ?

7	4	2
8	3	5
5	6	7
47	22	?

Options:

- 1) 35
- 2) 39
- 3) 37
- 4) 42

Correct Answer: 3) 37**Candidate Answer: 1) 35**

QID : 417 - In a certain code language, 'PHONE' is written as 'SKRQH'. What is the code for 'MOBILE' in that code language?

ଏକଟି ନିର୍ଦ୍ଦିଷ୍ଟ କୋଡ ଭାଷାରେ 'PHONE' କୁ 'SKRQH' ହିସାବରେ ଲେଖା ହୁଏ। ସେହି କୋଡ ଭାଷା ରେ 'MOBILE' ର କୋଡଟି କଣ?

Options:

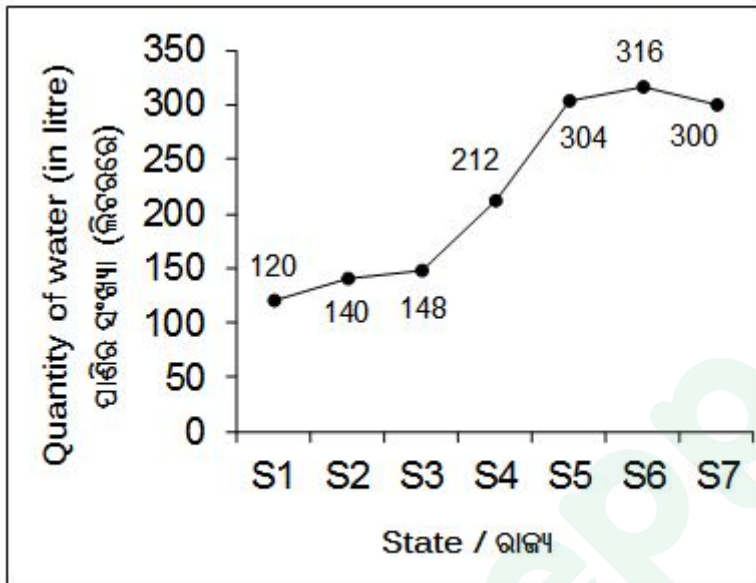
- 1) PRDLHO
- 2) PRELOH
- 3) PRDLCH
- 4) RPDLOH

Correct Answer: 2) PRELOH**Candidate Answer: 3) PRDLCH**

QID : 418 -

The line chart given below shows the quantity of water (in litre) sold in the seven states of a country. The water sold is represented in litres.

ତଳେ ଦିଆ ହେଇଥିବା ଲାଇନ ଚାର୍ଟଟି ଗୋଟେ ଦେଶର ସାତଟି ରାଜ୍ୟର ବିକ୍ରି ହେବା ପାଣିର ପରିମାଣ (ଲିଟରରେ) ଦେଖାଯାଇଛି। ବିକ୍ରି ହେବା ପାଣିଟି ଲିଟରରେ ପ୍ରତିନିଧିତ୍ୱ କରା ହୁଏ।



R = Total water sold by S1 and S2 state.

Q = Total water sold by S7 and S6 state.

What is the value (in litres) of R + Q?

R = ମୋଟ ପାନି S1 ଏବଂ S2 ରାଜ୍ୟର ଦ୍ୱାରା ବିକ୍ରିହେଇଛି।

Q = S7 ଏବଂ S6 ରାଜ୍ୟର ଦ୍ୱାରା ବିକ୍ରି କରା ମୋଟ ଜଳ।

R + Q ର ମାନ (ଲିଟର) କଣ ହେବ?

Options:

- 1) 760
- 2) 876
- 3) 840
- 4) 800

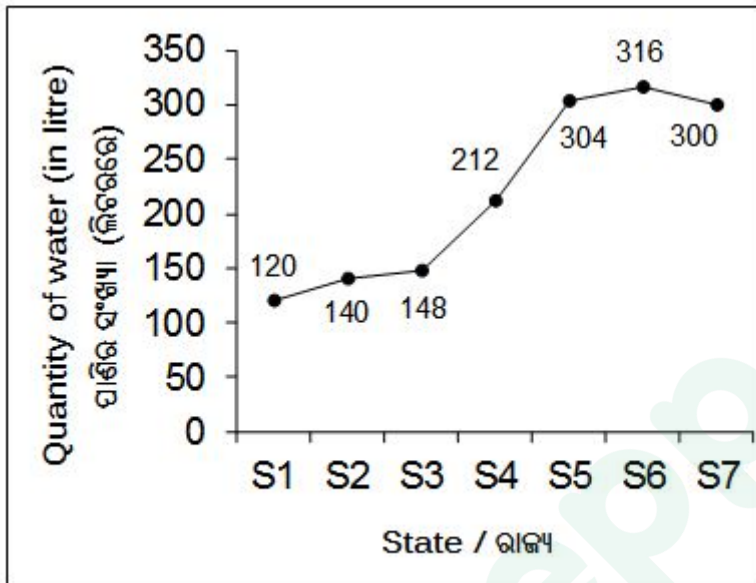
Correct Answer: 2) 876

Candidate Answer: 1) 760

QID : 419 -

The line chart given below shows the quantity of water (in litre) sold in the seven states of a country. The water sold is represented in litres.

ତଳେ ଦିଆ ହେଇଥିବା ଲାଇନ ଚାର୍ଟଟି ଗୋଟେ ଦେଶର ସାତଟି ରାଜ୍ୟର ବିକ୍ରି ହେବା ପାଣିର ପରିମାଣ (ଲିଟରରେ) ଦେଖାଯାଇଛି। ବିକ୍ରି ହେବା ପାଣିଟି ଲିଟରରେ ପ୍ରତିନିଧିତ୍ୱ କରା ହୁଏ।



Total water sold by state S2 is how much percent more than water sold by state S1?

ରାଜ୍ୟ S2 ଦ୍ୱାରା ବିକ୍ରି ହେବା ମୋଟ ପାନି ରାଷ୍ଟ୍ର S1 ଦ୍ୱାରା ବିକ୍ରି ହେବା ପାନିର ତୁଳନାରେ କେତେ ଶତାଂଶ ବେଶି?

Options:

- 1) 15%
- 2) 16.67%
- 3) 20%
- 4) 10%

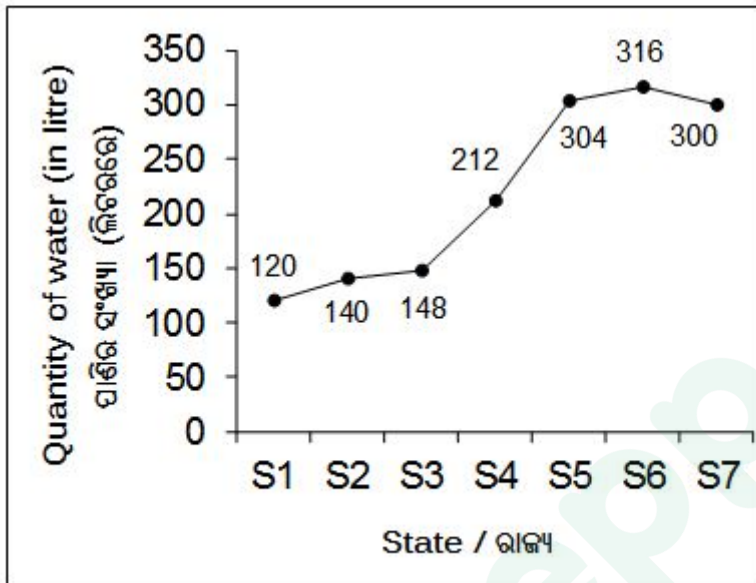
Correct Answer: 2) 16.67%

Candidate Answer: 2) 16.67%

QID : 420 -

The line chart given below shows the quantity of water (in litre) sold in the seven states of a country. The water sold is represented in litres.

ତଳେ ଦିଆ ହେଇଥିବା ଲାଇନ ଚାର୍ଟଟି ଗୋଟେ ଦେଶର ସାତଟି ରାଜ୍ୟର ବିକ୍ରି ହେବା ପାଣିର ପରିମାଣ (ଲିଟରରେ) ଦେଖାଯାଇଛି। ବିକ୍ରି ହେବା ପାଣିଟି ଲିଟରରେ ପ୍ରତିନିଧିତ୍ୱ କରା ହୁଏ।



What is the average (in litres) of total water sold by all states together?

ସମସ୍ତ ରାଜ୍ୟ ଏକା ସାଙ୍ଗରେ ବିକ୍ରି କରିଲେ ମୋଟ ପାଣିର ଗଢ଼ (ଲିଟରରେ) କେତେ ହବ?

Options:

- 1) 210
- 2) 220
- 3) 205
- 4) 215

Correct Answer: 2) 220

Candidate Answer: 3) 205

QID : 421 - Nailini wants to introduce the topic on 'Animals – our friend' to class III students. In order to introduce the topic more interestingly, which of the following will be the best teaching strategy?

ନଳିନୀ ତୃତୀୟ ଶ୍ରେଣୀର ଛତ୍ର ଛାତ୍ରୀ ମାନଙ୍କୁ 'ପଶୁ ମାନେ ଆମର ବନ୍ଧୁ' ବିଷୟ ନେଇ ପଢ଼େଇବାକୁ ଚାହଁଥିଲେ । ଏହି ବିଷୟକୁ ଅଧିକ ଆଗ୍ରହପୂର୍ଣ୍ଣ ଭଙ୍ଗରେ ଉପସ୍ଥାପନା କରିବା ଲାଗି ନିମ୍ନଲିଖିତ ମଧ୍ୟରୁ କେଉଁଟି ସବଠ ଭଲ ଶିକ୍ଷା ରଣକୌଶଳ ହେବ ?

Options:

1) Ask the students to see pictures of animals given in the text book

ଛାତ୍ରଛାତ୍ରୀ ମାନଙ୍କୁ ପୁସ୍ତକରେ ଦିଆଯାଇଥିବା ପଶୁ ମାନଙ୍କ ଚିତ୍ର ଦେଖିବାକୁ କୁହନ୍ତୁ

2) Use a chart showing pictures of different animals

ବିଭିନ୍ନ ପଶୁ ମାନଙ୍କ ଚିତ୍ର ଦେଖାଇବା ଲାଗି ଏକ ଚାର୍ଟର ଉପଯୋଗ କରନ୍ତୁ

3) Draw pictures of different animals on the black – board

କଳାପଟାରେ ବିଭିନ୍ନ ପଶୁ ମାନଙ୍କ ଚିତ୍ର ଆଙ୍କନ୍ତୁ

4) Show a video clip on animals and their usefulness

ପଶୁ ମାନଙ୍କ ଉପରେ ଏକ ଭିଡିଓ କ୍ଲିପ ଓ ସେମାନଙ୍କ ଉପଯୋଗୀତା ବିଷୟରେ ଦେଖାନ୍ତୁ

Correct Answer: 4) Show a video clip on animals and their usefulness

ପଶୁ ମାନଙ୍କ ଉପରେ ଏକ ଭିଡିଓ କ୍ଲିପ ଓ ସେମାନଙ୍କ ଉପଯୋଗୀତା ବିଷୟରେ ଦେଖାନ୍ତୁ

Candidate Answer: 4) Show a video clip on animals and their usefulness

ପଶୁ ମାନଙ୍କ ଉପରେ ଏକ ଭିଡିଓ କ୍ଲିପ ଓ ସେମାନଙ୍କ ଉପଯୋଗୀତା ବିଷୟରେ ଦେଖାନ୍ତୁ

QID : 422 - The three methods of EVS/Science are observation, experimentation and _____.

ଇତିସାଧ/ବିଜ୍ଞାନ ର ତିନୋଟି ପ୍ରଣାଳୀ ହେଲା ଅବଲୋକନ, ପ୍ରୟୋଗ ଓ _____।

Options:

1) deduction

ବିଯୋଗ

2) hypothesis

ପରିକଳ୍ପନା

3) measurement

ମାପ

4) inference

ଅନୁମାନ

Correct Answer: 4) inference

ଅନୁମାନ

Candidate Answer: 2) hypothesis

ପରିକଳ୍ପନା

QID : 423 - After discussing about crop plants, Reema took her students to the crop fields. She wanted her students to _____.

ଫସଲ ଶସ୍ୟ ବିଷୟରେ ଆଲୋଚନା କରିବା ପରେ ରିମା ତାଙ୍କ ଛାତ୍ରଛାତ୍ରୀ ମାନଙ୍କୁ ଫସଲ କ୍ଷେତକୁ ନେଇଗଲେ । ସେ ଛାତ୍ରଛାତ୍ରୀ ମାନଙ୍କୁ _____ କରେଇବାକୁ ଚାହୁଁଥିଲେ ।

Options:

1) list the crops growing in the field

ଜମିରେ ଅମଳ ଫସଲର ତାଲିକା ବନାନ୍ତୁ

2) connect their classroom learning to real – life contexts

ସେମାନଙ୍କ ଶ୍ରେଣୀଗୃହ ପାଠପଢ଼ାକୁ ବାସ୍ତବିକ ଜୀବନର ସମ୍ବନ୍ଧରେ ଯୋଡ଼ନ୍ତୁ

3) understand the processes of farming

ଚାଷ ର ପ୍ରକ୍ରିୟା ଗୁଡ଼ିକୁ ବୁଝନ୍ତୁ

4) hands – on experiment in the field

ଏହି କ୍ଷେତ୍ରରେ ପ୍ରୟୋଗ କରନ୍ତୁ

Correct Answer: 2) connect their classroom learning to real – life contexts

ସେମାନଙ୍କ ଶ୍ରେଣୀଗୃହ ପାଠପଢ଼ାକୁ ବାସ୍ତବିକ ଜୀବନର ସମ୍ବନ୍ଧରେ ଯୋଡ଼ନ୍ତୁ

Candidate Answer: 2) connect their classroom learning to real – life contexts

ସେମାନଙ୍କ ଶ୍ରେଣୀଗୃହ ପାଠପଢ଼ାକୁ ବାସ୍ତବିକ ଜୀବନର ସମ୍ବନ୍ଧରେ ଯୋଡ଼ନ୍ତୁ

QID : 424 - While teaching the topic water in her EVS classroom, Anjali organises role play on different sources of water and individual actions to conserve water. What is the primary aim of this activity?

ଇଭିଏସ୍ ଶ୍ରେଣୀ ଗୃହରେ ଜଳ ବିଷୟରେ ପାଠ ପଢ଼ାଇବା ବେଳେ, ଅଞ୍ଜଳି ଜଳ ର ସଂରକ୍ଷଣ ପାଇଁ ଜଳ ର ବିଭିନ୍ନ ସ୍ରୋତ ଓ ବ୍ୟକ୍ତିଗତ କ୍ରିୟା ଉପରେ ରୋଲ ପ୍ଲେ ର ଆୟୋଜନ କରିଥିଲେ । ଏହି କାର୍ଯ୍ୟକ୍ରମ ର ମୁଖ୍ୟ ଉଦ୍ଦେଶ୍ୟ କଣ ?

Options:

1) Improving social skills of students

ଛାତ୍ରଛାତ୍ରୀ ମାନଙ୍କ ସାମାଜିକ କୌଶଳ ରେ ସୁଧାର ଆଣିବା

2) Breaking monotony

ଏକରସତା ଭଙ୍ଗ କରିବା

3) Ensuring active participation of the students in the process of learning

ଶିଖୁବାର ପ୍ରକ୍ରିୟାରେ ବିଦ୍ୟାର୍ଥୀ ମାନଙ୍କ ସକ୍ରିୟ ଭାଗୀଦାରୀ ସୁନିଶ୍ଚିତ କରିବା

4) Enhancing student's knowledge on sources of water

ଜଳର ସ୍ରୋତ ଉପରେ ବିଦ୍ୟାର୍ଥୀ ମାନଙ୍କ ଜ୍ଞାନ ବୃଦ୍ଧି କରିବା

Correct Answer: 3) Ensuring active participation of the students in the process of learning

ଶିଖୁବାର ପ୍ରକ୍ରିୟାରେ ବିଦ୍ୟାର୍ଥୀ ମାନଙ୍କ ସକ୍ରିୟ ଭାଗୀଦାରୀ ସୁନିଶ୍ଚିତ କରିବା

Candidate Answer: 4) Enhancing student's knowledge on sources of water

ଜଳର ସ୍ରୋତ ଉପରେ ବିଦ୍ୟାର୍ଥୀ ମାନଙ୍କ ଜ୍ଞାନ ବୃଦ୍ଧି କରିବା

QID : 425 - What is the basic objective of educational excursion in EVS?

ଇଭିଏସ୍ ରେ ଶିକ୍ଷିକ ଭ୍ରମଣ ର ମୂଳ ଉଦ୍ଦେଶ୍ୟ କଣ ?

Options:

1) To develop the energy of children

ପିଲା ମାନଙ୍କ ଶକ୍ତି ବିକାଶ କରିବା

2) Real-life experience to the students

ଛାତ୍ର ଛାତ୍ରୀ ମାନଙ୍କ ବାସ୍ତବିକ ଜୀବନର ଅନୁଭୂତି

3) Promote Socialisation

ସମାଜିକରଣ କୁ ପ୍ରୋତ୍ସାହନ ଦେବା

4) Promote team sprit

ଟିମ ସ୍ପିରିଟକୁ ପ୍ରୋତ୍ସାହନ ଦେବା

Correct Answer: 2) Real-life experience to the students

ଛାତ୍ର ଛାତ୍ରୀ ମାନଙ୍କ ବାସ୍ତବିକ ଜୀବନର ଅନୁଭୂତି

Candidate Answer: 3) Promote Socialisation

ସମାଜିକରଣ କୁ ପ୍ରୋତ୍ସାହନ ଦେବା

QID : 426 - At lower classes play-way method of teaching EVS is based on _____.

ଛୋଟ ଶ୍ରେଣୀରେ ଇତିସୂତ୍ର ଶିକ୍ଷାର ପ୍ରେ ପ୍ରଣାଳୀ _____ ଉପରେ ଆଧାରିତ ।

Options:

1) psychological principles of development

ବିକାଶ ର ମନୋବିଜ୍ଞାନିକ ସିଦ୍ଧାନ୍ତ

2) sociological principles of teaching

ପାଠପଢ଼ା ର ସମାଜ ବିଜ୍ଞାନ ସମ୍ପର୍କୀୟ ସିଦ୍ଧାନ୍ତ

3) theory of physical education program

ଶାରୀରିକ ଶିକ୍ଷା କାର୍ଯ୍ୟକ୍ରମର ସିଦ୍ଧାନ୍ତ

4) principles of method of teaching

ଅଧ୍ୟାପନା ପ୍ରଣାଳୀର ସିଦ୍ଧାନ୍ତ

Correct Answer: 4) principles of method of teaching

ଅଧ୍ୟାପନା ପ୍ରଣାଳୀର ସିଦ୍ଧାନ୍ତ

Candidate Answer: 3) theory of physical education program

ଶାରୀରିକ ଶିକ୍ଷା କାର୍ଯ୍ୟକ୍ରମର ସିଦ୍ଧାନ୍ତ

QID : 427 - What is the use of asking, probing and imagining questions in class V EVS class?

ପଞ୍ଚମ ଶ୍ରେଣୀ ଇତିସୂତ୍ର ପାଠ ପଢ଼ା ବେଳେ ପ୍ରଶ୍ନ ପଚାରିବା, ଯାଞ୍ଚ କରିବା ଓ କଳ୍ପନା କରିବାର ଉପଯୋଗ କଣ ?

Options:

1) observation skills

ଅବଲୋକନ କୌଶଳ

2) emotional skills

ଭାବନାତ୍ମକ କୌଶଳ

3) thinking skills

ଚିନ୍ତା କରିବାର କୌଶଳ

4) speaking skills

କଥା କହିବାର କୌଶଳ

Correct Answer: 3) thinking skills

ଚିନ୍ତା କରିବାର କୌଶଳ

Candidate Answer: 2) emotional skills

ଭାବନାତ୍ମକ କୌଶଳ

QID : 428 - As per the NCF 2005, what is the theme of EVS?

ଏନସିଏଟି 2005 ଅନୁଯାୟୀ ଇଭିଏସ ର ଶୀର୍ଷକ କଣ ?

Options:

1) Food

ଖାଦ୍ୟ

2) Solar system

ସୌର ମଣ୍ଡଳ

3) Weather

ପାଣିପାଗ

4) Energy

ଶକ୍ତି

Correct Answer: 1) Food

ଖାଦ୍ୟ

Candidate Answer: 1) Food

ଖାଦ୍ୟ

QID : 429 - Which of the following is the strongest argument in favour of adopting a theme – based approach in EVS?

ଇଭିଏସ ରେ ଏକ ଶୀର୍ଷକ ଆଧାରିତ ଦୃଷ୍ଟିକୋଣ ଆପାଣେଇବା ପକ୍ଷରେ ସବୁଠୁ ଅଧିକ ଡର୍କସଙ୍ଗତ ନିମ୍ନ ମଧ୍ୟରୁ କେଉଁଟି ?

Options:

- 1) It helps in giving a structure to lesson plans and makes teaching more effective
ଏହା ପାଠ ପଢ଼ାକୁ ଏକ ଢାଞ୍ଚା ପ୍ରଦାନ କରିବା ସହ ଅଧ୍ୟାପନାକୁ ଅଧିକ ଫଳପ୍ରସ୍ତ କରିଥାଏ |
- 2) It helps in making teaching more interesting and activity based
ଏହା ପାଠପଢ଼ାକୁ ଅଧିକ ରୋଚକ ଓ କାର୍ଯ୍ୟକଳାପ ଆଧାରିତ କରିବା ଲାଗି ସହାୟତା କରେ
- 3) It helps in covering a wide range of concepts, issues and skills
ଏହା ଅବଧାରଣା, ପ୍ରସଙ୍ଗ ଓ କୌଶଳର ଏକ ବିସ୍ତୃତ ଶୃଙ୍ଖଳାକୁ ବୁଝାଇବାରେ ସହାୟତା କରେ
- 4) It helps in softening subject boundaries and accessing knowledge holistically
ଏହା ବିଷୟକୁ ସହଜରେ ବୁଝାଇବା ସହ ଜ୍ଞାନ ଆହରଣ କରିବାରେ ସହାୟତା କରିଥାଏ

Correct Answer: 1) It helps in giving a structure to lesson plans and makes teaching more effective

ଏହା ପାଠ ପଢ଼ାକୁ ଏକ ଢାଞ୍ଚା ପ୍ରଦାନ କରିବା ସହ ଅଧ୍ୟାପନାକୁ ଅଧିକ ଫଳପ୍ରସ୍ତ କରିଥାଏ |

Candidate Answer: 2) It helps in making teaching more interesting and activity based

ଏହା ପାଠପଢ଼ାକୁ ଅଧିକ ରୋଚକ ଓ କାର୍ଯ୍ୟକଳାପ ଆଧାରିତ କରିବା ଲାଗି ସହାୟତା କରେ

QID : 430 - Stories are an important aspect of teaching and learning EVS in primary classes. Which of the following is the least appropriate reason for including story telling as pedagogy in EVS classroom?

ପ୍ରାଥମିକ ଶ୍ରେଣୀରେ ଇତିହାସ ପଢ଼ାଇବା ଓ ଶିଖିବା ଲାଗି କାହାଣୀର ମହତ୍ତ୍ୱପୂର୍ଣ୍ଣ ଭୂମିକା ରହିଛି । ନିମ୍ନଲିଖିତ ମଧ୍ୟରୁ କେଉଁଟି ଇତିହାସ ଶ୍ରେଣୀରେ ଶିକ୍ଷା ବିଜ୍ଞାନ ଭାବେ କାହାଣୀ କହିବାକୁ ସାମିଲ କରିବା ପାଇଁ ସବୁଠୁ କମ ଉପଯୁକ୍ତ କାରଣ ?

Options:

- 1) Stories include experiences of the people
ଲୋକମାନଙ୍କ ଅନୁଭୂତି ଥିବା କାହାଣୀ
- 2) Stories cut across various subject areas
ବିଭିନ୍ନ ବିଷୟରେ କାହାଣୀ କମ କରିବା
- 3) Stories help in class management
କାହାଣୀ ଗୁଡ଼ିକ ଶ୍ରେଣୀ ପରିଚାଳନା କରିବାରେ ସହାୟତା କରେ
- 4) Stories provide contexts to relate EVS concepts
କାହାଣୀ ଇତିହାସ ଅବଧାରଣା ସମ୍ପର୍କୀୟ ପୃଷ୍ଠଭୂମି ପ୍ରଦାନ ପ୍ରଦାନ କରେ

Correct Answer: 3) Stories help in class management

କାହାଣୀ ଗୁଡ଼ିକ ଶ୍ରେଣୀ ପରିଚାଳନା କରିବାରେ ସହାୟତା କରେ

Candidate Answer: 3) Stories help in class management

କାହାଣୀ ଗୁଡ଼ିକ ଶ୍ରେଣୀ ପରିଚାଳନା କରିବାରେ ସହାୟତା କରେ

QID : 431 - In which century the famous Jagannath Temple at Puri was built by Anangabhimha Deva?

ପୁରୀ ସ୍ଥିତ ପ୍ରସିଦ୍ଧ ଜଗନ୍ନାଥ ମନ୍ଦିର ର ନିର୍ମାଣ କେଉଁ ଶତାବ୍ଦୀ ରେ ଅନଙ୍ଗଭୀମ ଦେବ କରେଇଥିଲେ ?

Options:

- 1) 10th Century
ଦଶମ ଶତାବ୍ଦୀ
- 2) 12th Century
ଦ୍ଵାଦଶ ଶତାବ୍ଦୀ
- 3) 13th Century
ତ୍ରୟୋଦଶ ଶତାବ୍ଦୀ
- 4) 6th Century
ଷଷ୍ଠ ଶତାବ୍ଦୀ

Correct Answer: 2) 12th Century
ଦ୍ଵାଦଶ ଶତାବ୍ଦୀ

Candidate Answer: 4) 6th Century
ଷଷ୍ଠ ଶତାବ୍ଦୀ

QID : 432 - Gopalpur port is located in which district of Odisha?

ଓଡ଼ିଶାର କେଉଁ ଜିଲ୍ଲାରେ ଗୋପାଳପୁର ବନ୍ଦର ଅବସ୍ଥିତ ?

Options:

- 1) Jagatsingpur district
ଜଗତସିଂଗପୁର ଜିଲ୍ଲା
- 2) Bhadrak district
ଭଦ୍ରକ ଜିଲ୍ଲା
- 3) Puri district
ପୁରୀ ଜିଲ୍ଲା
- 4) Ganjam district
ଗଞ୍ଜାମ ଜିଲ୍ଲା

Correct Answer: 4) Ganjam district
ଗଞ୍ଜାମ ଜିଲ୍ଲା

Candidate Answer: 4) Ganjam district
ଗଞ୍ଜାମ ଜିଲ୍ଲା

QID : 433 - In which of the following plants, reproduction occurs through roots?

ନିମ୍ନଲିଖିତ ମଧ୍ୟରୁ କେଉଁ ଚାରାରେ ମୂଳ ଜରିଆରେ ପ୍ରଜନନ ହୋଇଥାଏ |

Options:

1) Jasmine

ମଲ୍ଲୀ

2) Turnip

ଓଲକୋବି

3) Sweet Potato

ମିଠା କନ୍ଦା

4) Raddish

ମୂଳା

Correct Answer: 3) Sweet Potato

ମିଠା କନ୍ଦା

Candidate Answer: 3) Sweet Potato

ମିଠା କନ୍ଦା

QID : 434 - Jarawa Tribal people are found in which region of India?

ଜାରବା ଆଦିବାସୀ ଲୋକ ଭାରତର କେଉଁ ଅଞ୍ଚଳରେ ବେଖୁବାକୁ ମିଳିଥାଏ ?

Options:

1) Lakshadweep Islands

ଲାକ୍ଷାଦ୍ୱୀପ ଦ୍ୱୀପପୁଞ୍ଜ

2) Andaman and Nicobar Islands

ଆଣ୍ଡାମାନ ଓ ନିକୋବର ଦ୍ୱୀପପୁଞ୍ଜ

3) Jharkhand

ଝାଡ଼ଖଣ୍ଡ

4) Madhya Pradesh

ମଧ୍ୟପ୍ରଦେଶ

Correct Answer: 2) Andaman and Nicobar Islands

ଆଣ୍ଡାମାନ ଓ ନିକୋବର ଦ୍ୱୀପପୁଞ୍ଜ

Candidate Answer: 2) Andaman and Nicobar Islands

ଆଣ୍ଡାମାନ ଓ ନିକୋବର ଦ୍ୱୀପପୁଞ୍ଜ

QID : 435 - Cuttack is located on the delta of which river?

କଟକ କେଉଁ ନଦୀ ଅବବାହିକାରେ ଅବସ୍ଥିତ ?

Options:

- 1) Indravati
ଇନ୍ଦ୍ରାବତୀ
- 2) Brahmani
ବ୍ରାହ୍ମଣୀ
- 3) Sankh
ଶଙ୍କ
- 4) Mahanadi
ମହାନଦୀ

Correct Answer: 4) Mahanadi
ମହାନଦୀ

Candidate Answer: 4) Mahanadi
ମହାନଦୀ

QID : 436 - Which vitamin acts as an antioxidant ageing vitamin?

କେଉଁ ଭିଟାମିନ ଏକ ଏଣ୍ଟି ଅକ୍ସିଡେଣ୍ଟ ଏଜିଙ୍ଗ ଭିଟାମିନ ଭାବେ କାମ କରିଥାଏ ?

Options:

- 1) Vitamin A
ଭିଟାମିନ A
- 2) Vitamin B
ଭିଟାମିନ B
- 3) Vitamin E
ଭିଟାମିନ E
- 4) Vitamin K
ଭିଟାମିନ K

Correct Answer: 3) Vitamin E
ଭିଟାମିନ E

Candidate Answer: 4) Vitamin K
ଭିଟାମିନ K

QID : 437 - Brahmani river originates in _____.

ବ୍ରାହ୍ମଣୀ ନଦୀ _____ ରୁ ଉତ୍ପତ୍ତି ହୋଇଛି ।

Options:

- 1) Odisha
ଓଡ଼ିଶା
- 2) Bihar
ବିହାର
- 3) Jharkhand
ଝାଡ଼ଖଣ୍ଡ
- 4) Chattisgarh
ଛତିଶଗଡ଼

Correct Answer: 3) Jharkhand
ଝାଡ଼ଖଣ୍ଡ

Candidate Answer: 4) Chattisgarh
ଛତିଶଗଡ଼

QID : 438 - Which of the following taste buds are present behind salt taste buds?

ସଲ୍ଟ ଟେଷ୍ଟ ବଡ଼ ରେ ନିମ୍ନଲିଖିତ ମଧ୍ୟରୁ କେଉଁ ଟେଷ୍ଟ ବଡ଼ ରହିଥାଏ ?

Options:

- 1) Sweet
ମିଠା
- 2) Sour
ଖଟା
- 3) Bitter
ପିତା
- 4) No option is correct
କୌଣସି ବିକଳ୍ପ ଠିକ୍ ନୁହେଁ

Correct Answer: 2) Sour
ଖଟା

Candidate Answer: 2) Sour
ଖଟା

QID : 439 - Which is the state animal of Assam?

ଆସାମର ରାଜ୍ୟ ପଶୁ କଣ ?

Options:

1) Mithun

ମିଥୁନ

2) Black Buck

କଳା ହରିଣ

3) One-horned rhinoceros

ଏକ ସିଂହ ବାଲା ଗଣ୍ଡା

4) Ox

ବଳଦ

Correct Answer: 3) One-horned rhinoceros

ଏକ ସିଂହ ବାଲା ଗଣ୍ଡା

Candidate Answer: 3) One-horned rhinoceros

ଏକ ସିଂହ ବାଲା ଗଣ୍ଡା

QID : 440 - "Origin of Species" is written by _____.

“ପ୍ରକାଶର ଉତ୍ପତ୍ତି “ _____ ଲେଖିଛନ୍ତି ?

Options:

1) Louis Pasteur

ଲୁଇସ ପାଷ୍ଟର

2) Mendel

ମେଣ୍ଡେଲ

3) Robert Hooke

ରବର୍ଟ ହୁକ

4) Charles Darwin

ଚାର୍ଲ୍ସ ଡାର୍ଭିନ

Correct Answer: 4) Charles Darwin

ଚାର୍ଲ୍ସ ଡାର୍ଭିନ

Candidate Answer: 3) Robert Hooke

ରବର୍ଟ ହୁକ

QID : 441 - Paika Rebellion, 1817 took place in which state of India?

ପାଇକା ବିଦ୍ରୋହ, 1817 ଭାରତର କେଉଁ ରାଜ୍ୟରେ ହୋଇଥିଲା ?

Options:

1) West Bengal

ପଶ୍ଚିମବଙ୍ଗ

2) Punjab

ପଞ୍ଜାବ

3) Odisha

ଓଡ଼ିଶା

4) Tamil Nadu

ତାମିଲନାଡୁ

Correct Answer: 3) Odisha

ଓଡ଼ିଶା

Candidate Answer: 3) Odisha

ଓଡ଼ିଶା

QID : 442 - Who appoints judges of District Court in India?

ଭାରତରେ ଜିଲ୍ଲା ଅଦାଲତର ବିଚାରପତି ମାନଙ୍କୁ କିଏ ନିଯୁକ୍ତ କରନ୍ତି ?

Options:

1) The President

ରାଷ୍ଟ୍ରପତି

2) Chief Minister of State

ରାଜ୍ୟର ମୁଖ୍ୟମନ୍ତ୍ରୀ

3) Governor of State

ରାଜ୍ୟର ରାଜ୍ୟପାଳ

4) Chief Justice of High Court

ଉଚ୍ଚ ଅଦାଲତ ର ମୁଖ୍ୟ ବିଚାରପତି

Correct Answer: 3) Governor of State

ରାଜ୍ୟର ରାଜ୍ୟପାଳ

Candidate Answer: 3) Governor of State

ରାଜ୍ୟର ରାଜ୍ୟପାଳ

QID : 443 - Chairman of Election Commission is removed from the office in the same manner as _____.

_____ କୁ ହଟାଯିବା ଭଳି ସମାନ ପ୍ରାଣାଳୀ ରେ ନିର୍ବାଚନ ଆୟୋଗ ର ଅଧ୍ୟକ୍ଷ କୁ ମଧ୍ୟ କାର୍ଯ୍ୟକାରୀ ହଟେଇଦିଆଯାଏ ।

Options:

1) Judge of Supreme Court

ସୁପ୍ରିମ କୋର୍ଟ ର ବିଚାରପତି

2) Additional Solicitor General of India

ଭାରତର ଅତିରିକ୍ତ ସୋଲିସିଟର ଜେନେରାଲ

3) Chief of Army Staff

ସେନାଧ୍ୟକ୍ଷ

4) Governor of State

ରାଜ୍ୟର ରାଜ୍ୟପାଳ

Correct Answer: 1) Judge of Supreme Court

ସୁପ୍ରିମ କୋର୍ଟ ର ବିଚାରପତି

Candidate Answer: 4) Governor of State

ରାଜ୍ୟର ରାଜ୍ୟପାଳ

QID : 444 - Railways were introduced in India during the reign of which British Official?

ଭାରତରେ ରେଳବାଇ ର ଆରମ୍ଭ କେଉଁ ବ୍ରିଟିଶ ଅଧିକାରୀଙ୍କ ଶାସନ କାଳ ସମୟରେ ହୋଇଥିଲା ?

Options:

1) Dalhousie

ଡଲହାଉସୀ

2) Cornwallis

କର୍ନୱାଲିସ

3) Chelmsford

ଚେଲ୍ମସ୍‌ଫର୍ଡ

4) Wavell

ବେଭେଲ

Correct Answer: 1) Dalhousie

ଡଲହାଉସୀ

Candidate Answer: 3) Chelmsford

ଚେଲ୍ମସ୍‌ଫର୍ଡ

QID : 445 - Intensity of Earthquake is measured using _____.

ଭୂମିକମ୍ପର ତୀବ୍ରତା _____ ବ୍ୟବହାର କରି ମପାଯାଏ ?

Options:

1) Physiograph

ଫିଜିଓଗ୍ରାଫ

2) Cardiograph

କାର୍ଡିଓଗ୍ରାଫ

3) Seismograph

ଭୂମିକମ୍ପ ସୂଚକ ଯନ୍ତ୍ର

4) Barograph

ବାୟୁ ଚାପ ମାପକ ଯନ୍ତ୍ର

Correct Answer: 3) Seismograph

ଭୂମିକମ୍ପ ସୂଚକ ଯନ୍ତ୍ର

Candidate Answer: 2) Cardiograph

କାର୍ଡିଓଗ୍ରାଫ

QID : 446 - 'Minamata Disease' is caused by high levels of _____.

'ମିନମାତା ରୋଗ' _____ ର ଅଧିକ ମାତ୍ରା ଯୋଗୁଁ ହୋଇଥାଏ ।

Options:

1) Lead

ସୀସା

2) Arsenic

ଖଣିଜ ପଦାର୍ଥ

3) Zinc

ଦସ୍ତା

4) Mercury

ପାରଦ

Correct Answer: 4) Mercury

ପାରଦ

Candidate Answer: 3) Zinc

ଦସ୍ତା

QID : 447 - Which tissues of Human Body store fats?

ମାନବ ଶରୀରର କେଉଁ ପେଶୀ ଗୁଡ଼ିକ ଚର୍ବି ଜମା କରିଥାଏ ?

Options:

1) Epithelial Tissue

ଏପିଥେଲିଆଲ ଯେଣୀ

2) Adipose Tissue

ପଶୁ ଚର୍ମ ସମ୍ବନ୍ଧିତ (ଆଡିପୋଜ) ଯେଣୀ

3) Areolar Tissue

ସ୍ତନ ଚୁକ୍ତକର ବଳୟ (ଆରେଓଲାର) ଯେଣୀ

4) No option is correct

କୌଣସି ବିକଳ୍ପ ଠିକ ନୁହେଁ

Correct Answer: 2) Adipose Tissue

ପଶୁ ଚର୍ମ ସମ୍ବନ୍ଧିତ (ଆଡିପୋଜ) ଯେଣୀ

Candidate Answer: 1) Epithelial Tissue

ଏପିଥେଲିଆଲ ଯେଣୀ

QID : 448 - With which country, India share its longest international border?

କେଉଁ ଦେଶ ସହ ଭାରତର ସବୁଠୁ ଦୀର୍ଘ ଆନ୍ତର୍ଜାତୀୟ ସୀମା ସଂଲଗ୍ନ ରହିଛି ?

Options:

1) China

ଚୀନ

2) Pakistan

ପାକିସ୍ତାନ

3) Bangladesh

ବାଙ୍ଗଳାଦେଶ

4) Myanmar

ମିଆଁମାର

Correct Answer: 3) Bangladesh

ବାଙ୍ଗଳାଦେଶ

Candidate Answer: 2) Pakistan

ପାକିସ୍ତାନ

QID : 449 - Pulicat Lake is located in _____.

ପୁଲିକାଟ ହ୍ରଦ _____ ଠାରେ ଅବସ୍ଥିତ

Options:

1) Andhra Pradesh

ଆନ୍ଧ୍ରପ୍ରଦେଶ

2) Tamil Nadu

ତାମିଲନାଡୁ

3) Both Andhra Pradesh and Tamil Nadu

ଉଭୟ ଆନ୍ଧ୍ରପ୍ରଦେଶ ଓ ତାମିଲନାଡୁ

4) No option is correct

କୌଣସି ବିକଳ୍ପ ଠିକ ନୁହେଁ

Correct Answer: 3) Both Andhra Pradesh and Tamil Nadu

ଉଭୟ ଆନ୍ଧ୍ରପ୍ରଦେଶ ଓ ତାମିଲନାଡୁ

Candidate Answer: 3) Both Andhra Pradesh and Tamil Nadu

ଉଭୟ ଆନ୍ଧ୍ରପ୍ରଦେଶ ଓ ତାମିଲନାଡୁ

QID : 450 - Who is known as the Father of Civil Services in India?

ଭାରତରେ ପ୍ରଶାସନିକ ସେବାର ଜନକ ବୋଲି କାହାକୁ କୁହାଯାଏ ?

Options:

1) Warren Hasting

ଓରେନ ହେଷ୍ଟିଙ୍ଗ

2) Charles Cornwallis

ଚାର୍ଲ୍ସ କର୍ନୱାଲିସ୍

3) Sardar Vallabh Bhai Patel

ସର୍ଦାର ବଲ୍ଲଭ ଭାଇ ପଟେଲ

4) V.P. Menon

ଭି. ପି ମେନନ

Correct Answer: 2) Charles Cornwallis

ଚାର୍ଲ୍ସ କର୍ନୱାଲିସ୍

Candidate Answer: 3) Sardar Vallabh Bhai Patel

ସର୍ଦାର ବଲ୍ଲଭ ଭାଇ ପଟେଲ