



Grievance

View response

Logout

Create

Name	[REDACTED]
Roll No	[REDACTED]
Subject	Paper 2

Paper- 2

Date- 13-Aug-2019

Shift- 2nd

QID : 601 - Which among these is a trait of adolescence?

ଏଗୁଡ଼ିକ ମଧ୍ୟରୁ କେଉଁଟି କୈଶୋରର ଏକ ଗୁଣ ଅଟେ ?

Options:

- 1) acquisition of fine motor skills
ଉନ୍ନତ ପେଶୀୟ ଦକ୍ଷତାଗୁଡ଼ିକ ଗ୍ରହଣ
- 2) improvement of hand-eye coordination
ହସ୍ତ-ଚକ୍ଷୁ ସହଯୋଗ ର ଉନ୍ନତି
- 3) rapid physical growth
ଦ୍ରୁତ ଶାରୀରିକ ବୃଦ୍ଧି
- 4) attainment of new motor skills
ନୂତନ ପେଶୀୟ ଦକ୍ଷତାଗୁଡ଼ିକ ହାସଲ

Correct Answer: 3) rapid physical growth
ଦ୍ରୁତ ଶାରୀରିକ ବୃଦ୍ଧି

Candidate Answer: 3) rapid physical growth
ଦ୍ରୁତ ଶାରୀରିକ ବୃଦ୍ଧି

QID : 602 - The hallmark of which stage is the 'search for identity'?

ପରିଚୟ ଖୋଜା' କେଉଁ ସୋପାନର ବୈଶିଷ୍ଟ୍ୟ ଅଟେ ?

Options:

- 1) Adolescence
କୈଶୋର
- 2) Infancy
ଶୈଶବାବସ୍ଥା
- 3) Pre-adolescence
ପ୍ରାକ୍-କୈଶୋରାବସ୍ଥା
- 4) Pre-school childhood
ପ୍ରାକ୍-ବିଦ୍ୟାଳୟ ଶୈଶବ

Correct Answer: 1) Adolescence
କୈଶୋର

Candidate Answer: 4) Pre-school childhood
ପ୍ରାକ୍-ବିଦ୍ୟାଳୟ ଶୈଶବ

QID : 603 - Which one of these change does NOT occur during adolescence?

ଏଗୁଡ଼ିକ ମଧ୍ୟରୁ କେଉଁ ପରିବର୍ତ୍ତନ କୈଶୋରାବସ୍ଥାରେ ହୋଇନଥାଏ ?

Options:

- 1) Change in body shape
ଶରୀର ଆକାରରେ ପରିବର୍ତ୍ତନ
- 2) Increase in height
ଉଚ୍ଚତା ବୃଦ୍ଧି
- 3) Voice change
ସ୍ଵର ପରିବର୍ତ୍ତନ
- 4) growth of motor skills
ପେଶୀୟ ଦକ୍ଷତାଗୁଡ଼ିକ ବୃଦ୍ଧି

Correct Answer: 4) growth of motor skills
ପେଶୀୟ ଦକ୍ଷତାଗୁଡ଼ିକ ବୃଦ୍ଧି

Candidate Answer: 3) Voice change
ସ୍ଵର ପରିବର୍ତ୍ତନ

QID : 604 - The changes which occur at adolescence are controlled by:

କୈଶୋରାବସ୍ଥାରେ ହେଉଥିବା ପରିବର୍ତ୍ତନଗୁଡ଼ିକ କାହାଦ୍ଵାରା ନିୟନ୍ତ୍ରିତ ହୋଇଥାନ୍ତି ?

Options:

- 1) hormones
ହରମୋନସ
- 2) culture
ସଂସ୍କୃତି
- 3) environment
ପରିବେଶ
- 4) heredity
ବଂଶାନୁକ୍ରମ

Correct Answer: 1) hormones
ହରମୋନସ

Candidate Answer: 4) heredity
ବଂଶାନୁକ୍ରମ

QID : 605 - Which gland in adolescents secretes growth hormone?

କୈଣୋରାବୟସ୍କରେ କେଉଁ ଗ୍ରନ୍ଥି ବୃଦ୍ଧି ହରମୋନ ଶରଣ କରିଥାଏ ?

Options:

- 1) Thyroid gland
ଥାଇରଏଡ ଗ୍ରନ୍ଥି
- 2) Adrenals
ଆଡ୍ରେନାଲସ
- 3) Pituitary gland
ପିଟୁଇଟାରୀ ଗ୍ରନ୍ଥି
- 4) Pineal
ପିନିଆଲ୍

Correct Answer: 3) Pituitary gland
ପିଟୁଇଟାରୀ ଗ୍ରନ୍ଥି

Candidate Answer: 2) Adrenals
ଆଡ୍ରେନାଲସ

QID : 606 - Needs that are associated with socio-cultural environment of an individual are called:

ଜଣେ ପିଲାଙ୍କ ସାମାଜିକ-ସଂସ୍କୃତିକ ପରିବେଶ ସହ ସମ୍ପର୍କିତ ଆବଶ୍ୟକତାଗୁଡ଼ିକୁ କଣ କୁହାଯାଏ ?

Options:

- 1) Primary needs
ପ୍ରାଥମିକ ଆବଶ୍ୟକତାଗୁଡ଼ିକ
- 2) Secondary needs
ଦ୍ୱିତୀୟକ ଆବଶ୍ୟକତାଗୁଡ଼ିକ
- 3) Tertiary needs
ତୃତୀୟକ ଆବଶ୍ୟକତାଗୁଡ଼ିକ
- 4) Physiological needs
ଶାରୀରିକ ଆବଶ୍ୟକତାଗୁଡ଼ିକ

Correct Answer: 2) Secondary needs
ଦ୍ୱିତୀୟକ ଆବଶ୍ୟକତାଗୁଡ଼ିକ

Candidate Answer: 4) Physiological needs
ଶାରୀରିକ ଆବଶ୍ୟକତାଗୁଡ଼ିକ

QID : 607 - Secondary needs are acquired through:

ଦ୍ୱିତୀୟକ ଆବଶ୍ୟକତାଗୁଡ଼ିକ କାହାଦ୍ୱାରା ହାସଲ ହୋଇଥାଏ ?

Options:

- 1) gratification
ସନ୍ତୋଷ
- 2) reflex
ପ୍ରତିବର୍ତ୍ତ
- 3) social learning
ସାମାଜିକ ଶିକ୍ଷା
- 4) existence
ଅସ୍ତିତ୍ୱ

Correct Answer: 3) social learning
ସାମାଜିକ ଶିକ୍ଷା

Candidate Answer: 3) social learning
ସାମାଜିକ ଶିକ୍ଷା

QID : 608 - One of the important socio-psychological needs of an adolescent is:

ଜଣେ କିଶୋରର ମୁଖ୍ୟ ସାମାଜିକ-ମନସ୍ତତ୍ତ୍ୱିକ ଆବଶ୍ୟକତା କଣ ଅଟେ ?

Options:

1) rest and sleep

ବିଶ୍ରାମ ଓ ନିଦ୍ରା

2) water and food

ଜଳ ଓ ଖାଦ୍ୟ

3) latest mobile phone

ନୂଆ ମୋବାଇଲ ଫୋନ

4) freedom and independence

ସ୍ୱଚ୍ଛନ୍ଦତା ଏବଂ ସ୍ୱାଧୀନତା

Correct Answer: 4) freedom and independence

ସ୍ୱଚ୍ଛନ୍ଦତା ଏବଂ ସ୍ୱାଧୀନତା

Candidate Answer: 1) rest and sleep

ବିଶ୍ରାମ ଓ ନିଦ୍ରା

QID : 609 - Which problems are associated with adolescence?

1. Adjustment difficulties with parents
2. Adjustment difficulties with school discipline
3. Toilet training
4. Adjustment difficulties with community
5. Hand-eye coordination

କେଉଁ ସମସ୍ୟାଗୁଡ଼ିକ କୈଶୋରାବସ୍ଥା ସହ ସମ୍ପର୍କିତ ?

1. ପିତାମାତାଙ୍କ ସମାଯୋଜନରେ ଅସୁବିଧା
2. ବିଦ୍ୟାଳୟ ନିୟମରେ ସମାଯୋଜନରେ ଅସୁବିଧା
3. ପାଇଖାନା ପ୍ରଶିକ୍ଷଣ
4. ଗୋଷ୍ଠୀ ସହ ସମାଯୋଜନରେ ଅସୁବିଧା
5. ହସ୍ତ-ଚକ୍ଷୁ ନିୟନ୍ତ୍ରଣ

Options:

1) All 1 to 5 are correct

1 ରୁ 5 ସବୁ ଠିକ୍

2) Only 1, 2 and 3 are correct

କେବଳ 1, 2 ଓ 3 ଠିକ୍

3) Only 2, 4 and 5 are correct

କେବଳ 2, 4 ଓ 5 ଠିକ୍

4) Only 1, 2 and 4 are correct

କେବଳ 1, 2 ଓ 4 ଠିକ୍

Correct Answer: 4) Only 1, 2 and 4 are correct

କେବଳ 1, 2 ଓ 4 ଠିକ୍

Candidate Answer: 4) Only 1, 2 and 4 are correct

କେବଳ 1, 2 ଓ 4 ଠିକ୍

QID : 610 - Which one of the following correctly explains how the knowledge of a child's heredity and environment helps a teacher?

କିପରି ଜଣେ ଶିଶୁର ବଂଶାନୁକ୍ରମ ଓ ପରିବେଶର ଜ୍ଞାନ ଶିକ୍ଷକଙ୍କୁ ସାହାଯ୍ୟ କରେ, ସେ ସମ୍ପର୍କରେ ନିମ୍ନସ୍ଥ କେଉଁଟି ସଠିକ ଭାବରେ ବର୍ଣ୍ଣନା କରେ ?

Options:

1) know the varying needs and abilities of the children

ଶିଶୁର ବିଭିନ୍ନ ଆବଶ୍ୟକତା ଓ ଦକ୍ଷତା ଜାଣିବା

2) know how much the students' parents can spend on his/her higher education

ଶିଶୁର ଅଭିଭାବକ ଶିଶୁର ଉଚ୍ଚଶିକ୍ଷା ପାଇଁ କେତେ ଖର୍ଚ୍ଚ କରିପାରିବେ ଜାଣିବା

3) predict the level of success the said student can achieve

ଜଣେ ପିଲା କେତେ ସଫଳତା ହାସଲ କରିପାରିବ ତାହା ଅନୁମାନ କରିବା

4) speculate the extent of donation expected from the parents

ପିତାମାତା କେତେ ଦାନ ଦେଇପାରିବେ ତାହା ଅନୁମାନ କରିବା

Correct Answer: 1) know the varying needs and abilities of the children

ଶିଶୁର ବିଭିନ୍ନ ଆବଶ୍ୟକତା ଓ ଦକ୍ଷତା ଜାଣିବା

Candidate Answer: 3) predict the level of success the said student can achieve

ଜଣେ ପିଲା କେତେ ସଫଳତା ହାସଲ କରିପାରିବ ତାହା ଅନୁମାନ କରିବା

QID : 611 - _____ develops both academic and social skills in learner in an integrated manner.

ନିମ୍ନସ୍ଥ କେଉଁଟି ସମନ୍ୱିତ ଭାବରେ ଶିକ୍ଷାର୍ଥୀ ଠାରେ ଉଭୟ ଶୈକ୍ଷିକ ଓ ସାମାଜିକ ଦକ୍ଷତାଗୁଡ଼ିକର ବିକାଶ କରିଥାଏ ?

Options:

1) Problem solving approach

ସମସ୍ୟା ସମାଧାନ ପଦ୍ଧତି

2) Collaborative learning approach

ସହଯୋଗୀ ଶିକ୍ଷା ପଦ୍ଧତି

3) Experiential learning

ଅଭିଜ୍ଞତା ଆଧାରିତ ଶିକ୍ଷା

4) Inquiry approach

ଅନୁସନ୍ଧାନ ପଦ୍ଧତି

Correct Answer: 2) Collaborative learning approach

ସହଯୋଗୀ ଶିକ୍ଷା ପଦ୍ଧତି

Candidate Answer: 1) Problem solving approach

ସମସ୍ୟା ସମାଧାନ ପଦ୍ଧତି

QID : 612 - Which one of the following is defined as 'graphical tools for organising and representing knowledge about certain concepts'?

ଏକ ନିର୍ଦ୍ଦିଷ୍ଟ ବିଷୟରେ ଜ୍ଞାନକୁ ସଂଗଠିତ କରିବା ଓ ପ୍ରଦର୍ଶିତ କରିବାର ଚୈତ୍ରିକ ଉପକରଣଗୁଡ଼ିକ' ନିମ୍ନସ୍ଥ ମଧ୍ୟରୁ କେଉଁଟିକୁ ଏପରି ଭାବରେ ବର୍ଣ୍ଣନା କରାଯାଏ ?

Options:

1) Concept map

ବିଷୟ ମ୍ୟାପ୍

2) Curriculum

ପାଠ୍ୟକ୍ରମ

3) Diagnostic assessment

ନୈଦାନିକ ମୂଲ୍ୟାୟନ

4) Prognostic assessment

ଭବିଷ୍ୟତ୍ପୂର୍ବକ ମୂଲ୍ୟାୟନ

Correct Answer: 1) Concept map

ବିଷୟ ମ୍ୟାପ୍

Candidate Answer: 1) Concept map

ବିଷୟ ମ୍ୟାପ୍

QID : 613 - Which one of the following is a tool for developing written communications in learners?

ନିମ୍ନସ୍ଥ ମଧ୍ୟରୁ କେଉଁଟି ଶିକ୍ଷାର୍ଥୀମାନଙ୍କ ମଧ୍ୟରେ ଲିଖିତ ଯୋଗାଯୋଗ କୌଶଳ ବିକଶିତ କରିବାର ଏକ ମାଧ୍ୟମ ଅଟେ ?

Options:

1) debate

ତର୍କ

2) discussion

ଆଲୋଚନା

3) poster making

ପୋଷ୍ଟର ନିର୍ମାଣ

4) school assembly programme

ବିଦ୍ୟାଳୟ ସଭା କାର୍ଯ୍ୟକ୍ରମ

Correct Answer: 3) poster making

ପୋଷ୍ଟର ନିର୍ମାଣ

Candidate Answer: 2) discussion

ଆଲୋଚନା

QID : 614 - What is the best approach that a teacher can adopt to include differently-abled students (with physical challenges) in the classroom learning process?

ବିଦ୍ୟାଳୟ ଶିକ୍ଷା ପ୍ରକ୍ରିୟାରେ ଭିନ୍ନକ୍ଷମ ଛାତ୍ର (ଶାରୀରିକ ଅସୁବିଧା ଥିବା)ଙ୍କୁ ମିଶାଇ ପଢ଼ାଇବା ପାଇଁ କେଉଁଟି ଶିକ୍ଷକଙ୍କ ପାଇଁ ସବୁଠାରୁ ଭଲ ପଦ୍ଧତି ?

Options:

- 1) use relevant assistive and adaptive devices
ଉପଯୁକ୍ତ ସହାୟକ ଓ ଅନୁକୂଳ ଯନ୍ତ୍ରଗୁଡ଼ିକର ବ୍ୟବହାର କରିବା
- 2) verbally motivate them to participate
ଅଂଶଗ୍ରହଣ କରିବା ପାଇଁ ସେମାନଙ୍କୁ କଥା କହି ଅଭିପ୍ରେରିତ କରିବା
- 3) show them visual content to enrich their learning
ସେମାନଙ୍କର ଶିକ୍ଷାକୁ ଉନ୍ନତ କରିବା ପାଇଁ ଚିତ୍ର ଦେଖାନ୍ତୁ
- 4) use a tablet computer to show concepts
ବିଷୟଗୁଡ଼ିକୁ ଜଣାଇବା ପାଇଁ ଟାବଲେଟ କମ୍ପ୍ୟୁଟର ବ୍ୟବହାର କରନ୍ତୁ

Correct Answer: 1) use relevant assistive and adaptive devices

ଉପଯୁକ୍ତ ସହାୟକ ଓ ଅନୁକୂଳ ଯନ୍ତ୍ରଗୁଡ଼ିକର ବ୍ୟବହାର କରିବା

Candidate Answer: 3) show them visual content to enrich their learning

ସେମାନଙ୍କର ଶିକ୍ଷାକୁ ଉନ୍ନତ କରିବା ପାଇଁ ଚିତ୍ର ଦେଖାନ୍ତୁ

QID : 615 - Which tool should a teacher use for inclusion of visually-impaired students in his class?

ନିଜ ଶ୍ରେଣୀରେ ଥିବା ଦୃଷ୍ଟିବାଧିତ ପିଲାମାନଙ୍କର ଅନ୍ତର୍ଭିବେଶ ପାଇଁ ଶିକ୍ଷକ କେଉଁ ଉପକରଣ ବ୍ୟବହାର କରିବା ଉଚିତ୍ ?

Options:

- 1) hearing aids
ଶ୍ରବଣ ଉପକରଣଗୁଡ଼ିକ
- 2) adapted science kits
ରୂପାନ୍ତରିତ ବିଜ୍ଞାନ କିଟ୍ସ
- 3) Braille equipments
ବ୍ରେଲ୍ ଉପକରଣଗୁଡ଼ିକ
- 4) multimedia kits
ମଲ୍ଟିମିଡ଼ିଆ କିଟ୍ସ

Correct Answer: 3) Braille equipments

ବ୍ରେଲ୍ ଉପକରଣଗୁଡ଼ିକ

Candidate Answer: 3) Braille equipments

ବ୍ରେଲ୍ ଉପକରଣଗୁଡ଼ିକ

QID : 616 - Peer tutoring is a strategy used to help students with _____ difficulty.

କେଉଁ ବାଧିତ ପିଲାମାନଙ୍କୁ ସାହାଯ୍ୟ କରିବା ପାଇଁ ଏକ ଉପାୟ ହେଉଛି ସାଙ୍ଗମାନଙ୍କ ଦ୍ୱାରା ଶିକ୍ଷାଗ୍ରହଣ ?

Options:

1) writing

ଲିଖନ

2) reading

ପଠନ

3) speaking

କଥନ

4) hearing

ଶ୍ରବଣ

Correct Answer: 2) reading

ପଠନ

Candidate Answer: 4) hearing

ଶ୍ରବଣ

QID : 617 - Which one of the following tools should a teacher use to help a student experiencing difficulty in hearing?

ଶ୍ରବଣ ବାଧିତ ଶିଷ୍ୟାର୍ଥୀମାନଙ୍କୁ ସାହାଯ୍ୟ କରିବା ପାଇଁ ଶିକ୍ଷକ ନିମ୍ନଲିଖିତ ମଧ୍ୟରୁ କେଉଁ ଉପକରଣଗୁଡ଼ିକ ବ୍ୟବହାର କରିବା ଉଚିତ୍ ?

Options:

1) pre- and post-reading drills

ପୂର୍ବ ଓ ପର ପଢ଼ିବା ଦକ୍ଷତାଗୁଡ଼ିକ

2) spelling and grammar check

ବନ୍ଦନ ଓ ବ୍ୟାକରଣ ଯାଞ୍ଚ

3) audio books

ଅଡ଼ିଓ ପୁସ୍ତକଗୁଡ଼ିକ

4) visual cues and maps

ଭିଜୁଆଲ କ୍ୟୁ ଓ ମାନଚିତ୍ରଗୁଡ଼ିକ

Correct Answer: 4) visual cues and maps

ଭିଜୁଆଲ କ୍ୟୁ ଓ ମାନଚିତ୍ରଗୁଡ଼ିକ

Candidate Answer: 4) visual cues and maps

ଭିଜୁଆଲ କ୍ୟୁ ଓ ମାନଚିତ୍ରଗୁଡ଼ିକ

QID : 618 - When learning is meaning making, who is the meaning maker?

ଯେତେବେଳେ ଶିକ୍ଷା ଅର୍ଥ ନିର୍ମାଣକାରୀ ହୁଏ, ସେତେବେଳେ ଅର୍ଥ ନିର୍ମାଣକର୍ତ୍ତା କିଏ ?

Options:

- 1) Teacher
ଶିକ୍ଷକ
- 2) School
ବିଦ୍ୟାଳୟ
- 3) Student
ଛାତ୍ର
- 4) Parent
ପିତାମାତା

Correct Answer: 3) Student

ଛାତ୍ର

Candidate Answer: 4) Parent

ପିତାମାତା

QID : 619 - Who gave the four-stage cyclical theory of experiential learning?

ଅଭିଜ୍ଞତାମୂଳକ ଶିକ୍ଷା ପାଇଁ ନିମ୍ନସ୍ଥ କିଏ ଚାରି ଯୋଗ୍ୟ ବିଶିଷ୍ଟ ସିଦ୍ଧାନ୍ତ ଦେଇଥିଲେ ?

Options:

- 1) Ivan Pavlov
ଇଭାନ ପାଭଲୋଭ
- 2) John Dewey
ଜନ୍ ଦୁଏଇ
- 3) David A. Kolb
ଡେଭିଡ୍ ଏ. କୋଲ୍
- 4) Kurt Levin
କର୍ଟ ଲେଭିନ୍

Correct Answer: 3) David A. Kolb

ଡେଭିଡ୍ ଏ. କୋଲ୍

Candidate Answer: 3) David A. Kolb

ଡେଭିଡ୍ ଏ. କୋଲ୍

QID : 620 - In the context of operant conditioning, a favourable event or outcome that is given to the individual after the desired behaviour is called:

କ୍ରିୟାପ୍ରସୂତ ଅନୁକୂଳନ କ୍ଷେତ୍ରରେ, ଆଶା କରାଯାଉଥିବା ବ୍ୟବହାର ପରେ ପିଲାକୁ ଦିଆଯାଉଥିବା ସହାୟକ କାର୍ଯ୍ୟ ବା ପରିଣାମକୁ କଣ କୁହାଯାଏ ?

Options:

- 1) Negative punishment
ବିମୁକ୍ତାତ୍ମକ ଦଣ୍ଡବିଧାନ
- 2) Positive reinforcer
ମୁକ୍ତାତ୍ମକ ଦୃଢ଼ୀକରଣ
- 3) Positive punishment
ମୁକ୍ତାତ୍ମକ ଦଣ୍ଡବିଧାନ
- 4) Negative reinforcer
ବିମୁକ୍ତାତ୍ମକ ଦୃଢ଼ୀକରଣ

Correct Answer: 2) Positive reinforcer
ମୁକ୍ତାତ୍ମକ ଦୃଢ଼ୀକରଣ

Candidate Answer: 2) Positive reinforcer
ମୁକ୍ତାତ୍ମକ ଦୃଢ଼ୀକରଣ

QID : 621 - Who gave the term 'domain-referenced test'?

ପ୍ରଭାବକ୍ଷେତ୍ର-ପ୍ରାସଙ୍ଗିକ ପରୀକ୍ଷା' ଶବ୍ଦଟିକୁ କିଏ ବ୍ୟବହାର କରିଥିଲେ ?

Options:

- 1) Hively and Millman
ହିଭଲେ ଓ ମିଲମ୍ୟାନ୍
- 2) N.E. Gronlund
ଏନ୍. ଇ. ଗ୍ରୋନଲଣ୍ଡ
- 3) Cronback
କ୍ରୋନବ୍ୟାକ୍
- 4) C.E. Beeby
ସି. ଇ. ବୀବି

Correct Answer: 1) Hively and Millman
ହିଭଲେ ଓ ମିଲମ୍ୟାନ୍

Candidate Answer: 1) Hively and Millman
ହିଭଲେ ଓ ମିଲମ୍ୟାନ୍

QID : 622 - Who said that 'the greatest service evaluation can perform is to identify aspects of the course where education is desirable'?

କିଏ କହିଥିଲେ ଯେ 'ଯେଉଁଠାରେ ଶିକ୍ଷା ଆଣାକରାଯାଏ, ସେଠାରେ ବୃହତ୍ତମ ସେବା ମୂଲ୍ୟାୟନ ଶିକ୍ଷାର ଦୃଷ୍ଟିକୋଣ ଜାଣିବା ପାଇଁ କରାଯାଇପାରିବ' ?

Options:

- 1) N.E. Gronlund
ଏନ୍. ଇ. ଗ୍ରୋନଲଣ୍ଡ
- 2) Hively and Millman
ହିଭଲେ ଓ ମିଲମ୍ୟାନ୍
- 3) Cronback
କ୍ରୋନବ୍ୟାକ୍
- 4) Glasar
ଗ୍ଲାସାର୍

Correct Answer: 3) Cronback
କ୍ରୋନବ୍ୟାକ୍

Candidate Answer: 4) Glasar
ଗ୍ଲାସାର୍

QID : 623 - Benjamin S. Bloom classified domains of human learning into _____ parts.

ବେଞ୍ଜାମିନ୍ ଏସ୍. ବ୍ଲୁମ୍ ମାନବିକ ଶିକ୍ଷାର ପରିସରକୁ କେତେ ଭାଗରେ ବିଭକ୍ତ କରିଥିଲେ ?

Options:

- 1) two
ଦୁଇ
- 2) three
ତିନି
- 3) four
ଚାରି
- 4) five
ପାଞ୍ଚ

Correct Answer: 2) three
ତିନି

Candidate Answer: 1) two
ଦୁଇ

QID : 624 - What is Phantom curriculum?

ଫାଣ୍ଟମ୍ ପାଠ୍ୟକ୍ରମ କଣ ଅଟେ ?

Options:

- 1) the curriculum that which is written as part of formal instruction of schooling experiences
ଯେଉଁ ପାଠ୍ୟକ୍ରମ ବିଦ୍ୟାଳୟ ଅଭିଜ୍ଞତାର ବୌଦ୍ଧିକ ସୂଚନାର ଅଂଶ ଭାବରେ ଲେଖାଯାଇଥାଏ
- 2) the curriculum that is implied by the very structure and nature of schools, much of what revolves around daily or established routines
ଯେଉଁ ପାଠ୍ୟକ୍ରମ ବିଦ୍ୟାଳୟର ସଂରଚନା ଓ ପ୍ରକୃତି ହିସାବରେ କାର୍ଯ୍ୟକାରୀ ହୋଇଥାଏ, ଯାହା ଦୈନନ୍ଦିନ ବା ଅବସ୍ଥାପିତ କାର୍ଯ୍ୟକ୍ରମଗୁଡ଼ିକ ହିସାବରେ ରହେ
- 3) that part of the curriculum which is not taught in schools
ପାଠ୍ୟକ୍ରମର ଯେଉଁ ଅଂଶ ବିଦ୍ୟାଳୟଗୁଡ଼ିକରେ ପଢାଯାଏ ନାହିଁ
- 4) the enculturation of students into the predominant meta-culture
ପିଲାମାନଙ୍କୁ ପ୍ରଧାନ ମେଟାକଲଚର୍ ପ୍ରତି ସଂସ୍କୃତକରଣ ପଦ୍ଧତି

Correct Answer: 4) the enculturation of students into the predominant meta-culture
ପିଲାମାନଙ୍କୁ ପ୍ରଧାନ ମେଟାକଲଚର୍ ପ୍ରତି ସଂସ୍କୃତକରଣ ପଦ୍ଧତି

Candidate Answer: 2) the curriculum that is implied by the very structure and nature of schools, much of what revolves around daily or established routines
ଯେଉଁ ପାଠ୍ୟକ୍ରମ ବିଦ୍ୟାଳୟର ସଂରଚନା ଓ ପ୍ରକୃତି ହିସାବରେ କାର୍ଯ୍ୟକାରୀ ହୋଇଥାଏ, ଯାହା ଦୈନନ୍ଦିନ ବା ଅବସ୍ଥାପିତ କାର୍ଯ୍ୟକ୍ରମଗୁଡ଼ିକ ହିସାବରେ ରହେ

QID : 625 - According to the Indian School Curriculum, what is the age for vocational apprenticeship curriculum?

ଭାରତୀୟ ବିଦ୍ୟାଳୟ ପାଠ୍ୟକ୍ରମ ହିସାବରେ, କେଉଁ ବୟସରେ ଧନ୍ଦାମୂଳକ ଶିକ୍ଷା ଦିଆଯିବ ?

Options:

- 1) 16+ to 18+
16+ ରୁ 18+
- 2) 12+ to 14+
12+ ରୁ 14+
- 3) 16+ to 20+
16+ ରୁ 20+
- 4) 15+ to 18+
15+ ରୁ 18+

Correct Answer: 4) 15+ to 18+
15+ ରୁ 18+

Candidate Answer: 3) 16+ to 20+
16+ ରୁ 20+

QID : 626 - In the determinants of a curriculum, the ideals stand for intellectual, moral, aesthetic and _____.

ପାଠ୍ୟକ୍ରମର ମାନ ନିର୍ଦ୍ଧାରଣ ପାଇଁ ଉପଯୁକ୍ତ ହେଉଛି ବୌଦ୍ଧିକ, ନୈତିକ, ସୌନ୍ଦର୍ଯ୍ୟବୋଧ ଓ _____ ।

Options:

- 1) religious
ଧାର୍ମିକ
- 2) basic needs
ସାଧାରଣ ଆବଶ୍ୟକତାଗୁଡ଼ିକ
- 3) goals
ଲକ୍ଷ୍ୟଗୁଡ଼ିକ
- 4) decision
ନିଷ୍ପତ୍ତି

Correct Answer: 1) religious
ଧାର୍ମିକ

Candidate Answer: 1) religious
ଧାର୍ମିକ

QID : 627 - Which among the following assessments 'compares a person's knowledge or skills against a predetermined standard, learning goal, performance level, or other clearly defined levels of achievement or proficiency'?

ନିମ୍ନସ୍ଥ କେଉଁ ପ୍ରକାରର ମୂଲ୍ୟାୟନରେ 'ଜଣେ ବ୍ୟକ୍ତିର ଜ୍ଞାନ ଓ ଦକ୍ଷତାକୁ ଏକ ପୂର୍ବନିର୍ଦ୍ଧାରିତ ମାନକ, ଶିକ୍ଷଣ ଲକ୍ଷ୍ୟ, ପ୍ରଦର୍ଶନ ସ୍ତର ବା ସ୍ପଷ୍ଟ ଭାବରେ ନିର୍ଦ୍ଦେଶିତ ଅନ୍ୟ ସଫଳତା ବା ପ୍ରକାଶତା ସହ ତୁଳନା କରେ' ?

Options:

- 1) Norm-referenced assessments
ମାନକ-ନିର୍ଦ୍ଦେଶିତ ମୂଲ୍ୟାୟନଗୁଡ଼ିକ
- 2) Standardized assessments
ମାନକୀକୃତ ମୂଲ୍ୟାୟନଗୁଡ଼ିକ
- 3) Criterion-referenced assessments
ମାନକ-ସମ୍ବନ୍ଧ ମୂଲ୍ୟାୟନଗୁଡ଼ିକ
- 4) Self-Reference
ସ୍ୱନିର୍ଦ୍ଦେଶିତ

Correct Answer: 3) Criterion-referenced assessments
ମାନକ-ସମ୍ବନ୍ଧ ମୂଲ୍ୟାୟନଗୁଡ଼ିକ

Candidate Answer: 1) Norm-referenced assessments
ମାନକ-ନିର୍ଦ୍ଦେଶିତ ମୂଲ୍ୟାୟନଗୁଡ଼ିକ

QID : 628 - Orientations to curriculum should be child-centered, society-centered, and_____.

ପାଠ୍ୟକ୍ରମଟି ଶିକ୍ଷାର୍ଥୀ କେନ୍ଦ୍ରୀକ, ସମାଜ କେନ୍ଦ୍ରୀକ ଓ _____ ହେବା ଉଚିତ୍ ?

Options:

- 1) knowledge-centered
ଜ୍ଞାନ କେନ୍ଦ୍ରୀକ
- 2) play -centered
ଖେଳ କେନ୍ଦ୍ରୀକ
- 3) home- centered
ଘର କେନ୍ଦ୍ରୀକ
- 4) peer- centered
ବନ୍ଧୁ କେନ୍ଦ୍ରୀକ

Correct Answer: 1) knowledge-centered
ଜ୍ଞାନ କେନ୍ଦ୍ରୀକ

Candidate Answer: 1) knowledge-centered
ଜ୍ଞାନ କେନ୍ଦ୍ରୀକ

QID : 629 - Which among the following is NOT a common philosophical orientation to curriculum?

ନିମ୍ନସ୍ଥ କେଉଁଟି ପାଠ୍ୟକ୍ରମର ଏକ ସାଧାରଣ ଦାର୍ଶନିକ ନିଦର୍ଶନ ନୁହେଁ ?

Options:

- 1) Idealism
ଆଦର୍ଶବାଦ
- 2) Realism
ବାସ୍ତବବାଦ
- 3) Perennialism
ଶାଶ୍ୱତବାଦ
- 4) Objectivism
ଉଦ୍ଦେଶ୍ୟବାଦ

Correct Answer: 4) Objectivism
ଉଦ୍ଦେଶ୍ୟବାଦ

Candidate Answer: 3) Perennialism
ଶାଶ୍ୱତବାଦ

QID : 630 - Which one of the following schools calls for the elimination of a standardized curriculum, and instead promotes using curricula customized to the students' prior knowledge?

ନିମ୍ନସ୍ଥ କେଉଁ ବିଦ୍ୟାଳୟ ଏକ ମାନକ ପାଠ୍ୟକ୍ରମକୁ ବାଦ ଦେଇଥାଏ, ଓ ଏହା ବଦଳରେ ପିଲାମାନଙ୍କ ପାଖରେ ଥିବା ଜ୍ଞାନ ହିସାବରେ ପାଠ୍ୟକ୍ରମ ବ୍ୟବହାର କରିବାକୁ ପ୍ରୋତ୍ସାହିତ କରିଥାଏ ?

Options:

- 1) Constructivism
ରଚନାତ୍ମାୟ
- 2) Cognitivism
ସଂଜ୍ଞାନବାଦ
- 3) Behaviourism
ଆଚରଣବାଦ
- 4) Gestalt
ଗେଷ୍ଟାଲ୍ଟ

Correct Answer: 1) Constructivism
ରଚନାତ୍ମାୟ

Candidate Answer: 3) Behaviourism
ଆଚରଣବାଦ

QID : 631 - ଶିଖିବାର କେଉଁ ବିଷୟବସ୍ତୁରେ "କାର୍ଯ୍ୟଗୁଡ଼ିକୁ ଚିହ୍ନିତ କରିବା ଏବଂ ସାଧାରଣ ମିନିଂ ଦ୍ୱାରା ଛୋଟ ମଲ୍ଟିମେଡିଆ ଟେକ୍ସଟ୍‌କୁ ବୁଝିବା" ସାମିଲ ଅଛି?

Options:

- 1) ଯୋଗଦେଇ
- 2) ଏକାଗ୍ର ହୋଇ
- 3) ଶୁଣିବା
- 4) ଧ୍ୟାନ ଦେଇ ଶୁଣିବା

Correct Answer: 4) ଧ୍ୟାନ ଦେଇ ଶୁଣିବା

Candidate Answer: 4) ଧ୍ୟାନ ଦେଇ ଶୁଣିବା

QID : 632 - _____ କୌଶଳ ଗୋଟିଏ ପିଲାକୁ ବିଷୟବସ୍ତୁକୁ ସମ୍ପୂର୍ଣ୍ଣ ରୂପେ ବୁଝିବା ଏବଂ ଗୋଟିଏ ନିଶ୍ଚିତରେ ପହଞ୍ଚିବାରେ ସାହାଯ୍ୟ କରିଥାଏ।

Options:

- 1) ଶୁଣିବା
- 2) ପଢ଼ିବା
- 3) ଲେଖିବା
- 4) ବୁଝିବା

Correct Answer: 2) ପଢ଼ିବା

Candidate Answer: 3) ଲେଖିବା

QID : 633 - ନିମ୍ନଲିଖିତ ବାକ୍ୟଗୁଡ଼ିକ ମଧ୍ୟରୁ କେଉଁଟି ଗୋଟିଏ ଅଭ୍ୟାସ ତିଆରି କରିବା (habit formation) ନୀତି ପାଇଁ ସଠିକ ଅଟେ?

Options:

- 1) "ପଢ଼ିବା ସମୟରେ ବୁଝିବା ନିଶ୍ଚିତ ରୂପେ ଗୋଟିଏ ଅଭ୍ୟାସ ତିଆରି କରିବା (habit formation) ପ୍ରକ୍ରିୟା ଅଟେ, ଏହା ହେଉଛି ଗୋଟିଏ ପ୍ରକ୍ରିୟା ଯେଉଁ ସମୟରେ ଆମେ ନୂଆ ଅଭ୍ୟାସ ଗୁଡ଼ିକୁ ପ୍ରାପ୍ତ କରିଥାଉ"
- 2) "ପଢ଼ାଇବା ନିଶ୍ଚିତ ରୂପେ ଗୋଟିଏ ଅଭ୍ୟାସ ତିଆରି କରିବା (habit formation) ପ୍ରକ୍ରିୟା ଅଟେ, ଏହା ହେଉଛି ଗୋଟିଏ ପ୍ରକ୍ରିୟା ଯେଉଁ ସମୟରେ ଆମେ ନୂଆ ଅଭ୍ୟାସ ଗୁଡ଼ିକୁ ପ୍ରାପ୍ତ କରିଥାଉ"
- 3) "ଶିଖିବା ନିଶ୍ଚିତ ରୂପେ ଗୋଟିଏ ଅଭ୍ୟାସ ତିଆରି କରିବା (habit formation) ପ୍ରକ୍ରିୟା ଅଟେ, ଏହା ହେଉଛି ଗୋଟିଏ ପ୍ରକ୍ରିୟା ଯେଉଁ ସମୟରେ ଆମେ ନୂଆ ଅଭ୍ୟାସ ଗୁଡ଼ିକୁ ପ୍ରାପ୍ତ କରିଥାଉ"
- 4) "ଭାଷା ନିଶ୍ଚିତ ରୂପେ ଗୋଟିଏ ଅଭ୍ୟାସ ତିଆରି କରିବା (habit formation) ପ୍ରକ୍ରିୟା ଅଟେ, ଏହା ହେଉଛି ଗୋଟିଏ ପ୍ରକ୍ରିୟା ଯେଉଁ ସମୟରେ ଆମେ ନୂଆ ଅଭ୍ୟାସ ଗୁଡ଼ିକୁ ପ୍ରାପ୍ତ କରିଥାଉ"

Correct Answer: 4) "ଭାଷା ନିଶ୍ଚିତ ରୂପେ ଗୋଟିଏ ଅଭ୍ୟାସ ତିଆରି କରିବା (habit formation) ପ୍ରକ୍ରିୟା ଅଟେ, ଏହା ହେଉଛି ଗୋଟିଏ ପ୍ରକ୍ରିୟା ଯେଉଁ ସମୟରେ ଆମେ ନୂଆ ଅଭ୍ୟାସ ଗୁଡ଼ିକୁ ପ୍ରାପ୍ତ କରିଥାଉ"

Candidate Answer: 1) "ପଢ଼ିବା ସମୟରେ ବୁଝିବା ନିଶ୍ଚିତ ରୂପେ ଗୋଟିଏ ଅଭ୍ୟାସ ତିଆରି କରିବା (habit formation) ପ୍ରକ୍ରିୟା ଅଟେ, ଏହା ହେଉଛି ଗୋଟିଏ ପ୍ରକ୍ରିୟା ଯେଉଁ ସମୟରେ ଆମେ ନୂଆ ଅଭ୍ୟାସ ଗୁଡ଼ିକୁ ପ୍ରାପ୍ତ କରିଥାଉ"

QID : 634 - ଭାଷା ଚୟନ କରିବା ସମୟରେ କାହିଁକି ସତର୍କତା ଆବଲମ୍ବନ କରିବା ଆବଶ୍ୟକ?

Options:

- 1) ଶିକ୍ଷା ପାଇଁ ଏହା ସୁବିଧାଜନକ ଏଡ଼ ଅଟେ।
- 2) ଶିକ୍ଷା ପାଇଁ ଏହା ସବୁଠାରୁ ପୁରୁଣା ଏଡ଼ ଅଟେ।
- 3) ଏହା ଶିକ୍ଷା ପ୍ରଦାନର ଏକ ଅଂଶ ନୁହେଁ।
- 4) ବିଦ୍ୟାର୍ଥୀମାନେ ଏହା ଉପରେ ଭରଣା କରନ୍ତି ନାହିଁ।

Correct Answer: 1) ଶିକ୍ଷା ପାଇଁ ଏହା ସୁବିଧାଜନକ ଏଡ଼ ଅଟେ।

Candidate Answer: 1) ଶିକ୍ଷା ପାଇଁ ଏହା ସୁବିଧାଜନକ ଏଡ଼ ଅଟେ।

QID : 635 - କେଉଁ ପ୍ରକାରର ଲେଖାରେ ରଚନା, ରିପୋର୍ଟ, ରିସର୍ଚ୍ଚ ଓ ରିଭ୍ୟୁ ସାମିଲ ଅଛି?

Options:

- 1) ଟ୍ରାଞ୍ଜିଟିଭ୍ ରାଇଟିଂ
- 2) ଏକ୍ସପୋଜିଟୋରୀ ରାଇଟିଂ
- 3) କ୍ରିଏଟିଭ୍ ରାଇଟିଂ
- 4) କମ୍ପୋଜିଟିଭ୍ ରାଇଟିଂ

Correct Answer: 2) ଏକ୍ସପୋଜିଟୋରୀ ରାଇଟିଂ

Candidate Answer: 3) କ୍ରିଏଟିଭ୍ ରାଇଟିଂ

QID : 636 - ନିମ୍ନସ୍ତ ମଧ୍ୟରୁ କେଉଁ ବିକଳ ଠିକ୍ ଅଟେ? _____ ଓ _____ ଜରୁରୀ କମ୍ପୋଜିଶନ୍ ଜିନିଷ ଅଟନ୍ତି।

Options:

- 1) କନ୍ଭର୍ସନ୍, ଏଲାଇନ୍ମେଣ୍ଟ
- 2) ଥିମ୍, ମୋନୋଗ୍ରାଫ୍
- 3) କନ୍ଷ୍ଟ୍ରାକ୍ଟ, ଇଣ୍ଟରପ୍ରିଟେଶନ୍
- 4) ଏକ୍ସପୋଜିଶନ୍, ପର୍ସ୍ପେକ୍ଟିଭ୍

Correct Answer: 4) ଏକ୍ସପୋଜିଶନ୍, ପର୍ସ୍ପେକ୍ଟିଭ୍

Candidate Answer: 4) ଏକ୍ସପୋଜିଶନ୍, ପର୍ସ୍ପେକ୍ଟିଭ୍

QID : 637 - ଏଣ୍ଟରପ୍ରିସ୍-ଇନ୍ଫ୍ରାସ୍ଟ୍ରକ୍ଚର୍ ଟେଷ୍ଟ୍, ନିମ୍ନଲିଖିତ ମଧ୍ୟରୁ କେଉଁ ଉଦ୍ଦେଶ୍ୟ ପାଇଁ ବ୍ୟବହାର କରାଯାଇଥାଏ?

Options:

- 1) ଛାତ୍ରମାନଙ୍କୁ ଫିଡ୍‌ବ୍ୟାକ୍ ଦେବା ପାଇଁ
- 2) ଅଧିକ ଚ୍ୟାଲେଞ୍ଜିଂ ଓ ଆଧୁନିକ କାର୍ଯ୍ୟ କରିବା ପାଇଁ ବିଦ୍ୟାର୍ଥୀମାନଙ୍କୁ ଉତ୍ସାହିତ କରିବା
- 3) ଗ୍ରେଡ୍ କରିବା ଉଦ୍ଦେଶ୍ୟରେ ବ୍ୟବହାର କରିବା
- 4) ଉପରୋକ୍ତ ସମସ୍ତ

Correct Answer: 4) ଉପରୋକ୍ତ ସମସ୍ତ

Candidate Answer: 1) ଛାତ୍ରମାନଙ୍କୁ ଫିଡ୍‌ବ୍ୟାକ୍ ଦେବା ପାଇଁ

QID : 638 - ଶ୍ରେଣୀ ଗୃହ ଆସେସ୍ମେଣ୍ଟ୍ ପାଇଁ ସାଧାରଣତଃ ଶିକ୍ଷକମାନେ ନିମ୍ନଲିଖିତ ମଧ୍ୟରୁ କେଉଁ ଏକ୍ସକେଶନାଲ୍ ଷ୍ଟ୍ରାଟେଜି ବ୍ୟବହାର କରନ୍ତି?

Options:

- 1) କଣ୍ଟ୍ରୋଲ୍ ଷ୍ଟ୍ରାଟେଜି
- 2) ପର୍ଫୋମାନ୍ସ ଷ୍ଟ୍ରାଟେଜି
- 3) ଏକାଡେମିକ୍ ଷ୍ଟ୍ରାଟେଜି
- 4) ଉଭୟ (କଣ୍ଟ୍ରୋଲ୍ ଷ୍ଟ୍ରାଟେଜି) ଓ (ପର୍ଫୋମାନ୍ସ ଷ୍ଟ୍ରାଟେଜି)

Correct Answer: 4) ଉଭୟ (କଣ୍ଟ୍ରୋଲ୍ ଷ୍ଟ୍ରାଟେଜି) ଓ (ପର୍ଫୋମାନ୍ସ ଷ୍ଟ୍ରାଟେଜି)

Candidate Answer: 3) ଏକାଡେମିକ୍ ଷ୍ଟ୍ରାଟେଜି

QID : 639 - ନିମ୍ନଲିଖିତ ମଧ୍ୟରୁ କେଉଁ ଷ୍ଟ୍ରାଟେଜି ବ୍ୟବହାର କରି ଆବଶ୍ୟକତା ଲେବଲ୍ ପ୍ରୋଫିସିଏନ୍ସକୁ ଚିହ୍ନଟ କରିବା ଯେଉଁଥିରେ ଏକ୍ସକେଚର୍, ମାଷ୍ଟର୍ ହୋଇଥିବା କଣ୍ଟ୍ରୋଲ୍ ଷ୍ଟ୍ରାଟେଜି ଆବଶ୍ୟକ କରେ?

Options:

- 1) ଏକାଡେମିକ୍ ସ୍ତୁତ୍ସ୍ୱର୍ତ୍ତ
- 2) କଣ୍ଠେଶୁ ସ୍ତୁତ୍ସ୍ୱର୍ତ୍ତ
- 3) ପର୍ଯ୍ୟାୟ ସ୍ତୁତ୍ସ୍ୱର୍ତ୍ତ
- 4) ଏକ୍ସକେଗନାଲ୍ ସ୍ତୁତ୍ସ୍ୱର୍ତ୍ତ

Correct Answer: 3) ପର୍ଯ୍ୟାୟ ସ୍ତୁତ୍ସ୍ୱର୍ତ୍ତ

Candidate Answer: 1) ଏକାଡେମିକ୍ ସ୍ତୁତ୍ସ୍ୱର୍ତ୍ତ

QID : 640 - କଣ୍ଠେଶୁ ସ୍ତୁତ୍ସ୍ୱର୍ତ୍ତ ବ୍ୟବହାର କରିବାର ଉଦ୍ଦେଶ୍ୟ କ'ଣ?

Options:

- 1) ଏହା ନଲେଜ୍ ବା କୌଶଳକୁ ବର୍ଣ୍ଣନା କରିବା ପାଇଁ ବ୍ୟବହାର କରାଯାଏ, ଯାହା ବିଦ୍ୟାର୍ଥୀମାନେ ଶିଖନ୍ତୁ ବୋଲି ଏକ୍ସକେଟର୍ମାନଙ୍କର ଇଚ୍ଛା ଥାଏ ।
- 2) ଏହାକୁ ବ୍ୟବହାର କରି ଆବଶ୍ୟକତା ଲେବଲ୍‌ର ପ୍ରୋଫିସିଏନ୍ସୀକୁ ଚିହ୍ନଟ କରିବା ଯେଉଁଥିରେ ଏକ୍ସକେଟର୍, ମାଷ୍ଟର୍ ହୋଇଥିବା କଣ୍ଠେଶୁ ସ୍ତୁତ୍ସ୍ୱର୍ତ୍ତ ଆବଶ୍ୟକ କରେ ।
- 3) ରେଫରେନ୍ସ କରାଯାଇ ନଥିବା କିମ୍ବା ଗୋଟିଏ କ୍ରାଇଟେରିଆ-ରେଫରେନ୍ସ କରାଯାଇଥିବା ଆସେସ୍ମେଣ୍ଟ ଆପ୍ରୋବ୍‌କୁ, ଏଥି ମଧ୍ୟରୁ କେଉଁଟିକୁ ଗ୍ରହଣ କରିବେ, ତାହା ନିର୍ଦ୍ଧାରଣ କରିବା ପାଇଁ ।
- 4) ଉଭୟ (ଏହା ନଲେଜ୍ ବା କୌଶଳକୁ ବର୍ଣ୍ଣନା କରିବା ପାଇଁ ବ୍ୟବହାର କରାଯାଏ, ଯାହା ବିଦ୍ୟାର୍ଥୀମାନେ ଶିଖନ୍ତୁ ବୋଲି ଏକ୍ସକେଟର୍ମାନଙ୍କର ଇଚ୍ଛା ଥାଏ ।) ଓ (ଏହାକୁ ବ୍ୟବହାର କରି ଆବଶ୍ୟକତା ଲେବଲ୍‌ର ପ୍ରୋଫିସିଏନ୍ସୀକୁ ଚିହ୍ନଟ କରିବା ଯେଉଁଥିରେ ଏକ୍ସକେଟର୍, ମାଷ୍ଟର୍ ହୋଇଥିବା କଣ୍ଠେଶୁ ସ୍ତୁତ୍ସ୍ୱର୍ତ୍ତ ଆବଶ୍ୟକ କରେ ।)

Correct Answer: 1) ଏହା ନଲେଜ୍ ବା କୌଶଳକୁ ବର୍ଣ୍ଣନା କରିବା ପାଇଁ ବ୍ୟବହାର କରାଯାଏ, ଯାହା ବିଦ୍ୟାର୍ଥୀମାନେ ଶିଖନ୍ତୁ ବୋଲି ଏକ୍ସକେଟର୍ମାନଙ୍କର ଇଚ୍ଛା ଥାଏ ।

Candidate Answer: 2) ଏହାକୁ ବ୍ୟବହାର କରି ଆବଶ୍ୟକତା ଲେବଲ୍‌ର ପ୍ରୋଫିସିଏନ୍ସୀକୁ ଚିହ୍ନଟ କରିବା ଯେଉଁଥିରେ ଏକ୍ସକେଟର୍, ମାଷ୍ଟର୍ ହୋଇଥିବା କଣ୍ଠେଶୁ ସ୍ତୁତ୍ସ୍ୱର୍ତ୍ତ ଆବଶ୍ୟକ କରେ ।

QID : 641 - ପ୍ରଦତ୍ତ ବାକ୍ୟରେ କେଉଁ ପ୍ରକାର ପଦ ପ୍ରକରଣ ପ୍ରଦର୍ଶିତ? ବାକ୍ୟଟି ହେଉଛି 'ଥେ ବୋମ୍ବେ ସିରିଏଡ୍' ।

Options:

- 1) ସରଳ ପଦ ପ୍ରକରଣ
- 2) ଯୌଗିକ ପଦ ପ୍ରକରଣ
- 3) ଜଟିଳ ପଦ ପ୍ରକରଣ
- 4) ଯୌଗିକ-ଜଟିଳ ପଦ ପ୍ରକରଣ

Correct Answer: 1) ସରଳ ପଦ ପ୍ରକରଣ

Candidate Answer: 3) ଜଟିଳ ପଦ ପ୍ରକରଣ

QID : 642 - ସେବାବର୍ତ୍ତ ଶବ୍ଦରେ କେଉଁ ମର୍ତ୍ତ୍ୟ ମୁକ୍ତ (ଫରେଇ) ଏବଂ କେଉଁଟି ଆବନ୍ଧ (ବୁନ୍ଧ)?

Options:

- 1) sea- ମୁକ୍ତ, ward-ଆବନ୍ଧ
- 2) sea-ଆବନ୍ଧ, ward-ମୁକ୍ତ
- 3) se-ମୁକ୍ତ, award-ଆବନ୍ଧ
- 4) se-ଆବନ୍ଧ, award-ମୁକ୍ତ

Correct Answer: 1) sea- ମୁକ୍ତ, ward-ଆବନ୍ଧ

Candidate Answer: 1) sea- ମୁକ୍ତ, ward-ଆବନ୍ଧ

QID : 643 - ସିଣ୍ଡାକ୍ଷରେ ଥିବା ଲେକ୍ଷିକନ୍ ନିମ୍ନଲିଖିତ ମଧ୍ୟରୁ କେଉଁ ଭୂମିକା ଗ୍ରହଣ କରିଥାଏ?

Options:

- 1) ଏହା ବାକ୍ୟରେ ଉପଯୁକ୍ତ କର୍ମୋନେଶ୍ଣଗୁଡ଼ିକୁ ଯୋଡ଼ିଥାଏ।
- 2) ଏହା ବାକ୍ୟରେ ଥିବା ଗ୍ରାମାଟିକାଲ୍ ଷ୍ଟ୍ରକ୍ଚରକୁ ନିର୍ଦ୍ଧାରଣ କରିଥାଏ।
- 3) ଗୋଟିଏ ଭାଷାର ଏହା ଏକ ଶବ୍ଦକୋଷ କିମ୍ବା ଭୋକାବୁଲାରୀ ଅଟେ।
- 4) ଉପରୋକ୍ତ ସମସ୍ତ।

Correct Answer: 4) ଉପରୋକ୍ତ ସମସ୍ତ।

Candidate Answer: 4) ଉପରୋକ୍ତ ସମସ୍ତ।

QID : 644 - ମୋ ଭଉଣୀ ଗୋଟିଏ ସୋମ୍ବାମ୍ବୁଲିଷ୍ଟ ଅଟେ, ତେଣୁ ମୋର ମା' ତା'ର ସୁରକ୍ଷା ପାଇଁ ତାକୁ ରାତିରେ ବେଡ୍‌ରୁମ୍ ରେ ଲକ୍ କରି ରଖନ୍ତି । ନିମ୍ନଲିଖିତ ମଧ୍ୟରୁ କେଉଁ ଶବ୍ଦ ପ୍ରଦତ୍ତ କଣ୍ଠୋତ୍ପନ୍ନ ବିଶ୍ଳେଷଣ ପାଇଁ ଗୋଟିଏ କୁ ଅଟେ?

Options:

- 1) ଭଉଣୀ
- 2) ସୋମ୍ବାମ୍ବୁଲିଷ୍ଟ
- 3) ଲକ୍
- 4) ବେଡ୍‌ରୁମ୍

Correct Answer: 2) ସୋମ୍ବାମ୍ବୁଲିଷ୍ଟ

Candidate Answer: 2) ସୋମ୍ବାମ୍ବୁଲିଷ୍ଟ

QID : 645 - ଫକୀର ମୋହନ ସେନାପତିଙ୍କ ପ୍ରମୁଖ ଲେଖା କାହା ପାଇଁ ସମର୍ପିତ :

Options:

- 1) ସାମାଜିକ - ସାଂସ୍କୃତିକ ସ୍ଥିତି
- 2) ପ୍ରକୃତି
- 3) ବର୍ଣ୍ଣନାତ୍ମକ
- 4) ପ୍ରଣୟ ବା ଭାବ

Correct Answer: 1) ସାମାଜିକ - ସାଂସ୍କୃତିକ ସ୍ଥିତି

Candidate Answer: 2) ପ୍ରକୃତି

QID : 646 - କିଏ ପ୍ରକୃତି କବି ଭାବେ ଖ୍ୟାତ?

Options:

- 1) ସୁରେନ୍ଦ୍ର ମହାନ୍ତି
- 2) ଫକୀର ମୋହନ ସେନାପତି
- 3) ଗଙ୍ଗାଧର ମେହେର
- 4) ଗୋପୀନାଥ ମହାନ୍ତି

Correct Answer: 3) ଗଙ୍ଗାଧର ମେହେର

Candidate Answer: 2) ଫକୀର ମୋହନ ସେନାପତି

QID : 647 - ନୀଳଶୈଳର ରଚୟିତା କିଏ?

Options:

- 1) ଫକୀର ମୋହନ ସେନାପତି
- 2) ରାଧାନାଥ ରାୟ
- 3) ସ୍ୱଭାବ କବି ଗଙ୍ଗାଧର ମେହେର
- 4) ସୁରେନ୍ଦ୍ର ମହାନ୍ତି

Correct Answer: 4) ସୁରେନ୍ଦ୍ର ମହାନ୍ତି

Candidate Answer: 4) ସୁରେନ୍ଦ୍ର ମହାନ୍ତି

QID : 648 - ପ୍ରଥମ ସାହିତ୍ୟ ଏକାଡେମୀ ପୁରସ୍କାର କିଏ ପାଇଥିଲେ, ଯାହା କୌଣସି ଭାଷା କିମ୍ବା ରଚନା ଶୈଳୀରେ ସୂଜନଶୀଳ ସାହିତ୍ୟ ରଚନା ପାଇଁ ଦିଆଯାଇଥିବା ସର୍ବ ପ୍ରଥମ ପୁରସ୍କାର ଥିଲା?

Options:

- 1) ଗଙ୍ଗାଧର ମେହେର
- 2) ରାଧାନାଥ ରାୟ
- 3) ଗୋପୀନାଥ ମହାନ୍ତି
- 4) ଫକୀର ମୋହନ ସେନାପତି

Correct Answer: 3) ଗୋପୀନାଥ ମହାନ୍ତି

Candidate Answer: 2) ରାଧାନାଥ ରାୟ

QID : 649 - ପ୍ରସିଦ୍ଧ କବିତା, *ଉତ୍କଳ ଭ୍ରମଣୀ* ରେ ଚିତ୍ରିତ ପ୍ରସଙ୍ଗ କଣ?

Options:

- 1) ଓଡ଼ିଶା ଜୀବନଶୈଳୀ ଉପରେ ବ୍ୟଙ୍ଗ
- 2) ଧାର୍ମିକ କାର୍ଯ୍ୟ ଚିତ୍ରଣ କରେ
- 3) ଓଡ଼ିଶାର ଜୀବନଶୈଳୀର ପ୍ରଶଂସା କରେ
- 4) ଜାତିଗତ ଭେଦଭାବ

Correct Answer: 1) ଓଡ଼ିଶା ଜୀବନଶୈଳୀ ଉପରେ ବ୍ୟଙ୍ଗ

Candidate Answer: 1) ଓଡ଼ିଶା ଜୀବନଶୈଳୀ ଉପରେ ବ୍ୟଙ୍ଗ

QID : 650 - ସୁରେନ୍ଦ୍ର ମହାନ୍ତିଙ୍କର କେଉଁ ଉପନ୍ୟାସ ବୁଦ୍ଧ ଧର୍ମ ଉପରେ ଆଧାରିତ?

Options:

- 1) କୃଷ୍ଣାବେଶୀରେ ସନ୍ଧ୍ୟା
- 2) ଆଜିବକର ଅଜହାସ୍ୟ
- 3) ନିଳାଦ୍ରି ବିଜୟ
- 4) ନୀଳଶୈଳ

Correct Answer: 2) ଆଜିବକର ଅଜହାସ୍ୟ

Candidate Answer: 4) ନୀଳଶୈଳ

QID : 651 - ନିମ୍ନଲିଖିତ ବ୍ୟାଖ୍ୟା ଉପରେ ପ୍ରଶ୍ନ ଆଧାରିତ ଅଟେ । ଉଚ୍ଚତାଂଶକୁ ଧାନର ସହିତ ପଢ଼ନ୍ତୁ । ଭଲ ପରିଧାନ କରିଥିବା ଜଣେ ଯୁବକ ଏକ ବଡ଼ କପଡ଼ା ଦୋକାନରେ ପ୍ରବେଶ କରିଲେ । ସେ ସେହି ବିକ୍ରୟକାରୀଙ୍କ ଧ୍ୟାନ ଆକର୍ଷଣ କରିବାରେ ସକ୍ଷମ ଥିଲେ ଯିଏ ତାଙ୍କୁ ଧନୀ ବୋଲି ଭାବୁଥିଲେ ଏବଂ ବହୁତ ଗୁଡ଼ାଏ ସାମଗ୍ରୀ କିଣିବା ସମ୍ଭାବନା ରଖୁଥିବା ଭାବୁଥିଲେ । ତାଙ୍କୁ ବିଭିନ୍ନ ପ୍ରକାରର ଭଲକିଭଲି ସୁଟ୍ ର ଲମ୍ବ ଏବଂ ବିଭିନ୍ନ ପ୍ରକାର ଶାଢ଼ୀ ଦେଖାଇବାରେ ଲାଗିଲେ । ମାତ୍ର ସେଗୁଡ଼ିକୁ ସାଧାରଣ ଭାବେ ଯାଞ୍ଚ କରିବା ପରେ, ସେ ଅନ୍ୟ ଏକ ବିଭାଗକୁ ଚାଲିଗଲେ, ଯେଉଁଠାରେ ପୂର୍ବରୁ ପ୍ରସ୍ତୁତ ସାମଗ୍ରୀ ବିକ୍ରି କରା ଯାଉଥିଲା ଏବଂ ପରେ ବୁଣାବସ୍ତୁ ବିଭାଗକୁ ଚାଲିଗଲେ । ସେମାନଙ୍କ ଦ୍ଵାରା, ବିକ୍ରେତା ତାଙ୍କର ଅଭିପ୍ରାୟ ଉପରେ ସନ୍ଦେହ କରିବା ଆରମ୍ଭ କରିଥିଲେ ଏବଂ ଏନେଇ ପ୍ରବନ୍ଧକଙ୍କ ଧ୍ୟାନ ଆକର୍ଷଣ କରିଥିଲେ । ପ୍ରବନ୍ଧକ ତାଙ୍କୁ ପଚାରିଥିଲେ କି ସେ ବାସ୍ତବରେ କଣ ଚାହାନ୍ତି, ଏବଂ ସେ ଉତ୍ତର ଦେଲେ କି ସେ ବିନମ୍ର ଧ୍ୟାନ ଚାହାନ୍ତି । ସେ କହିଲେ କି, ସେହିଦିନ ସକାଳେ ସେ ଏକ ଆରାମଦାୟକ ପୋଷାକରେ ସେଠାକୁ ଆସିଥିଲେ ଏବଂ ସାମାନ୍ୟ ଧ୍ୟାନ ଆକର୍ଷଣ କରିଥିଲେ । ତାଙ୍କ ଗାରିମା କ୍ଷୁଣ୍ଣ ହୋଇଥିଲା ଏବଂ ସେ ନିଜକୁ ଦୃଢ଼ କରିବାକୁ ଚାହୁଁଥିଲେ । ସେ କେବଳ ଭଲ ବ୍ୟବହାର ପାଇଁ ଭଲ ପୋଷାକ ପରିଧାନ କରି ଆସିଥିଲେ, କୌଣସି ବସ୍ତୁ କିଣିବାକୁ ଆସିନଥିଲେ । କୌଣସି ଜିନିଷ ନ କିଣି ସେ ଦୋକାନରୁ ବାହାରି ଗଲେ ।

କହିଲେ ଯୁବକ ଜଣକ ଭଲ କପଡ଼ା ପରିଧାନ କରିଥିଲେ ?

Options:

- 1) ଭଲ କପଡ଼ା ପରିଧାନ କରିବା ତାଙ୍କର ଅଭ୍ୟାସ ଥିଲା ।
- 2) ତାଙ୍କର ଜନ୍ମଦିନ ଥିଲା ।
- 3) ସେ ଏକ ସାକ୍ଷାତକାରକୁ ଯାଉଥିଲେ ।
- 4) ବିକ୍ରେତାଙ୍କୁ ସେ ପ୍ରଭାବିତ କରିବାକୁ ଚାହୁଁଥିଲେ ।

Correct Answer: 4) ବିକ୍ରେତାଙ୍କୁ ସେ ପ୍ରଭାବିତ କରିବାକୁ ଚାହୁଁଥିଲେ ।

Candidate Answer: 4) ବିକ୍ରେତାଙ୍କୁ ସେ ପ୍ରଭାବିତ କରିବାକୁ ଚାହୁଁଥିଲେ ।

QID : 652 - ନିମ୍ନଲିଖିତ ବ୍ୟାଖ୍ୟା ଉପରେ ପ୍ରଶ୍ନ ଆଧାରିତ ଅଟେ । ଉଚ୍ଚତାଂଶକୁ ଧ୍ୟାନ ସହିତ ପଢ଼ନ୍ତୁ । ଭଲ ପରିଧାନ କରିଥିବା ଜଣେ ଯୁବକ ଏକ ବଡ଼ କପଡ଼ା ଦୋକାନରେ ପ୍ରବେଶ କରିଲେ । ସେ ସେହି ବିକ୍ରୟକାରୀଙ୍କ ଧ୍ୟାନ ଆକର୍ଷଣ କରିବାରେ ସକ୍ଷମ ଥିଲେ ଯିଏ ତାଙ୍କୁ ଧନୀ ବୋଲି ଭାବୁଥିଲେ ଏବଂ ବହୁତ ଗୁଡ଼ାଏ ସାମଗ୍ରୀ କିଣିବା ସମ୍ଭାବନା ରଖୁଥିବା ଭାବୁଥିଲେ । ତାଙ୍କୁ ବିଭିନ୍ନ ପ୍ରକାରର ଭଲକିଭଲି ସୁଟ୍ ର ଲମ୍ବ ଏବଂ ବିଭିନ୍ନ ପ୍ରକାର ଶାଢ଼ୀ ଦେଖାଇବାରେ ଲାଗିଲେ । ମାତ୍ର ସେଗୁଡ଼ିକୁ ସାଧାରଣ ଭାବେ ଯାଞ୍ଚ କରିବା ପରେ, ସେ ଅନ୍ୟ ଏକ ବିଭାଗକୁ ଚାଲିଗଲେ, ଯେଉଁଠାରେ ପୂର୍ବରୁ ପ୍ରସ୍ତୁତ ସାମଗ୍ରୀ ବିକ୍ରି କରା ଯାଉଥିଲା ଏବଂ ପରେ ବୁଣାବସ୍ତୁ ବିଭାଗକୁ ଚାଲିଗଲେ । ସେମାନଙ୍କ ଦ୍ଵାରା, ବିକ୍ରେତା ତାଙ୍କର ଅଭିପ୍ରାୟ ଉପରେ ସନ୍ଦେହ କରିବା ଆରମ୍ଭ କରିଥିଲେ ଏବଂ ଏନେଇ ପ୍ରବନ୍ଧକଙ୍କ ଧ୍ୟାନ ଆକର୍ଷଣ କରିଥିଲେ । ପ୍ରବନ୍ଧକ ତାଙ୍କୁ ପଚାରିଥିଲେ କି ସେ ବାସ୍ତବରେ କଣ ଚାହାନ୍ତି, ଏବଂ ସେ ଉତ୍ତର ଦେଲେ କି ସେ ବିନମ୍ର ଧ୍ୟାନ ଚାହାନ୍ତି । ସେ କହିଲେ କି, ସେହିଦିନ ସକାଳେ ସେ ଏକ ଆରାମଦାୟକ ପୋଷାକରେ ସେଠାକୁ ଆସିଥିଲେ ଏବଂ ସାମାନ୍ୟ ଧ୍ୟାନ ଆକର୍ଷଣ କରିଥିଲେ । ତାଙ୍କ ଗାରିମା କ୍ଷୁଣ୍ଣ ହୋଇଥିଲା ଏବଂ ସେ ନିଜକୁ ଦୃଢ଼ କରିବାକୁ ଚାହୁଁଥିଲେ । ସେ କେବଳ ଭଲ ବ୍ୟବହାର ପାଇଁ ଭଲ ପୋଷାକ ପରିଧାନ କରି ଆସିଥିଲେ, କୌଣସି ବସ୍ତୁ କିଣିବାକୁ ଆସିନଥିଲେ । କୌଣସି ଜିନିଷ ନ କିଣି ସେ ଦୋକାନରୁ ବାହାରି ଗଲେ ।

ଦିଆ ଯାଇଥିବା ଉଚ୍ଚତାଂଶରେ, ଦୋକାନରେ ବିକ୍ରେତାଙ୍କଠାରୁ ଧ୍ୟାନ ପାଉଥିବା ଲୋକଙ୍କର ବିବରଣୀ କଣ ଅଟେ ?

Options:

- 1) ସୁନ୍ଦର ତରୁଣୀ
- 2) ଧନୀ ଗ୍ରାହକ
- 3) ଯୁବ ଗ୍ରାହକ
- 4) ପୁରୁଣା ଗ୍ରାହକ

Correct Answer: 2) ଧନୀ ଗ୍ରାହକ

Candidate Answer: 2) ଧନୀ ଗ୍ରାହକ

QID : 653 - ନିମ୍ନଲିଖିତ ବ୍ୟାଖ୍ୟା ଉପରେ ପ୍ରଶ୍ନ ଆଧାରିତ ଅଟେ । ଉଚ୍ଚତାଂଶକୁ ଧ୍ୟାନର ସହିତ ପଢନ୍ତୁ । ଭଲ ପରିଧାନ କରିଥିବା ଜଣେ ଯୁବକ ଏକ ବଡ଼ କପଡ଼ା ଦୋକାନରେ ପ୍ରବେଶ କରିଲେ । ସେ ସେହି ବିକ୍ରୟକାରୀଙ୍କ ଧ୍ୟାନ ଆକର୍ଷଣ କରିବାରେ ସକ୍ଷମ ଥିଲେ ଯିଏ ତାଙ୍କୁ ଧନୀ ବୋଲି ଭାବୁଥିଲେ ଏବଂ ବହୁତ ଗୁଡ଼ାଏ ସାମଗ୍ରୀ କିଣିବା ସମ୍ଭାବନା ରଖୁଥିବା ଭାବୁଥିଲେ । ତାଙ୍କୁ ବିଭିନ୍ନ ପ୍ରକାରର ଭଲକିଭଲି ସୁଟ୍ ର ଲମ୍ବ ଏବଂ ବିଭିନ୍ନ ପ୍ରକାର ଶାଢ଼ୀ ଦେଖାଇବାରେ ଲାଗିଲେ । ମାତ୍ର ସେଗୁଡ଼ିକୁ ସାଧାରଣ ଭାବେ ଯାଞ୍ଚ କରିବା ପରେ, ସେ ଅନ୍ୟ ଏକ ବିଭାଗକୁ ଚାଲିଗଲେ, ଯେଉଁଠାରେ ପୂର୍ବରୁ ପ୍ରସ୍ତୁତ ସାମଗ୍ରୀ ବିକ୍ରି କରା ଯାଉଥିଲା ଏବଂ ପରେ ବୁଣାବସ୍ତୁ ବିଭାଗକୁ ଚାଲିଗଲେ । ସେମାନଙ୍କ ଦ୍ଵାରା, ବିକ୍ରେତା ତାଙ୍କର ଅଭିପ୍ରାୟ ଉପରେ ସନ୍ଦେହ କରିବା ଆରମ୍ଭ କରିଥିଲେ ଏବଂ ଏନେଇ ପ୍ରବନ୍ଧକଙ୍କ ଧ୍ୟାନ ଆକର୍ଷଣ କରିଥିଲେ । ପ୍ରବନ୍ଧକ ତାଙ୍କୁ ପଚାରିଥିଲେ କି ସେ ବାସ୍ତବରେ କଣ ଚାହାନ୍ତି, ଏବଂ ସେ ଉତ୍ତର ଦେଲେ କି ସେ ବିନମ୍ର ଧ୍ୟାନ ଚାହାନ୍ତି । ସେ କହିଲେ କି, ସେହିଦିନ ସକାଳେ ସେ ଏକ ଆରାମଦାୟକ ପୋଷାକରେ ସେଠାକୁ ଆସିଥିଲେ ଏବଂ ସାମାନ୍ୟ ଧ୍ୟାନ ଆକର୍ଷଣ କରିଥିଲେ । ତାଙ୍କ ଗାରିମା କ୍ଷୁଣ୍ଣ ହୋଇଥିଲା ଏବଂ ସେ ନିଜକୁ ଦୃଢ଼ କରିବାକୁ ଚାହୁଁଥିଲେ । ସେ କେବଳ ଭଲ ବ୍ୟବହାର ପାଇଁ ଭଲ ପୋଷାକ ପରିଧାନ କରି ଆସିଥିଲେ, କୌଣସି ବସ୍ତୁ କିଣିବାକୁ ଆସିନଥିଲେ । କୌଣସି ଜିନିଷ ନ କିଣି ସେ ଦୋକାନରୁ ବାହାରି ଗଲେ ।

କାହିଁକି ଲୋକ ଜଣକ ଅନବରତ ଭାବେ ଆଗାମୀ ବିଭାଗ ଗୁଡ଼ିକୁ ଚାଲି ଯାଉଥିଲେ

Options:

- 1) କାରଣ ସେ ଭଲ କପଡ଼ା ଚାହୁଁଥିଲେ ।
- 2) କାରଣ ସେ ପୂର୍ବରୁ ପ୍ରସ୍ତୁତ କପଡ଼ା ପସନ୍ଦ କରି ନଥିଲେ ।
- 3) କାରଣ କୌଣସି ଜିନିଷ କିଣିବା ପାଇଁ ସେହି ବ୍ୟକ୍ତି ଇଚ୍ଛୁକ ନଥିଲେ ।
- 4) କାରଣ ବ୍ୟକ୍ତି ଜଣକ ଅସ୍ଥିର ଥିଲେ ।

Correct Answer: 3) କାରଣ କୌଣସି ଜିନିଷ କିଣିବା ପାଇଁ ସେହି ବ୍ୟକ୍ତି ଇଚ୍ଛୁକ ନଥିଲେ ।

Candidate Answer: 1) କାରଣ ସେ ଭଲ କପଡ଼ା ଚାହୁଁଥିଲେ ।

QID : 654 - ନିମ୍ନଲିଖିତ ବ୍ୟାଖ୍ୟା ଉପରେ ପ୍ରଶ୍ନ ଆଧାରିତ ଅଟେ । ଉଚ୍ଚତାଂଶକୁ ଧ୍ୟାନର ସହିତ ପଢନ୍ତୁ । ଭଲ ପରିଧାନ କରିଥିବା ଜଣେ ଯୁବକ ଏକ ବଡ଼ କପଡ଼ା ଦୋକାନରେ ପ୍ରବେଶ କରିଲେ । ସେ ସେହି ବିକ୍ରୟକାରୀଙ୍କ ଧ୍ୟାନ ଆକର୍ଷଣ କରିବାରେ ସକ୍ଷମ ଥିଲେ ଯିଏ ତାଙ୍କୁ ଧନୀ ବୋଲି ଭାବୁଥିଲେ ଏବଂ ବହୁତ ଗୁଡ଼ାଏ ସାମଗ୍ରୀ କିଣିବା ସମ୍ଭାବନା ରଖୁଥିବା ଭାବୁଥିଲେ । ତାଙ୍କୁ ବିଭିନ୍ନ ପ୍ରକାରର ଭଲକିଭଲି ସୁଟ୍ ର ଲମ୍ବ ଏବଂ ବିଭିନ୍ନ ପ୍ରକାର ଶାଢ଼ୀ ଦେଖାଇବାରେ ଲାଗିଲେ । ମାତ୍ର ସେଗୁଡ଼ିକୁ ସାଧାରଣ ଭାବେ ଯାଞ୍ଚ କରିବା ପରେ, ସେ ଅନ୍ୟ ଏକ ବିଭାଗକୁ ଚାଲିଗଲେ, ଯେଉଁଠାରେ ପୂର୍ବରୁ ପ୍ରସ୍ତୁତ ସାମଗ୍ରୀ ବିକ୍ରି କରା ଯାଉଥିଲା ଏବଂ ପରେ ବୁଣାବସ୍ତୁ ବିଭାଗକୁ ଚାଲିଗଲେ । ସେମାନଙ୍କ ଦ୍ଵାରା, ବିକ୍ରେତା ତାଙ୍କର ଅଭିପ୍ରାୟ ଉପରେ ସନ୍ଦେହ କରିବା ଆରମ୍ଭ କରିଥିଲେ ଏବଂ ଏନେଇ ପ୍ରବନ୍ଧକଙ୍କ ଧ୍ୟାନ ଆକର୍ଷଣ କରିଥିଲେ । ପ୍ରବନ୍ଧକ ତାଙ୍କୁ ପଚାରିଥିଲେ କି ସେ ବାସ୍ତବରେ କଣ ଚାହାନ୍ତି, ଏବଂ ସେ ଉତ୍ତର ଦେଲେ କି ସେ ବିନମ୍ର ଧ୍ୟାନ ଚାହାନ୍ତି । ସେ କହିଲେ କି, ସେହିଦିନ ସକାଳେ ସେ ଏକ ଆରାମଦାୟକ ପୋଷାକରେ ସେଠାକୁ ଆସିଥିଲେ ଏବଂ ସାମାନ୍ୟ ଧ୍ୟାନ ଆକର୍ଷଣ କରିଥିଲେ । ତାଙ୍କ ଗାରିମା କ୍ଷୁଣ୍ଣ ହୋଇଥିଲା ଏବଂ ସେ ନିଜକୁ ଦୃଢ଼ କରିବାକୁ ଚାହୁଁଥିଲେ । ସେ କେବଳ ଭଲ ବ୍ୟବହାର ପାଇଁ ଭଲ ପୋଷାକ ପରିଧାନ କରି ଆସିଥିଲେ, କୌଣସି ବସ୍ତୁ କିଣିବାକୁ ଆସିନଥିଲେ । କୌଣସି ଜିନିଷ ନ କିଣି ସେ ଦୋକାନରୁ ବାହାରି ଗଲେ ।

କାହିଁକି ଯୁବକ ଜଣକ କିଛି ନ କିଣି ଦୋକାନରୁ ପଳାଇଲେ?

Options:

- 1) କାରଣ ସେ ନିଜ ପସନ୍ଦର କୌଣସି ଜିନିଷ ପାଇଲେ ନାହିଁ ।
- 2) କାରଣ ତାଙ୍କ ପର୍ଯ୍ୟ ହଜି ଯାଇଥିଲା ।
- 3) କାରଣ ସେ ପରେ କିଣିବା ପାଇଁ ନିଷ୍ପତ୍ତି ନେଇଥିଲେ ।
- 4) କାରଣ ସାଧାରଣ କପଡ଼ା ପରିଧାନ କରିଥିବା ବ୍ୟକ୍ତିଙ୍କ ପାଇଁ ବିକ୍ରେତାଙ୍କର ଅଲଗା ବ୍ୟବହାରକୁ ଦର୍ଶାଇବା ପାଇଁ ସେ ସେଠାକୁ ଆସିଥିଲେ ।

Correct Answer: 4) କାରଣ ସାଧାରଣ କପଡ଼ା ପରିଧାନ କରିଥିବା ବ୍ୟକ୍ତିଙ୍କ ପାଇଁ ବିକ୍ରେତାଙ୍କର ଅଲଗା ବ୍ୟବହାରକୁ ଦର୍ଶାଇବା ପାଇଁ ସେ ସେଠାକୁ ଆସିଥିଲେ ।

Candidate Answer: 4) କାରଣ ସାଧାରଣ କପଡ଼ା ପରିଧାନ କରିଥିବା ବ୍ୟକ୍ତିଙ୍କ ପାଇଁ ବିକ୍ରେତାଙ୍କର ଅଲଗା ବ୍ୟବହାରକୁ ଦର୍ଶାଇବା ପାଇଁ ସେ ସେଠାକୁ ଆସିଥିଲେ ।

QID : 655 - ନିମ୍ନଲିଖିତ ବ୍ୟାଖ୍ୟା ଉପରେ ପ୍ରଶ୍ନ ଆଧାରିତ ଅଟେ । ଉତ୍ତୁତାଂଶକୁ ଧ୍ୟାନର ସହିତ ପଢନ୍ତୁ । ଭଲ ପରିଧାନ କରିଥିବା ଜଣେ ଯୁବକ ଏକ ବଡ଼ କପଡ଼ା ଦୋକାନରେ ପ୍ରବେଶ କରିଲେ । ସେ ସେହି ବିକ୍ରୟକାରୀଙ୍କ ଧ୍ୟାନ ଆକର୍ଷଣ କରିବାରେ ସକ୍ଷମ ଥିଲେ ଯିଏ ତାଙ୍କୁ ଧନୀ ବୋଲି ଭାବୁଥିଲେ ଏବଂ ବହୁତ ଗୁଡ଼ାଏ ସାମଗ୍ରୀ କିଣିବା ସମ୍ଭାବନା ରଖୁଥିବା ଭାବୁଥିଲେ । ତାଙ୍କୁ ବିଭିନ୍ନ ପ୍ରକାରର ଭଲକିଭଲି ସୁତ୍ ର ଲମ୍ବ ଏବଂ ବିଭିନ୍ନ ପ୍ରକାର ଶାଢ଼ୀ ଦେଖାଇବାରେ ଲାଗିଲେ । ମାତ୍ର ସେଗୁଡ଼ିକୁ ସାଧାରଣ ଭାବେ ଯାଂଚ କରିବା ପରେ, ସେ ଅନ୍ୟ ଏକ ବିଭାଗକୁ ଚାଲିଗଲେ, ଯେଉଁଠାରେ ପୂର୍ବରୁ ପ୍ରସ୍ତୁତ ସାମଗ୍ରୀ ବିକ୍ରି କରା ଯାଉଥିଲା ଏବଂ ପରେ ବୁଣାବସ୍ତୁ ବିଭାଗକୁ ଚାଲିଗଲେ । ସେମାନଙ୍କ ଦ୍ଵାରା, ବିକ୍ରେତା ତାଙ୍କର ଅଭିପ୍ରାୟ ଉପରେ ସନ୍ଦେହ କରିବା ଆରମ୍ଭ କରିଥିଲେ ଏବଂ ଏନେଇ ପ୍ରବନ୍ଧକଙ୍କ ଧ୍ୟାନ ଆକର୍ଷଣ କରିଥିଲେ । ପ୍ରବନ୍ଧକ ତାଙ୍କୁ ପଚାରିଥିଲେ କି ସେ ବାସ୍ତବରେ କଣ ଚାହାନ୍ତି, ଏବଂ ସେ ଉତ୍ତର ଦେଲେ କି ସେ ବିନମ୍ର ଧ୍ୟାନ ଚାହାନ୍ତି । ସେ କହିଲେ କି, ସେହିଦିନ ସକାଳେ ସେ ଏକ ଆରାମଦାୟକ ପୋଷାକରେ ସେଠାକୁ ଆସିଥିଲେ ଏବଂ ସାମାନ୍ୟ ଧ୍ୟାନ ଆକର୍ଷଣ କରିଥିଲେ । ତାଙ୍କ ଗାରିମା କ୍ଷୁଣ୍ଣ ହୋଇଥିଲା ଏବଂ ସେ ନିଜକୁ ଦୃଢ଼ କରିବାକୁ ଚାହୁଁଥିଲେ । ସେ କେବଳ ଭଲ ବ୍ୟବହାର ପାଇଁ ଭଲ ପୋଷାକ ପରିଧାନ କରି ଆସିଥିଲେ, କୌଣସି ବସ୍ତୁ କିଣିବାକୁ ଆସିନଥିଲେ । କୌଣସି ଜିନିଷ ନ କିଣି ସେ ଦୋକାନରୁ ବାହାରି ଗଲେ ।

ଦିଆ ଯାଇଥିବା ଉତ୍ତୁତାଂଶରୁ ଗୋଟିଏ ଶବ୍ଦ ଖୋଜନ୍ତୁ, ଯାହା “ରୁକ୍ଷ” ଶବ୍ଦର ବିପରୀତାର୍ଥବୋଧକ ଶବ୍ଦ ଅଟେ ।

Options:

- 1) ଭୟଭୀତ
- 2) ଗର୍ବ
- 3) ଦୁଃଖୀତ
- 4) ବିନମ୍ର

Correct Answer: 4) ବିନମ୍ର

Candidate Answer: 4) ବିନମ୍ର

QID : 656 - ପ୍ରଶ୍ନ ନିମ୍ନରେ ପ୍ରଦତ୍ତ କବିତା ଆଧାରିତ । କବିତାଟିକୁ ପଢନ୍ତୁ ଏବଂ ନିମ୍ନଲିଖିତ ପ୍ରଶ୍ନଗୁଡ଼ିକର ଉତ୍ତର ଦିଅନ୍ତୁ ।

ନଦୀ ପରି ଶାନ୍ତି ପାଇଛି
ମୋ ଆତ୍ମାରେ
ମୁଁ ମୋ ଆତ୍ମାରେ ଏକ ନଦୀ ପାଇଛି
ଗୋଟେ ଝରଣା ପରି ଖୁସି ପାଇଛି
ମୋ ଆତ୍ମାରେ
ମୁଁ ମୋ ଆତ୍ମାରେ ଗୋଟେ ଝରଣା ପାଇଛି
ମହାସାଗର ପରି ଭଲ ପାଇବା ପାଇଛି
ମୋ ଆତ୍ମାରେ
ମୁଁ ମୋ ଆତ୍ମାରେ ଗୋଟେ ମହାସାଗର ପାଇଛି

ଶାନ୍ତି “ଏକ ନଦୀ ପରି” ବୋଲି କବି କାହିଁକି କହିଛନ୍ତି?

Options:

- 1) ନଦୀଗୁଡ଼ିକ ଜଳ
- 2) ନଦୀଗୁଡ଼ିକ ନୀଳ ଏବଂ ବିଶାଳ
- 3) ନଦୀଗୁଡ଼ିକ ଗୋଟିଏ ଦିଗରେ ଗତି କରେ
- 4) ନଦୀଗୁଡ଼ିକ ବ୍ୟସ୍ତ

Correct Answer: 3) ନଦୀଗୁଡ଼ିକ ଗୋଟିଏ ଦିଗରେ ଗତି କରେ

Candidate Answer: 3) ନଦୀଗୁଡ଼ିକ ଗୋଟିଏ ଦିଗରେ ଗତି କରେ

QID : 657 - ପ୍ରଶ୍ନ ନିମ୍ନରେ ପ୍ରଦତ୍ତ କବିତା ଆଧାରିତ । କବିତାଟିକୁ ପଢ଼ନ୍ତୁ ଏବଂ ନିମ୍ନଲିଖିତ ପ୍ରଶ୍ନଗୁଡ଼ିକର ଉତ୍ତର ଦିଅନ୍ତୁ ।

ନଦୀ ପରି ଶାନ୍ତି ପାଇଛି
ମୋ ଆତ୍ମାରେ
ମୁଁ ମୋ ଆତ୍ମାରେ ଏକ ନଦୀ ପାଇଛି
ଗୋଟେ ଝରଣା ପରି ଖୁସି ପାଇଛି
ମୋ ଆତ୍ମାରେ
ମୁଁ ମୋ ଆତ୍ମାରେ ଗୋଟେ ଝରଣା ପାଇଛି
ମହାସାଗର ପରି ଭଲ ପାଇବା ପାଇଛି
ମୋ ଆତ୍ମାରେ
ମୁଁ ମୋ ଆତ୍ମାରେ ଗୋଟେ ମହାସାଗର ପାଇଛି

କବି କାହିଁକି କହିଛନ୍ତି ଖୁସି “ଏକ ଝରଣା ପରି”?

Options:

- 1) ଖୁସି ପାଣି ଫୋଟକା ପରି ତାହା ଦେଖାଇବା ପରି
- 2) କାରଣ ଖୁସି ପାଣି ପରି
- 3) ଏହା ଜିନିଷକୁ ସଫା କରେ
- 4) ଏହା ଚମତ୍କୁଆଏ

Correct Answer: 1) ଖୁସି ପାଣି ଫୋଟକା ପରି ତାହା ଦେଖାଇବା ପରି

Candidate Answer: 3) ଏହା ଜିନିଷକୁ ସଫା କରେ

QID : 658 - ପ୍ରଶ୍ନ ନିମ୍ନରେ ପ୍ରଦତ୍ତ କବିତା ଆଧାରିତ । କବିତାଟିକୁ ପଢ଼ନ୍ତୁ ଏବଂ ନିମ୍ନଲିଖିତ ପ୍ରଶ୍ନଗୁଡ଼ିକର ଉତ୍ତର ଦିଅନ୍ତୁ ।

ନଦୀ ପରି ଶାନ୍ତି ପାଇଛି
ମୋ ଆତ୍ମାରେ
ମୁଁ ମୋ ଆତ୍ମାରେ ଏକ ନଦୀ ପାଇଛି
ଗୋଟେ ଝରଣା ପରି ଖୁସି ପାଇଛି
ମୋ ଆତ୍ମାରେ
ମୁଁ ମୋ ଆତ୍ମାରେ ଗୋଟେ ଝରଣା ପାଇଛି
ମହାସାଗର ପରି ଭଲ ପାଇବା ପାଇଛି
ମୋ ଆତ୍ମାରେ
ମୁଁ ମୋ ଆତ୍ମାରେ ଗୋଟେ ମହାସାଗର ପାଇଛି

କବି କାହିଁକି କହିଛନ୍ତି ଭଲ ପାଇବା “ଏକ ମହାସାଗର ପରି”?

Options:

- 1) ମହାସାଗରରେ ଲହଡ଼ି ଅଛି
- 2) ମହାସାଗରଗୁଡ଼ିକରେ ଲୁଣିଆ ପାଣି
- 3) ମହାସାଗରଗୁଡ଼ିକ ଖୁବ୍ ବଡ଼
- 4) ମହାସାଗରଗୁଡ଼ିକ ବଦଳିଯାଏ

Correct Answer: 3) ମହାସାଗରଗୁଡ଼ିକ ଖୁବ୍ ବଡ଼

Candidate Answer: 3) ମହାସାଗରଗୁଡ଼ିକ ଖୁବ୍ ବଡ଼

QID : 659 - ପ୍ରଶ୍ନ ନିମ୍ନରେ ପ୍ରଦତ୍ତ କବିତା ଆଧାରିତ । କବିତାଟିକୁ ପଢ଼ନ୍ତୁ ଏବଂ ନିମ୍ନଲିଖିତ ପ୍ରଶ୍ନଗୁଡ଼ିକର ଉତ୍ତର ଦିଅନ୍ତୁ ।

ନଦୀ ପରି ଶାନ୍ତି ପାଇଛି

ମୋ ଆତ୍ମାରେ

ମୁଁ ମୋ ଆତ୍ମାରେ ଏକ ନଦୀ ପାଇଛି

ଗୋଟେ ଝରଣା ପରି ଖୁସି ପାଇଛି

ମୋ ଆତ୍ମାରେ

ମୁଁ ମୋ ଆତ୍ମାରେ ଗୋଟେ ଝରଣା ପାଇଛି

ମହାସାଗର ପରି ଭଲ ପାଇବା ପାଇଛି

ମୋ ଆତ୍ମାରେ

ମୁଁ ମୋ ଆତ୍ମାରେ ଗୋଟେ ମହାସାଗର ପାଇଛି

କବିତାର ସନ୍ଦେଶ କ'ଣ?

Options:

1) ବ୍ୟକ୍ତିଜଣଙ୍କ ଦୁଃଖୀ

2) ବ୍ୟକ୍ତିଜଣଙ୍କ ଖୁସି ଅନୁଭବ କରୁଛନ୍ତି

3) ବ୍ୟକ୍ତିଜଣଙ୍କ ଗୋଟେ ସମସ୍ୟା ସମାଧାନ କରିଛନ୍ତି

4) ବ୍ୟକ୍ତିଜଣଙ୍କ ବ୍ୟସ୍ତ ଥିଲେ

Correct Answer: 2) ବ୍ୟକ୍ତିଜଣଙ୍କ ଖୁସି ଅନୁଭବ କରୁଛନ୍ତି

Candidate Answer: 2) ବ୍ୟକ୍ତିଜଣଙ୍କ ଖୁସି ଅନୁଭବ କରୁଛନ୍ତି

QID : 660 - ପ୍ରଶ୍ନ ନିମ୍ନରେ ପ୍ରଦତ୍ତ କବିତା ଆଧାରିତ । କବିତାଟିକୁ ପଢ଼ନ୍ତୁ ଏବଂ ନିମ୍ନଲିଖିତ ପ୍ରଶ୍ନଗୁଡ଼ିକର ଉତ୍ତର ଦିଅନ୍ତୁ ।

ନଦୀ ପରି ଶାନ୍ତି ପାଇଛି

ମୋ ଆତ୍ମାରେ

ମୁଁ ମୋ ଆତ୍ମାରେ ଏକ ନଦୀ ପାଇଛି

ଗୋଟେ ଝରଣା ପରି ଖୁସି ପାଇଛି

ମୋ ଆତ୍ମାରେ

ମୁଁ ମୋ ଆତ୍ମାରେ ଗୋଟେ ଝରଣା ପାଇଛି

ମହାସାଗର ପରି ଭଲ ପାଇବା ପାଇଛି

ମୋ ଆତ୍ମାରେ

ମୁଁ ମୋ ଆତ୍ମାରେ ଗୋଟେ ମହାସାଗର ପାଇଛି

କେଉଁ ଓଡ଼ିଆ କବି "କେଦାରଗୌରୀ" ଲେଖିଥିଲେ ?

Options:

- 1) ରାଧାନାଥ ରାୟ
- 2) ଫକୀର ମୋହନ ସେନାପତି
- 3) ମଧୁସୂଦନ ରାଓ
- 4) ସୁରେନ୍ଦ୍ର ମହାନ୍ତି

Correct Answer: 2) ଫକୀର ମୋହନ ସେନାପତି

Candidate Answer: 2) ଫକୀର ମୋହନ ସେନାପତି

QID : 661 - The sentence below has been divided into three parts. Select the part of the sentence that has an error. If the sentence has no error, select the option 'No Error'.

"We are taking this / situation seriously and the / offenders will be punishing"

Options:

- 1) We are taking this
- 2) situation seriously and the
- 3) offenders will be punishing
- 4) No Error

Correct Answer: 3) offenders will be punishing

Candidate Answer: 2) situation seriously and the

QID : 662 - Select the word segment that substitutes (replaces) the bracketed word segment correctly and completes the sentence meaningfully. Select the option 'no correction required' if the sentence is correct as given.

You may **(also printed the sheet)** by right clicking the sheet and selecting "Print"

Options:

- 1) also print the sheet
- 2) also prints the sheet
- 3) also print an sheets
- 4) No correction required

Correct Answer: 1) also print the sheet

Candidate Answer: 1) also print the sheet

QID : 663 - A sentence has been given in Active/Passive voice. Out of the four alternatives suggested, select the one which best expresses the same sentence in Passive/Active voice.

The movie goers strongly criticized his movie.

Options:

- 1) His movie were strong criticizing by the moviegoers
- 2) His movie were strongly criticized by the moviegoers
- 3) His movie was strongly criticized by the moviegoers
- 4) His movie is strongly criticized by the moviegoers

Correct Answer: 3) His movie was strongly criticized by the moviegoers

Candidate Answer: 4) His movie is strongly criticized by the moviegoers

QID : 664 - Select the most appropriate word that fills in the blank correctly and completes the sentence meaningfully.

_____this exercise, you will be working with almost all the major muscle groups in your body.

Options:

- 1) During
- 2) Since
- 3) Because
- 4) Further

Correct Answer: 1) During

Candidate Answer: 1) During

QID : 665 - Select the most appropriate word that fills in the blank correctly and completes the sentence meaningfully.

All the students will work ___ a collaborative environment.

Options:

- 1) in
- 2) an
- 3) about
- 4) between

Correct Answer: 1) in

Candidate Answer: 2) an

QID : 666 - Select the word that is closest in meaning (**SYNONYM**) to the word given below.

PALTRY

Options:

- 1) contemplate
- 2) consort
- 3) insignificant
- 4) dissuade

Correct Answer: 3) insignificant

Candidate Answer: 1) contemplate

QID : 667 - Select the word that is opposite in meaning (**ANTONYM**) to the word given below.

SERENDIPITY

Options:

- 1) Ruminare
- 2) Luck
- 3) Misfortune
- 4) Lackey

Correct Answer: 3) Misfortune

Candidate Answer: 2) Luck

QID : 668 - Select the word that is spelled correctly.

Options:

- 1) Fhlehm
- 2) Fhlem
- 3) Phlem
- 4) Phlegm

Correct Answer: 4) Phlegm

Candidate Answer: 3) Phlem

QID : 669 - Select the most appropriate 'one word ' for the expressions given below.

Someone who is stubbornly unyielding

Options:

- 1) Pertinacious
- 2) Sanctimonious
- 3) Morpheus
- 4) Delirious

Correct Answer: 1) Pertinacious

Candidate Answer: 3) Morpheus

QID : 670 - Select the option that best expresses the meaning of the idiom or phrase given below.

Hear it on the grapevine

Options:

- 1) to do something badly or cheaply
- 2) to fight with someone
- 3) to hear rumours about something or someone.
- 4) to judge someone or something based solely on appearance

Correct Answer: 3) to hear rumours about something or someone.

Candidate Answer: 4) to judge someone or something based solely on appearance

QID : 671 - Which one of the following is not a method of conducting Oral Work?

Options:

- 1) Performing actions
- 2) Asking questions
- 3) Giving an outline of a story
- 4) Assigning homework

Correct Answer: 4) Assigning homework

Candidate Answer: 2) Asking questions

QID : 672 - How many roles of listening are there?

Options:

- 1) 7
- 2) 5
- 3) 4
- 4) 9

Correct Answer: 3) 4

Candidate Answer: 3) 4

QID : 673 - The word Maxim means _____.

Options:

- 1) The theory of time
- 2) A phrase which expresses what is true or what people think is a rule for sensible behaviour
- 3) The unconscious part of the human mind
- 4) The study of learning

Correct Answer: 2) A phrase which expresses what is true or what people think is a rule for sensible behaviour

Candidate Answer: 4) The study of learning

QID : 674 - Phonology is _____.

Options:

- 1) The study of how sounds are formed with sound patterns in a language or across languages
- 2) The study of perception and production of sound
- 3) The process of arranging words and phrases to create a well-structured sentence in a language
- 4) The philosophical and linguistic study of the meaning of a language

Correct Answer: 1) The study of how sounds are formed with sound patterns in a language or across languages

Candidate Answer: 4) The philosophical and linguistic study of the meaning of a language

QID : 675 - Which of the following does learning to speak a language help a child in the process of learning?

Options:

- 1) The sounds of language along with rhythm, intonation and stress
- 2) Developing how to listen to class lectures, teachers' speeches and instructions provided to them.
- 3) The sequencing of ideas into an incoherent whole in an extended talk
- 4) The practice of keeping thoughts to oneself

Correct Answer: 2) Developing how to listen to class lectures, teachers' speeches and instructions provided to them.

Candidate Answer: 2) Developing how to listen to class lectures, teachers' speeches and instructions provided to them.

QID : 676 - The study of how words are formed, their internal structure and their relationship with other words in a particular language is known as _____.

Options:

- 1) Phonetics
- 2) Morphology
- 3) Pragmatics
- 4) Orthography

Correct Answer: 2) Morphology

Candidate Answer: 2) Morphology

QID : 677 - The time limit that should be dedicated for teaching grammar to especially lower level student is _____.

Options:

- 1) 20 minutes
- 2) 15 minutes
- 3) 10 minutes
- 4) 45 minutes

Correct Answer: 3) 10 minutes

Candidate Answer: 2) 15 minutes

QID : 678 - Which one of these is not an essential use of grammar?

Options:

- 1) It teaches various concepts on subject, sentence, verb, phrase, clause and other related things for editing
- 2) It teaches proper punctuation and mechanics for clarity, style and convention
- 3) It teaches sentence sensing through manipulating the syntactic elements
- 4) It helps one to understand the correct method of decoding

Correct Answer: 4) It helps one to understand the correct method of decoding

Candidate Answer: 2) It teaches proper punctuation and mechanics for clarity, style and convention

QID : 679 - The method of using instructional strategies to draw out a student's attention or focusing on structure or form is called _____.

Options:

- 1) Audio-lingual technique
- 2) Cognitive communication
- 3) EGI or Explicit Grammar Instruction
- 4) The grammar-translation approach

Correct Answer: 3) EGI or Explicit Grammar Instruction

Candidate Answer: 2) Cognitive communication

QID : 680 - Which one of these should one not do when they are working with students who have special needs?

Options:

- 1) Seek help from the district of special education or experts on the resource
- 2) Go on with the course of work without any paying any special attention to the student, as they should be learning on their own
- 3) Gather as much information on the students and their needs, on how or if any difference would affect the learning process
- 4) Remove any kind of psychological or physical barriers from the classroom, which may limit the student's ability to achieve success

Correct Answer: 2) Go on with the course of work without any paying any special attention to the student, as they should be learning on their own

Candidate Answer: 4) Remove any kind of psychological or physical barriers from the classroom, which may limit the student's ability to achieve success

QID : 681 - Read the passage carefully and answer the questions that follow choosing the correct alternatives.

Lata Mangeshkar is an Indian playback singer and music director. She is one of the best-known and most respected playback singers in India fondly called Nightingale of Bollywood and Melody Queen. She has recorded songs in over a thousand Hindi films and has sung songs in over thirty-six regional Indian languages and foreign languages, though primarily in Marathi, Hindi, and Bengali. Lata Mangeshkar was born in 1929, the eldest daughter of Pandit Deenanath Mangeshkar, a Marathi musician and his Gujarati wife Shevanti in Indore (today in Madhya Pradesh and then the capital of the princely state of Indore which was part of the Central India Agency in British India). Her father, Pandit Deenanath Mangeshkar, was a classical singer and theatre actor. Her mother, Shevanti, a Gujarati woman from Thalner, Bombay Presidency (now in northwest Maharashtra), was Deenanath's second wife; his first wife Narmada, who had died, was Shevanti's older sister. She has four siblings—Meena Khadikar, Asha Bhosle, Usha Mangeshkar, and Hridaynath Mangeshkar—of whom she is the eldest. On 27 January 1963, against the backdrop of the Sino-Indian War, Mangeshkar sang the patriotic song "Aye Mere Watan Ke Logo" in the presence of Jawaharlal Nehru, then the Prime Minister of India. The song, composed by C. Ramchandra and written by Kavi Pradeep, is said to have brought the Prime Minister to tears. Lata Mangeshkar's most notable songs in the 1970s were composed by Laxmikant-Pyarelal and Rahul Dev Burman. From the 1970s onwards, Lata Mangeshkar has also staged many concerts in India and abroad, including several charity concerts. Her first concert overseas was at the Royal Albert Hall, London, in 1974 and was the first Indian to do so. Lata Mangeshkar has won several awards and honours, including Bharat Ratna (India's Highest Civilian Award), Padma Bhushan (1969), Padma Vibhushan (1999), Dadasaheb Phalke Award (1989), Maharashtra Bhushan Award (1997), NTR National Award (1999), Bharat Ratna (2001), Legion of Honour (2007), ANR National Award (2009), three National Film Awards and 15 Bengal Film Journalists' Association Awards. She has also won four Filmfare Best Female Playback Awards. In 1969, she made the unusual gesture of giving up the Filmfare Best Female Playback Award, in order to promote fresh talent. She was later awarded Filmfare Lifetime Achievement Award in 1993 and Filmfare Special Awards in 1994 and 2004. In 2009, Mangeshkar was awarded the title of Officer of the French Legion of Honour, France's highest order.

Who among these is not a sibling of Lata Mangeshkar?

Options:

- 1) Asha Bhosle
- 2) Meena Khadikar
- 3) Hridaynath Mangeshkar
- 4) Deenanath Mnageshkar

Correct Answer: 4) Deenanath Mnageshkar

Candidate Answer: 4) Deenanath Mnageshkar

QID : 682 - Read the passage carefully and answer the questions that follow choosing the correct alternatives.

Lata Mangeshkar is an Indian playback singer and music director. She is one of the best-known and most respected playback singers in India fondly called Nightingale of Bollywood and Melody Queen. She has recorded songs in over a thousand Hindi films and has sung songs in over thirty-six regional Indian languages and foreign languages, though primarily in Marathi, Hindi, and Bengali. Lata Mangeshkar was born in 1929, the eldest daughter of Pandit Deenanath Mangeshkar, a Marathi musician and his Gujarati wife Shevanti in Indore (today in Madhya Pradesh and then the capital of the princely state of Indore which was part of the Central India Agency in British India). Her father, Pandit Deenanath Mangeshkar, was a classical singer and theatre actor. Her mother, Shevanti, a Gujarati woman from Thalner, Bombay Presidency (now in northwest Maharashtra), was Deenanath's second wife; his first wife Narmada, who had died, was Shevanti's older sister. She has four siblings—Meena Khadikar, Asha Bhosle, Usha Mangeshkar, and Hridaynath Mangeshkar—of whom she is the eldest. On 27 January 1963, against the backdrop of the Sino-Indian War, Mangeshkar sang the patriotic song "Aye Mere Watan Ke Logo" in the presence of Jawaharlal Nehru, then the Prime Minister of India. The song, composed by C. Ramchandra and written by Kavi Pradeep, is said to have brought the Prime Minister to tears. Lata Mangeshkar's most notable songs in the 1970s were composed by Laxmikant-Pyarelal and Rahul Dev Burman. From the 1970s onwards, Lata Mangeshkar has also staged many concerts in India and abroad, including several charity concerts. Her first concert overseas was at the Royal Albert Hall, London, in 1974 and was the first Indian to do so. Lata Mangeshkar has won several awards and honours, including Bharat Ratna (India's Highest Civilian Award), Padma Bhushan (1969), Padma Vibhushan (1999), Dadasaheb Phalke Award (1989), Maharashtra Bhushan Award (1997), NTR National Award (1999), Bharat Ratna (2001), Legion of Honour (2007), ANR National Award (2009), three National Film Awards and 15 Bengal Film Journalists' Association Awards. She has also won four Filmfare Best Female Playback Awards. In 1969, she made the unusual gesture of giving up the Filmfare Best Female Playback Award, in order to promote fresh talent. She was later awarded Filmfare Lifetime Achievement Award in 1993 and Filmfare Special Awards in 1994 and 2004. In 2009, Mangeshkar was awarded the title of Officer of the French Legion of Honour, France's highest order.

Which of these is not an award bestowed upon Lata Mangeshkar?

Options:

- 1) Arjuna Award
- 2) Bharat Ratna
- 3) Padma Bhushan
- 4) Dadasaheb Phalke Award

Correct Answer: 1) Arjuna Award

Candidate Answer: 1) Arjuna Award

QID : 683 - Read the passage carefully and answer the questions that follow choosing the correct alternatives.

Lata Mangeshkar is an Indian playback singer and music director. She is one of the best-known and most respected playback singers in India fondly called Nightingale of Bollywood and Melody Queen. She has recorded songs in over a thousand Hindi films and has sung songs in over thirty-six regional Indian languages and foreign languages, though primarily in Marathi, Hindi, and Bengali. Lata Mangeshkar was born in 1929, the eldest daughter of Pandit Deenanath Mangeshkar, a Marathi musician and his Gujarati wife Shevanti in Indore (today in Madhya Pradesh and then the capital of the princely state of Indore which was part of the Central India Agency in British India). Her father, Pandit Deenanath Mangeshkar, was a classical singer and theatre actor. Her mother, Shevanti, a Gujarati woman from Thalner, Bombay Presidency (now in northwest Maharashtra), was Deenanath's second wife; his first wife Narmada, who had died, was Shevanti's older sister. She has four siblings—Meena Khadikar, Asha Bhosle, Usha Mangeshkar, and Hridaynath Mangeshkar—of whom she is the eldest. On 27 January 1963, against the backdrop of the Sino-Indian War, Mangeshkar sang the patriotic song "Aye Mere Watan Ke Logo" in the presence of Jawaharlal Nehru, then the Prime Minister of India. The song, composed by C. Ramchandra and written by Kavi Pradeep, is said to have brought the Prime Minister to tears. Lata Mangeshkar's most notable songs in the 1970s were composed by Laxmikant-Pyarelal and Rahul Dev Burman. From the 1970s onwards, Lata Mangeshkar has also staged many concerts in India and abroad, including several charity concerts. Her first concert overseas was at the Royal Albert Hall, London, in 1974 and was the first Indian to do so. Lata Mangeshkar has won several awards and honours, including Bharat Ratna (India's Highest Civilian Award), Padma Bhushan (1969), Padma Vibhushan (1999), Dadasaheb Phalke Award (1989), Maharashtra Bhushan Award (1997), NTR National Award (1999), Bharat Ratna (2001), Legion of Honour (2007), ANR National Award (2009), three National Film Awards and 15 Bengal Film Journalists' Association Awards. She has also won four Filmfare Best Female Playback Awards. In 1969, she made the unusual gesture of giving up the Filmfare Best Female Playback Award, in order to promote fresh talent. She was later awarded Filmfare Lifetime Achievement Award in 1993 and Filmfare Special Awards in 1994 and 2004. In 2009, Mangeshkar was awarded the title of Officer of the French Legion of Honour, France's highest order.

Which of these countries has bestowed the Legion of Honour award to Lata Mangeshkar?

Options:

- 1) Europe
- 2) France
- 3) Germany
- 4) Italy

Correct Answer: 2) France

Candidate Answer: 2) France

QID : 684 - Read the passage carefully and answer the questions that follow choosing the correct alternatives.

Lata Mangeshkar is an Indian playback singer and music director. She is one of the best-known and most respected playback singers in India fondly called Nightingale of Bollywood and Melody Queen. She has recorded songs in over a thousand Hindi films and has sung songs in over thirty-six regional Indian languages and foreign languages, though primarily in Marathi, Hindi, and Bengali. Lata Mangeshkar was born in 1929, the eldest daughter of Pandit Deenanath Mangeshkar, a Marathi musician and his Gujarati wife Shevanti in Indore (today in Madhya Pradesh and then the capital of the princely state of Indore which was part of the Central India Agency in British India). Her father, Pandit Deenanath Mangeshkar, was a classical singer and theatre actor. Her mother, Shevanti, a Gujarati woman from Thalner, Bombay Presidency (now in northwest Maharashtra), was Deenanath's second wife; his first wife Narmada, who had died, was Shevanti's older sister. She has four siblings—Meena Khadikar, Asha Bhosle, Usha Mangeshkar, and Hridaynath Mangeshkar—of whom she is the eldest. On 27 January 1963, against the backdrop of the Sino-Indian War, Mangeshkar sang the patriotic song "Aye Mere Watan Ke Logo" in the presence of Jawaharlal Nehru, then the Prime Minister of India. The song, composed by C. Ramchandra and written by Kavi Pradeep, is said to have brought the Prime Minister to tears. Lata Mangeshkar's most notable songs in the 1970s were composed by Laxmikant-Pyarelal and Rahul Dev Burman. From the 1970s onwards, Lata Mangeshkar has also staged many concerts in India and abroad, including several charity concerts. Her first concert overseas was at the Royal Albert Hall, London, in 1974 and was the first Indian to do so. Lata Mangeshkar has won several awards and honours, including Bharat Ratna (India's Highest Civilian Award), Padma Bhushan (1969), Padma Vibhushan (1999), Dadasaheb Phalke Award (1989), Maharashtra Bhushan Award (1997), NTR National Award (1999), Bharat Ratna (2001), Legion of Honour (2007), ANR National Award (2009), three National Film Awards and 15 Bengal Film Journalists' Association Awards. She has also won four Filmfare Best Female Playback Awards. In 1969, she made the unusual gesture of giving up the Filmfare Best Female Playback Award, in order to promote fresh talent. She was later awarded Filmfare Lifetime Achievement Award in 1993 and Filmfare Special Awards in 1994 and 2004. In 2009, Mangeshkar was awarded the title of Officer of the French Legion of Honour, France's highest order.

"Aye Mere Watan Ke Logo" was sung by Lata Mangeshkar against the backdrop of which of these wars?

Options:

- 1) Kargil War
- 2) Cold War
- 3) Sino-Indian War
- 4) 1971 war with Pakistan

Correct Answer: 3) Sino-Indian War

Candidate Answer: 3) Sino-Indian War

QID : 685 - Read the passage carefully and answer the questions that follow choosing the correct alternatives.

Lata Mangeshkar is an Indian playback singer and music director. She is one of the best-known and most respected playback singers in India fondly called Nightingale of Bollywood and Melody Queen. She has recorded songs in over a thousand Hindi films and has sung songs in over thirty-six regional Indian languages and foreign languages, though primarily in Marathi, Hindi, and Bengali. Lata Mangeshkar was born in 1929, the eldest daughter of Pandit Deenanath Mangeshkar, a Marathi musician and his Gujarati wife Shevanti in Indore (today in Madhya Pradesh and then the capital of the princely state of Indore which was part of the Central India Agency in British India). Her father, Pandit Deenanath Mangeshkar, was a classical singer and theatre actor. Her mother, Shevanti, a Gujarati woman from Thalner, Bombay Presidency (now in northwest Maharashtra), was Deenanath's second wife; his first wife Narmada, who had died, was Shevanti's older sister. She has four siblings—Meena Khadikar, Asha Bhosle, Usha Mangeshkar, and Hridaynath Mangeshkar—of whom she is the eldest. On 27 January 1963, against the backdrop of the Sino-Indian War, Mangeshkar sang the patriotic song "Aye Mere Watan Ke Logo" in the presence of Jawaharlal Nehru, then the Prime Minister of India. The song, composed by C. Ramchandra and written by Kavi Pradeep, is said to have brought the Prime Minister to tears. Lata Mangeshkar's most notable songs in the 1970s were composed by Laxmikant-Pyarelal and Rahul Dev Burman. From the 1970s onwards, Lata Mangeshkar has also staged many concerts in India and abroad, including several charity concerts. Her first concert overseas was at the Royal Albert Hall, London, in 1974 and was the first Indian to do so. Lata Mangeshkar has won several awards and honours, including Bharat Ratna (India's Highest Civilian Award), Padma Bhushan (1969), Padma Vibhushan (1999), Dadasaheb Phalke Award (1989), Maharashtra Bhushan Award (1997), NTR National Award (1999), Bharat Ratna (2001), Legion of Honour (2007), ANR National Award (2009), three National Film Awards and 15 Bengal Film Journalists' Association Awards. She has also won four Filmfare Best Female Playback Awards. In 1969, she made the unusual gesture of giving up the Filmfare Best Female Playback Award, in order to promote fresh talent. She was later awarded Filmfare Lifetime Achievement Award in 1993 and Filmfare Special Awards in 1994 and 2004. In 2009, Mangeshkar was awarded the title of Officer of the French Legion of Honour, France's highest order.

Lata Mangeshkar's first concert overseas was at which of these halls?

Options:

- 1) Royal Opera House
- 2) Sydney Harbour
- 3) Royal Albert Hall
- 4) Royal Victorian Club

Correct Answer: 3) Royal Albert Hall

Candidate Answer: 3) Royal Albert Hall

QID : 686 - Read the poem carefully and answer the questions that follow choosing the correct alternatives.

Macavity's a Mystery Cat: he's called the Hidden Paw— For he's the master criminal who can defy the Law. He's the bafflement of Scotland Yard, the Flying Squad's despair: For when they reach the scene of crime—Macavity's not there!

Macavity, Macavity, there's no one like Macavity, He's broken every human law, he breaks the law of gravity. His powers of levitation would make a fakir stare, And when you reach the scene of crime— Macavity's not there! You may seek him in the basement, you may look up in the air— But I tell you once and once again, Macavity's not there!

According to the passage, which of these laws has Macavity broken?

Options:

- 1) law of depravity
- 2) law of levitation
- 3) law of gravity
- 4) law of scotland yard

Correct Answer: 3) law of gravity

Candidate Answer: 3) law of gravity

QID : 687 - Read the poem carefully and answer the questions that follow choosing the correct alternatives.

Macavity's a Mystery Cat: he's called the Hidden Paw— For he's the master criminal who can defy the Law. He's the bafflement of Scotland Yard, the Flying Squad's despair: For when they reach the scene of crime—Macavity's not there!

Macavity, Macavity, there's no one like Macavity, He's broken every human law, he breaks the law of gravity. His powers of levitation would make a fakir stare, And when you reach the scene of crime— Macavity's not there! You may seek him in the basement, you may look up in the air— But I tell you once and once again, Macavity's not there!

From the passage above, select the most appropriate 'one word' for the expressions given below.

A religious ascetic or mendicant monk commonly considered a wonder-worker.

Options:

- 1) astronomer
- 2) fakir
- 3) detective
- 4) mystery man

Correct Answer: 2) fakir

Candidate Answer: 4) mystery man

QID : 688 - Read the poem carefully and answer the questions that follow choosing the correct alternatives.

Macavity's a Mystery Cat: he's called the Hidden Paw— For he's the master criminal who can defy the Law. He's the bafflement of Scotland Yard, the Flying Squad's despair: For when they reach the scene of crime—Macavity's not there!

Macavity, Macavity, there's no one like Macavity, He's broken every human law, he breaks the law of gravity. His powers of levitation would make a fakir stare, And when you reach the scene of crime— Macavity's not there! You may seek him in the basement, you may look up in the air— But I tell you once and once again, Macavity's not there!

According to the passage, who among these does not reach the scene of crime?

Options:

- 1) the reader
- 2) scotland yard
- 3) flying squad
- 4) fakir

Correct Answer: 4) fakir

Candidate Answer: 3) flying squad

QID : 689 - Read the poem carefully and answer the questions that follow choosing the correct alternatives.

Macavity's a Mystery Cat: he's called the Hidden Paw— For he's the master criminal who can defy the Law. He's the bafflement of Scotland Yard, the Flying Squad's despair: For when they reach the scene of crime—Macavity's not there!

Macavity, Macavity, there's no one like Macavity, He's broken every human law, he breaks the law of gravity. His powers of levitation would make a fakir stare, And when you reach the scene of crime— Macavity's not there! You may seek him in the basement, you may look up in the air— But I tell you once and once again, Macavity's not there!

Select the word that is closest in meaning (SYNONYM) to the word given below.

LEVITATE

Options:

- 1) demolition
- 2) ascent
- 3) demotion
- 4) motivation

Correct Answer: 2) ascent

Candidate Answer: 3) demotion

QID : 690 - Read the poem carefully and answer the questions that follow choosing the correct alternatives.

Macavity's a Mystery Cat: he's called the Hidden Paw— For he's the master criminal who can defy the Law. He's the bafflement of Scotland Yard, the Flying Squad's despair: For when they reach the scene of crime—Macavity's not there!

Macavity, Macavity, there's no one like Macavity, He's broken every human law, he breaks the law of gravity. His powers of levitation would make a fakir stare, And when you reach the scene of crime— Macavity's not there! You may seek him in the basement, you may look up in the air— But I tell you once and once again, Macavity's not there!

According to the passage, which of these refers to Macavity ?

Options:

- 1) Hidden Paw
- 2) Fakir
- 3) flying squad
- 4) mystery man

Correct Answer: 1) Hidden Paw

Candidate Answer: 3) flying squad

QID : 691 - According to Lancelot Hogben, "Mathematics is the mirror of civilization" this statement corresponds to which value of mathematics?

ଲ୍ୟାନ୍ସେଟ୍ ହୋଗବେନର ମତରେ, "ଗଣିତ ସଭ୍ୟତାର ଦର୍ପଣ" ଏଇ ବକ୍ତବ୍ୟଟି ଗଣିତର କେଉଁ ମୂଲ୍ୟର ସହିତ ମିଳିଯାଏ?

Options:

- 1) Social
ସାମାଜିକ
- 2) Geometrical
ଜ୍ୟାମିତିକ
- 3) Disciplinary
ଶାସ୍ତ୍ରମୂଳକ
- 4) Statistical
ପରିସଂଖ୍ୟାନସଂକ୍ରାନ୍ତ

Correct Answer: 1) Social
ସାମାଜିକ

Candidate Answer: 1) Social
ସାମାଜିକ

QID : 692 - In mathematics, 'Representation' refers to _____.

ଗଣିତରେ, "ପ୍ରତିନିଧିତ୍ୱ" _____ କୁ ବୁଝାଏ ।

Options:

- 1) expressing the given data through graphs
ଗ୍ରାଫର ମାଧ୍ୟମରେ ପ୍ରଦତ୍ତ ତଥ୍ୟ ପ୍ରକାଶ କରନ୍ତୁ
- 2) expressing an important geometrical result as a theorem
ଉପଯୋଗୀ ଉତ୍ତରରେ ଏକ ଗୁରୁତ୍ୱପୂର୍ଣ୍ଣ ଜ୍ୟାମିତିକ ଫଳାଫଳ ପ୍ରକାଶ କରିବା
- 3) expressing the number sequence through geometrical patterns
ଜ୍ୟାମିତିକ ନିର୍ଦ୍ଦେଶନ ଗୁଡ଼ିକ ମାଧ୍ୟମରେ ସଂଖ୍ୟା କ୍ରମଟି ପ୍ରକାଶ କରିବା
- 4) All options are correct
ସମସ୍ତ ବିକଳ୍ପ ସଠିକ

Correct Answer: 4) All options are correct
ସମସ୍ତ ବିକଳ୍ପ ସଠିକ

Candidate Answer: 4) All options are correct
ସମସ୍ତ ବିକଳ୍ପ ସଠିକ

QID : 693 - _____ is not a contributing factor responsible for mathematics anxiety.

_____ ଗଣିତ ଉତ୍ତରରେ ସହଯୋଗକାରୀ କାରକ ନୁହେଁ ।

Options:

- 1) Nature of subject
ବିଷୟର ପ୍ରକୃତି
- 2) Examination system
ପରୀକ୍ଷାର ବ୍ୟବସ୍ଥା
- 3) Gender
ଲିଙ୍ଗ
- 4) Syllabus
ସିଲାବସ

Correct Answer: 3) Gender
ଲିଙ୍ଗ

Candidate Answer: 3) Gender
ଲିଙ୍ଗ

QID : 694 - As per NCF 2005, the goal of teaching mathematics in the school curriculum is to make children learn 'Important Mathematics'. Important Mathematics means _____.

NCF 2005 ଅନୁସାରେ, ବିଦ୍ୟାଳୟ ପାଠ୍ୟକ୍ରମରେ ଗଣିତ ପଢ଼େଇବାର ଲକ୍ଷ୍ୟ ହେଉଛି ଛୁଆମାନଙ୍କୁ 'ଗୁରୁତ୍ୱପୂର୍ଣ୍ଣ ଗଣିତ' ଶିଖେଇବା। ଗୁରୁତ୍ୱପୂର୍ଣ୍ଣ ଗଣିତ ମାନେ _____।

Options:

1) understanding the appropriate use of learned mathematical techniques

ଶିଖେଇଥିବା ଗାଣିତିକ କୌଶଳଗୁଡ଼ିକର ଯଥାଯଥ ବ୍ୟବହାରକୁ ବୁଝିବା

2) learning all the geometrical theorems

ସମସ୍ତ ଜ୍ୟାମିତିକ ଉପପାଦ୍ୟ ଶିଖିବା

3) knowing mathematical procedures and algorithms

ଗାଣିତିକ ପଦ୍ଧତି ଏବଂ ଆଲଗୋରିଦିମ ଜାଣିବା

4) solving mathematical puzzles easily

ଗାଣିତିକ ଦୁର୍ବିଧା ସହଜରେ ସମାଧାନ କରିବା

Correct Answer: 1) understanding the appropriate use of learned mathematical techniques

ଶିଖେଇଥିବା ଗାଣିତିକ କୌଶଳଗୁଡ଼ିକର ଯଥାଯଥ ବ୍ୟବହାରକୁ ବୁଝିବା

Candidate Answer: 3) knowing mathematical procedures and algorithms

ଗାଣିତିକ ପଦ୍ଧତି ଏବଂ ଆଲଗୋରିଦିମ ଜାଣିବା

QID : 695 - Which of the following preference is given during the initial stages of teaching mathematics in primary schools?

ପ୍ରାଥମିକ ବିଦ୍ୟାଳୟରେ ଗଣିତ ପଢ଼େଇବା ପାଇଁ ନିମ୍ନଲିଖିତ କେଉଁଟିକୁ ପ୍ରାଥମିକ କାରଣ ପ୍ରାଧାନ୍ୟ ଦିଆ ଯାଏ?

Options:

1) Multiplication and Division of numbers

ସଂଖ୍ୟାର ଗୁଣ ଓ ବିଭାଗ

2) Number identification and counting

ନମ୍ବର ସନାକ୍ରମରଣ ଏବଂ ଗଣନା

3) Measurement of height and weight

ଉଚ୍ଚତା ଏବଂ ଓଜନ ପରିମାପ

4) Revision of all the math's formula first

ପ୍ରଥମ ଗଣିତର ସମସ୍ତ ସୂତ୍ର ପୁନର୍ବିବେଚନା

Correct Answer: 2) Number identification and counting

ନମ୍ବର ସନାକ୍ରମରଣ ଏବଂ ଗଣନା

Candidate Answer: 2) Number identification and counting

ନମ୍ବର ସନାକ୍ରମରଣ ଏବଂ ଗଣନା

QID : 696 - Arun simplified the given rational number $-15/-35 = -3/7$. This error can be considered as _____.

ଅରୁନ ପ୍ରଦତ୍ତ ଯୁକ୍ତିଯୁକ୍ତ ସଂଖ୍ୟା $-15/-35 = -3/7$ ସରଳୀକରଣ କରିଥିଲେ । ଏଇ ତ୍ରୁଟି _____ ହିସାବରେ ବିବେଚନା କରା ଯାଇପାରେ ।

Options:

- 1) Careless error
ଅଯତ୍ନେ ତ୍ରୁଟି
- 2) Critical error
ଗୁରୁତର ତ୍ରୁଟି
- 3) Procedural error
ପଦ୍ଧତିଗତ ତ୍ରୁଟି
- 4) No option is correct
କୌଣସି ବିକଳ୍ପ ଠିକ ନୁହେଁ

Correct Answer: 1) Careless error
ଅଯତ୍ନେ ତ୍ରୁଟି

Candidate Answer: 3) Procedural error
ପଦ୍ଧତିଗତ ତ୍ରୁଟି

QID : 697 - _____ is not a Problem Solving Strategy in mathematics.

_____ ଗଣିତର ସମସ୍ୟା ସମାଧାନର କୌଶଳ ନୁହେଁ ।

Options:

- 1) Drawing
ଅଙ୍କନ
- 2) Solving backward
ପଛ ଆଡୁ ସମାଧାନ
- 3) Rote learning
ମୁଖସ୍ଥ କାରି ପଢ଼ିବା
- 4) Trial and error
ବିଚାର ଓ ତ୍ରୁଟି

Correct Answer: 3) Rote learning
ମୁଖସ୍ଥ କାରି ପଢ଼ିବା

Candidate Answer: 2) Solving backward
ପଛ ଆଡୁ ସମାଧାନ

QID : 698 - If a child shows much interest to participate in mathematics quiz competition, then what objective of learning does it indicate?

ଯଦି କୌଣସି ଶିଶୁ ଗଣିତର କୁଇଜ ପ୍ରତିଯୋଗିତାରେ ଅଂଶ ନେବାର ଅନେକ ଆଗ୍ରହ ଦେଖାଏ, ତେବେ ଏହା ଶିଖିବାର କେଉଁ ଉଦ୍ଦେଶ୍ୟଟି ନିର୍ଦ୍ଦେଶ କରେ?

Options:

- 1) Affective
ଆବେଗ ସମ୍ବନ୍ଧୀୟ
- 2) Psycho-motor
ସାଇକୋ-ମୋଟର
- 3) Deductive
ହ୍ରାସ କରିବା
- 4) Summative
ସମେତ୍ତିତ

Correct Answer: 1) Affective
ଆବେଗ ସମ୍ବନ୍ଧୀୟ

Candidate Answer: 1) Affective
ଆବେଗ ସମ୍ବନ୍ଧୀୟ

QID : 699 - What would be your strategy for addressing the needs of visually challenged learners in an inclusive mathematics classroom?

ଗଣିତର ଲାଭରୂପରେ ଦୃଷ୍ଟି ପ୍ରତିବନ୍ଧୀ (ଭିଜୁଆଲ ଚ୍ୟାଲେଞ୍ଜି) ଶିକ୍ଷାର୍ଥୀଙ୍କପାଇଁ ଆପଣଙ୍କର କୌଣସି କଣ ହେବ?

Options:

- 1) Offer them another subject in lieu of mathematics
ଗଣିତର ପରିବର୍ତ୍ତର ତାଙ୍କୁ ଆହୁରି ଏକ ବିଷୟ ଦିଅନ୍ତୁ
- 2) Design alternate teaching-learning and assessment methods
ବିକଳ ଶିକ୍ଷଣ-ଶିକ୍ଷାର ଏବଂ ମୂଲ୍ୟାୟନ ପଦ୍ଧତି ଡିଜାଇନ କରନ୍ତୁ
- 3) Pair them with high scorers in mathematics
ଗଣିତର ଉଚ୍ଚତର ସ୍କୋରର ସହିତ ତାର ଜୋଡନ୍ତୁ
- 4) Pair them with high scorers of other subjects
ଅନ୍ୟାନ୍ୟ ବିଷୟର ଉଚ୍ଚତର ସ୍କୋରର ସାଙ୍ଗରେ ତାକୁ ଜୋଡନ୍ତୁ

Correct Answer: 2) Design alternate teaching-learning and assessment methods
ବିକଳ ଶିକ୍ଷଣ-ଶିକ୍ଷାର ଏବଂ ମୂଲ୍ୟାୟନ ପଦ୍ଧତି ଡିଜାଇନ କରନ୍ତୁ

Candidate Answer: 4) Pair them with high scorers of other subjects
ଅନ୍ୟାନ୍ୟ ବିଷୟର ଉଚ୍ଚତର ସ୍କୋରର ସାଙ୍ଗରେ ତାକୁ ଜୋଡନ୍ତୁ

QID : 700 - A student of class VII defined the rectangle as "Rectangle is a quadrilateral whose opposite sides are parallel and equal". This definition reflects that the student _____.

VII ଶ୍ରେଣୀର ଜଣେ ଶିକ୍ଷାର୍ଥୀ "ଆୟତକ୍ଷେତ୍ରଟି ଏକ ଚତୁର୍ଭୁଜ ଯାହାର ବିପରୀତ ଦିଗଗୁଡ଼ିକ ସମାନ୍ତରାଳ ଏବଂ ସମାନ" ହିସାବରେ ଆୟତକ୍ଷେତ୍ରଟି ସଂଜ୍ଞାୟତ କରେ। ଏହା ସଂଜ୍ଞା ଶିକ୍ଷାର୍ଥୀ _____ ପ୍ରତିଫଳିତ କରେ।

Options:

1) does not know the correct properties of the shape

ଆକୃତିର ସଠିକ ବୈଶିଷ୍ଟ୍ୟ ଗୁଡ଼ିକ ଜଣା ନାହିଁ

2) is not able to recognize the shapes

ଆକାରଗୁଡ଼ିକ ଚିହ୍ନିତ କରିବାରେ ସକ୍ଷମ ନୁହେଁ

3) knows some properties, but missed some important properties to complete the definition

କିଛି ବୈଶିଷ୍ଟ୍ୟ ଜାଣିଥାନ୍ତି, ତେବେ ସଂଜ୍ଞାଟି ସମ୍ପୂର୍ଣ୍ଣ କରିବାପାଇଁ କିଛି ଗୁରୁତ୍ୱପୂର୍ଣ୍ଣ ବୈଶିଷ୍ଟ୍ୟ ଛାଡ଼ି ଦିଅନ୍ତି।

4) No option is correct

କୌଣସି ବିକଳ୍ପ ସଠିକ ନୁହେଁ

Correct Answer: 3) knows some properties, but missed some important properties to complete the definition

କିଛି ବୈଶିଷ୍ଟ୍ୟ ଜାଣିଥାନ୍ତି, ତେବେ ସଂଜ୍ଞାଟି ସମ୍ପୂର୍ଣ୍ଣ କରିବାପାଇଁ କିଛି ଗୁରୁତ୍ୱପୂର୍ଣ୍ଣ ବୈଶିଷ୍ଟ୍ୟ ଛାଡ଼ି ଦିଅନ୍ତି।

Candidate Answer: 4) No option is correct

କୌଣସି ବିକଳ୍ପ ସଠିକ ନୁହେଁ

QID : 701 - Which of the following can be represented as a recurring decimal?

ନିମ୍ନଲିଖିତଗୁଡ଼ିକର ମଧ୍ୟରେ କେଉଁଟି ପୁନରାବୃତ୍ତ ଦଶମିକ ହିସାବରେ ଉପସ୍ଥାପିତ ହେଇପାରେ?

Options:

1) 1/2

2) 1/8

3) 1/3

4) 1/5

Correct Answer: 3) 1/3

Candidate Answer: 1) 1/2

QID : 702 - If $a^m \cdot b^n = 3087$ where a and b are prime numbers, then what is the value of $a + b$?

ଯଦି $a^m \cdot b^n = 3087$ ଯେଉଁଠାରେ a ଏବଂ b ମୂଳ ସଂଖ୍ୟା, ତେବେ $a + b$ ର ମୂଲ୍ୟ କେତେ?

Options:

- 1) 10
- 2) 12
- 3) 11
- 4) 7

Correct Answer: 1) 10

Candidate Answer: 1) 10

QID : 703 -

What is the value of $(\sqrt{169} - \sqrt{144} + 7 \times 5)^{\frac{1}{2}}$?

$(\sqrt{169} - \sqrt{144} + 7 \times 5)^{\frac{1}{2}}$ ର ମାନ କେତେ?

Options:

- 1) 7
- 2) 1
- 3) 6
- 4) 5

Correct Answer: 3) 6

Candidate Answer: 3) 6

QID : 704 - Total surface area of a cube is 864 cm^2 . What is the value (in cm) of the side of cube?

ଏକ କ୍ୟୁବର ମୋଟ ପୃଷ୍ଠର କ୍ଷେତ୍ରଫଳ 864 ସେମି² । କ୍ୟୁବର ପାର୍ଶ୍ଵର ମୂଲ୍ୟ (ସେମିରେ) କେତେ?

Options:

- 1) 14
- 2) 12
- 3) 16
- 4) 18

Correct Answer: 2) 12

Candidate Answer: 3) 16

QID : 705 - Twice of the area of a circle is 1232 cm^2 . What is the diameter (in cm) of circle?

ଏକ ବୃତ୍ତର କ୍ଷେତ୍ରଫଳର ଦ୍ୱିଗୁଣ 1232 ସେମି² । ବୃତ୍ତର ବ୍ୟାସ (ସେମିରେ) କେତେ?

Options:

- 1) 28
- 2) $14\sqrt{2}$
- 3) 14
- 4) 21

Correct Answer: 1) 28

Candidate Answer: 2) $14\sqrt{2}$

QID : 706 - Curved surface area of a cone is 440 cm^2 . If slant height of cone is 8 cm, then what is the radius (in cm) of cone?

କୋନ୍ ର ବକ୍ସା ପୃଷ୍ଠର କ୍ଷେତ୍ରଫଳ 440 ସେମି² । ଯଦି କୋନ୍ ର କର୍ଣ୍ଣର ଉଚ୍ଚତା 8 ସେମି ହୁଏ, ତବେ କୋନ୍ ର ବ୍ୟାସାର୍ଦ୍ଧ (ସେମିରେ) କେତେ?

Options:

- 1) 21.5
- 2) 14
- 3) 17.5
- 4) 19.5

Correct Answer: 3) 17.5

Candidate Answer: 1) 21.5

QID : 707 -

What is the value of $\left(1 + \frac{1}{x^2}\right)\left(1 + \frac{1}{x^2+1}\right)$

$\left(1 + \frac{1}{x^2+2}\right)\left(1 + \frac{1}{x^2+3}\right)$?

$\left(1 + \frac{1}{x^2}\right)\left(1 + \frac{1}{x^2+1}\right)\left(1 + \frac{1}{x^2+2}\right)\left(1 + \frac{1}{x^2+3}\right)$

ର ମାନ କେତେ?

Options:

1) $4x^2 + (1/x^2)$

2) $4 + (1/x^2)$

3) $x^2 + (4/x^2)$

4) $1 + (4/x^2)$

Correct Answer: 4) $1 + (4/x^2)$

Candidate Answer: 3) $x^2 + (4/x^2)$

QID : 708 - If $x = 3\sqrt{3} - 5$, then what is the value of $[x + (1/x)]$?

ଯଦି $x = 3\sqrt{3} - 5$, ତେବେ $[x + (1/x)]$ ର ମାନ କେତେ?

Options:

1) $(9\sqrt{3} + 5)/2$

2) $(9\sqrt{3} - 5)/2$

3) $6\sqrt{3} - 10$

4) $6\sqrt{3} + 10$

Correct Answer: 2) $(9\sqrt{3} - 5)/2$

Candidate Answer: 2) $(9\sqrt{3} - 5)/2$

QID : 709 - If $x = 0.5$ and $y = 0.2$, then what is the value of $\sqrt{0.4 \times (2y)^x}$?

ଯଦି $x = 0.5$ ଏବଂ $y = 0.2$ ହୁଏ ତେବେ $\sqrt{0.4 \times (2y)^x}$ ମାନ କେତେ?

Options:

- 1) 1
- 2) 0.5
- 3) 0.4
- 4) 0.8

Correct Answer: 3) 0.4

Candidate Answer: 4) 0.8

QID : 710 - If $a = 7$, $b = 6$ and $c = 2$, then what is the value of $a^2 + b^2 + c^2 - ab - bc + ca$?

ଯଦି $a = 7$, $b = 6$ ଏବଂ $c = 2$ ହୁଏ, ତେବେ $a^2 + b^2 + c^2 - ab - bc + ca$ ର ମାନ କେତେ?

Options:

- 1) 21
- 2) 49
- 3) 27
- 4) 53

Correct Answer: 2) 49

Candidate Answer: 2) 49

QID : 711 - What is the reciprocal of $[x + (1/x)]$?

$[x + (1/x)]$ ର ପାରସ୍ପରିକ (ରେସିପ୍ରୋକାଲ) ମୂଲ୍ୟ କଣ?

Options:

- 1) $[(1/x) + x]$
- 2) $[x/(x + 1)]$
- 3) $[x/(x^2 + 1)]$
- 4) $[x^2/(x + 1)]$

Correct Answer: 3) $[x/(x^2 + 1)]$

Candidate Answer: 3) $[x/(x^2 + 1)]$

QID : 712 - Cost price of two articles is Rs 6000 each. If the first article is sold at a profit of 15% and the other article is sold at a loss of 15%, then what will be the overall profit/loss percentage?

ପ୍ରତି ଦୁଇଟି ନିବନ୍ଧର ମୂଲ୍ୟ 6000 ଟଙ୍କା । ପ୍ରଥମ ନିବନ୍ଧଟି ଯଦି 15% ଲାଭରେ ଏବଂ ଅନ୍ୟ ନିବନ୍ଧଟି 15% କ୍ଷତିରେ ବିକ୍ରି ହୁଏ, ତେବେ ସାମଗ୍ରିକ ଲାଭ / କ୍ଷତିର ଶତାଂଶ କେତେ ହବ?

Options:

- 1) 2.25%, profit
2.25%, ଲାଭ
- 2) 2.25%, loss
2.25%, କ୍ଷତି
- 3) 4%, loss
4%, କ୍ଷତି
- 4) No profit no loss
ନା ଲାଭ ନା କ୍ଷତି

Correct Answer: 4) No profit no loss
ନା ଲାଭ ନା କ୍ଷତି

Candidate Answer: 4) No profit no loss
ନା ଲାଭ ନା କ୍ଷତି

QID : 713 - A can do a work in 20 days and B can do the same work in 40 days. If they started the work together and worked for 5 days, then what fraction of work is left?

A 20 ଦିନର ମଧ୍ୟରେ ଏକ କାମ କରି ପାରେ ଏବଂ B 40 ଦିନର ମଧ୍ୟରେ ସେଇ କାମ କରି ପାରେ । ଯଦି ସେମାନେ ଏକତ୍ରରେ କାମ ଆରମ୍ଭ କରନ୍ତି ଏବଂ 5 ଦିନ କାମ କରନ୍ତି, ତେବେ କାମରେ କେତେ ଅଂଶଟି ବାକୀ ରହିଯିବ?

Options:

- 1) 5/8
- 2) 8/15
- 3) 7/15
- 4) 1/10

Correct Answer: 1) 5/8

Candidate Answer: 4) 1/10

QID : 714 - If $A : B = 3 : 5$ and $B = 25$, then what is the value of $A \times B$?

ଯଦି $A : B = 3 : 5$ ଏବଂ $B = 25$ ହୁଏ, ତେବେ $A \times B$ ର ମାନ କେତେ?

Options:

- 1) 375
- 2) 380
- 3) 275
- 4) 340

Correct Answer: 1) 375

Candidate Answer: 3) 275

QID : 715 - If X is increased by 20% and then again it is increased by 20%, then by how much percentage the value of X will be finally increased?

ଯଦି X କୁ 20% ବୃଦ୍ଧି କରା ହୁଏ ଏବଂ ତାପରେ ଆଉଥରେ 20% ବୃଦ୍ଧି କରା ହୁଏ, ତେବେ X ର ମାନ ଶେଷ ପର୍ଯ୍ୟନ୍ତ କେତେ ଶତାଂଶ ବୃଦ୍ଧି ପାଇବ?

Options:

- 1) 44
- 2) 34
- 3) 20
- 4) 30

Correct Answer: 1) 44

Candidate Answer: 3) 20

QID : 716 - In a ΔABC , $\angle A = 90^\circ$ and D is mid-point of AC. What is the value of $BC^2 - BD^2$?

ΔABC ରେ, $\angle A = 90^\circ$ ଏବଂ D, AC ର ମଧ୍ୟ ବିନ୍ଦୁ । ତେବେ $BC^2 - BD^2$ ର ମୂଲ୍ୟ କେତେ?

Options:

- 1) $4AD^2$
- 2) $3AD^2$
- 3) $2AD^2$
- 4) AD^2

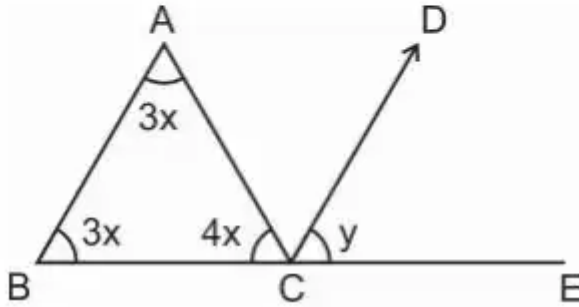
Correct Answer: 2) $3AD^2$

Candidate Answer: 4) AD^2

QID : 717 -

In the given figure, $CD \parallel AB$. What is the value (in degrees) of y ?

ପ୍ରଦତ୍ତ ଚିତ୍ରରେ, $CD \parallel AB$ । y ର ମାନ (ଡିଗ୍ରୀରେ) କେତେ?



Options:

- 1) 54
- 2) 48
- 3) 72
- 4) 60

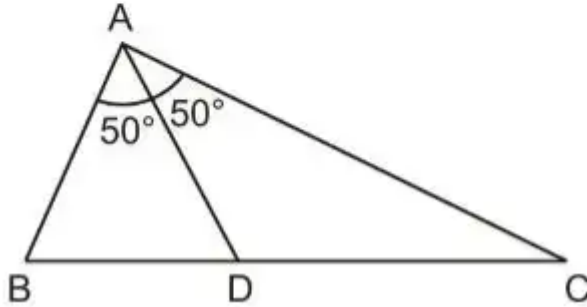
Correct Answer: 1) 54

Candidate Answer: 4) 60

QID : 718 -

In the given figure, if $BC = 16$ cm, $AB = 12$ cm and $AC = 18$ cm, then what is the value (in cm) of DC ?

ପ୍ରଦତ୍ତ ଚିତ୍ରଟିରେ, ଯଦି $BC = 16$ ସେମି, $AB = 12$ ସେମି ଏବଂ $AC = 18$ ସେମି ହୁଏ, ତେବେ DC ର ମାନ (ସେମିରେ) କେତେ?



Options:

- 1) 4.8
- 2) 7.2
- 3) 8.4
- 4) 9.6

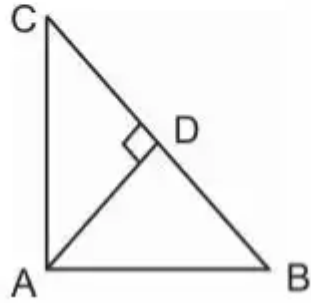
Correct Answer: 4) 9.6

Candidate Answer: 1) 4.8

QID : 719 -

In the given $\triangle ABC$, $\angle A = 90^\circ$. If $AD \perp BC$, then which of the following statements is the correct?

ପ୍ରଦତ୍ତ $\triangle ABC$ ରେ, $\angle A = 90^\circ$, ଯଦି $AD \perp BC$ ହୁଏ, ତେବେ ନିମ୍ନଲିଖିତ ବିବୃତିଗୁଡ଼ିର ମଧ୍ୟରେ କଣଟି ସଠିକ?



Options:

- 1) $AB^2 = BD \times DC$
- 2) $AB^2 = BD \times AD$
- 3) $AB^2 = BC \times DC$
- 4) $AB^2 = BC \times BD$

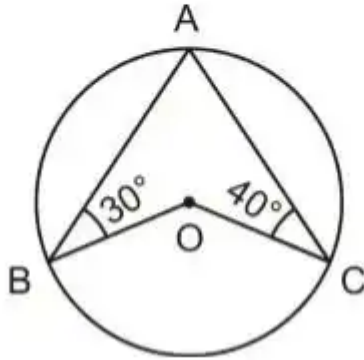
Correct Answer: 4) $AB^2 = BC \times BD$

Candidate Answer: 2) $AB^2 = BD \times AD$

QID : 720 -

In the given figure, O is the centre of circle, what is the value (in degrees) of $\angle BOC$?

ପ୍ରଦତ୍ତ ଚିତ୍ରରେ O ବୃତ୍ତର କେନ୍ଦ୍ର, $\angle BOC$ ର ମାନ (ଡିଗ୍ରୀରେ) କେତେ?



Options:

- 1) 120
- 2) 140
- 3) 160
- 4) 180

Correct Answer: 2) 140

Candidate Answer: 1) 120

QID : 721 - How simple experiments and directions by teacher can be helpful for students in science classroom?

ଶିକ୍ଷକର ସହଜ ପରୀକ୍ଷା-ନିରୀକ୍ଷା ଓ ନିର୍ଦ୍ଦେଶନା ବିଜ୍ଞାନ ଶ୍ରେଣୀକକ୍ଷ ଶିକ୍ଷାର୍ଥୀର ପାଇଁ କର ଭାବେ ସହାୟକ ହେଇ ପାରେ?

Options:

- 1) Discipline the students
ଶିକ୍ଷାର୍ଥୀଙ୍କର ଶୃଙ୍ଖଳାବଦ୍ଧ କରନ୍ତୁ
- 2) There is no significance of experiment in the class
କ୍ଳାସରେ ପରୀକ୍ଷାର ଗୁରୁତ୍ୱ ନାହିଁ
- 3) Enabling them for self- learning and enhancing their observational skills
ତାଙ୍କର ସ୍ୱ-ଶିକ୍ଷାର ପାଇଁ ଏବଂ ତାଙ୍କର ପର୍ଯ୍ୟବେକ୍ଷଣ ଦକ୍ଷତା ବୃଦ୍ଧିର ପାଇଁ ସକ୍ଷମ କରିବା
- 4) No option is correct
କୌଣସି ବିକଳ୍ପ ସଠିକ ନୁହେଁ

Correct Answer: 3) Enabling them for self- learning and enhancing their observational skills
ତାଙ୍କର ସ୍ୱ-ଶିକ୍ଷାର ପାଇଁ ଏବଂ ତାଙ୍କର ପର୍ଯ୍ୟବେକ୍ଷଣ ଦକ୍ଷତା ବୃଦ୍ଧିର ପାଇଁ ସକ୍ଷମ କରିବା

Candidate Answer: 1) Discipline the students
ଶିକ୍ଷାର୍ଥୀଙ୍କର ଶୃଙ୍ଖଳାବଦ୍ଧ କରନ୍ତୁ

QID : 722 - What is the primary aim of performing hands on activities and projects as an integral part of learning science?

ବିଜ୍ଞାନ ଶିଖେଇବା ଗୋଟିଏ ଅବିଚ୍ଛେଦ୍ୟ ଅଙ୍ଗ ହିସାବରେ କାର୍ଯ୍ୟକ୍ରମ ଏବଂ ପ୍ରକଳ୍ପଗୁଡ଼ିକ କରିବାରେ ଏକ ପ୍ରାଥମିକ ଲକ୍ଷ କଣ ଅଟେ ?

Options:

- 1) Keeping the students engaged all the time
ଶିକ୍ଷାର୍ଥୀଙ୍କର ସର୍ବଦା ବ୍ୟସ୍ତ ରଖନ୍ତୁ
- 2) Assessing the students on practical skills
ବ୍ୟବହାରିକ ଦକ୍ଷତାର ଉପରେ ଶିକ୍ଷାର୍ଥୀର ମୂଲ୍ୟାୟନ କରିବା
- 3) Providing opportunity to students for extended learning
ଶିକ୍ଷାର୍ଥୀଙ୍କର ପ୍ରସାରିତ ଶିକ୍ଷାର ପାଇଁ ସୁଯୋଗ ପ୍ରଦାନ କରିବା
- 4) Maintaining discipline in the laboratory
ପରୀକ୍ଷାଗାର ଶୃଙ୍ଖଳା ବନେଇ ରଖିବା

Correct Answer: 3) Providing opportunity to students for extended learning
ଶିକ୍ଷାର୍ଥୀଙ୍କର ପ୍ରସାରିତ ଶିକ୍ଷାର ପାଇଁ ସୁଯୋଗ ପ୍ରଦାନ କରିବା

Candidate Answer: 4) Maintaining discipline in the laboratory
ପରୀକ୍ଷାଗାର ଶୃଙ୍ଖଳା ବନେଇ ରଖିବା

QID : 723 - What is considered as a key to make science learning more effective?

ବିଜ୍ଞାନ ଶିକ୍ଷାକୁ ଅଧିକ ପ୍ରଭାବୀ କରିବା ପାଇଁ କଣ ଏକ ଚାବି ରୂପେ ବିବେଚନା କରାଯାଏ?

Options:

- 1) Connect the teaching with real-life
ଶିକ୍ଷାକକୁ ବାସ୍ତବ-ଜୀବନର ସହିତ ସଂଯୁକ୍ତ କରନ୍ତୁ
- 2) Story telling
ଗଳ୍ପ କହିବା
- 3) Rote learning
ସୁଖସୁ କାରୀ ଶିଖିବା
- 4) Puzzles
ଡ଼ିବିଧା

Correct Answer: 1) Connect the teaching with real-life
ଶିକ୍ଷାକକୁ ବାସ୍ତବ-ଜୀବନର ସହିତ ସଂଯୁକ୍ତ କରନ୍ତୁ

Candidate Answer: 1) Connect the teaching with real-life

ଶିକ୍ଷାକଳ୍ପ ବାସ୍ତବ-ଜୀବନର ସହିତ ସଂଯୁକ୍ତ କରନ୍ତୁ

QID : 724 - To show 'how water effects the germination of seeds', a science teacher asked the students to soak bean seeds on a bed of cotton wool for a few days and observe the changes. What is the guideline that she forgot to mention?

'କିପରି ପାଣି ବୀଜର ଅଙ୍କୁରୋଦଗମକୁ ପ୍ରଭାବିତ କରେ' ତା ଦେଖାଇବା ପାଇଁ, ଜଣେ ବିଜ୍ଞାନ ଶିକ୍ଷକ ଶିକ୍ଷାର୍ଥୀକୁ କିଛି ଦିନ ପାଇଁ ସୂତା କପଡା ରେ ଶିମ୍ପୁ(ବିନ୍) ମଞ୍ଜି ଭିତାରେ ରଖିବା ଏବଂ ପରିବର୍ତ୍ତନଗୁଡ଼ିକୁ ପର୍ଯ୍ୟବେକ୍ଷଣ କରିବାକୁ କୁହନ୍ତି । ସେ କଣ ଉଲ୍ଲେଖ କରିବାକୁ ଭୁଲି ଯାଇଛନ୍ତି ?

Options:

1) To place many seeds on wet cotton

ଓଡା କପଡା ଉପରେ ଅନେକ ମଞ୍ଜି ରଖନ୍ତୁ

2) To place few seeds on wet cotton

ଓଡା କପଡା ଉପରେ ଅଳ୍ପ ମଞ୍ଜି ରଖନ୍ତୁ

3) To place many seeds on dry cotton

ଶୁଖିଲା କପଡା ଉପରେ ଅନେକ ମଞ୍ଜି ରଖନ୍ତୁ

4) To place few seeds on dry cotton

ଶୁଖିଲା କପଡା ଉପରେ ଅଳ୍ପ ମଞ୍ଜି ରଖନ୍ତୁ

Correct Answer: 2) To place few seeds on wet cotton

ଓଡା କପଡା ଉପରେ ଅଳ୍ପ ମଞ୍ଜି ରଖନ୍ତୁ

Candidate Answer: 2) To place few seeds on wet cotton

ଓଡା କପଡା ଉପରେ ଅଳ୍ପ ମଞ୍ଜି ରଖନ୍ତୁ

QID : 725 - Which of the following techniques will not be recommended for the science teachers while teaching science in the classroom?

ଶ୍ରେଣିକକ୍ଷରେ ବିଜ୍ଞାନ ପଢ଼େଇବା ସମୟରେ ବିଜ୍ଞାନର ଶିକ୍ଷକର ପାଇଁ ନିମ୍ନଲିଖିତ କେଉଁ କୌଣସି କରିବା ସୁପାରିଶ ଯୋଗ୍ୟ ନୁହେଁ?

Options:

1) Take a test to know about previous knowledge of students

ଶିକ୍ଷାର୍ଥୀଙ୍କର ପୂର୍ବବର୍ତ୍ତୀ ଜ୍ଞାନ ସମ୍ବନ୍ଧରେ ଜାଣିବା ପାଇଁ ଗୋଟିଏ ପରୀକ୍ଷା କରନ୍ତୁ

2) Use manipulative materials for explaining the concepts

ଧାରଣାର ବ୍ୟାଖ୍ୟା କରିବାର ପାଇଁ ମ୍ୟାନିପୁଲେଟିଭ ଉପକରଣଗୁଡ଼ିକ ବ୍ୟବହାର କରନ୍ତୁ

3) While introducing a complex concept, ask only open – ended questions to stimulate thinking of students

ଏକ ଜଟିଳ ଧାରଣା ବିଷୟରେ କହିବା ସମୟରେ, ଶିକ୍ଷାର୍ଥୀର ଚିନ୍ତାଭାବନା ଉତ୍ତୀର୍ଣ୍ଣ ପାଇଁ କେବଳ ଉନ୍ନତ ପ୍ରଶ୍ନ ପଚାରନ୍ତୁ

4) All options are correct

ସମସ୍ତ ବିକଳ୍ପ ସଠିକ

Correct Answer: 2) Use manipulative materials for explaining the concepts

ଧାରଣାର ବ୍ୟାଖ୍ୟା କରିବାର ପାଇଁ ମ୍ୟାନିପୁଲେଟିଭ ଉପକରଣଗୁଡ଼ିକ ବ୍ୟବହାର କରନ୍ତୁ

Candidate Answer: 3) While introducing a complex concept, ask only open – ended questions to stimulate thinking of students

ଏକ ଜଟିଳ ଧାରଣା ବିଷୟରେ କହିବା ସମୟରେ, ଶିଷ୍ୟାର୍ଥୀର ଚିନ୍ତାଭାବନା ଉଦ୍‌ଘାଟନା ପାଇଁ କେବଳ ଉନ୍ନତ ପ୍ରଶ୍ନ ପଚାରନ୍ତୁ

QID : 726 - A teacher is planning an educational tour for children of class VII to Rajasthan. What should be the expectation of teacher from the students?

ଜଣେ ଶିକ୍ଷକ ସପ୍ତମ ଶ୍ରେଣୀର ପିଲାମାନଙ୍କ ପାଇଁ ରାଜସ୍ଥାନରେ ଗୋଟିଏ ଶିକ୍ଷାମୂଳକ ଭ୍ରମଣ ର ପରିକଳ୍ପନା କରୁଛନ୍ତି। ଶିକ୍ଷାର୍ଥୀର ଠାରୁ ଶିକ୍ଷକର ପ୍ରତ୍ୟାଶା କଣ ହେବା ଉଚିତ?

Options:

1) They should rejoice

ସେମାନେ ଆନନ୍ଦ କରିବା ଉଚିତ

2) They should not raise any question

ସେମାନେ କୌଣସି ପ୍ରଶ୍ନ ପଚାରିବା ଉଚିତ ନୁହେଁ

3) There should be pin drop silence on the trip

ଯାତ୍ରା ସମୟରେ ସଂପୂର୍ଣ୍ଣ ନୀରବତା ରହିବା ଉଚିତ

4) They should observe carefully and share their observation with other children and teachers

ସେମାନେ ସାବଧାନତା ସହ ପର୍ଯ୍ୟବେକ୍ଷଣ କରିବା ଉଚିତ ଏବଂ ତାଙ୍କର ପର୍ଯ୍ୟବେକ୍ଷଣଟି ଅନ୍ୟ ପିଲାମାନଙ୍କୁ ଏବଂ ଶିକ୍ଷକଙ୍କ ସହ ବିଭାଜନ କରିନେବା ଉଚିତ

Correct Answer: 4) They should observe carefully and share their observation with other children and teachers

ସେମାନେ ସାବଧାନତା ସହ ପର୍ଯ୍ୟବେକ୍ଷଣ କରିବା ଉଚିତ ଏବଂ ତାଙ୍କର ପର୍ଯ୍ୟବେକ୍ଷଣଟି ଅନ୍ୟ ପିଲାମାନଙ୍କୁ ଏବଂ ଶିକ୍ଷକଙ୍କ ସହ ବିଭାଜନ କରିନେବା ଉଚିତ

Candidate Answer: 4) They should observe carefully and share their observation with other children and teachers

ସେମାନେ ସାବଧାନତା ସହ ପର୍ଯ୍ୟବେକ୍ଷଣ କରିବା ଉଚିତ ଏବଂ ତାଙ୍କର ପର୍ଯ୍ୟବେକ୍ଷଣଟି ଅନ୍ୟ ପିଲାମାନଙ୍କୁ ଏବଂ ଶିକ୍ଷକଙ୍କ ସହ ବିଭାଜନ କରିନେବା ଉଚିତ

QID : 727 - As a science teacher what kind of understanding we get while doing diagnostic tests in science?

ଜଣେ ବିଜ୍ଞାନ ଶିକ୍ଷକ ହିସାବରେ, ବିଜ୍ଞାନରେ ତାତ୍ପର୍ଯ୍ୟପୂର୍ଣ୍ଣ ପରୀକ୍ଷା କରିବା ସମୟରେ ଆମେ କଣ ଧାରଣା ପାଇଥାଉ?

Options:

1) How wise the students are?

ଶିକ୍ଷାର୍ଥୀମାନେ କେତେ ବୁଦ୍ଧିମାନ?

2) How recurrence helps the student?

ପୁନରାବୃତ୍ତି କିପରି ଛାତ୍ରକୁ ସହାୟତା କରେ?

3) The difficulties faced by students in studying science

ବିଜ୍ଞାନ ଅଧ୍ୟୟନରେ ଶିକ୍ଷାର୍ଥୀଙ୍କୁ ଯେଉଁ ଅସୁବିଧା ହେଉଛି

4) No option is correct

କୌଣସି ବିକଳ୍ପ ସଠିକ ନୁହେଁ

Correct Answer: 3) The difficulties faced by students in studying science

ବିଜ୍ଞାନ ଅଧ୍ୟୟନରେ ଶିକ୍ଷାର୍ଥୀଙ୍କୁ ଯେଉଁ ଅସୁବିଧା ହେଉଛି

Candidate Answer: 4) No option is correct

କୌଣସି ବିକଳ୍ପ ସଠିକ ନୁହେ

QID : 728 - What is the primary purpose of making science museum in elementary school?

ପ୍ରାଥମିକ ବିଦ୍ୟାଳୟରେ ବିଜ୍ଞାନ ମିଉଜିୟମ ତିଆରି କରିବାର ପ୍ରାଥମିକ ଉଦ୍ଦେଶ୍ୟ କଣ?

Options:

1) Giving the opportunity to learn lessons quickly

ଦ୍ରୁତ ବେଗରେ ପାଠ୍ୟ ଶିଖିବାର ସୁଯୋଗ ଦେବା

2) Providing education opportunities

ଶିକ୍ଷାର ସୁଯୋଗ ପ୍ରଦାନ କରିବା

3) Adopting habit of observation and collection in students

ଶିକ୍ଷାର୍ଥୀଙ୍କର ମଧ୍ୟରେ ପର୍ଯ୍ୟବେକ୍ଷଣ ଏବଂ ସଂଗ୍ରହର ଅଭ୍ୟାସ ଗ୍ରହଣ କରାଇବା

4) Saving money in teaching of science

ବିଜ୍ଞାନର ଶିକ୍ଷା ପାଇଁ ଅର୍ଥ ସଞ୍ଚୟ କରିବା

Correct Answer: 3) Adopting habit of observation and collection in students

ଶିକ୍ଷାର୍ଥୀଙ୍କର ମଧ୍ୟରେ ପର୍ଯ୍ୟବେକ୍ଷଣ ଏବଂ ସଂଗ୍ରହର ଅଭ୍ୟାସ ଗ୍ରହଣ କରାଇବା

Candidate Answer: 3) Adopting habit of observation and collection in students

ଶିକ୍ଷାର୍ଥୀଙ୍କର ମଧ୍ୟରେ ପର୍ଯ୍ୟବେକ୍ଷଣ ଏବଂ ସଂଗ୍ରହର ଅଭ୍ୟାସ ଗ୍ରହଣ କରାଇବା

QID : 729 - Which of the following is not an aim of teaching science at upper primary level?

ନିମ୍ନରୁ କେଉଁଟି ଉଚ୍ଚ ପ୍ରାଥମିକ ସ୍ତରରେ ବିଜ୍ଞାନର ପାଠ୍ୟଦାନର ଲକ୍ଷ୍ୟ ନୁହେ?

Options:

1) Raising curiosity about the natural and social environment

ପ୍ରାକୃତିକ ଏବଂ ସାମାଜିକ ପରିବେଶ ସମ୍ପର୍କରେ କୌତୂହଳ ଉଦ୍ଧାପନ

2) Assimilating values that concern the life and the environment

ଜୀବନ ଏବଂ ପରିବେଶ ଉଦ୍ଦେଶ୍ୟ ଯେଉଁ ମୂଲ୍ୟବୋଧ ଅନୁଭୂତକୁ

3) To engage the students in the practical and research activities

ଶିକ୍ଷାର୍ଥୀଙ୍କ ବ୍ୟବହାରିକ ଏବଂ ଗବେଷଣା କାର୍ଯ୍ୟକ୍ରମରେ ଜଡ଼ିତ ରଖିବା

4) The burden of learning vocabulary and definitions for children's assessment

ପିଲାମାନଙ୍କର ମୂଲ୍ୟାୟନର ପାଇଁ ଶବ୍ଦଭାଣ୍ଡାର ଏବଂ ସଂଜ୍ଞା ଶିଖା ବୁଝା

Correct Answer: 4) The burden of learning vocabulary and definitions for children's assessment

ପିଲାମାନଙ୍କର ମୂଲ୍ୟାୟନର ପାଇଁ ଶବ୍ଦଭାଣ୍ଡାର ଏବଂ ସଂଜ୍ଞା ଶିଖା ବୁଝା

Candidate Answer: 1) Raising curiosity about the natural and social environment

ପ୍ରାକୃତିକ ଏବଂ ସାମାଜିକ ପରିବେଶ ସମ୍ପର୍କରେ କୌତୂହଳ ଉଦ୍ଧାପନ

QID : 730 - Which of the following is the main feature of assessment in science?

ନିମ୍ନର କେଉଁଟି ବିଜ୍ଞାନର ମୂଲ୍ୟାୟନର ପ୍ରଧାନ ବୈଶିଷ୍ଟ୍ୟ?

Options:

1) It is organised at the end of the year

ଏହା ବର୍ଷରେ ଶେଷରେ ଆୟୋଜନ କରା ହୁଏ

2) It is diagnostic in nature

ଏହା ପ୍ରକୃତିର ତାୟୋଗୋନପ୍ତକ

3) The purpose of enhancing experimental skills

ପରୀକ୍ଷାମୂଳକ ଦକ୍ଷତା ବୃଦ୍ଧିର ଉଦ୍ଦେଶ୍ୟ

4) The purpose of developing a scientific approach among students

ଶିକ୍ଷାର୍ଥୀଙ୍କର ମଧ୍ୟରେ ବୈଜ୍ଞାନିକ ପଦ୍ଧତିର ବିକାଶର ଉଦ୍ଦେଶ୍ୟ

Correct Answer: 2) It is diagnostic in nature

ଏହା ପ୍ରକୃତିର ତାୟୋଗୋନପ୍ତକ

Candidate Answer: 4) The purpose of developing a scientific approach among students

ଶିକ୍ଷାର୍ଥୀଙ୍କର ମଧ୍ୟରେ ବୈଜ୍ଞାନିକ ପଦ୍ଧତିର ବିକାଶର ଉଦ୍ଦେଶ୍ୟ

QID : 731 - Which method of separation would you use to separate a mixture of salt and water?

ଲବଣ ଏବଂ ପାଣିର ମିଶ୍ରଣ ପୃଥକ କରିବା ଆପଣ କେଉଁ ପୃଥକୀକରଣର ପଦ୍ଧତି ବ୍ୟବହାର କରିବେ?

Options:

1) Evaporation

ବାଷ୍ପୀକରଣ

2) Sublimation

ସବ୍ଲିମେସନ୍

3) Sedimentation

ସେଡିମେଣ୍ଟେସନ୍

4) Decantation

ଡିକାନେଣ୍ଟେସନ୍

Correct Answer: 1) Evaporation

ବାଷ୍ପୀକରଣ

Candidate Answer: 1) Evaporation

ବାଷ୍ପୀକରଣ

QID : 732 - Which of the following metals is most likely to displace iron (Fe^{2+}) in ferrous sulphate solution?

ନିମ୍ନଲିଖିତ ଧାତୁର ମଧ୍ୟରେ କେଉଁଟି ଫେରସ ସଲ୍ଫେଟ୍ ଦ୍ରବଣ ରେ ଆଇରନ (Fe^{2+}) ର ସ୍ଥାନରୁ୍ୟତ କରିବାର ସମ୍ଭାବନା ସବୁଠାରୁ ବେଶି?

Options:

1) Copper

ତମ୍ବା

2) Lead

ସୀସା

3) Zinc

ଦସ୍ତା

4) Mercury

ପାରଦ

Correct Answer: 3) Zinc

ଦସ୍ତା

Candidate Answer: 1) Copper

ତମ୍ବା

QID : 733 - Sulphur is present in which amino acid?

ସଲ୍ଫର କେଉଁ ଆମିନୋ ଏସିଡ୍ ରେ ଉପସ୍ଥିତ?

Options:

1) Cysteine

କ୍ରଷ୍ଟିନ

2) Alanine

ଆଲାନିନ (ଆଲାନାଇନ)

3) Lysine

ଲାଇସିନ

4) Valine

ଭାଲିନ

Correct Answer: 1) Cysteine

କ୍ରଷ୍ଟିନ

Candidate Answer: 4) Valine

ଭାଲିନ

QID : 734 - Which of the following process is responsible for advance sunrise and delayed sunset?

ଆଗୁଆ ସୂର୍ଯ୍ୟୋଦୟ ଏବଂ ବିଳମ୍ବିତ ସୂର୍ଯ୍ୟାସ୍ତ ପାଇଁ ନିମ୍ନଲିଖିତ କେଉଁ ପ୍ରକ୍ରିୟା ଦାୟୀ ?

Options:

1) Atmospheric reflection

ବାୟୁମଣ୍ଡଳୀୟ ପ୍ରତିବିମ୍ବ

2) Multiple reflection

ଏକାଧିକ ପ୍ରତିବିମ୍ବ

3) Dispersion

ବିଚ୍ଛରଣ

4) Atmospheric Refraction

ବାୟୁମଣ୍ଡଳୀୟ ପ୍ରତିସରଣ

Correct Answer: 4) Atmospheric Refraction

ବାୟୁମଣ୍ଡଳୀୟ ପ୍ରତିସରଣ

Candidate Answer: 4) Atmospheric Refraction

ବାୟୁମଣ୍ଡଳୀୟ ପ୍ରତିସରଣ

QID : 735 - Which of the following elements is NOT a metalloid?

ନିମ୍ନଲିଖିତ ଉପାଦାନର ମଧ୍ୟରେ କେଉଁଟି ଧାତବ ପଦାର୍ଥ ନୁହେଁ?

Options:

1) Borane

ବୋରନ

2) Sodium

ସୋଡ଼ିୟମ

3) Antimony

ଆଣ୍ଟିମୋନି

4) Silicon

ସିଲିକନ

Correct Answer: 2) Sodium

ସୋଡ଼ିୟମ

Candidate Answer: 3) Antimony

ଆଣ୍ଟିମୋନି

QID : 736 - Which chemist is credited with the discovery of Neutrons?

ନିଉଟ୍ରନ୍ ଆବିଷ୍କାରର ପାଇଁ କେଉଁ ରସାୟନବିଦକୁ କୃତିତ୍ୱ ଦିଆ ହୁଏ?

Options:

- 1) J. Chadwick
ଜେ. ଚାଡ଼ଉଇକ
- 2) Neils Bohr
ନୀଲ ବୋହର
- 3) J.J. Thomson
ଜେ.ଜେ. ଥମସନ
- 4) Ernest Rutherford
ଆର୍ନେସ୍ଟ ରାଡ଼ାରଫୋର୍ଡ

Correct Answer: 1) J. Chadwick
ଜେ. ଚାଡ଼ଉଇକ

Candidate Answer: 1) J. Chadwick
ଜେ. ଚାଡ଼ଉଇକ

QID : 737 - Isotope of which element is used in treatment of Goitre?

ଗଳଗଣ୍ଡ (ଗାଏଟର୍) ଚିକିତ୍ସା ପାଇଁ ଆଇସୋଟୋପର କେଉଁ ଉପାଦାନଟିକୁ ବ୍ୟବହାର କରା ହୁଏ?

Options:

- 1) Uranium
ଇଉରେନିୟମ
- 2) Cobalt
କୋବାଲ୍ଟ
- 3) Iodine
ଆଇଓଡିନ
- 4) Carbon
କାରବନ

Correct Answer: 3) Iodine
ଆଇଓଡିନ

Candidate Answer: 3) Iodine
ଆଇଓଡିନ

QID : 738 - Which of the following elements is polyatomic in nature?

ନିମ୍ନଲିଖିତ ଉପାଦାନର ମଧ୍ୟରେ କଣ ପ୍ରକୃତିରେ ପଲିଆଟୋମେଟିକ?

Options:

- 1) Vitamin A
ଭିଟାମିନ A
- 2) Vitamin C
ଭିଟାମିନ C
- 3) Vitamin B
ଭିଟାମିନ B
- 4) Vitamin D
ଭିଟାମିନ D

Correct Answer: 2) Vitamin C
ଭିଟାମିନ C

Candidate Answer: 2) Vitamin C
ଭିଟାମିନ C

QID : 741 - Heating effect of electric current across an iron rod increases with _____.

ଗୋଟେ ଲୁହା ରତ ମଧ୍ୟରେ ବୈଦ୍ୟୁତିକ ପ୍ରବାହର ଗରମ ପ୍ରଭାବ _____ ସହିତ ବୃଦ୍ଧି ପାଏ ।

Options:

- 1) increasing voltage
ଭୋଲ୍ଟେଜ ବୃଦ୍ଧି
- 2) decreasing voltage
ଭୋଲ୍ଟେଜ ହ୍ରାସ
- 3) increasing cross sectional area of rod
ରତର ଅନୁପ୍ରସ୍ଥ (କ୍ରସ) ବିଭାଗୀୟ କ୍ଷେତ୍ର ର ବୃଦ୍ଧି
- 4) decreasing length of rod
ରତ ର ଦୈର୍ଘ୍ୟ ହ୍ରାସ

Correct Answer: 1) increasing voltage
ଭୋଲ୍ଟେଜ ବୃଦ୍ଧି

Candidate Answer: 4) decreasing length of rod
ରତ ର ଦୈର୍ଘ୍ୟ ହ୍ରାସ

QID : 742 - Gravitational Force between two objects decreases with _____.

ଦୁଇଟି ବସ୍ତୁ ମଧ୍ୟରେ ମହାକର୍ଷଣୀୟ ଶକ୍ତି _____ ର ସହିତ ହ୍ରାସ ପାଏ ।

Options:

- 1) increasing distance between two objects
ଦୁଇଟି ବସ୍ତୁ ମଧ୍ୟେ ଦୂରତ୍ୱ ର ବୃଦ୍ଧି
- 2) decreasing distance between two objects
ଦୁଇଟି ବସ୍ତୁ ମଧ୍ୟେ ଦୂରତ୍ୱ ହ୍ରାସ
- 3) increasing masses of both the objects
ଉଭୟ ବସ୍ତୁର ଭାର ବୃଦ୍ଧି
- 4) increasing mass of any one object
କୌଣସି ଏକ ବସ୍ତୁର ଭାର ବୃଦ୍ଧି

Correct Answer: 1) increasing distance between two objects
ଦୁଇଟି ବସ୍ତୁ ମଧ୍ୟେ ଦୂରତ୍ୱ ର ବୃଦ୍ଧି

Candidate Answer: 1) increasing distance between two objects
ଦୁଇଟି ବସ୍ତୁ ମଧ୍ୟେ ଦୂରତ୍ୱ ର ବୃଦ୍ଧି

QID : 743 - S.I. Unit of pressure is _____.

S.I. ଚାପର ଏକକଟି _____ ।

Options:

- 1) Joule
ଜୁଲ
- 2) Newton
ନିଉଟନ
- 3) Pascal
ପ୍ୟାସକେଲ
- 4) Watt
ୱାଟ

Correct Answer: 3) Pascal
ପ୍ୟାସକେଲ

Candidate Answer: 4) Watt
ୱାଟ

QID : 744 - Lactometers used to determine purity of milk, are based on which principle?

ଦୁଧର ବିଶୁଦ୍ଧତା ନିର୍ଧାରଣର ପାଇଁ ବ୍ୟବହୃତ ଲ୍ୟାକ୍ଟୋମିଟାର କେଉଁ ନୀତି ଉପରେ ଭିତ୍ତି କରେ?

Options:

- 1) Bernoulli's Principle
ବାର୍ନୋଲିର ମୂଳନୀତି
- 2) Calvin's Principle
କ୍ୟାଲଭିନର ମୂଳନୀତି
- 3) Archimedes's Principle
ଆର୍କିମିଡିସର ମୂଳନୀତି
- 4) Newton's Principle
ନିଉଟନ ର ମୂଳନୀତି

Correct Answer: 3) Archimedes's Principle
ଆର୍କିମିଡିସର ମୂଳନୀତି

Candidate Answer: 2) Calvin's Principle
କ୍ୟାଲଭିନର ମୂଳନୀତି

QID : 745 - The Resistance of an iron rod is R. If the length of the rod is increased by 4 times, then the resistance of the new rod is _____.

ଗୋଟିଏ ଲୁହାର ରତର ରେଜିଷ୍ଟାନ୍ସ R। ଯଦି ରତର ଦୈର୍ଘ୍ୟ 4 ଗୁଣ ବୃଦ୍ଧି କରା ହୁଏ ତେବେ ନୂଆ ରତର ପ୍ରତିରୋଧ _____ ହୁଏ।

Options:

- 1) 4R
- 2) 2R
- 3) 8R
- 4) 10R

Correct Answer: 1) 4R

Candidate Answer: 1) 4R

QID : 746 - Which is not a part of female reproductive system in human beings?

କଣ ମାନବ ଦେହରେ ମହିଳା ପ୍ରଜନନ ବ୍ୟବସ୍ଥାର ଅଙ୍ଗ ନୁହେଁ?

Options:

- 1) Cervix
ଗଳଦେଶ
- 2) Ovary
ଓଭିୟାରୀୟ
- 3) Uterus
ଜରାୟୁ
- 4) Urethra
ମୂତ୍ରନାଳୀ

Correct Answer: 4) Urethra

ମୂତ୍ରନାଳୀ

Candidate Answer: 1) Cervix

ଶଳଦେଶ

QID : 747 - The process of 'Spore formation' can be seen in which of the following?

'ବୀଜାଣୁଗଠନ' ପ୍ରକ୍ରିୟାଟି ନିମ୍ନଲିଖିତ କେଉଁ ଦେଖା ଯାଏ?

Options:

1) Bryophyllum

ବ୍ରୟୋଫାଇଟମ୍

2) Rhizopus

ହିଫ୍‌ସ୍ପୋରା

3) Planaria

ପ୍ଲାନରିଆ

4) Hydra

ହାଇଡ୍ରା

Correct Answer: 2) Rhizopus

ହିଫ୍‌ସ୍ପୋରା

Candidate Answer: 4) Hydra

ହାଇଡ୍ରା

QID : 748 - Which gas produces a pop sound when brought near a flame?

କେଉଁ ଶ୍ୟାମ, ଶିଖର ପାଖାପାଖି ଆସିଲେ ଗୋଟେ ପପ ଶବ୍ଦ ଉତ୍ପନ୍ନ ହୁଏ?

Options:

1) Nitrogen

ନାଇଟ୍ରୋଜେନ

2) Sulphur

ଶଙ୍କ

3) Hydrogen

ହାଇଡ୍ରୋଜେନ

4) Carbon

କାର୍ବନ

Correct Answer: 3) Hydrogen

ହାଇଡ୍ରୋଜେନ

Candidate Answer: 4) Carbon

କାର୍ବନ

QID : 749 - Chemical name of Plaster of Paris is _____.

ପ୍ଲାସ୍ଟର ଅଫ ପ୍ୟାରିସର ରାସାୟନିକ ନାମ _____।

Options:

1) Calcium Sulphate

କ୍ୟାଲସିୟମ ସାଲଫେଟ

2) Copper Sulphate

କପାର ସାଲଫେଟ

3) Calcium Sulphate Hemihydrate

କ୍ୟାଲସିୟମ ସାଲଫେଟ ହେମିହାଇଡ୍ରେଟ

4) Copper Sulphate Hemihydrate

କପାର ସାଲଫେଟ ହେମିହାଇଡ୍ରେଟ

Correct Answer: 3) Calcium Sulphate Hemihydrate

କ୍ୟାଲସିୟମ ସାଲଫେଟ ହେମିହାଇଡ୍ରେଟ

Candidate Answer: 1) Calcium Sulphate

କ୍ୟାଲସିୟମ ସାଲଫେଟ

QID : 750 - When the position of an object is at infinity, then what is the size of an image formed by a convex mirror?

ଯେବେ କେଉଁ ବସ୍ତୁର ଅବସ୍ଥାନ ଅସୀମ ହୁଏ, ତେବେ ଉତ୍ତଳ ଦର୍ପଣ ଦ୍ୱାରା ଗଠିତ ଏକ ଚିତ୍ରର ଆକାର କଣ ହେବ ?

Options:

1) Same as size of object

ବସ୍ତୁର ଆକାର ହିସାବରେ ସମାନ

2) Point Size

ପଏଣ୍ଟ ଆକାର

3) Half the Size of object

ବସ୍ତୁର ଅଧା ଆକାର

4) Double the size of object

ବସ୍ତୁର ଆକାର ଦ୍ୱିଗୁଣ

Correct Answer: 2) Point Size

ପଏଣ୍ଟ ଆକାର

Candidate Answer: 4) Double the size of object

ବସ୍ତୁର ଆକାର ଦ୍ୱିଗୁଣ

Prepp